The background of the slide is a warm-toned, sepia-style image. In the upper left corner, there is a circular compass rose with directional markers for North (N), South (S), East (E), and West (W), along with intermediate directions like NE, SE, SW, and NW. Below the compass, a portion of a map is visible, showing the outline of Europe and some geographical labels like 'CAPE' and 'MOUNTAINS'. The overall aesthetic is that of an old, historical document or map.

Урок 3.
Географический
рисунок расселения
и хозяйства
зарубежной Европы.



Заполните пропуски.

1. ЭГП стран зарубежной Европы определяется двумя главными чертами: _____ и _____.
2. На территории зарубежной Европы расположено ____ суверенных государств.
3. Здесь расположено ____ монархий и ____ федераций.
4. В северной части Европы располагаются _____ и _____ полезные ископаемые, а в южной части в основном только _____.
5. Во многих странах западной Европы наблюдается _____ показатель естественного прироста населения.
6. Происходящая «демографическая революция» приводит к резкому _____ числа мигрантов.
7. В Европе насчитывается более _____ иностранных рабочих.

8. Иностранные рабочие работают в таких отраслях, как _____, _____, _____,
9. На территории Европы проживают _____ народа, большинство из которых относятся к _____ языковой семье.
10. Господствующая религия народов Европы: _____.
11. Возрастает численность приверженцев _____.
12. Уровень урбанизации составляет _____.
13. Самые крупные городские агломерации – _____, _____, _____.
14. В настоящее время набирает темпы отток населения в пригороды, этот процесс называется _____.

Хозяйство региона.

- Экономическую мощь региона определяют 4 страны: ФРГ, Франция, Великобритания, Италия.



Промышленность.

1. **МАШИНОСТРОЕНИЕ** – ведущая отрасль промышленности Европы, особенно автомобильная.



Франция



ФРГ



ФРГ



Италия



Швеция

енность.


мира –

рти.

в



**Крупнейший узел нефтехимии
Европы в Роттердаме.**



3. ТЭК


- Добыча нефти и газа осуществляется в Северном море.
- Сжиженный газ из Алжира поставляется в танкерах.

- Россия
- морю.

- Добыча

- В элек

- На ре



дам и по

е 80)

ГЭС «Железные ворота», Дунай.

4. Metallurgy

Black



Самый большой металлургический комбинат Европы
Таранто, Италия

Испания, Бельгия, Люксембург,
Польша, Чехия

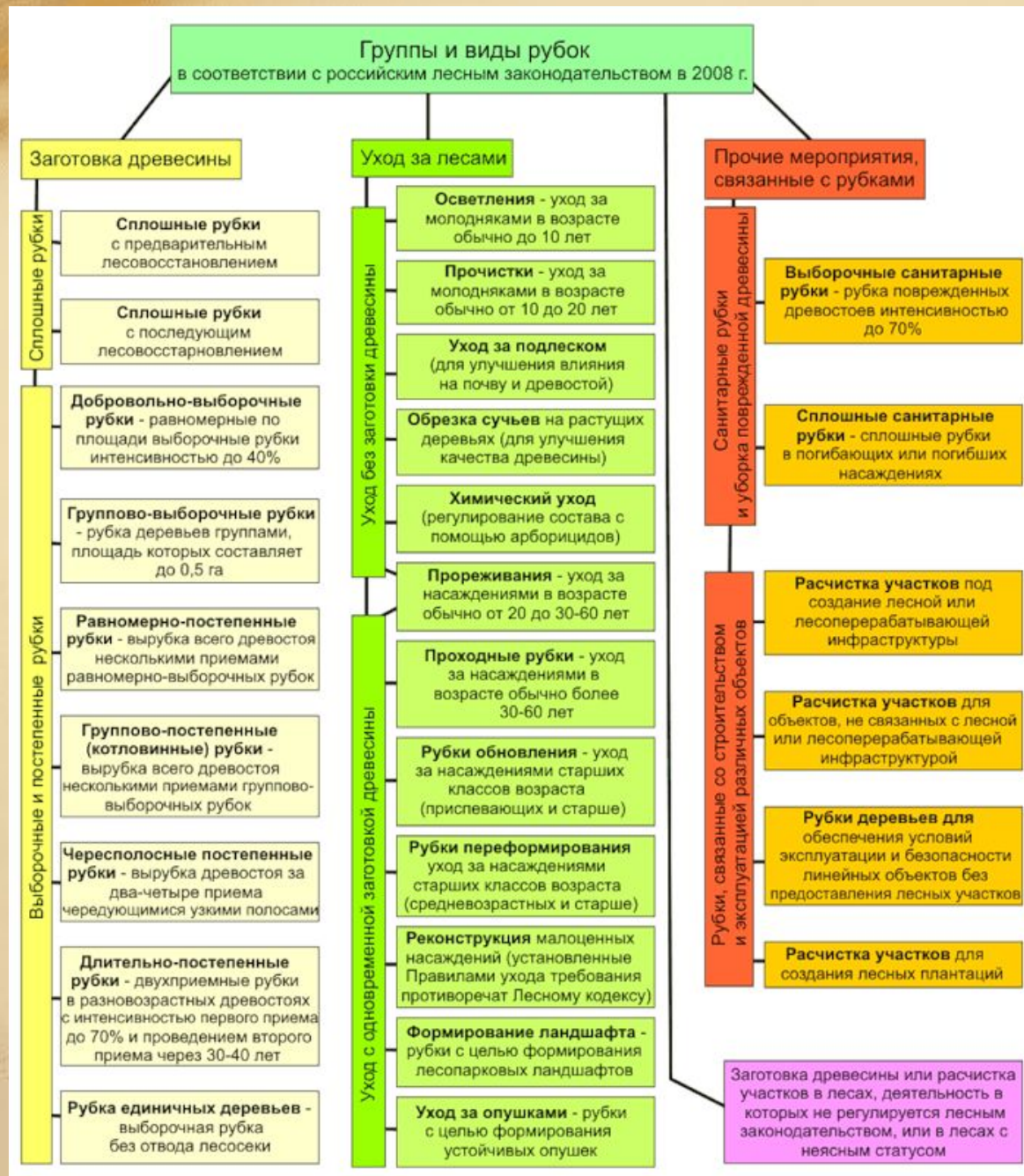
Color

- Важнейшие отрасли – алюминиевая и медная.
- Производство алюминия расположено в странах, располагающих запасами бокситов и в странах, где много электроэнергии.

5. Лесная промышленность.

- Главный «лесной цех» региона – Швеция и Финляндия.







ШЛОСТІ



СЯ К

І В

К И

ЛЫЖИ
Австрия

Чехия



Рыболовство
Норвегия, Дания, Исландия
Португалия

Во

ского
ль.

8. Транспорт.



транспортно
дианально

Варшава



ешт

Бел



Ж

И

Б



Platner
Paol



Задание

- Стр.217, задание 7

Задание 7.

Пользуясь текстом и рисунками учебника, картами атласа и таблицами 23—28 в «Приложениях», конкретизируйте характеристику одной из отраслей промышленности зарубежной Европы (по выбору). Укажите главные районы и крупнейшие центры или главные бассейны, определите их распределение по странам. По рисункам 25—29 установите, откуда в зарубежную Европу поступают нефть, природный газ, уголь, железная руда, сталь.

Домашнее задание

- Учебник, стр.183-197
- Задание в тетради