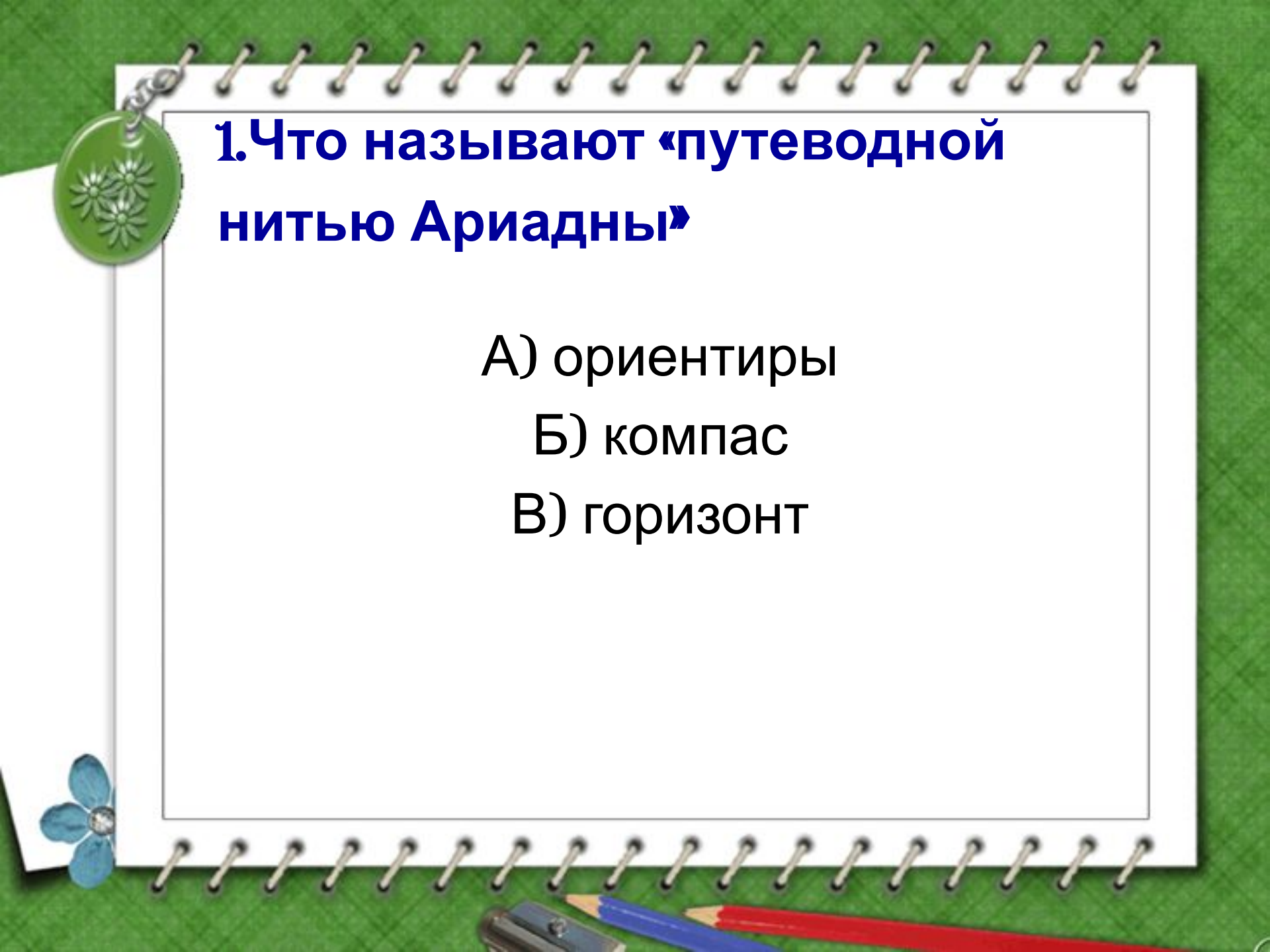




ТЕСТ

**«Как ориентироваться
на местности»**

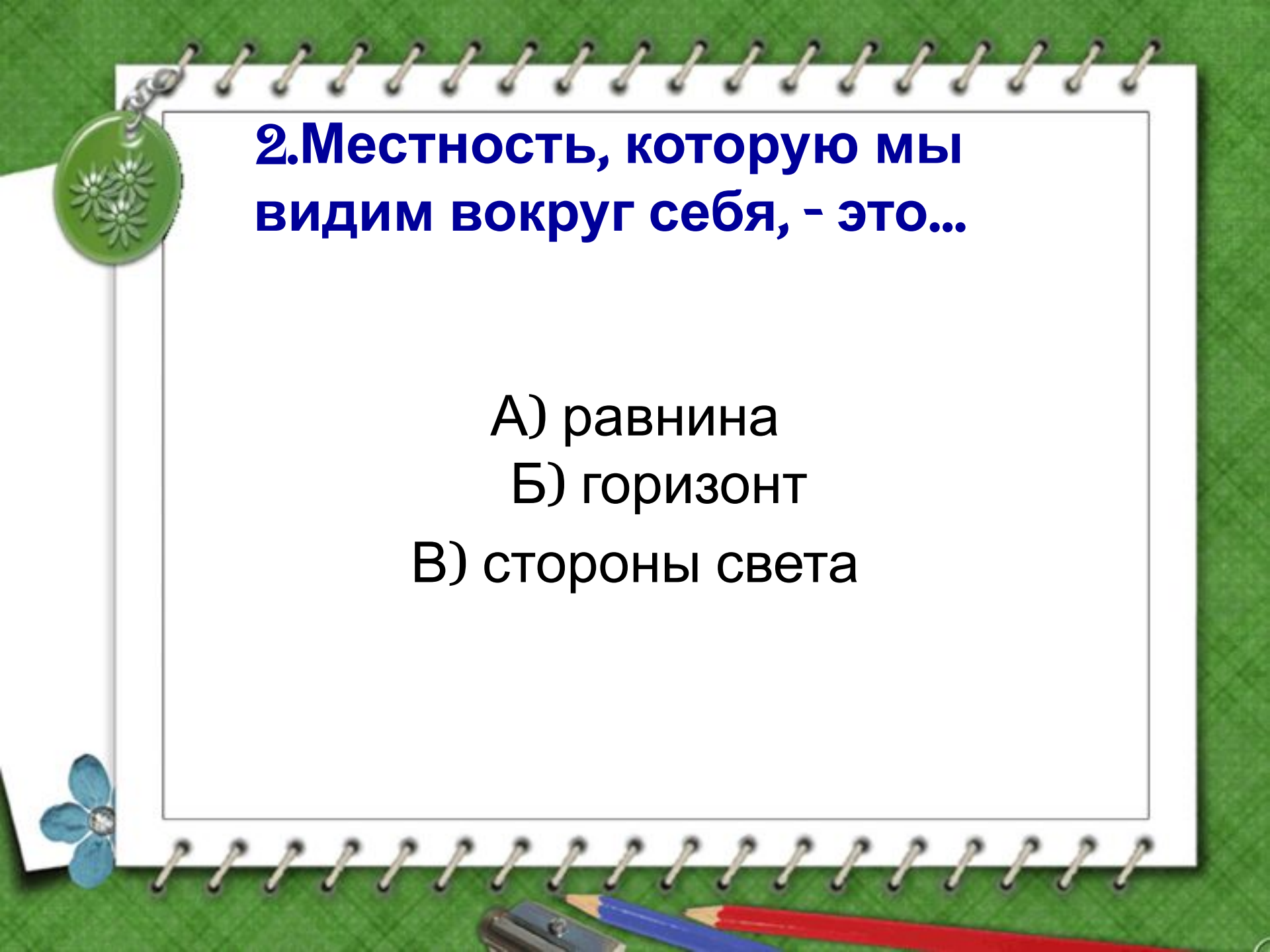


1. Что называют «путеводной нитью Ариадны»



А) ориентиры

Б) компас

В) горизонт



2. Местность, которую мы видим вокруг себя, - это..

- А) равнина
 - Б) горизонт
 - В) стороны света
- 
- 



3. Полярная звезда указывает

А) на юг

Б) север

В) запад

Г) восток



4. Солнце в полдень находится:

А) на севере

Б) юге

В) востоке

Г) западе





5. Солнце восходит

А) на западе


Б) восходе

7. Прибор для определения сторон горизонта

- А) термометр
- Б) барометр
- В) компас
- Г) флюгер



8. Первые компасы изобретены:

- А) в России
 - Б) Китае
 - В) Португалии
 - Г) Испании
- 

ОТВЕТ:

1-А 2-Б 3-Б

4-В 5-Б 6-В 7-Б