

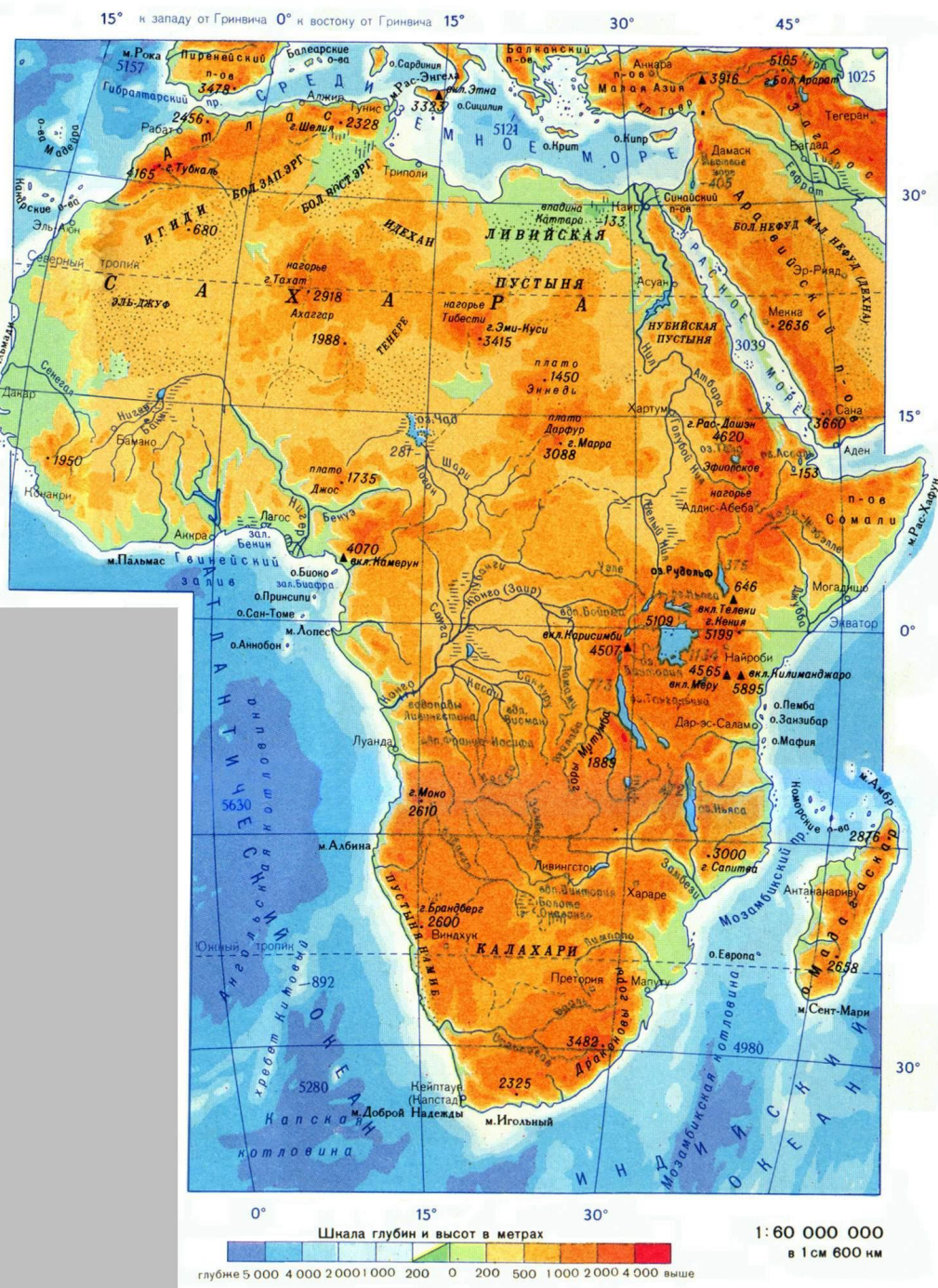
The background of the slide is a vintage-style map of Africa, rendered in a sepia or aged paper tone. In the top-left corner, there is a circular compass rose with a needle pointing towards the top, and degree markings around its perimeter. The map shows the outlines of the African continent and some faint, illegible text labels.

Население Африки

**Автор: Мидакова Людмила Петровна,
учитель географии Кукшумской ООШ Ядринского
района ЧР**

Цели урока:

- Познакомиться с составом населения, сформировать представление о размещении населения и установить зависимость размещения населения от исторических и природных факторов.
- Познакомиться с современной политической картой, совершенствовать умение работать с географическими картами.
- Изучить особенности населения Африки



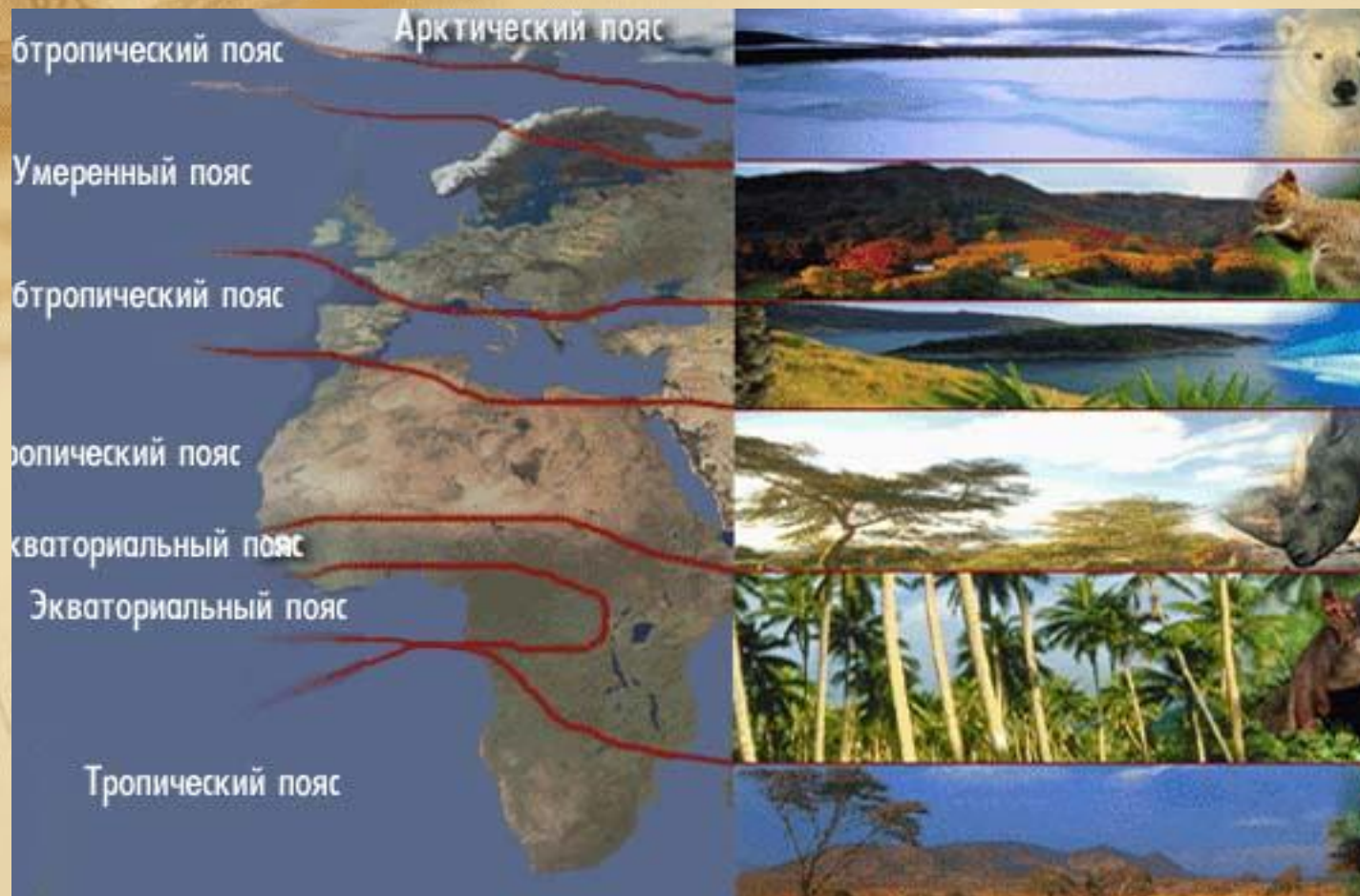
Проверка домашнего задания:

1. Рассказать о географическом положении Африки

2. Нанести на карту географические объекты

Путешествие по Африке






В каких климатических поясах расположена Африка?

Какие природные зоны размещены в этих поясах?

Назовите причины формирования разных природных зон.

Влияет ли климат на расселение людей, образ жизни, культуру?



Исследования на уроке:

- Численность населения и его размещение
- Расы и народы Африки
- Современная политическая карта




Население Африки

Европеоидная
раса

Экваториальная
(негроидная)
раса

Смешанная раса
(эфиопская)





Основные районы с высокой и низкой плотностью населения

Район	Плотность, чел/км ²	Причины
Северная Африка		
Юго-западная Африка		
Побережье Средиземного моря		
Побережье Гвинейского залива		
Юг материка		
Вдоль реки Нил		
В районе озер		

Расы	Народы	Место проживания	Как выглядят
Европеоидная	Алжирцы		
	Марокканцы		
	Египтяне		
	<u>Берберы</u>		
	<u>Туареги</u>		
Негроидная раса	Тутси		
	Хими		
	<u>Пигмеи</u>		
	<u>Бушмены</u>		
	Готентоты		
Промежуточная раса	Эфиопы		
	<u>Масаи</u>		
Смешанная раса (Монголоидная и негроидная)	Малагасийцы		

Политическая карта Африки



Самые большие по площади страны Африки	Страны на побережье Индийского океана	Страны на побережье Атлантического океана	Внутриконтинентальные страны



Сравнение карт

- Две карты «Политическая карта Африки» и «Плотность населения»
- Определите страны Африки, имеющие:
 - высокую плотность населения
 - Низкую плотность населения
 - Население размещено неравномерно

Какими причинами это можно объяснить?

Домашнее задание

- § 30, нанести на контурную карту государства материка. Подготовить сообщения о странах Африки: Египет, Алжир, Сомали, ЮАР. Можно использовать интернет -ресурсы (Знакомство со страной <http://www.krugosvet.ru/>)