

# Общая характеристика развитых стран



Кожухметова Ж.Б.  
учитель географии сш.  
№40 г.Петропавловска



# Страны ,входящие в «Большую семёрку»

- ❖ США
- ❖ Япония
- ❖ ФРГ
- ❖ Великобритания
- ❖ Франция
- ❖ Италия
- ❖ Канада



# Признаки деления государств на группы

1

Уровень экономического развития

2

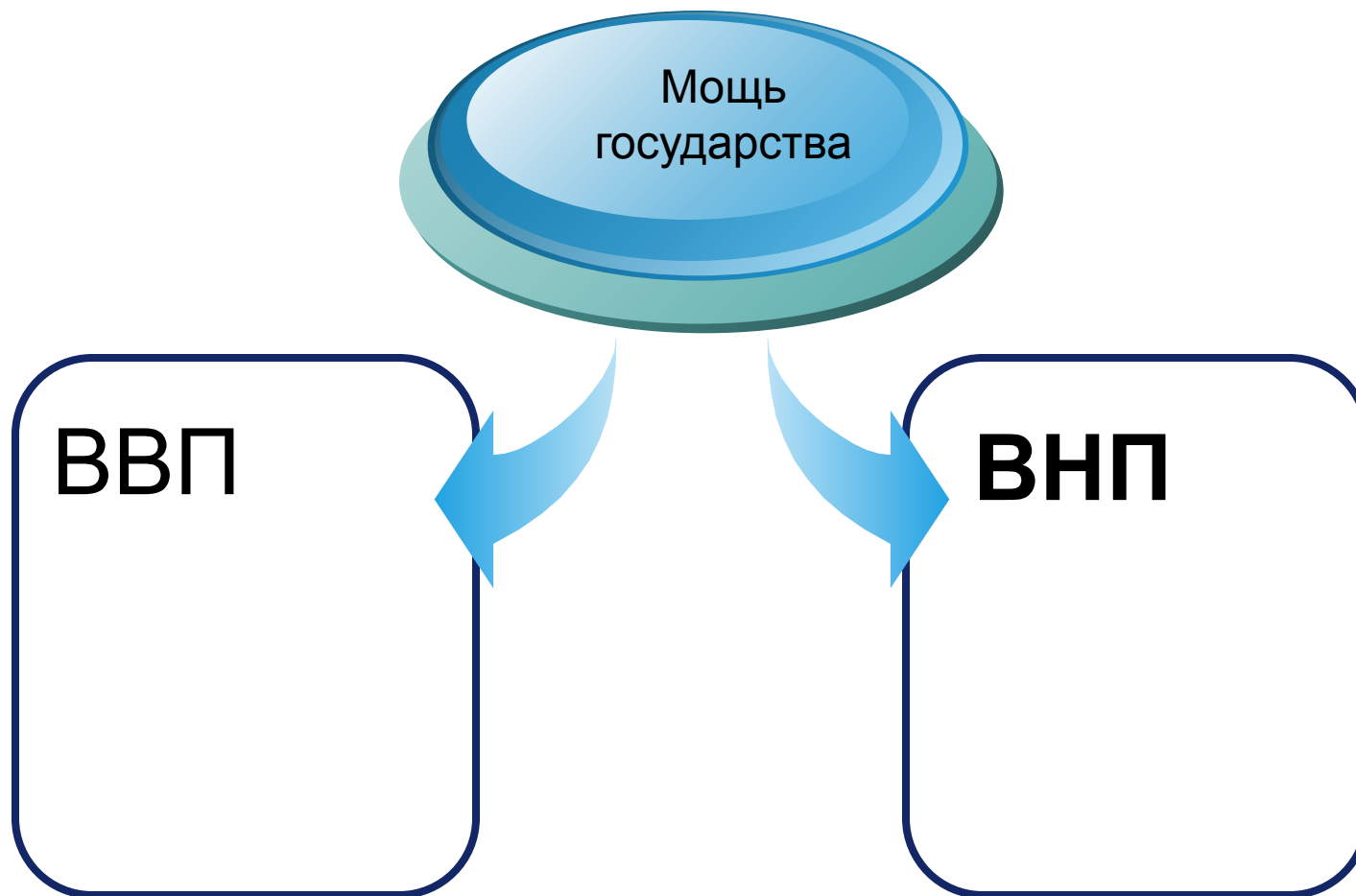
Социальная структура хозяйства

3

Тип совершенствования национальной экономики

4

Характер и степень внешнеторговых связей





**Валовой внутренний продукт(ВВП)на душу населения . ВВП-это суммарная стоимость всех потребительских товаров ,оказываемых услуг и совокупного капитала на территории данной страны.**



- ❖ ВВП-валовой национальный продукт. Инвестиции иностранных компаний, их доход, вывезенный за рубеж, заработная плата иностранных рабочих, не принимаемых при расчете ВВП (ВНП низкий в Сингапуре, Южной Корее, на Тайване и в Малайзии)

- ❖ В высокоразвитых странах в этих двух цифрах нет большой разницы.



Доиндустриальное развитие

Индустриальное развитие

Постиндустриальное развитие

**Ступени  
развития  
мирового  
хозяйства**






- ❖ Нулевой цикл-развитие мануфактуры и ремесел
- ❖ Начальный цикл период первой промышленной революции - текстильная промышленность
- ❖ Второй цикл – текстильная пром-ть, переработка черных металлов
- ❖ Третий цикл период третьей промышленной революции– металлургия , химическая пром-ть , тяжелое машиностроение



- ❖ Четвертый цикл – электротехника, автомобилестроение
- ❖ Пятый цикл – начало третьей промышленной революции, получили развитие электроника, лазерная техника, биотехнология.
- ❖ Откройте учебники на стр.11 табл.1. Сделаем вывод.

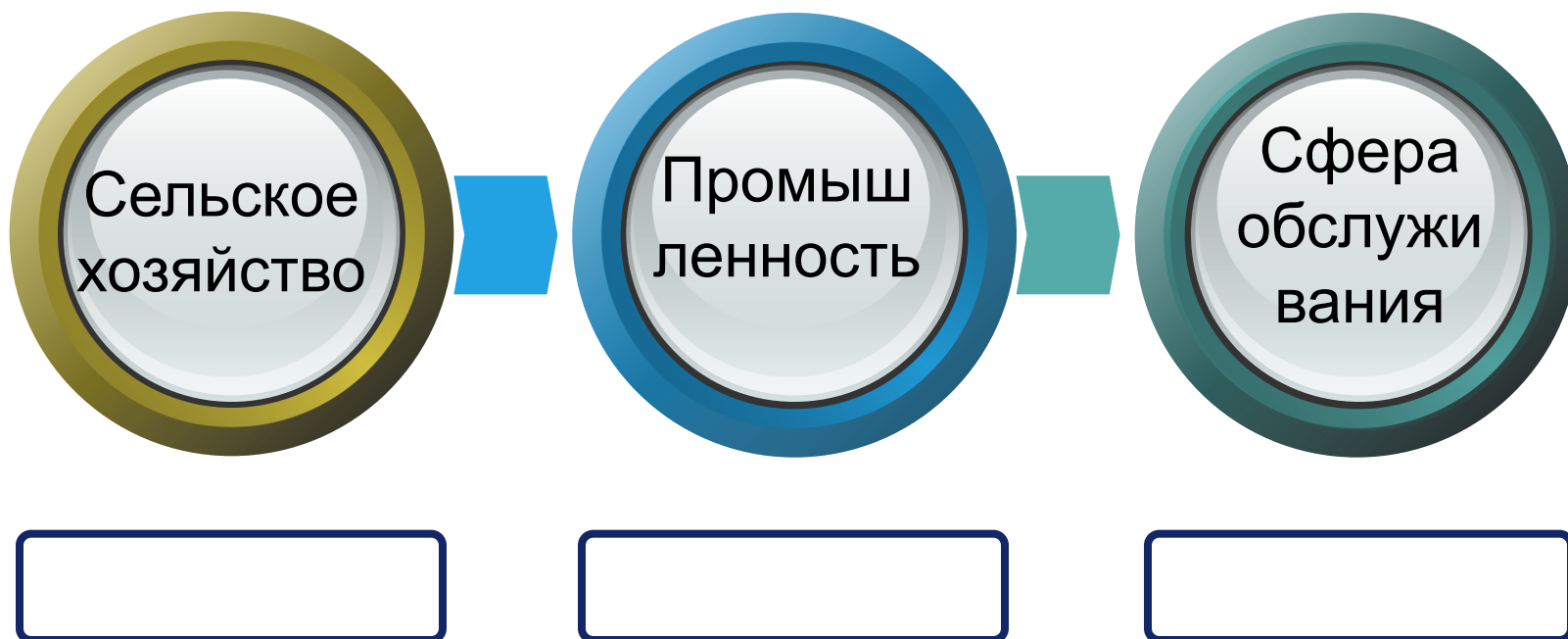


- ❖ Вывод: Западная Европа опережает Восточную Европу и Россию на один циклический период.

- 
- ❖ **Мировое хозяйство , в свою очередь состоит из национальных экономик отдельных стран и составляющих их отраслей.**



# Мировое хозяйство



# Работа с учебником

- ❖ Рассмотрим рис.1
- ❖ Таблица 2



## Аноморфоз

- ❖ Это когда контуры изображенных на карте территорий, хотя и фиксируют географическое положение этих стран, но не показывает размеры их площади, наоборот, показатели, обозначенные на карте, связываются с определенными величинами взятой территории. Рис.2 показана площадь терр.стран Америки в соответствии с объемом производимого ВВП и числ.нас-я



# Мировые цивилизации

- ❖ Западноатлантическая
- ❖ Латиноамериканская
- ❖ Славяно-православная
- ❖ Мусульманский мир
- ❖ Потенциальная африканская
- ❖ Западный фрагмент
- ❖ Индуистская
- ❖ Конфуцианская
- ❖ Японская



# *Задание на дом!*

Прочитать параграф 2, ответить на  
вопросы на стр.14

