



*Численность и воспроизводство населения.  
Тренажёр и проверочный тест.*

Жидовкина Галина Петровна  
учитель географии МБОУ "СОШ №3"  
г.Дальнереченск



**Дорогой друг!**

**Его первый уровень представляет собой тренажёр, с помощью которого ты можешь вспомнить форму правления и типы стран современного мира и усовершенствовать свои умения и навыки.**

**Второй уровень – проверочный тест по теме за который ты получишь отметку.**

**Надеемся, что эти занятия помогут тебе успешно совершенствовать знания по географии.**

**Желаем удачи!**

**[Перейти к тренажёру](#)**

**[Перейти к тесту](#)**

# Инструкция по работе с учебным тренажёром

1. Каждое задание имеет 4 варианта ответа. Ты должен выбрать один правильный.
2. Если ты выбрал правильный ответ, появится **«ПЛЮС»**.
3. Если ты выбрал неверный ответ, появится **«МИНУС»**.
4. Переход к следующему заданию осуществляется по кнопке внизу.

**Желаю удачи!**



**Укажите страну с самым низким показателем естественного прироста населения:**

Франция 

Алжир 

Монголия 

Мозамбик 







Укажите пару стран с самыми высокими показателями естественного прироста населения:

- Болгария и Швеция 
- Россия и Польша 
- Бразилия и Мексика 
- Германия и Великобритания 




**В каких трёх из перечисленных стран ожидаемая продолжительность жизни населения наибольшая?**

- Пакистан, Сирия и Колумбия** 
- Япония, Великобритания и Австрия** 
- Мьянма, Таиланд и Непал** 
- Индия, Мексика и Германия** 





Самая высокая смертность среди регионов мира наблюдается:

в Зарубежной Азии 

в Зарубежной Европе 

в Латинской Америке 

в Африке 



**Выделите страну с самым высоким показателем  
естественного прироста населения**



**Италия**



**Швеция**



**Нигерия**







**Япония**





В какой из перечисленных стран показатель младенческой смертности наибольший?

- Бразилия 
- Эфиопия 
- Турция 
- Бразилия 



## В каком из высказываний содержится информация о воспроизводстве населения:



Во многих странах Европы смертность на каждую тысячу жителей превышает рождаемость, в результате чего численность населения снижается?



В результате гражданской войны в Либерии были вынуждены покинуть места обитания 500 тыс. человек.



В настоящее время на долю развивающихся стран приходится 4/5 всего ежегодного прироста городских жителей в мире.



В России, в странах зарубежной Европы, Северной Америки показатель экономически активного населения превышает среднемировой -45%.



**В какой из перечисленных стран доля неграмотных среди лиц старше 15 лет наименьшая?**



**Ливия**



**Латвия**



**Бразилия**



**Боливия**



## **В каком из высказывании содержится информация о воспроизводстве населения?**

В целом по России, городское население моложе сельского.



Главная полоса расселения, занимающая 1/3 территории России, сосредотачивает 93% населения страны.



В конце XIX века в России на 1 тыс. жителей рождалось около 50 человек, а умирало 35 человек.



В последние годы массовыми стали сезонные переселения горожан в сельскую местность.



**В какой из перечисленных стран самая низкая рождаемость?**



**Индия**



**Кувейт**



**Чили**



**Австралия**



## **Как ты оцениваешь свою работу на тренажёре?**

**Знания отличные! Перехожу к тесту!**

**Было много ошибок, необходимо поработать с  
правилом.**





# Инструкция по работе с тестом



1. Проверочный тест состоит из 10 заданий. Каждое задание имеет 4 варианта ответа, один из которых - правильный.
2. Прежде чем нажимать переключатель, хорошо подумай, потому что, ответив, ты перейдёшь к следующему вопросу и не сможешь внести изменения в свой ответ.
3. Чтобы узнать свой результат, нажми на кнопку **«Результат»**. Ты увидишь общее число верных ответов, отметку за тест и таблицу результатов по каждому вопросу.
4. Ты можешь просмотреть свои ошибки, нажав на соответствующую кнопку. Переход от слайда к слайду в режиме просмотра ошибок важно производить по кнопкам в нижнем правом углу слайда.
5. Если хочешь повторить тест, то обнули результат (кнопка «Сброс результатов») и нажми на кнопку «Повторить тест».



Численность населения Земли в настоящее время составляет примерно:

7 млрд.чел



5 млрд.чел



4 млрд.чел



3млрд.чел



**В какой из перечисленных стран численность населения наибольшая?**



**Бразилия**



**Индонезия**







**Япония**



**США**



В какой из перечисленных стран осуществляется активная государственная политика, направленная на стимулирование рождаемости?

- Алжир 
- Ливия 
- Франция 
- Кения 



Для какой из перечисленных стран характерен наибольший естественный прирост населения (на 1 тыс. жителей)?



Италия



Нигерия



Польша





Канада






## В каком из высказываний содержится информация о процессе воспроизводства населения?

-  Численность населения — один из важных факторов развития любой страны и всего человечества. 
-  В среднем в мире к экономически активному населению можно отнести около 49% всего населения. 
-  Решающее воздействие на рождаемость, смертность, естественный прирост оказывают социально-экономические условия жизни людей. 
-  В 1990 г. в мире было около 960 млн. неграмотных, с тех пор общее число неграмотных сократилось на 100 млн. 





Определите регион, который концентрирует более половины населения Земли:

Зарубежная Азия 




Африка 

Латинская Америка 

Северная Америка 



**Выберите две страны, которые входят в десятку мировых лидеров по численности населения:**

- Германия и Мексика 
- Бангладеш и Германия 
- Бразилия и Бангладеш 
- Мексика и Бразилия 



Укажите страну с самым высоким показателем естественного прироста населения:



Аргентина



Ангола



Болгария



Германия







В каких трёх из перечисленных стран ожидаемая продолжительность жизни населения наибольшая?

- Великобритания, Франция, Финляндия 
- Германия, Австрия, Бразилия 
- США, Австралия, Мексика 
- Великобритания, Индия, Венесуэла 



Укажите пару стран с самым низким показателем естественного прироста населения:

- Афганистан и Малайзия 
- Сирия и Иран 
- Боливия и Алжир 
- Бельгия и Швейцария 



# Подведём итоги

Верных ответов

Отметка

<b>1</b>	<b>2</b>	<b>3</b>	<b>4</b>	<b>5</b>	<b>6</b>	<b>7</b>	<b>8</b>	<b>9</b>	<b>10</b>
<b><u>В</u></b>	<b><u>В</u></b>	<b><u>В</u></b>	<b><u>В</u></b>	<b><u>В</u></b>	<b><u>В</u></b>	<b><u>В</u></b>	<b><u>В</u></b>	<b><u>В</u></b>	<b><u>В</u></b>

**Просмотр ошибок**



# Литература:

1. [http://it-n.ru/communities.aspx?cat\\_no=130742&tmpl=com](http://it-n.ru/communities.aspx?cat_no=130742&tmpl=com)  
[http://it-n.ru/communities.aspx?cat\\_no=130742&tmpl=com](http://it-n.ru/communities.aspx?cat_no=130742&tmpl=com)  
Захарова Т.А., Байдакова
2. ЕГЭ-2011. Типовые экзаменационные варианты под редакцией В.В.Барабанова. М., Национальное образование, 2011

