



**2 класс**  
**Математический**  
**диктант № 5**

*Выполнила*  
*Кирилова С.Г.*  
*Учитель начальных*  
*классов*  
*Школы «Ученики*  
*Пифагора»*

**Вес ягнёнка 6 кг,  
а овечки на 12 кг  
больше.**



**СКОЛЬКО ВЕСИТ  
баран,  
Если он на 10 кг  
Тяжелее  
овечки?**



**Сахар рассыпали  
поровну  
в 2 пакета.**

**Когда из 1 пакета  
использовали 3кг,  
там ещё осталось 9кг.**

**Сколько килограммов  
сахара  
было сначала в двух  
пакетах?**




Первое число 11, второе 17,  
а третье - на 8 меньше, чем второе.

Найдите сумму первого и третьего.

11

17

?



?



**В двух мешках  
было 38 кг лука.**

**Когда из первого  
мешка  
взяли 9 кг лука,  
в нём осталось ещё  
9кг.**

**Сколько  
килограммов лука  
было во втором**





На игровой площадке играли 7 девочек и мальчики,  
которых было на 4 человека больше.


Через час **половина** всех играющих ушла делать уроки.

**Вес гуся 4 кг,  
что  
составляет  
половину  
веса  
индюка.**

**Сколько  
весят  
два**







В гараже стояло 30 автомобилей.

После того, как выехало 16 легковых  
и несколько грузовых,

В гараже осталось 10 автомобилей.

Сколько грузовых автомобилей выехало из  
гаража?




**У двух братьев  
вместе  
было 20 орехов.**



**Когда старший брат  
съел 2 ореха,  
То орехов стало у них  
поровну.**



**Сколько орехов  
было**



**За книгу и альбом заплатили 40 рублей.**


**Книга стоит 30 рублей.**

**На сколько альбом дешевле книги?**

От коровы надоили за  
сутки  
20 литра молока.

Когда часть молока  
дали **двум** телятам,  
**Поровну** каждому,  
осталось 12 литров.

**Сколько литров молока  
выпил каждый телёнок?**





**Проверь свои ответы:**

**28кг, 24 кг, 20, 20кг, 9, 16, 4, 11, на 20руб,  
4л.**