



2 класс
Математический
диктант №6

Выполнила
Кирилова С.Г.
Учитель начальных
классов
Школы «Ученики
Пифагора»

**Мама купила дочери
путёвку в летний
лагерь
ровно на 2 недели .**



**Сколько дней
уже отдыхает Аня,
если до конца
смены
осталось 8 дней?**



**В фольклорном
кружке
занимаются 20 детей
из 2 класса.**



**Из них 14 девочек,
остальные
мальчики.**

**На сколько меньше
в кружке мальчиков,
Чем девочек?**





**У Эли день рождения.
Мама накрывает стол на 12
человек.
Она уже положила всем ложки.
Сколько вилок должна
ещё положить мама?**

**На стол поставили
вазу с персиками.**



**6 девочек и 5
мальчиков
взяли по одному
персику,
и в вазе осталось
3 персика.**



Сколько всего



**До осенних каникул
осталось 2 недели и 5 дней.
Сколько всего дней осталось
до окончания первой четверти?**

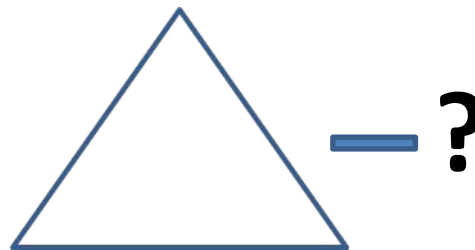




**Два одинаковых
альбома
вместе стоят 18
рублей.**



**На сколько рублей
один альбом
дороже блокнота,**

который стоит



**Юра сложил из спичек
2 прямоугольника
и **столько же** треугольников.**

**Сколько всего спичек
использовал
Юра для составления фигур?**



**5 литров
молока
составляют
половину
бидона.**




**Сколько литров
молока в
трёх полных
бидонах?**



У Насти 24 фотографии.

**Она заполнила
снимками
ровно половину
альбома.**



**Сколько всего
фотографий
поместится
В альбоме?**



**Бабушка дала Марине 50 рублей.
Девочка купила книгу за 40 рублей и
альбом.**

У Марины осталось ещё 3 рубля.

Сколько денег она заплатила за

ПРОВЕРЬ СВОИ

ОТВЕТЫ:

**6, на 8, 12, 14, 19, на 2руб, 18, 30л, 48,
7руб**