

ВВЕДЕНИЕ В КУРС ИСТОРИИ ДРЕВНЕГО МИРА

5 класс

ЗАНЯТИЕ 1



**ИСТОРИЧЕСКИ
Е
ИСТОЧНИКИ**

?

?

?

```
graph TD; A[ИСТОРИЧЕСКИЕ ИСТОЧНИКИ] --- B[ВЕЩЕСТВЕННЫЕ]; A --- C[ПИСЬМЕННЫЕ]; A --- D[УСТНЫЕ]
```

**ИСТОРИЧЕСКИ
Е
ИСТОЧНИКИ**

**ВЕЩЕСТ-
ВЕННЫЕ**

ПИСЬМЕННЫЕ

УСТНЫЕ

**ЗАДАНИЕ: КАКИЕ ИЗ ЭТИХ
ИСТОРИЧЕСКИХ
ИСТОЧНИКОВ
ВЕЩЕСТВЕННЫЕ, А КАКИЕ
- ПИСЬМЕННЫЕ ?**





Handwritten text in an ancient script, likely Egyptian hieroglyphs, arranged in six vertical columns. The script is black ink on a light-colored, possibly papyrus or parchment, background. The columns are separated by thin vertical lines. The text is oriented vertically, reading from top to bottom. The characters are stylized and consistent with the hieroglyphic system used in ancient Egypt. The overall appearance is that of a fragment of an ancient document or a scroll.



Handwritten text in a cursive script, likely a form of Arabic or Persian, spanning the top of the page.

Handwritten text in a cursive script, located in the upper middle section of the page.

Handwritten text in a cursive script, located in the upper right section of the page.

Handwritten text in a cursive script, located in the middle left section of the page.

Handwritten text in a cursive script, located in the middle right section of the page.

Handwritten text in a cursive script, located on the left side of the page.



Handwritten text in a cursive script, located in the upper right section of the page.

Handwritten text in a cursive script, located on the left side of the page.


Handwritten text in a cursive script, located in the lower middle section of the page.

Handwritten text in a cursive script, located in the lower middle section of the page.

Handwritten text in a cursive script, located in the lower right section of the page.

Handwritten text in a cursive script, located at the bottom left of the page.

1.





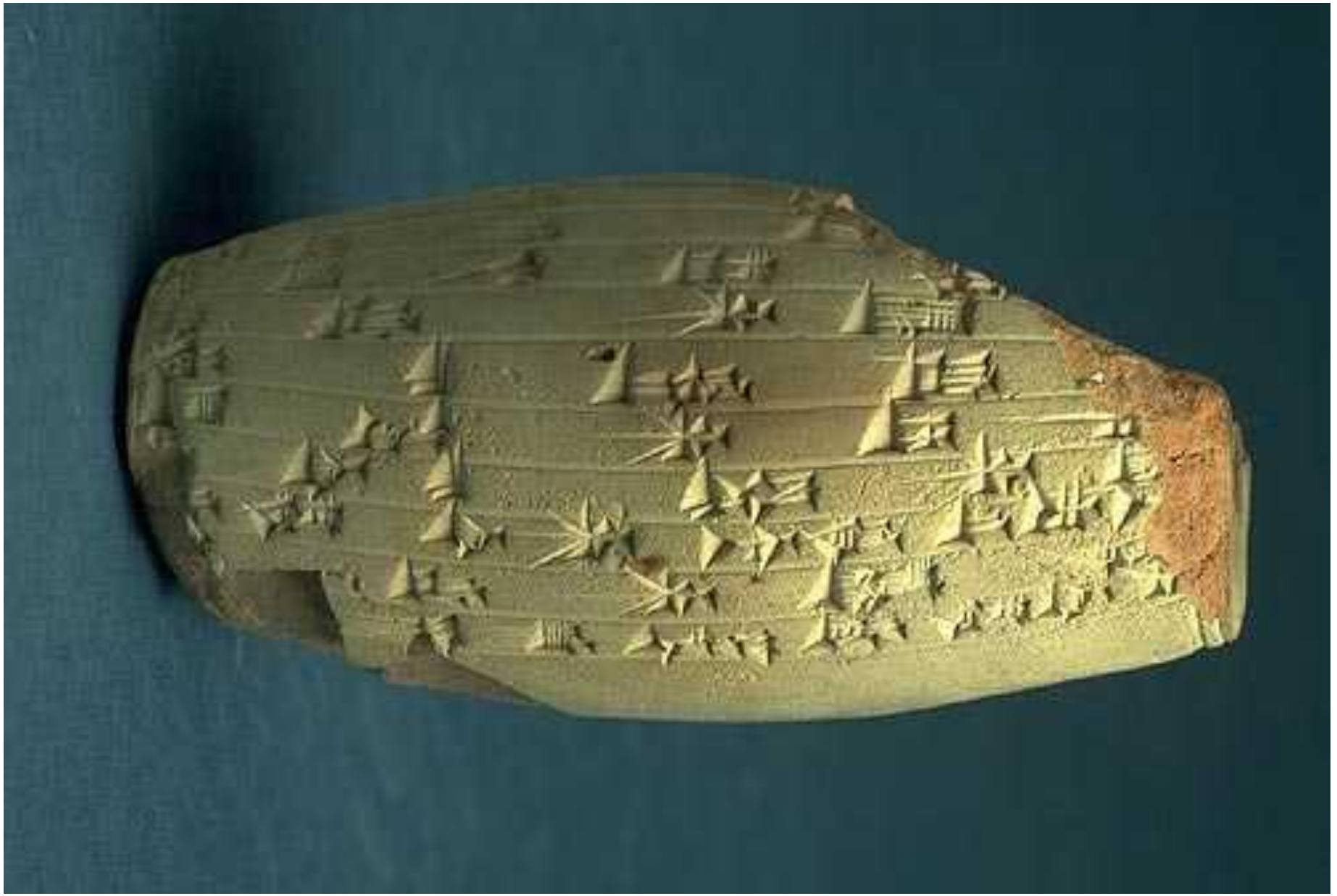


Vertical column of hieroglyphs on the left side of the page.

Horizontal column of hieroglyphs at the bottom of the page.



Vertical column of hieroglyphs on the right side of the page.



ВОПРОС:

**ЧЕМ ПИСЬМЕННЫЕ ИСТОЧНИКИ
ОТЛИЧАЮТСЯ ОТ УСТНЫХ?**

ЗАДАНИЕ: РАСТРЕДЕЛИТЕ ЭТИ ИСТОРИЧЕСКИЕ ИСТОЧНИКИ ПО ТРЁМ ВИДАМ (ВЕЩЕСТВЕННЫЕ, ПИСЬМЕННЫЕ, УСТНЫЕ):

- 1. ГРЕЧЕСКАЯ МОНЕТА**
- 2. ЛЕГЕНДА О СОЗВЕЗДИИ МАЛАЯ МЕДВЕДИЦА**
- 3. СКИФСКИЙ МЕЧ (АКИНАК)**
- 4. ГЛИНЯНАЯ ТАБЛИЧКА С ПИСЬМЕНАМИ ИЗ МЕЖДУРЕЧЬЯ**
- 5. МИФЫ НАРОДОВ АФРИКИ**
- 6. ДРЕВНЕЕГИПЕТСКИЙ ПАПИРУС С ИЕРОГЛИФАМИ**
- 7. ДРЕВНЯЯ КРЕПОСТЬ В ИТАЛИИ**
- 8. НАДПИСИ НА КАМНЯХ**
- 9. СКАЗАНИЕ О ГИЛЬГАМЕШЕ**
- 10. ПЕСНИ ДРЕВНИХ ИНДИЙЦЕВ**

КЛЮЧ (ОТВЕТЫ):

ВЕЩЕСТВЕННЫЕ: **1, 3, 7.**

ПИСЬМЕННЫЕ: **4, 6, 8.**

УСТНЫЕ: **2, 5, 9, 10.**

**ПРИВЕДИТЕ ПРИМЕРЫ
ПИСЬМЕННЫХ, УСТНЫХ И
ВЕЩЕСТВЕННЫХ
ИСТОЧНИКОВ**

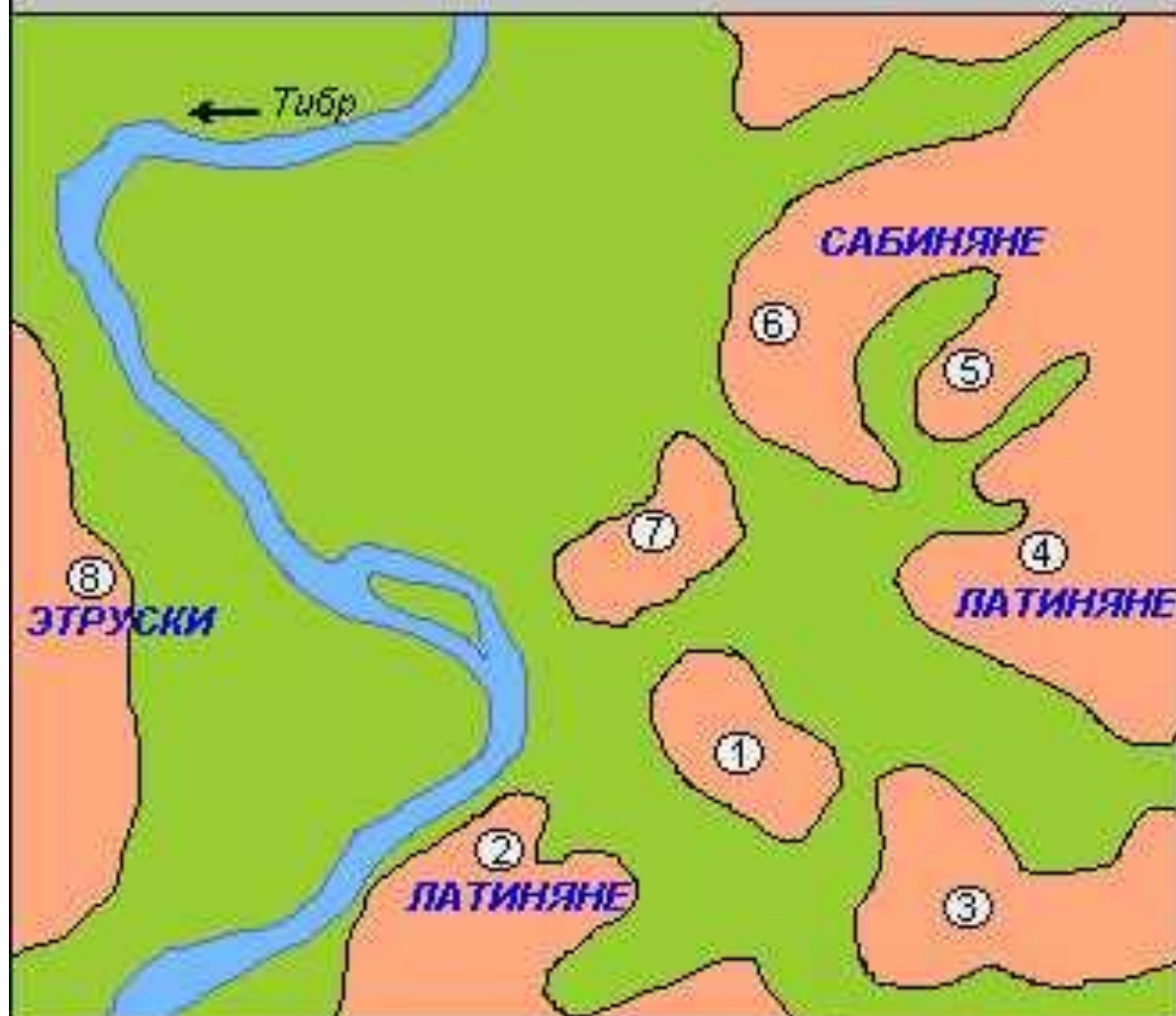
**ИСТОРИЧЕСКАЯ КАРТА – кусок бумаги,
на котором изображены города, реки,
места жительства народов, места битв
и другие условные обозначения.**

Финикийские колонии около 550 до н.э.



берега, колонизированные финикийцами

РИМСКИЕ ХОЛМЫ



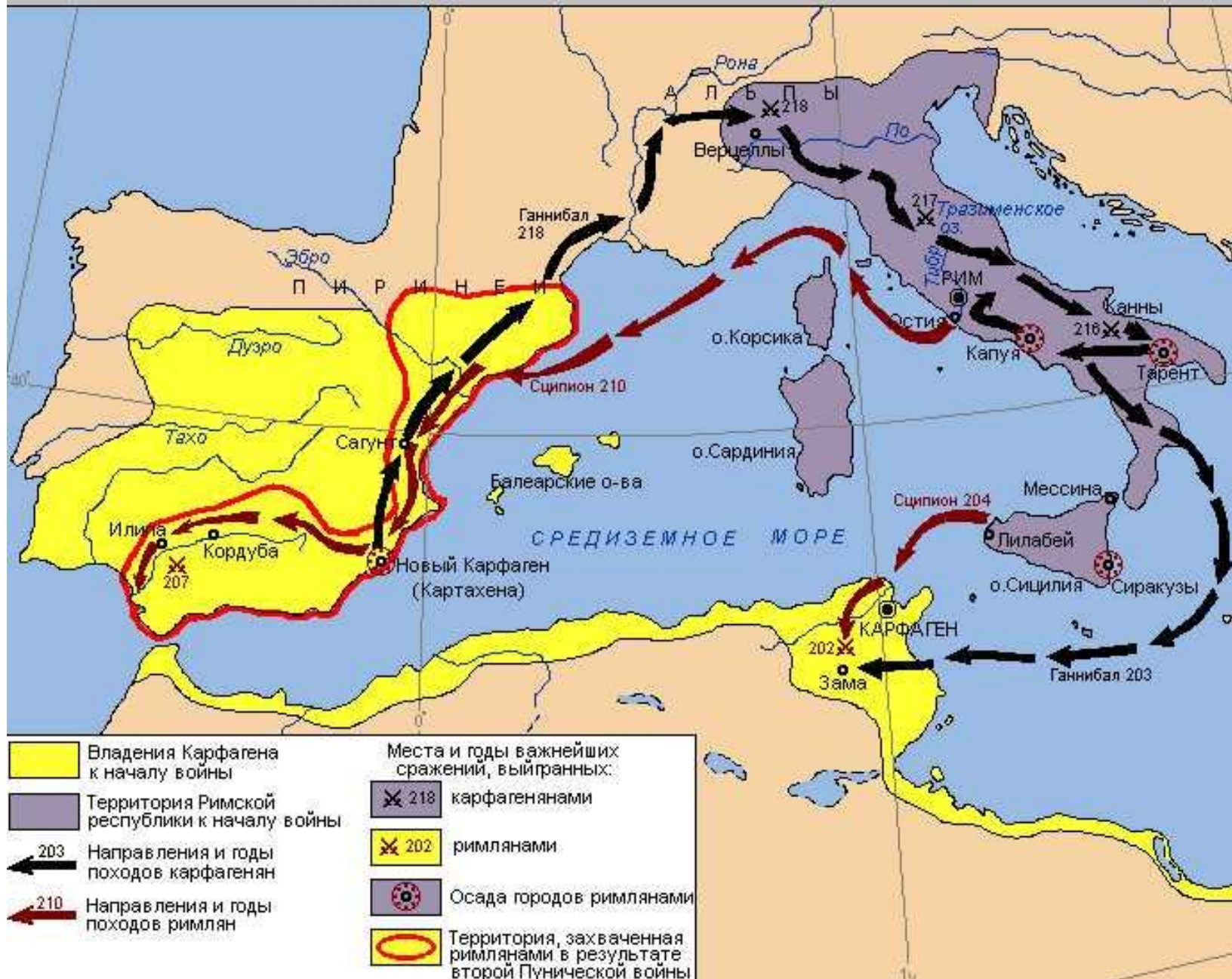
- | | |
|-------------------|--------------------|
| 1. Палатин (51м) | 5. Виминал (54) |
| 2. Авентин (46м) | 6. Квиринал (69м) |
| 3. Целий (48м) | 7. Капитолий (49м) |
| 4. Эсквилин (58м) | 8. Яникул (85м) |

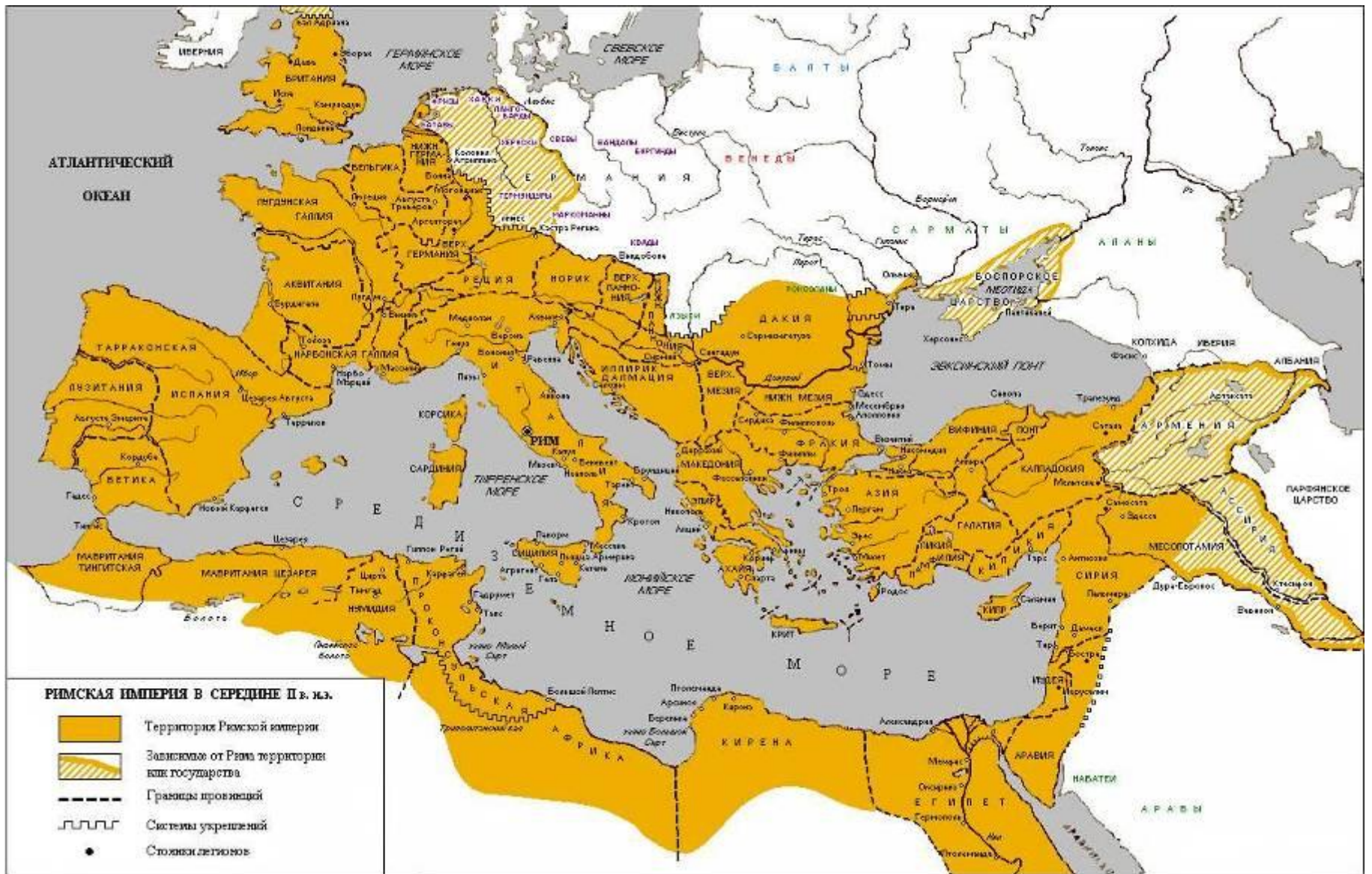
ORBIS TERRAE COMPENDIOSA DESCRIPTIO

Quaerens Magna Visibili Gerardi Mercatoris Thomae Richardo Gualtero Geographiae ac Cosmographiae honorario artium magistro ac Antonio Vallerio, in artebus mathematicis ac Cosmographicis ingenio et Bonifacio Mercatore filio curavit. A. M. D. LXVII.



ВТОРАЯ ПУНИЧЕСКАЯ ВОЙНА 218 - 201 гг. до н.э.





ДОМАШНЕЕ ЗАДАНИЕ:

ПРОЧЕСТЬ ВВЕДЕНИЕ В УЧЕБНИКЕ

ПРИДУМАТЬ ПО 5 ПРИМЕРОВ
ВЕЩЕСТВЕННЫХ, ПИСЬМЕННЫХ И
УСТНЫХ ИСТОЧНИКОВ

ПРИБРЕСТИ АТЛАС ИСТОРИИ
ДРЕВНЕГО МИРА