

Вычитание  
предшествующего  
числа





1
2
3

5
6
7

2
4
6

8
9
10



Сравни  
выражения, не  
вычисляя их





1



Запиши в левой клеточке число, предшествующее числу в правой клеточке.

1

2

3

4

0

1

6

7

8

9

2

3

На сколько нужно увеличить каждое предшествующее число, чтобы получить последующее?

Запиши: на **1**.











Дополни математические записи к схемам.



$$\square - \square = \square$$



$$\square - \square = \square$$







Выпиши из таблицы сложения ту сумму, которая поможет найти значения разностей.

$$8 - 7 = \boxed{1}$$

$$\boxed{1} + \boxed{7} = \boxed{8}$$

$$5 - 4 = \boxed{1}$$

$$\boxed{\phantom{0}} + \boxed{\phantom{0}} = \boxed{\phantom{0}}$$

$$3 - 2 = \boxed{1}$$

$$\boxed{\phantom{0}} + \boxed{\phantom{0}} = \boxed{\phantom{0}}$$

$$7 - 6 = \boxed{1}$$


$$\boxed{\phantom{0}} + \boxed{\phantom{0}} = \boxed{\phantom{0}}$$







Отметь отрезок, имеющий наибольшую длину.







Начерти отрезки заданной длины: 4 см и 6 см.

