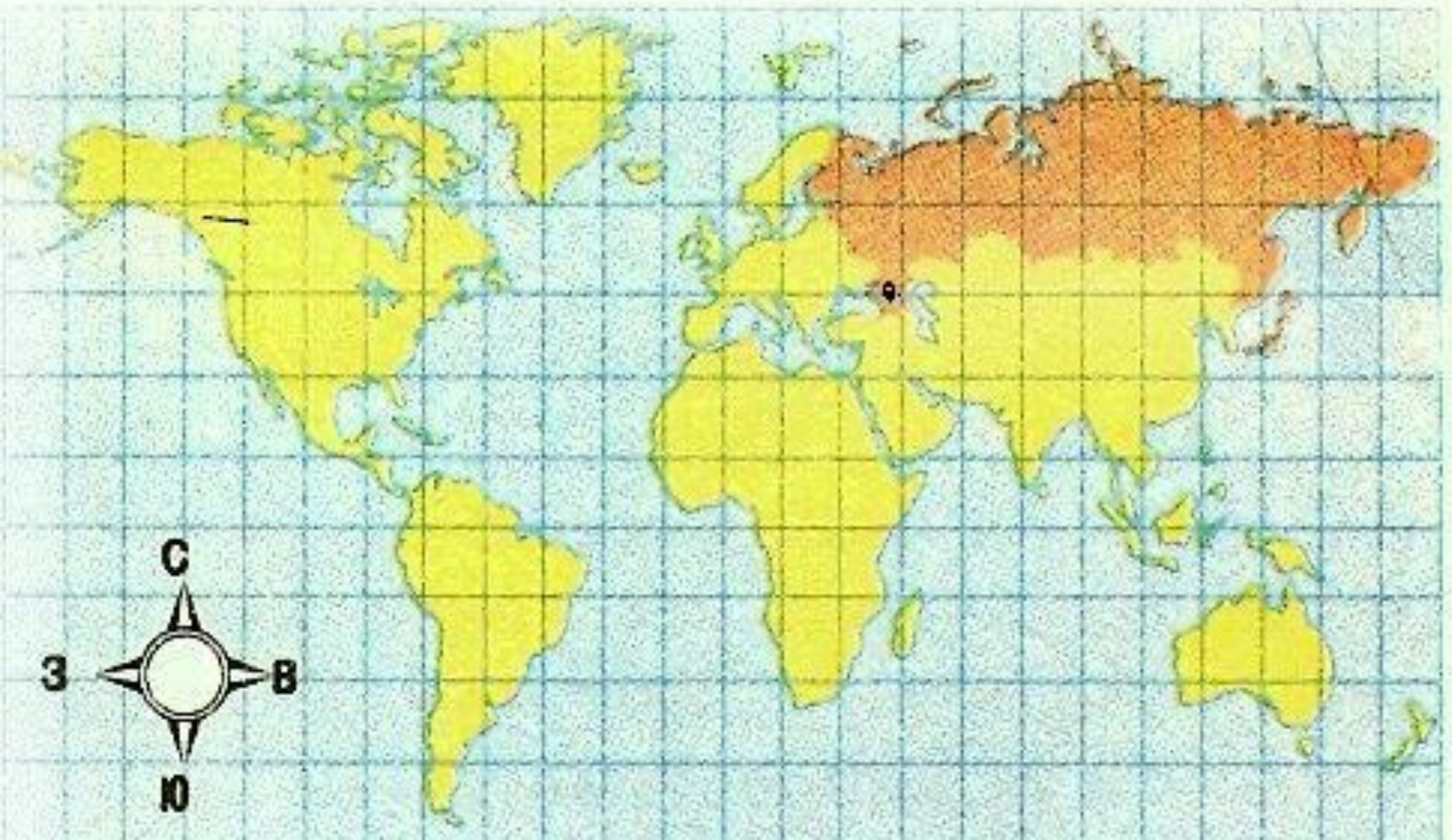


# Характеристика географического положения Ставропольского края.

*8 класс.*

*Урок №1*

# ГЕОГРАФИЧЕСКИЙ АДРЕС СТАВРОПОЛЬСКОГО КРАЯ.



# Географическое положение.

- ▶ Самая северная точка (45,14с.ш.) – берег озера Маныч-Гудило в 21км к северо-западу от пос. Манычское Апанасенского района.
- ▶ Самая южная (43,39с.ш.) – лежит на берегу р. Терек к югу от станицы Галюгаевской.
- ▶ Самая западная точка (40,48в.д.) – находится в 5ти км от пос. Радуга Новоалександровского района.
- ▶ Самая восточная (45,47в.д.) – в 18 км к с.в. от пос. Бакрес Нефтикумского района.





# Часовые пояса.

- ▶ Ставропольский край находится в III часовом поясе.
- ▶ Величина разницы во времени с Москвой (0ч.), в «Зимнее» время (+1).

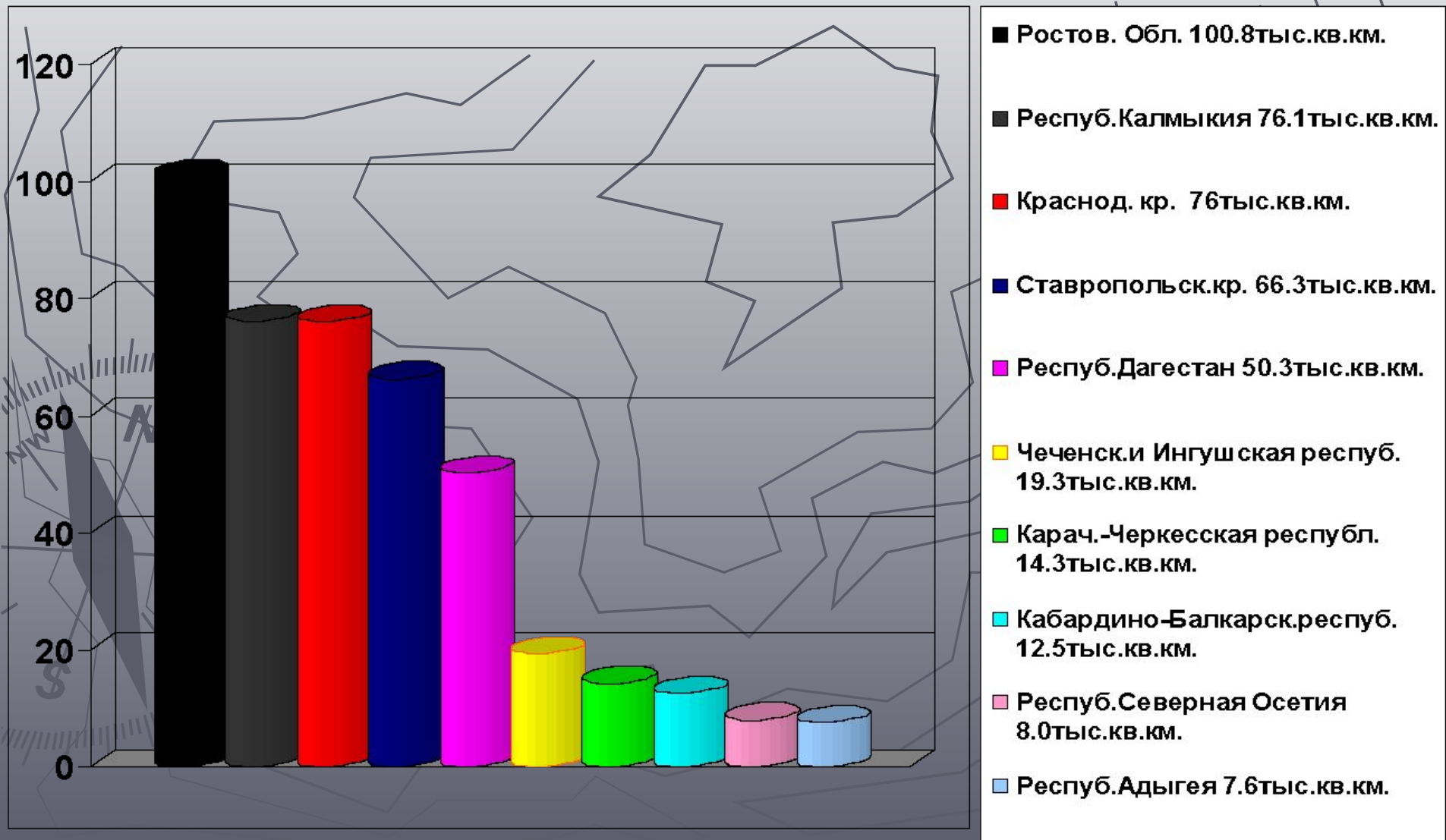




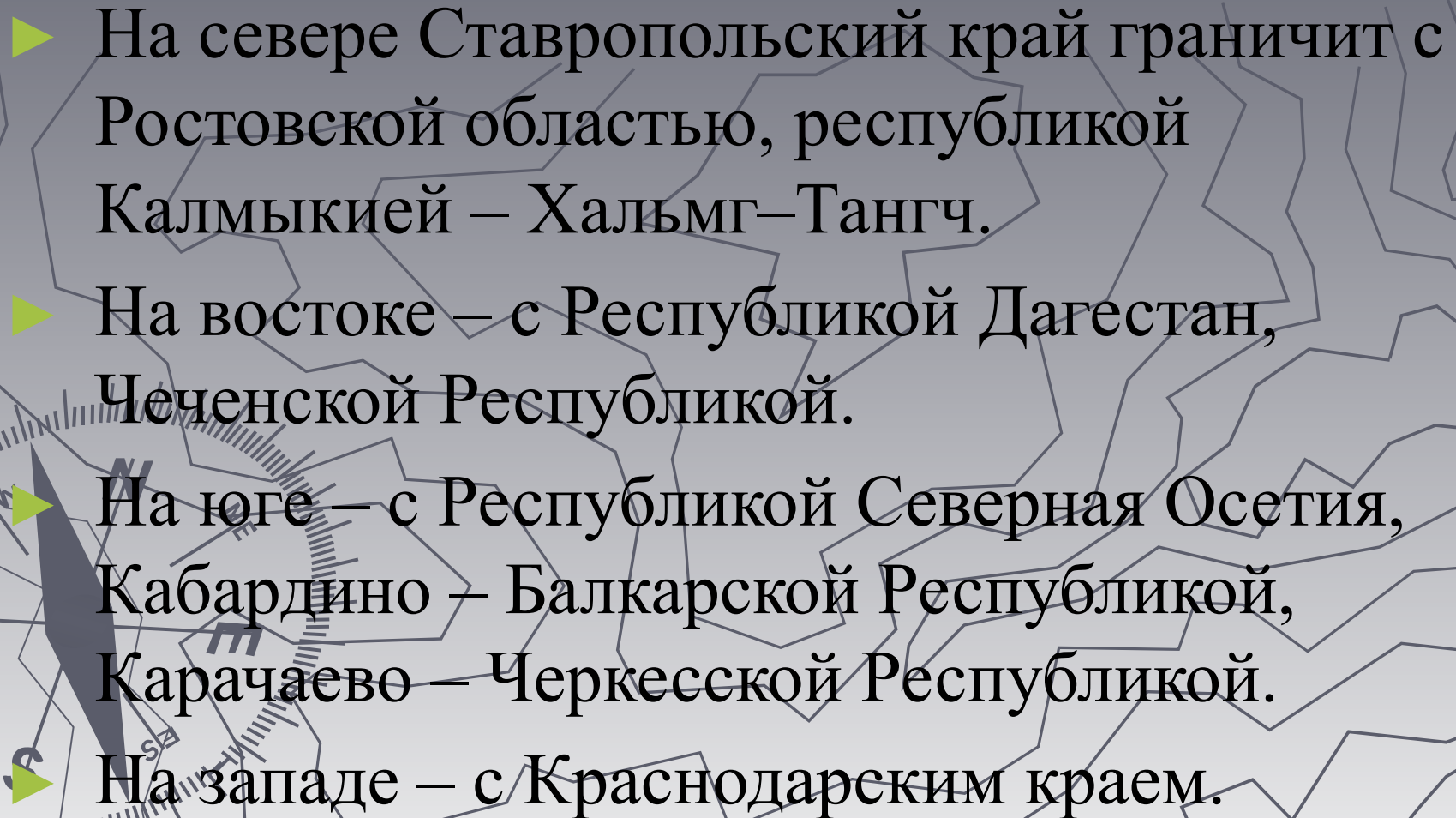




# Соотношение площадей Южного Федерального Округа.



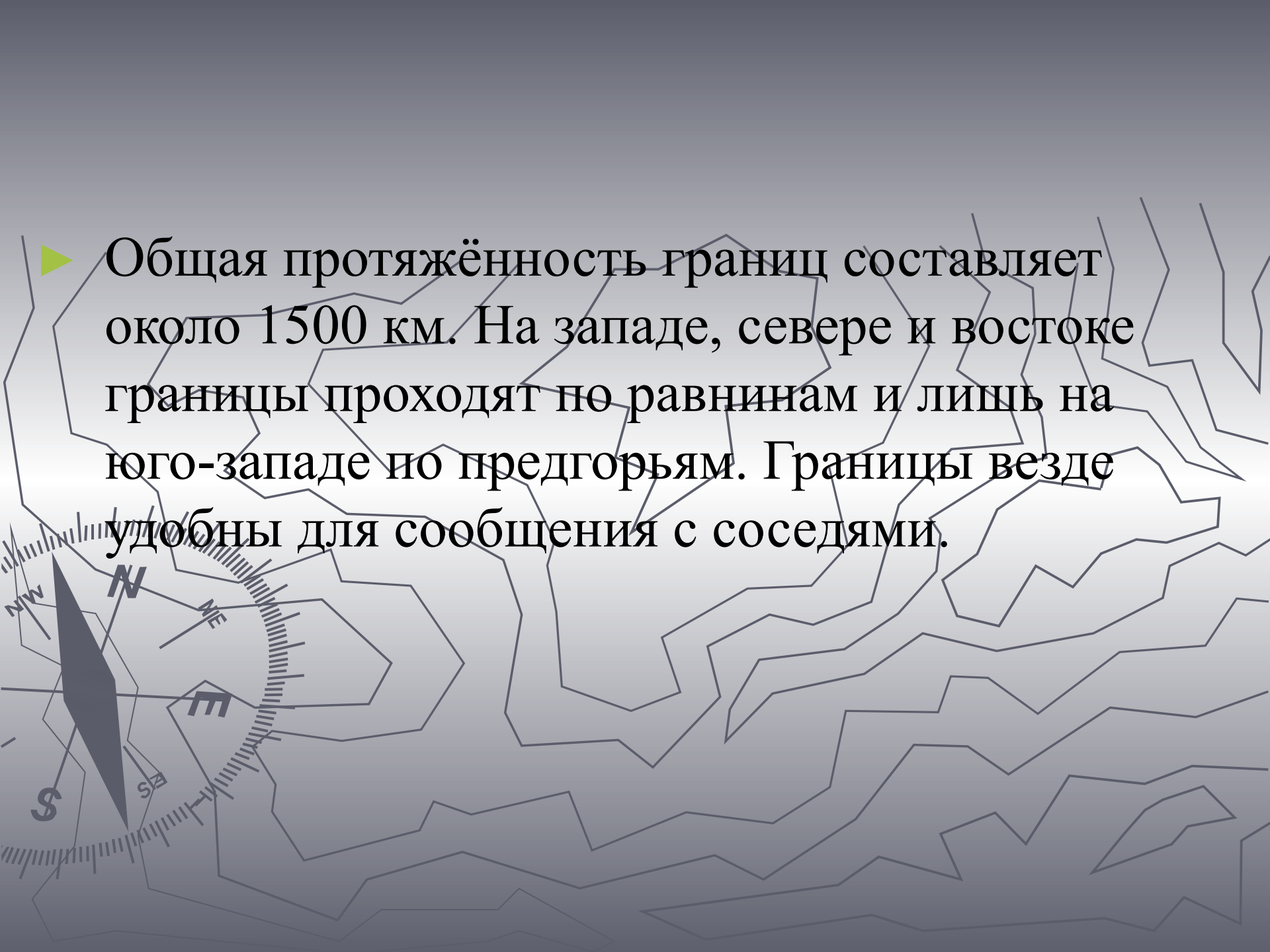
# Границы.

- ▶ На севере Ставропольский край граничит с Ростовской областью, республикой Калмыкией – Хальмг–Тангч.
  - ▶ На востоке – с Республикой Дагестан, Чеченской Республикой.
  - ▶ На юге – с Республикой Северная Осетия, Кабардино – Балкарской Республикой, Карачаево – Черкесской Республикой.
  - ▶ На западе – с Краснодарским краем.
- 







- 
- A topographic map with contour lines is shown in the background. In the bottom-left corner, there is a compass rose with a dark grey arrow pointing towards the top-left. The compass rose is labeled with 'N' for North, 'NE' for Northeast, 'E' for East, 'SE' for Southeast, 'S' for South, 'SW' for Southwest, and 'NW' for Northwest. The map lines are light grey and the background is a gradient from dark grey at the top to light grey at the bottom.
- ▶ Общая протяжённость границ составляет около 1500 км. На западе, севере и востоке границы проходят по равнинам и лишь на юго-западе по предгорьям. Границы везде удобны для сообщения с соседями.



# Города Ставропольского края.

- ▶ Столица Ставропольского края – город Ставрополь.
- ▶ Крупные города – Невинномысск, Пятигорск, Кисловодск, Ессентуки, Зеленокумск, Минеральные Воды, Будённовск, Светлоград, Арзгир, Изобильный.

# Контроль знаний:

- ▶ 1 особенности положения края на материке.
- ▶ 2 особенности положения края на территории России.
- ▶ 3 назовите соседей края.
- ▶ 4 какими природными рубежами ограничен наш край?
- ▶ 5 сравните площадь края и др. областей.