


ЧИСЛО 1. ЦИФРА 1.

Волчонок выбежал побегать под дождём....



Сколько дождинок попало на Волчонка?


1 2 3 4 5 6 7 8 9 10



Потерялось число

1 ... **2** ... **3** ... **4** ... **5** ... **6** ... **7** ... **8** ... **9** ... **10** ...

Волчонок заметил, что дождединки разные...



$$Б + М = К$$


$$М + \square = \square$$

$$К - Б = \square$$

$$К - \square = \square$$

Вот появился Капито!

Закройте глаза.



Что изменилось?



Вот появился Капито!

Закройте глаза.



Что изменилось?



Вот появился Капито!

Закройте глаза.



Что изменилось?



Вот появился Капито!

Закройте глаза.

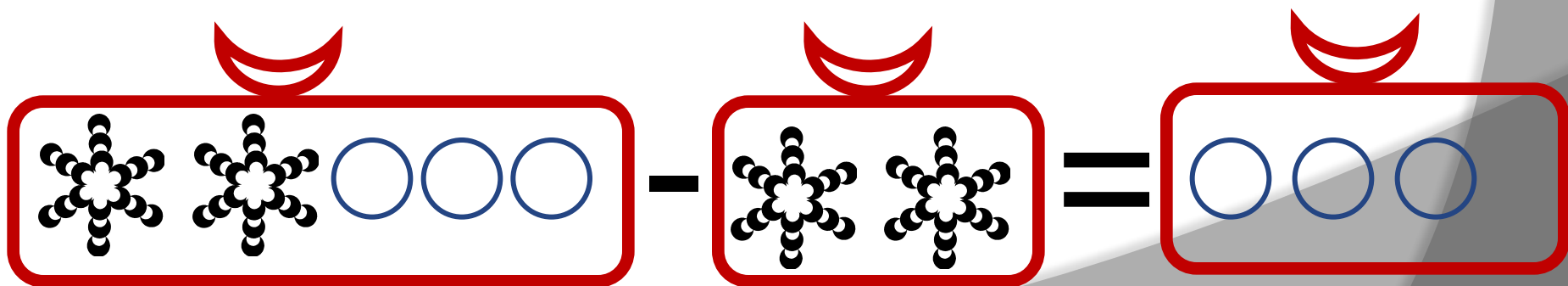
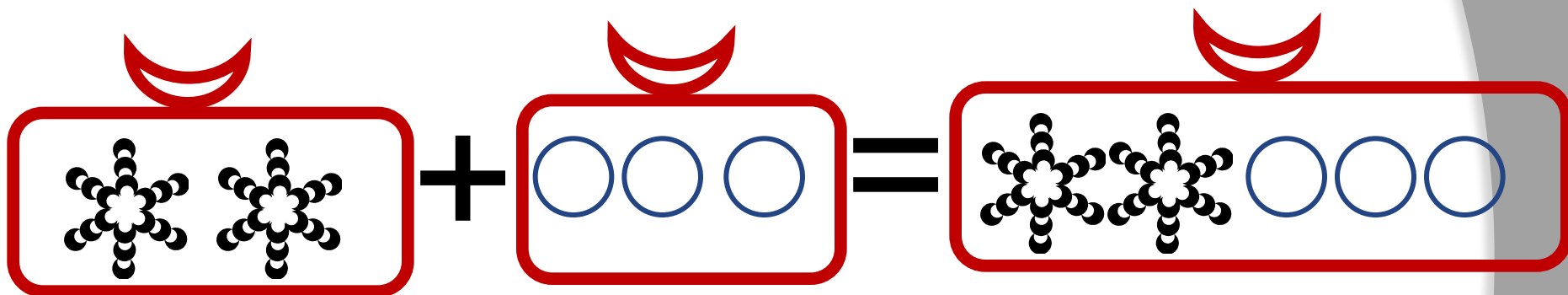


Что изменилось?



Капитошка рассказал Волчонку о снеге и граде...

Поставьте + или - .



Сколько Волчат?

Сколько Капито.....?



1



1

**Задания подготовлены по книге «Устные упражнения на уроках математики. 1 класс» (авт. Л.Г. Петерсон, И.Г. Липатникова)
Презентация выполнена Галановой Е.В., учителем начальных классов
ГОУ школы №328 Санкт-Петербурга**