

Урок математики:

«Решение задач на встречное движение»



Найдите равные величины

72 ч

30 сут

720 ч

300 сут

7200 ч

3 сут

2400 м



24 км

240 дм

24 м

24000 м

2 км 400 м



Исключи «лишнее»

15 км, 15 км/ч, 15 м, 15 дм

25 км/ч, 45 км/ч, 25 км/мин,

35 км/ч

Задача



180 км/ч, это в **3** р.б.

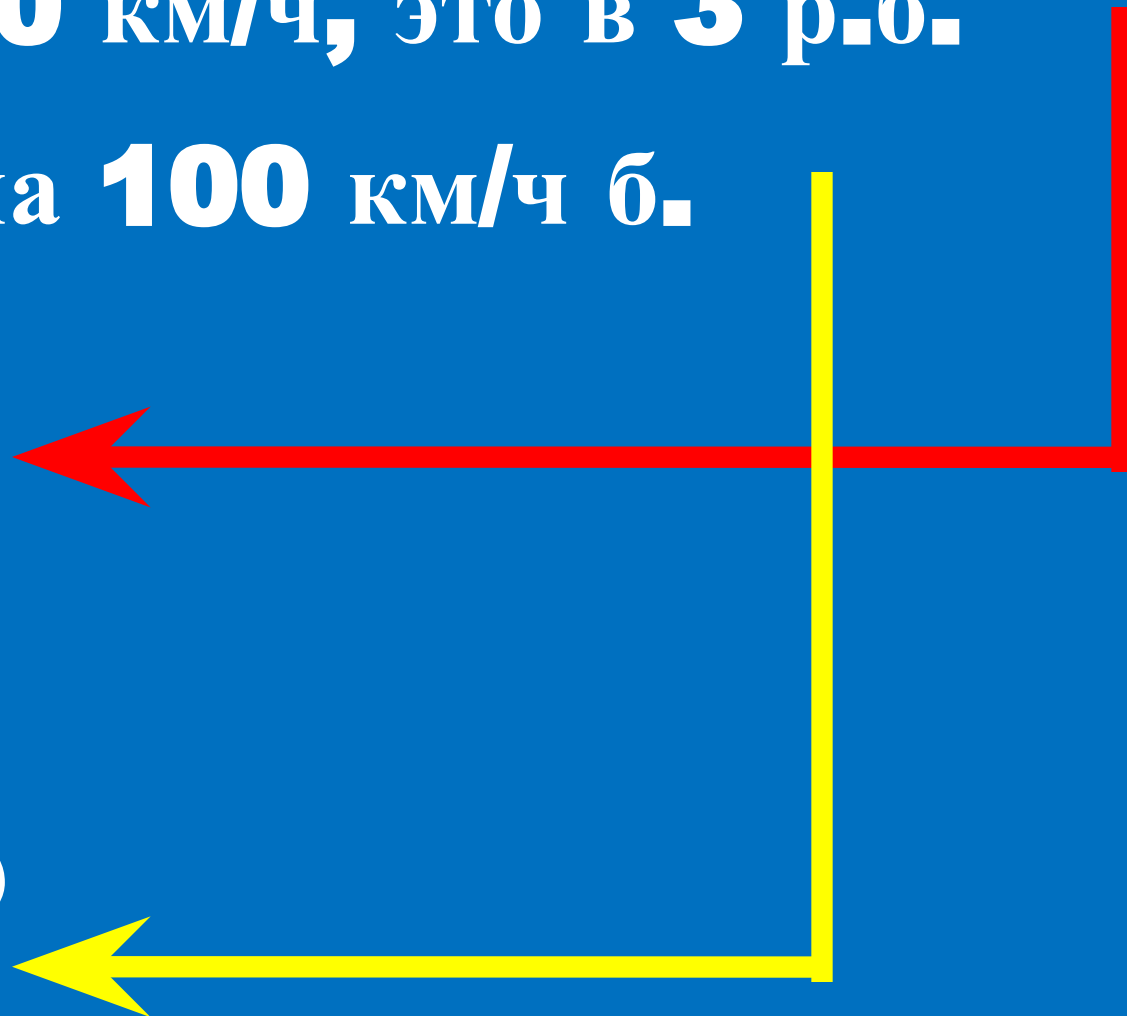
и на **100** км/ч б.



?



?



Задача



v	t	s
?	7c	300 M
?	?	1200 M

Задача



8 м/с



11 м/с

№ 432

- 1.** Сколько времени поезда были в пути?
- 2.** Сколько времени был