

Проверка домашнего задания

*Как была найдена впервые
пещерная живопись?*

*Что изображали
первобытные
художники?*

*Что представляли
собой древнейшие
религиозные верования?*

*Почему появились
религия и искусство?*

*Первобытные
земледельцы и
скотоводы*

*Присваивающее
хозяйство*



*Производящее
хозяйство*

Собирательство



Земледелие



Возникновение мотыжного земледелия

Стадии мотыжного земледелия



Стадии мотыжного земледелия



Стадии мотыжного земледелия




Стадии мотыжного земледелия

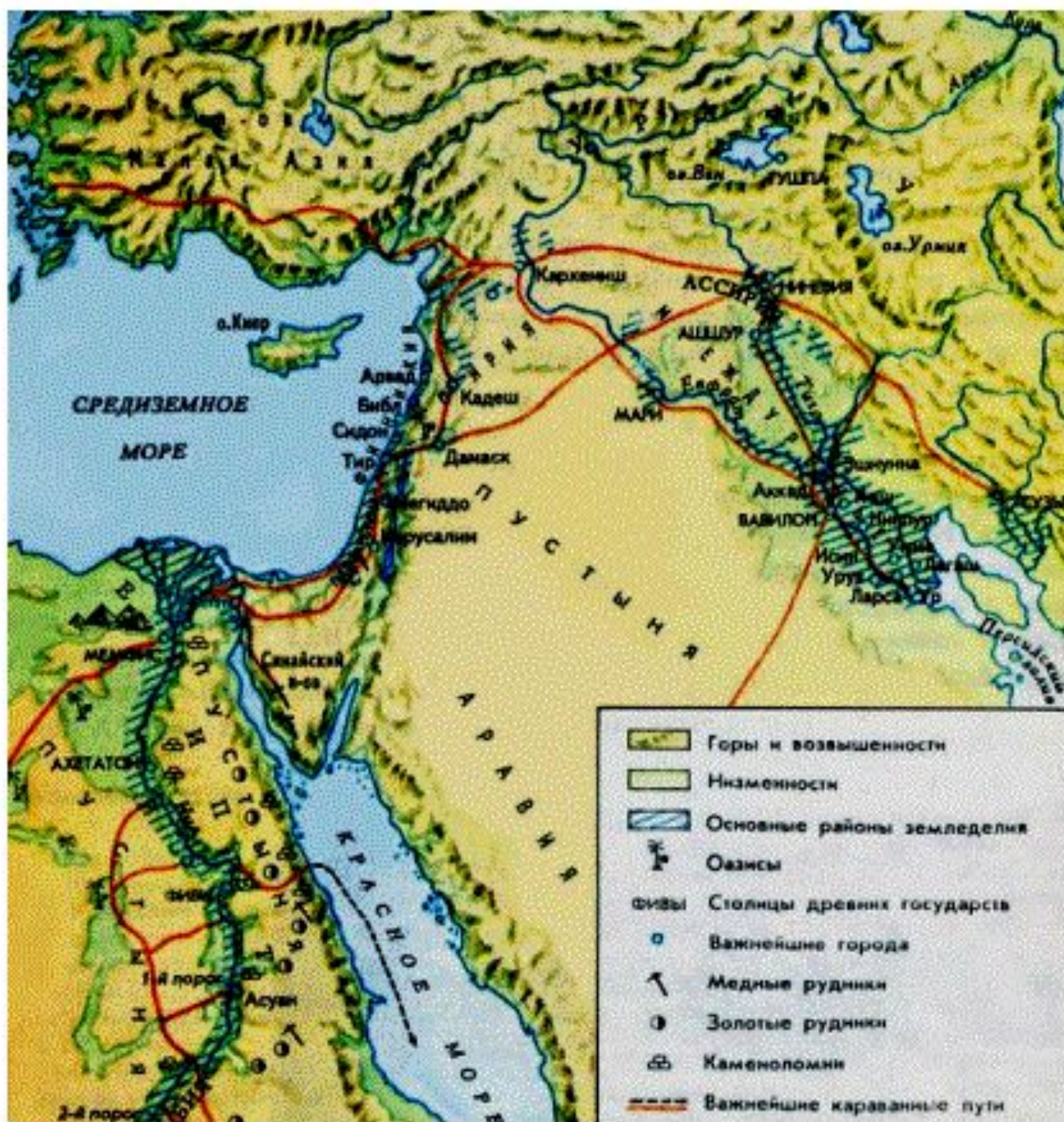



Преимущества земледелия:

- Давало постоянный урожай;*
- Лучше, чем соби́рательство, обеспечивало людей пищей;*
- Позволяло жить осёдло.*

Новые орудия труда







*Возникновение
скотоводства*

Охота



Скотоводство

*Как вы думаете,
какое животное
древние люди
приручили первым?
Докажите свою
точку зрения.*

*А каких животных
древние люди не
стали приручать?
Почему?*

Возникновение ремёсел



Гончарство



Лозоплетение



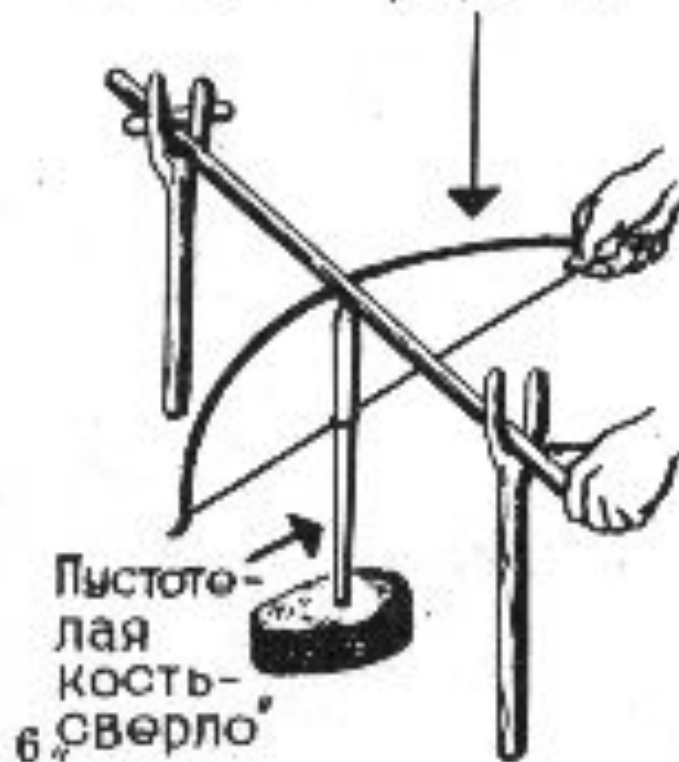
Ткачество



Обработка камня



Приспособление для
вращения „сверла”



Совет старейшин

```
graph TD; A[Совет старейшин] --> B[Племя]; B --> C[Род]; B --> D[Род]; B --> E[Род];
```

The diagram is a hierarchical flowchart. At the top is a blue rounded rectangle containing the text "Совет старейшин" in a yellow, italicized serif font. A large blue arrow points downwards from this box to a second blue rounded rectangle containing the text "Племя" in the same yellow, italicized serif font. From the bottom of the "Племя" box, three blue arrows point downwards and outwards to three separate blue rounded rectangles, each containing the text "Род" in the same yellow, italicized serif font.

Племя

Род

Род

Род

Домашнее задание:

- *§ 4, читать, пересказывать, отвечать на вопросы;*
- *Выучить по тетради схему «Племя».*

Род и племя

Совет старейшин

Племя

старейшина

старейшина

Браки

Родовая община

Родовая община

