

*Древняя Греция. Греки и критяне.*

---

# Имя в истории

Угадайте о какой  
выдающейся  
личности идет речь?

1. Он был самым могущественным и знаменитым царем Вавилона, правил с 1792 по 1750 гг. до н.э. Сам бог солнца Шамаш вручил ему жезл – символ власти над людьми. Именно ему принадлежит создание сборника законов, за нарушение которых постигнет суровое наказание.



2. Духовный учитель, основатель буддизма. В раннем возрасте, задумавшись о смерти, стал отшельником; обрел мудрость, предаваясь глубокому размышлению о жизни.



3. Древний мыслитель и философ Китая. Его учение оказало глубокое влияние на жизнь Китая и Восточной Азии, пользовался большим уважением среди китайцев.



# Достопримечательности

Назовите указанные на  
изображениях  
достопримечательности и  
страну, где они созданы.









# ПРОВЕРЬ СЕБЯ!

## 1 задание:

1. Хаммурапи
2. Будда
3. Конфуций

## 2 задание:

1. Пирамиды – Египет
2. Великая китайская стена – Китай
3. Большой сфинкс - Египет

## Оценка:

- 9 правильных ответов – «5»
- 7-8 правильных ответов – «4»
- 5-6 правильных ответов – «3»

Как вы думаете, зачем нам нужно изучать историю разных стран?

---

---



Чем знаменита эта  
страна?

О какой стране идет  
речь?

**1. Знаю**

**2. Хочу  
знать**

**3. Узнал**




# ***ДРЕВНЯЯ ГРЕЦИЯ. ГРЕКИ И КРИТЯНЕ.***

---

# **ЦЕЛЬ УРОКА**

---

**изучить местоположение,  
природные условия Древней  
Греции, их влияние на занятия  
древних греков.**



# ПЛАН УРОКА

---

1. географическое положение
2. климатические и природные условия
3. население и культура



# РАССКАЖИТЕ И ПОКАЖИТЕ, ГДЕ НАХОДИТСЯ ГРЕЦИЯ

---



# РАБОТА С КАРТОЙ

---

- В какой части света находится Греция?
- В какой части Европы расположена?
- На каком п-ове находится Греция?
- Какими морями омывается?
- На какие части делится Греция?

---

# Какой же климат в Древней Греции?



# «ВЕРЮ – НЕ ВЕРЮ»

-	Климат в Греции холодный, так как с трех сторон омывается морями
-	В Греции, как и в Египте и Междуречье есть полноводные реки
-	Два месяца в году в Греции льют дожди и реки выходят из берегов
+	В Греции жаркое и засушливое лето и мягкая дождливая зима
+	В Греции нет полноводных рек
+	Земли, пригодной под пашню, в Греции немного
+	Почти все греческие города стоят у моря

# ***ПРАВИЛА РАБОТЫ В ГРУППАХ***

---

- Уважай мнение товарища
- Терпеливо выслушай товарища
- Любое мнение ценно
- В каждой мысли есть доля истины.

# 1 ГРУППА «МУДРЫЕ СОВЫ»

---



Самостоятельно прочитайте в учебнике миф «О Тесее и Минотавре» с. 116, найдите мудрые мысли и выполните задание:

- Дайте краткую характеристику героев мифа о Тесее и Минотавре:
- Напишите основные занятия древних греков;
- Объясните почему море названо Эгейским?

## 2 ГРУППА «ЗНАТОКИ»

---

Самостоятельно прочитайте в учебнике миф «О Тесее и Минотавре» с. 116, найдите мудрые мысли и выполните задание.

— Восстановите последовательность событий и пронумеруйте их.

- Что сказочного в мифе о Тесее?

-Что могло соответствовать исторической действительности?

## **3 ГРУППА «АРХЕОЛОГИ»**

---

### **Работа с историческим источником.**

- Выпишите основные занятия жителей острова Крит
- По фрагментам древнегреческой посуды сделайте вывод об уровне развития гончарного ремесла.



# 4 ГРУППА «ПУТЕШЕСТВЕННИКИ»

---

Прочитайте миф о Дедале и Икаре с.119 уч.

- Дайте характеристику героям мифа?

□ Какие знания о далеком прошлом можно почерпнуть из этого мифа?

□ - Сделайте вывод: чему нас учит этот миф?

# ТЕСТ

---

1. Греция располагалась на юге Балканского полуострова и западном побережье Малой Азии?

А) да            Б) нет

2. В мифах о Тесее и Минотавре отразились события борьбы Афин и Критского царства:

А) да                      Б) нет

3. Приведите в соответствие:

А) Минотавр                      1) море

Б) Эгей                              2) лабиринт

В) Ариадна                        3) нить

4. Сына царя Афин, отправившегося на Крит, чтобы победить Минотавра звали:

А) Парис                      Б) Эгей                      В) Тесей

5. Письменность, возникшая на острове Крит, до сих пор не расшифрована.

А) да            Б) нет

# ВОТ ТАК ПРАВИЛЬНО!

---

1-а, 2-а, 3 А-2,Б-1, В-3; 4-в, 5-б

## Оценка:

- ▣ 5 правильных ответов – «5»
- ▣ 4 правильных ответа – «4»
- ▣ 3 правильных ответа- «3»

# ДОМАШНЕЕ ЗАДАНИЕ

---

§24,

- 1) Нарисовать рисунок к мифам «О Тесее и Минотавре» или «Дедале и Икар» (на выбор)
- 2)? из рубрики «Подумайте» стр. 120 письменно