

# СРАВНЕНИЕ ДВУЗНАЧНЫХ ЧИСЕЛ

# Устный счёт

56 14 52 54 12 16

14

41



Найдите значения выражений

$$10+1=11 \quad 13+2=15 \quad 16+3=19$$

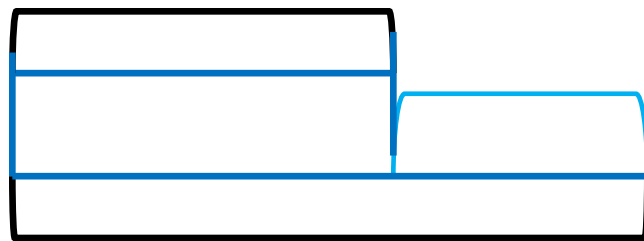
$$10-1=9 \quad 13-2=11 \quad 16-3=13$$

# Игра «День-ночь»


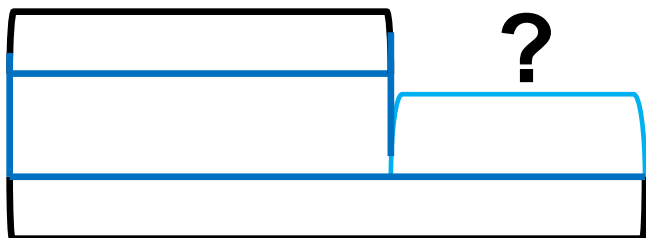
$$13+5-8-6+3-5+4-3+15-0=18$$

# Дополните задачи, заполните схемы и решите задачи

*Саша и Наташа готовились  
к ёлке. Саша вырезал 10  
снежинок. Сколько снежинок  
они вырезали вместе?*

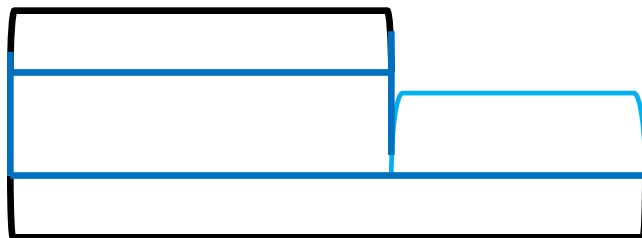


?

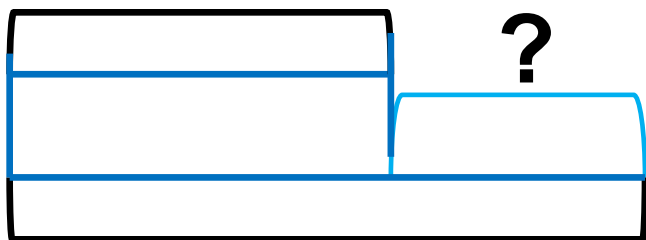


# Дополните задачи, заполните схемы и решите задачи

*У Коли 8 наклеек, а у Бори – 2.*



?



?

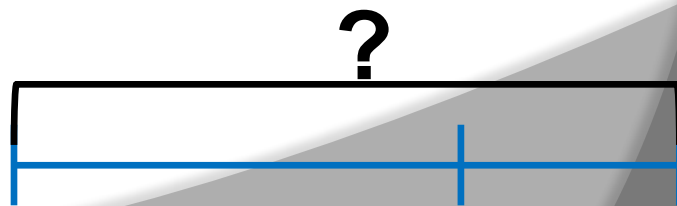
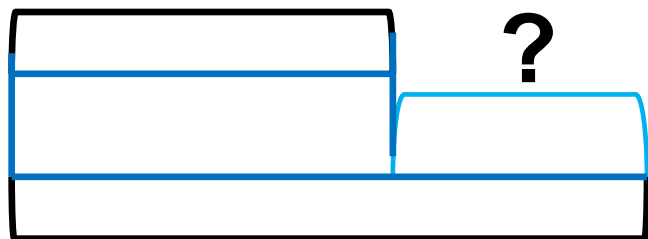
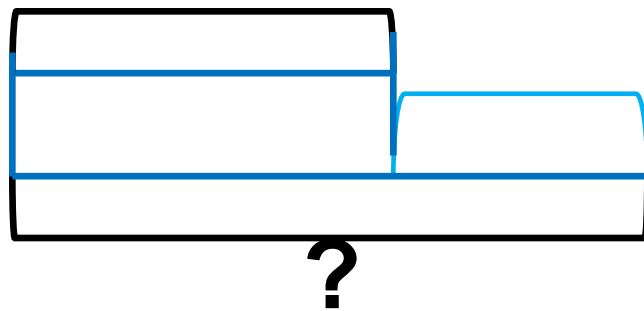


?

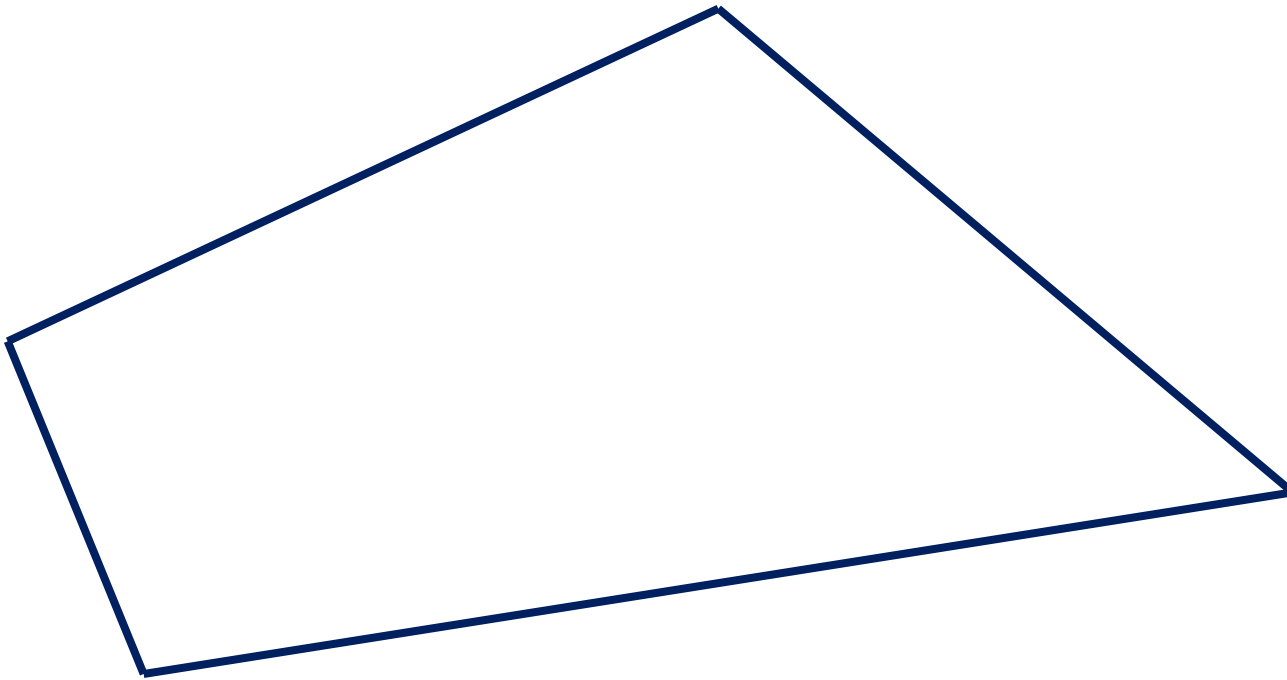
# Дополните задачи, заполните схемы и решите задачи

*В школьный уголок Вова принёс  
4 рыбки, а Серёжа больше.*

*Сколько рыбок принёс Серёжа?*



**Какая это фигура?**





# Сравните

15 см  $\underline{=}$  1 дм 5 см

2 дм 4 см  $\underline{>}$  6 см

9 д 1 е  $\underline{>}$  1 д 9 е

3 д 6 е  $\underline{>}$  32

80  $\underline{>}$  18

45  $\underline{<}$  50

**Задания подготовлены по книге «Устные упражнения на уроках математики. 1 класс» (авт. Л.Г. Петерсон, И.Г. Липатникова)  
Презентация выполнена Галановой Е.В., учителем начальных классов  
ГБОУ школы №328 Санкт-Петербурга**