



***Население России.
Миграции.
Тренажёр и проверочный тест.***

***Жидовкина Галина Петровна
учитель географии МБОУ "СОШ №3"
г.Дальнереченск***



Дорогой друг!

Данный образовательный ресурс посвящён теме «Миграции населения». Его первый уровень представляет собой тренажёр, с помощью которого ты можешь вспомнить основные положения по данной теме и усовершенствовать свои умения и навыки.

Второй уровень – проверочный тест, за который ты получишь отметку.

Надеюсь, что эти занятия помогут тебе лучше ориентироваться в современном мире.

Желаем удачи!

Перейти к тренажёру

Перейти к тесту

Инструкция по работе с учебным тренажёром

1. Каждое задание имеет 4 варианта ответа. Ты должен выбрать один правильный.
2. Если ты выбрал правильный ответ, появится «плюс».
3. Если ты выбрал неверный ответ, появится «минус».
4. Переход к следующему заданию осуществляется по кнопке внизу.

Желаем удачи!



1. В каком из высказываний содержится информация о миграции:



На Северо-Западе России в городах проживает более 80% населения региона.



Средняя плотность сельского населения России составляет примерно 2,2 человека на 1км²



В 1999 году на постоянное место жительства в Россию въехали 2,7 млн.человек, а выехали 2,5 млн. человек.



Численность и плотность населения увеличивается в тех странах и регионах, где высок естественный прирост населения.



2. Для какого из перечисленных регионов России характерен миграционный отток населения?



Архангельская область



Ростовская область



Волгоградская область



Курская область область



3. Для какого из перечисленных регионов России характерен миграционный отток населения?



Краснодарский край



Магаданская область







Московская область



Республика Татарстан



Укажите территории со значительным развитием маятниковых миграций:

- Юг европейской части страны 
- Национальные автономии юга Сибири 
- Районы распространения оленеводства 
- Городские агломерации 



Для какого из перечисленных регионов России характерен миграционный приток населения?



Ямало-Ненецкий АО



Чукотский АО



Ставропольский край



Забайкальский край



Из перечисленных народов полной депортации (насильственному переселению) в 1930-1940-е годы подверглись:



хакасы



карачаевцы



ненцы



карелы



Для какого из перечисленных регионов России характерен миграционный приток населения?



Приморский край



Воронежская область



Камчатский край



Хабаровский край



Для какого из перечисленных регионов России характерен миграционный приток населения?



Архангельская область



Красноярский край







Краснодарский край



Мурманская область



Укажите субъект РФ, имеющий в настоящее время отрицательное сальдо миграций:

- Ростовская область 
- Амурская область 
- Приморский край 
- Хабаровский край 



10. В каком из следующих высказываний содержится информация о миграции населения?



Самая низкая освоенность территории России наблюдается на Дальнем Востоке.



Главная полоса расселения, занимая 1/3 территории России, сосредотачивает 93% населения страны.



Наибольшая доля детей в возрастной структуре населения характерна для населения Дагестана и Северного Кавказа.



В настоящее время в Центральную Россию и Урало-Поволжье возвращаются многие из тех, кто уехал ранее в северные и восточные районы страны.



Как ты оцениваешь свою работу на тренажёре?

Знания отличные! Перехожу к тесту!

**Было много ошибок, необходимо поработать с
правилом.**



Инструкция по работе с тестом

1. Проверочный тест состоит из 10 заданий. Каждое задание имеет 4 варианта ответа, один из которых - правильный.
2. Прежде чем нажимать переключатель хорошо подумай, потому что, ответив, ты перейдёшь к следующему вопросу и не сможешь внести изменения в свой ответ.
3. Чтобы узнать свой результат, нажми на кнопку «Результат». Ты увидишь общее число верных ответов, отметку за тест и таблицу результатов по каждому вопросу.
4. Ты можешь просмотреть свои ошибки, нажав на соответствующую кнопку. Переход от слайда к слайду в режиме просмотра ошибок важно производить по кнопкам в нижнем правом углу слайда.
5. Если хочешь повторить тест, то обнули результат (кнопка «Сброс результатов») и нажми на кнопку «Повторить тест».



Для какого из перечисленных регионов России характерен миграционный приток населения?

Краснодарский край 

Камчатский край 

Магаданская область 

Мурманская область 



Для какого из перечисленных регионов России характерен миграционный отток населения?



Орловская область



Ставропольский край



Воронежская область



Камчатский край



Из перечисленных народов полной депортации (насильственному переселению) в 1930-1940-е годы подверглись:



удмурты



черкесы



ингуши



тувинцы



Укажите субъект РФ, из которого в 1990-е годы направлялись потоки беженцев в соседние регионы России:



Республика Чувашия



Чеченская республика



Республика Карелия



Республика Татарстан



Определите направления миграционных потоков, которое было характерно для России до начала 1990-х годов:



Из Украины в Центральную Россию.



С Дальнего Востока в Центральную Россию.



Из Центральной России в северные и восточные районы России.



С севера Сибири на юг Сибири



Укажите субъект РФ, имеющий в настоящее время положительное сальдо миграций:



Тверская область



Ростовская область



Омская область



Иркутская область



Укажите субъект РФ, имеющий в настоящее время отрицательное сальдо миграций:



Ставропольский край



Краснодарский край



Магаданская область



Ростовская область



Поездки студентов из пригородных поселений в город на учёбу – это миграции:



безвозвратные



маятниковые



сезонные



нерегулярные



В каком из следующих высказываний содержится информация о миграции населения?



В последние десятилетия массовыми стали переселения горожан в сельскую местность



Наиболее крупные сельские населённые пункты характерны для юга Европейской части России.



Территории больших городов быстро расширяются. Близко расположенные агломерации сливаются, образуя мегалополисы.



В 90-х годах XX века темпы роста численности населения стабилизировались.



В каком из следующих высказываний содержится информация о миграции населения?



В России в конце XIX века на 1000 жителей ежегодно рождалось 50 человек, а умирало 35.



В России число больших городов увеличивается, возникают городские агломерации.



В настоящее время в России на рынке труда увеличивается потребность в рабочей силе.



После распада СССР русскоязычное население из бывших союзных республик стало перрезжать в Россию.



Подведём итоги

Верных ответов

Отметка

1	2	3	4	5	6	7	8	9	10
<u>В</u>	<u>В</u>	<u>В</u>	<u>В</u>	<u>В</u>	<u>В</u>	<u>В</u>	<u>В</u>	<u>В</u>	<u>В</u>

[Просмотр ошибок](#)