



Они подарили радость детям



**Жёлтая сказка осени
заканчивалась, приближалась
зима...**



«Новогодние приключения Винни-Пуха и его друзей»

Математическая сказка.



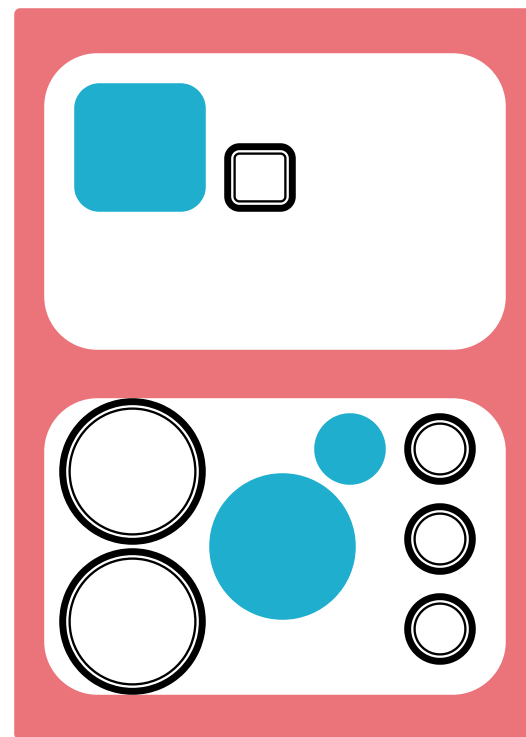
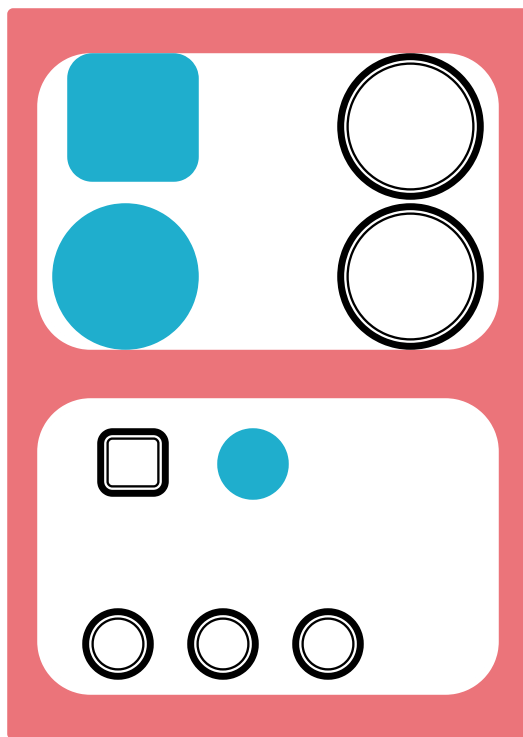

**Повезло же Винни-Пуху,
У реки сидит не зря:
5 карасиков в ведёрке и 4 пескаря**



Тема урока: «Состав числа 9»

Разбейте фигуры на группы:

- а) по цвету; б) по размеру; в) по форме.



СДЕЛАЙ СНЕГОВИКА!



Логические задачи

1. Винни-Пух поселился в квартире на 2-м этаже девятиэтажного дома, потом он захотел жить повыше и перевернул дом.
На каком этаже теперь живёт Винни-Пух?
2. В вазе лежат фрукты, в том числе 2 яблока.
За обедом друзья Винни-Пуха съели все фрукты.
Сколько яблок съели за обедом?

	9
	8
	7
	6
	5
	4
	3
Винни - Пух	2
	1


	9
	8 Винни- Пух
	7
	6
	5
	4
	3
	2
	1

«Пора наряжать ёлку!»-подумал Винни-Пух.



Наряди ёлку!


Где нарушена закономерность?



Какой игрушки не хватает?



Какой игрушки не хватает?



ФИЗКУЛЬТМИНУТКА

«Мишки! Делаем на «Раз!»
Руки в стороны сейчас.
Ну а дальше, на «Раз-два!»
Закрываем мы глаза.»



ФИЗКУЛЬТМИНУТКА


Сколько звёздочек у нас, мы подпрыгнем столько раз



Сколько ёлочек зелёных, столько сделаем наклонов



Сколько красненьких флажков, столько сделаем хлопков



МАСКАРАД

Какие костюмы приготовил Винни-Пух к Новому году?

Хочешь узнать? Заполни таблицу

«Состав числа 9»

8	2	6	4	5	3	7	1
1	7	3	5	4	6	2	8

Мышонок, Пятачок, Дракоша.



8	2	6	4	5	3	7	1
1	7	3	5	4	6	2	8

Постарайся запомнить!

$$8+1=9$$

$$7+2=9$$

$$6+3=9$$

$$5+4=9$$

$$1+8=9$$

$$2+7=9$$


$$3+6=9$$

$$4+5=9$$

Проверь себя!

Самостоятельная работа.

С.52 №98.Разбей круги на две группы разными способами и запиши верные равенства под каждым примером.



Какое у вас настроение?



«Желаю удачи! Любите математику!»



Вот и сказке конец!

