


Урок математики в 3 классе

Учитель МОУ
лицей №1
г. Цимлянска:
Бугаёвой Н.И.



Тема урока: ПОРЯДОК ДЕЙСТВИЙ

- Решение примеров
на порядок действий
- Решение задач



Устный счёт

А) 5, 4, 20

Б) 28, 4, 7

В) 8, 3, 27

Г) 3, 5, 10



Можно ли из данных чисел составить верные равенства?

УСТНЫЙ СЧЁТ

1 2 3 4 5 6 7

8 9 10 11 12

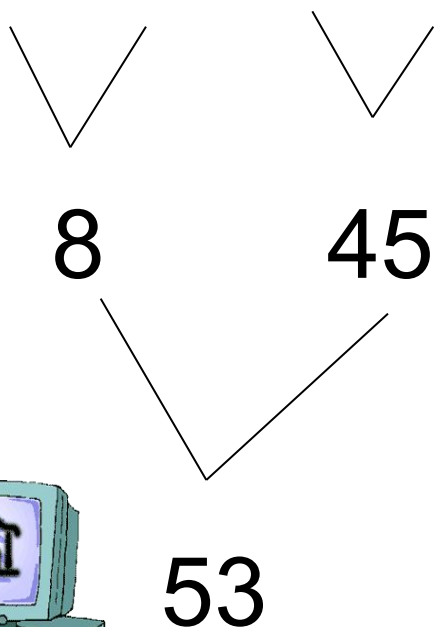
13 14 15



Правильно ли решили свои примеры Миша или Маша?

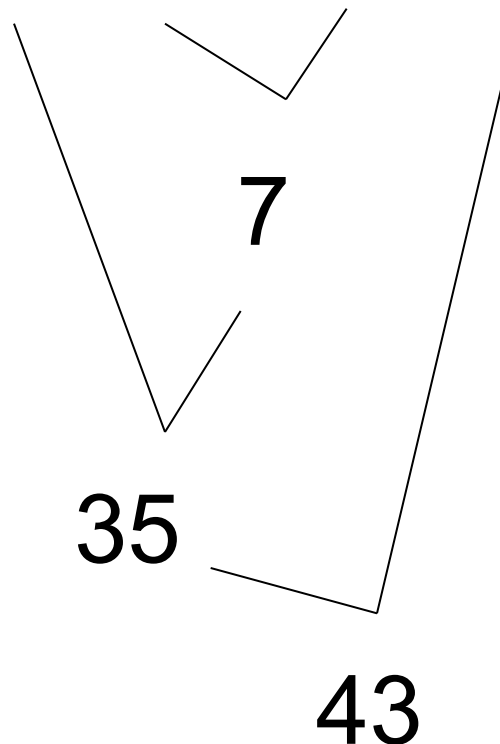
Миша

$$64 : 8 + 9 * 5 = 53$$



Маша

$$42 - 21 : 3 + 8 = 43$$



Решаем вместе



$$\bullet 90 - 54 : 6 * 3 + 12 =$$

$$\bullet 72 : (36 : 4 * 1) - 8 =$$

$$\bullet 46 + (70 - 6) : 8 + 10 =$$





Реши выражения сам. Что ты заметил?

1 вариант

- $5 * 4 + 3 * 8 + 16$
- $5 * 4 + (3 * 8 + 16)$
- $(5 * 4 + 3 * 8) + 16$

2 вариант

$$(72 : 8 + 1) * (15 - 6)$$

$$72 : 8 + 1 * 15 - 6$$

$$72 : (8 + 1) * (15 - 6)$$

Устно – реши задачу



- В первом слове столько же букв, сколько во втором.
- В третьем слове букв столько же, сколько в первом и во втором вместе.
- Сколько всего букв в трёх словах, если в третьем их 8?

Устный счёт

№ 253

Класс	 Количество	деревьев	
1	4	9	9
2	20	18	27
3	30	27	36

Выбери вопрос

48 : 6

- 1) Сколько потребуется лодок, чтобы перевезти туристов?
- 2) Хватит ли трёх лодок?
- 3) Сколько рейсов должна сделать 1 лодка?
- 4) Сколько времени потребуется, чтобы перевезти туристов?




Задача №1

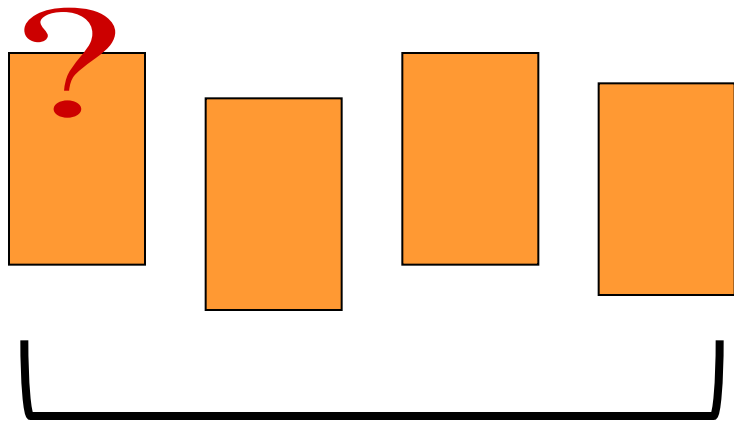
- Митя разложил машинки в **7 коробок.**
- Сколько машинок в каждой коробке, если всего их у него **56?**

56?

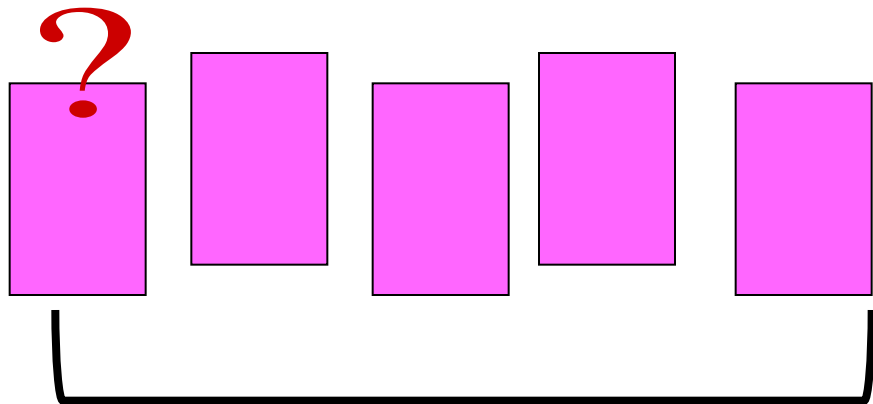
Задача №2

- В клетки рассадили **72 кролика.**
- Сколько понадобилось клеток, если в каждую посадили **по 8 кроликов?**





28 кг



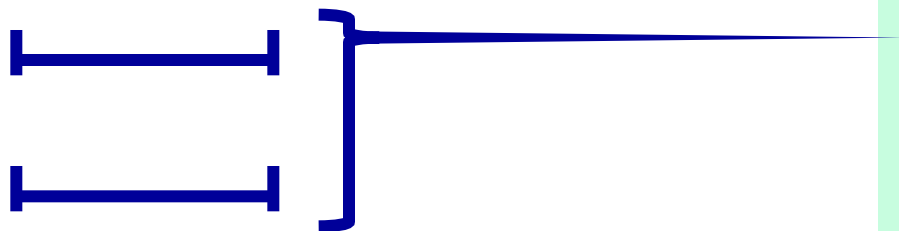
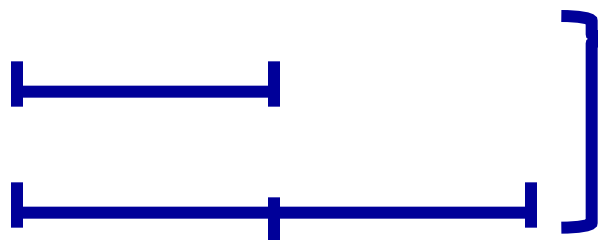

35 кг

Задача №3.

- В **4 пакетах** **28 кг** муки.
- В других **5 пакетах** **35 кг** сахара.
- Что тяжелее - **пакет муки** или **пакет сахара**?



Выбери схему, реши задачу



- В первый день Максим прочитал **7 страниц**, а во второй день – **в 3 раза больше**.
- Сколько страниц прочитал он за 2 дня?



Реши задачу

- Длина пещеры 300 метров.
Туристы прошли 100 метров.
- Во сколько пройденный путь меньше оставшегося?

