



αρκ



Дорогие ребята!

Наши представления отменяются. Карабас Барабас запретил нам выступать, потому что наши артисты не умеют ни считать, ни писать правильно цифры и не умеют решать задачи. Злой Карабас Барабас очень на нас рассердился и закрыл цирк. Помогите нам, ребята овладеть этими знаниями. Тогда злой волшебник пообереет и откроет для всех двери цирка.

Ваши друзья.







- ❖ Посчитать от 5 до 9; от 7 до 3; от 10 до 4.
- ❖ Какое число идёт при счёте за числом 3? 6? 9?
- ❖ Какое число идёт перед числом 2? 5? 8?
- ❖ Назовите «соседей» чисел 4; 7; 9.






Сравни: больше, меньше или равно.





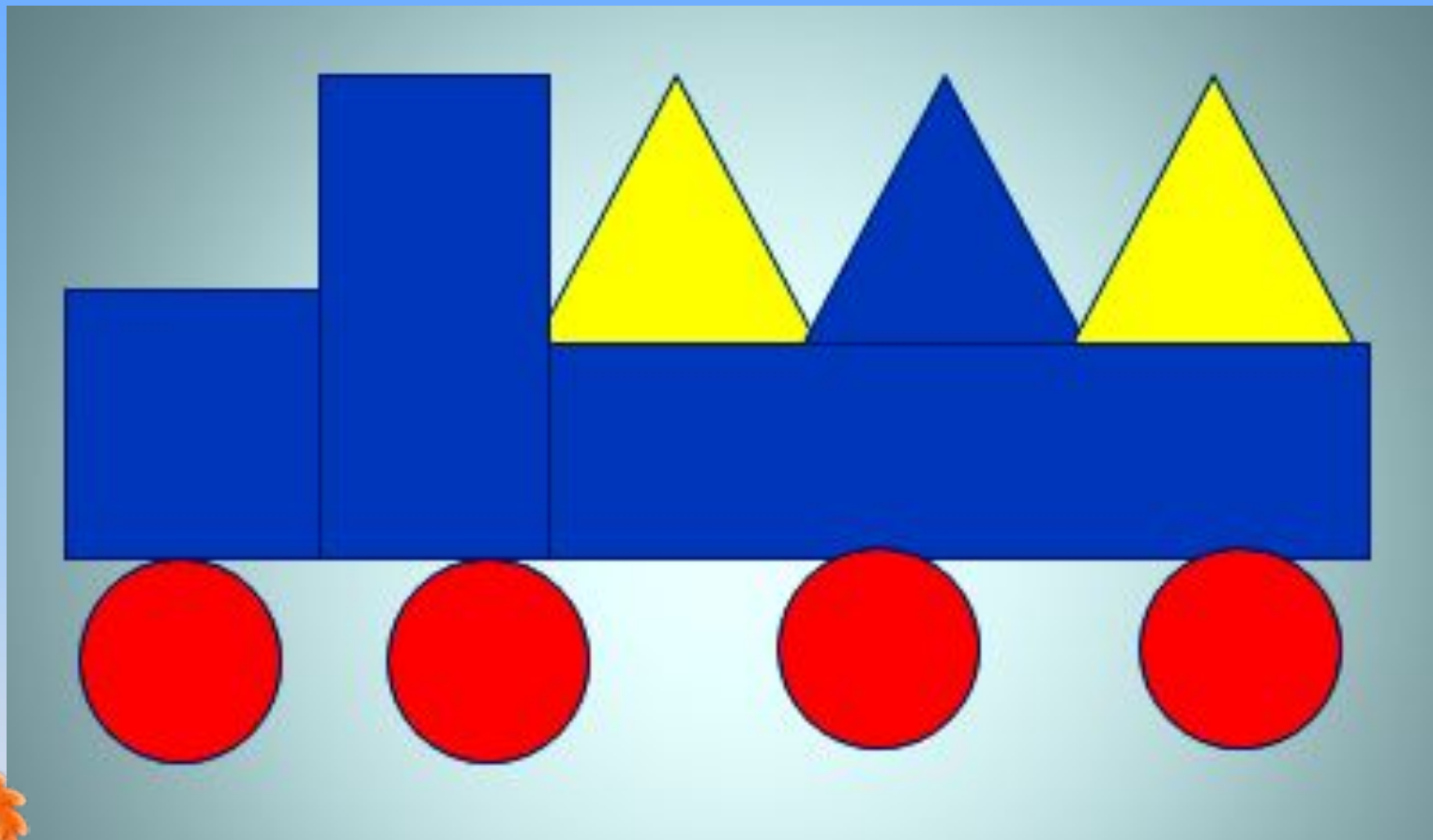
Жонглеры - тюлени



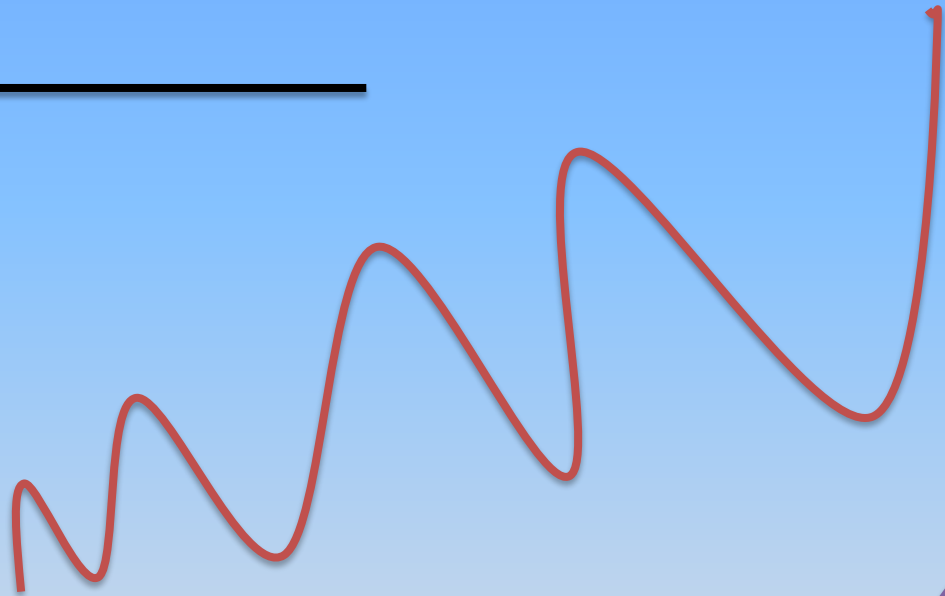


Мульť
Физминутка

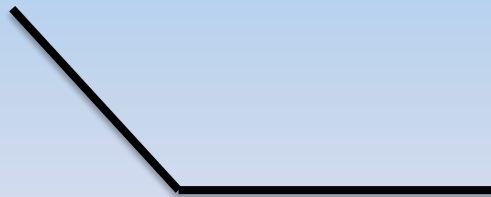

Покажи и назови геометрические фигуры.




Покажи и назови линии.



Покажи и назови углы.




Составь и реши задачу.



Задача от клоуна Петруши

Клоун Яша жонглировал 8 мячами.
На минуту он отвлекся и один мячик упал.
Сколько мячей осталось у Яши?

7



Задача от клоуна Петруши

В аквариуме плавали 4 золотые рыбки,
Но пришел кот Васька с удочкой и поймал
одну рыбку на крючок.

Сколько рыбок плавает в аквариуме?

3



Канатоходцы





$$2+2 =$$





$$3 + 2 =$$





$$4 - 1 =$$





$$7 - 0 =$$



Канатоходцы





Ресурсы:

Карабас Барабас -

<http://im3-tub-kz.yandex.net/i?id=155950669-27-72&n=21>

Картинка Цирк - <http://im7-tub-kz.yandex.net/i?id=224557975-39-72&n=21>

Клоун - <http://im6-tub-kz.yandex.net/i?id=392682109-64-72&n=21>

Клоун с шариками - <http://priroda.inc.ru/animation/zirk/zirkus164.gif>

Слоник на шаре - <http://priroda.inc.ru/animation/zirk/3.gif>

Канатоходцы - <http://priroda.inc.ru/animation/zirk/Zirkus123.gif>

Видеоролик «Слоны и мячи» - http://youtu.be/icz3bLpQV_k

Физминутка с мультяшками - <http://pedsovet.su/load/244-1-0-6984>

Подготовила: Шумайлова Л.Н.

Учитель предшколы

ГУ «Джалтырская СШ №2»