

УРОК МАТЕМАТИКИ

В 3 КЛАССЕ

**РЕШЕНИЕ ЗАДАЧ
(ОБОБЩЕНИЕ)**

Из опыта работы
учителя начальных классов
МАОУ – Лицей № 62 г. Саратова
Янковой Ирины Викторовны

Саратов 2011г

УСТНЫЕ ВЫЧИСЛЕНИЯ

$$37 \cdot 2$$

$$75 : 3$$

$$90 : 45$$

$$80 : 20$$

$$60 : 4$$

$$81 : 3$$

УСТНЫЕ ВЫЧИСЛЕНИЯ

$48 : 3$

$40 \cdot 6$

$29 \cdot 8$

$49 \cdot 3$

$18 \cdot 4$

$39 \cdot 6$

МАГИЧЕСКИЙ КВАДРАТ

12	28	8
11	4	33
25	16	7

48

$$41 - 36 : X = 29$$

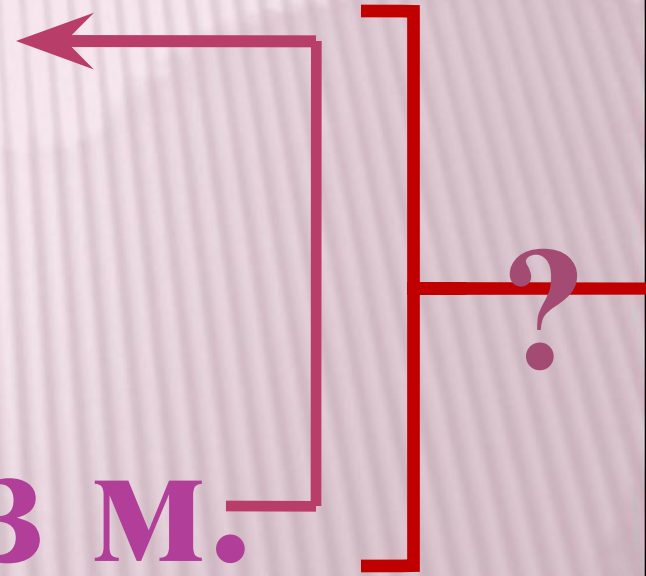
СОСТАВИТЬ ЗАДАЧУ



□ 72 шт.



□ ?, в 6 раз м.



РЕШИ ЗАДАЧУ.

- ▣ В пруду плавало 23 утки, лебедей 28 птиц, а чаек в 3 раза меньше, чем уток и лебедей вместе.
- ▣ Сколько всего птиц плавало в пруду?

РЕШИ ЗАДАЧУ



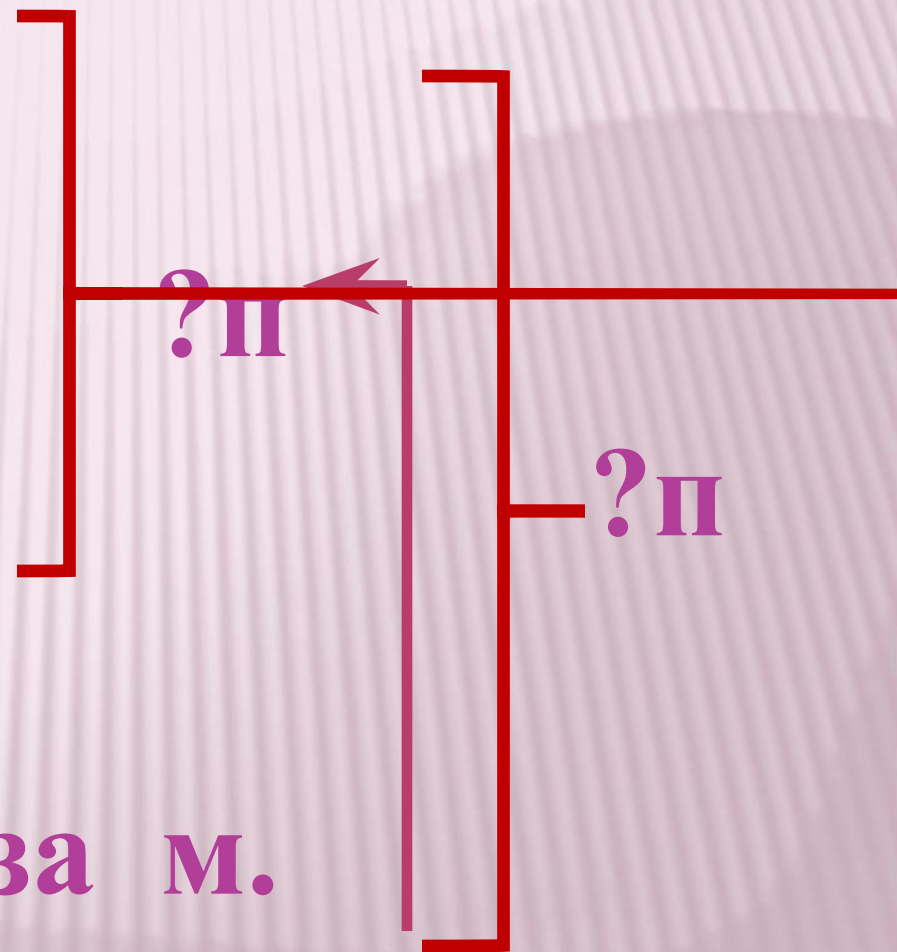
□ 23 п.



- 28 п.



□ ? в 3 раза м.

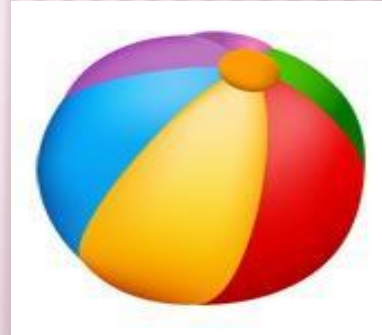



ФИЗМИНУТКА ДЛЯ ГЛАЗ



Клоунада

































Молодцы!







Ребята, берегите здоровье!



РЕШИ ЗАДАЧУ

- ▣ На лесную поляну прибежало 25 бельчат, зайчат в 3 раза больше, чем бельчат, а медвежат в 20 раз меньше, чем бельчат и зайчат вместе.
- ▣ Сколько всего животных прибежало на поляну?

РЕШИ ЗАДАЧУ



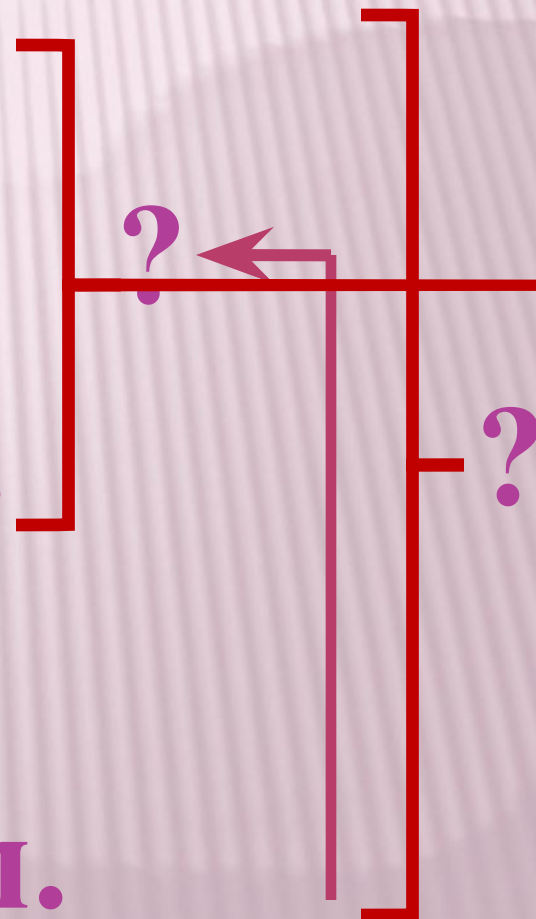
□ 25 шт.



□ ?, в 3 раза б.



□ ?, в 20 раз м.



СОСТАВИТЬ ЗАДАЧУ

Было – 10г. 8в.

Улетело – ?п.

Осталось - 3п.

$$10+8=18(\text{п.})$$

$$18-3=15 (\text{п.})$$

Было – ?п.

Улетело – 15п. 8п.

Осталось - 7п.

$$15 + 8=23(\text{п.})$$

$$23+7=30 (\text{п.})$$

НАЙТИ P И S ПРЯМОУГОЛЬНИКА.

**Длина прямоугольника 12 см,
ширина на 4 см меньше
Чему равен P и S прямоуголь-
ника?**