

«КАЖДЫЙ ДЕНЬ
ЖИЗНИ ПРИБАВЛЯЕТ
ЧАСТИЧКУ
МУДРОСТИ».

учитель начальных классов

МОУ «СОШ №44»

Василькова Наталия Ивановна

9 000	30 900	40	37 707
У	Р	Б	А

79 999	80 000	480 000	99 999 999
Т	И	Н	О


БУРАТИНО



Задай общим свойством
множество $V = \{ \text{Мальвина,}$
 $\text{Пьеро, Буратино, Артемон,}$
 $\text{Арлекин,} \}$




1. Пользуясь диаграммой множеств C и D, поставь знак **или** : \in или \notin



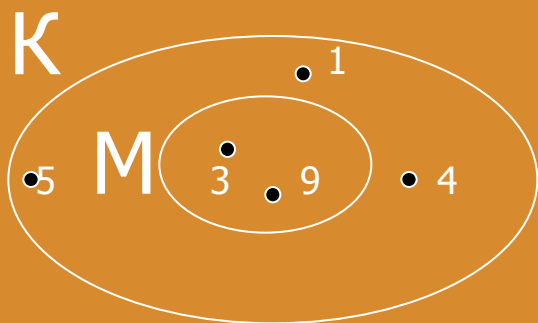
2. На диаграмме множества B отметь элементы 7, a, m, 12, \cup , * , если известно, что:

$7 \in B$ $m \in B$ $\cup \in B$
 $a \notin B$ $12 \notin B$ $* \notin B$



3.

а) Запиши из каких элементов состоят множества K и M :



$M =$ _____

$K =$ _____

б) Подчеркни верные записи:

$K \subset M$

$5 \notin M$

$3 \in K$

$M \subset K$

$5 \notin M$

$3 \subset K$

$$507 \text{ км} = \dots \text{ см}$$

$$126 \text{ дм} = \dots \text{ мм}$$

$$9 \text{ км } 036 \text{ м} = \dots \text{ см}$$

$$6 \text{ ц } 5 \text{ кг} = \dots \text{ кг}$$

$$80 \text{ т } 4 \text{ ц } 60 \text{ кг} = \dots \text{ кг}$$



Составь программу действий и
вычисли:

$$(9 \cdot 6 + 2) : 8 + (4 \cdot 5 \cdot 3) : 12 - (21 - 12) : 7 =$$

$$80160 \cdot 300 =$$

$$36816 : 7 =$$

$$200 \cdot 936 =$$

$$4039 : 7 =$$

Математическая разминка

Запиши выражения и прочитай их, называя вначале последнее действие:

- 1) Сумму чисел a и b умножить на разность чисел c и d .
- 2) Из частного чисел m и n вычесть число k .
- 3) К произведению чисел a и c прибавить частное x и y .
- 4) Разность чисел b и m разделить на произведение чисел k и t .

Блицтурнир

а) В одном аквариуме a рыбок, а в другом в 4 раза меньше. На сколько рыбок в первом аквариуме больше, чем во втором?

б) Торт стоит b руб., а пирог — на c руб. меньше, Во сколько раз пирог дешевле торта?

в) В мешке было m кг яблок, Из него брали 10 дней по n кг. Сколько яблок ещё осталось в мешке?

г) На костюм идёт x м ткани, а на платье — um . Сколько ткани нужно, чтобы сшить 2 костюма и 3 платья?

д) В одной коробке d карандашей, во второй на 5 карандашей, чем в первой, а в третьей в 2 раза больше, чем во второй. Сколько карандашей в трёх коробках?

а) В одном аквариуме a рыбок, а в другом в 4 раза меньше. На сколько рыбок в первом аквариуме больше, чем во втором?	$a - a : 4$
б) Торт стоит b руб., а пирог — на c руб. меньше, Во сколько раз пирог дешевле торта?	$b : (b - c)$
в) В мешке было m кг яблок, Из него брали 10 дней по n кг. Сколько яблок ещё осталось в мешке?	$m - 10 \cdot n$
г) На костюм идёт x м ткани, а на платье — $ум$. Сколько ткани нужно, чтобы сшить 2 костюма и 3 платья?	$2 \cdot x + 3 \cdot x$
д) В одной коробке d карандашей, во второй на 5 карандашей, чем в первой, а в третьей в 2 раза больше, чем во второй. Сколько карандашей в трёх коробках?	$d + (d - 5) + ((d - 5) \cdot 2)$



Мальвина, Пьеро и Артемон бежали от Карабаса – Барабаса три дня и прошли 186 км. В первый день они прошли 85 км, во второй день в 5 раз меньше. На сколько больше километров прошли куклы в третий день, чем во второй?




6 дм

4 дм

5 дм

3 дм



Реши примеры и расшифруй «волшебное слово». Отгадай, кто их говорил?

Ф	$48 - 38$	Р	$28 : 4 \cdot 30$	К	$15 \cdot 4 : 10$
А	$54 + 9$	У	$450 : 5 \cdot 2$	Ч	$560 : 7 \cdot 4$
Л	$70 - 14$	М	$81 : 9 \cdot 80$	И	$50 \cdot 60 : 100$
Т	$24 + 36$	П	$400 \cdot 2 : 100$	Б	$45 : (13 - 4)$
Е	$27 + 18$	О	$140 : 70 \cdot 10$	С	$8 \cdot 8 - 6 \cdot 7$

6	210	45	6	22

10	45	6	22

8	45	6	22

Ответ:

6	210	45	6	22
К	Р	Е	К	С

10	45	6	22
Ф	Е	К	С

8	45	6	22
П	Е	К	С

СПАСИБО ЗА УРОК!

