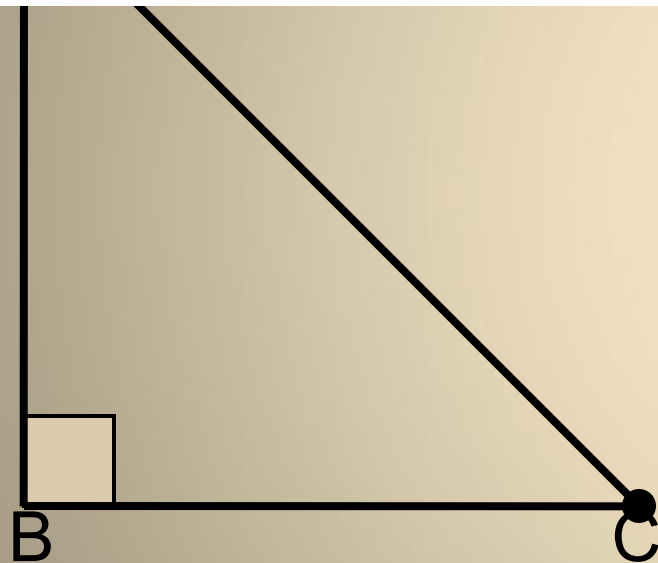
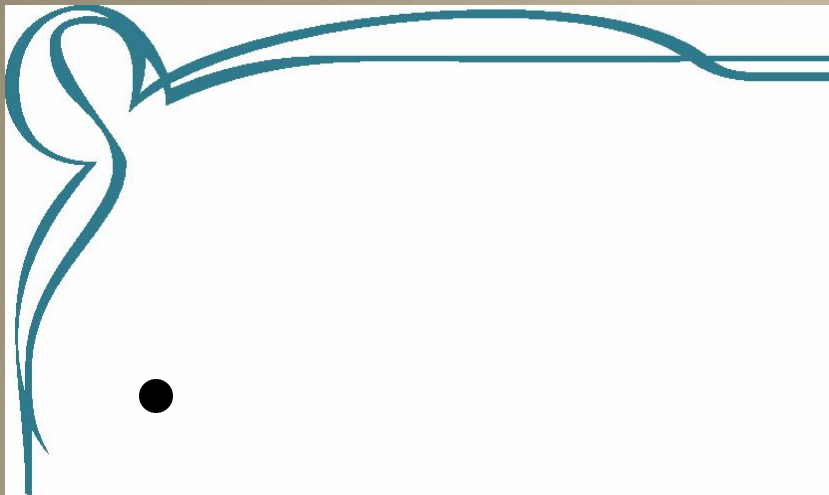


тение

**синуса, косинуса, тангенса
острого угла
прямоугольного
треугольника**

Выполнила:
учитель математики
МОУ СОШ №43 г. Твери
Девяткина Ю.В.



Укажите:

- ❖ катет, противолежащий углу C ,
- ❖ катет, прилежащий к углу C ,
- ❖ катет, противолежащий углу A ,
- ❖ катет, прилежащий к углу A .

Определения синуса, косинуса, тангенса.

- ❖ Синусом острого угла прямоугольного треугольника называется отношение противолежащего катета к гипотенузе:

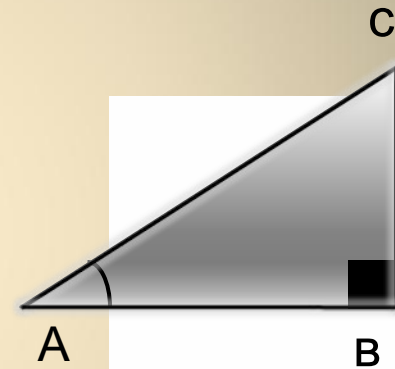
$$\sin A = \frac{BC}{AC}$$

- ❖ Косинусом острого угла прямоугольного треугольника называется отношение прилежащего катета к гипотенузе:

$$\cos A = \frac{AB}{AC}$$

- ❖ Тангенсом острого угла прямоугольного треугольника называется отношение противолежащего катета к прилежащему катету:

$$\operatorname{tg} A = \frac{BC}{AB}$$



$$\sin \alpha = \frac{\text{противолежащий катет}}{\text{гипотенуза}}$$

$$\cos \alpha = \frac{\text{прилежащий катет}}{\text{гипотенуза}}$$

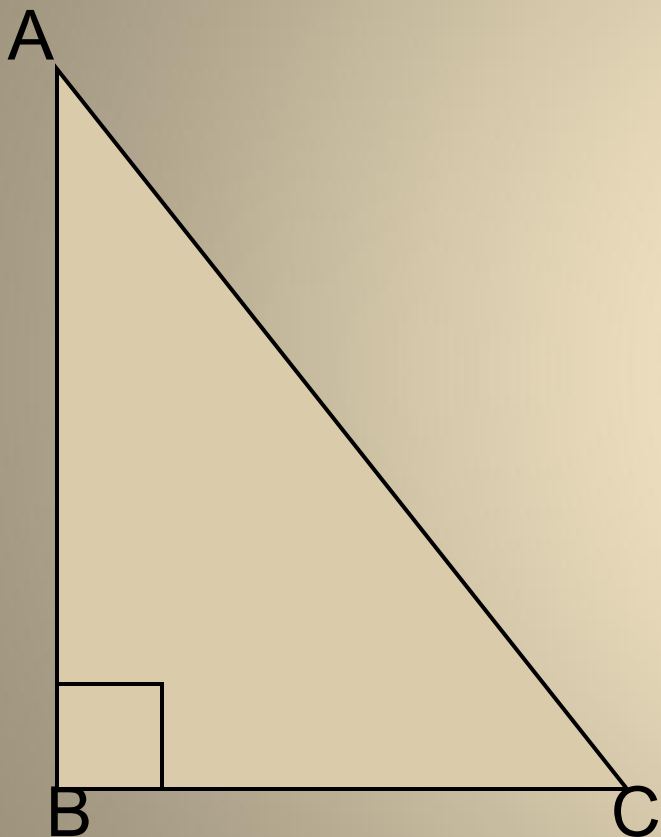
$$\operatorname{tg} \alpha = \frac{\text{противолежащий катет}}{\text{прилежащий катет}}$$

- Что показывает отношение двух чисел ?
- Что показывает синус острого угла ?
- Что показывает косинус острого угла ?
- Что показывает тангенс острого угла ?

Значения

синуса,
косинуса,
тангенса
не зависят
от длин
сторон
треугольника

Запишите значения тригонометрических функций угла A и угла C прямоугольного треугольника ABC ($\angle B=90^\circ$).



$$\sin A = \frac{BC}{AC}$$


$$\sin C = \frac{AB}{AC}$$

$$\cos A = \frac{AB}{AC}$$

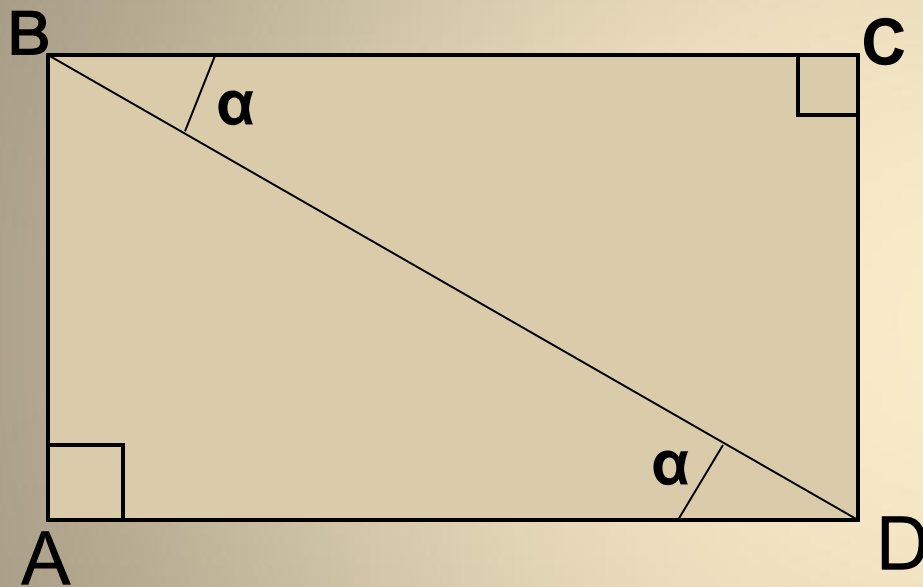
$$\cos C = \frac{BC}{AC}$$

$$\operatorname{tg} A = \frac{BC}{AB}$$

$$\operatorname{tg} C = \frac{AB}{BC}$$



Запишите значения синуса, косинуса, тангенса угла α .



$B_{\triangle}BCD$:

$$\sin \alpha = CD/BD$$

$$\cos \alpha = BC/BD$$


$$\operatorname{tg} \alpha = CD/BC$$

$B_{\triangle}BAD$:

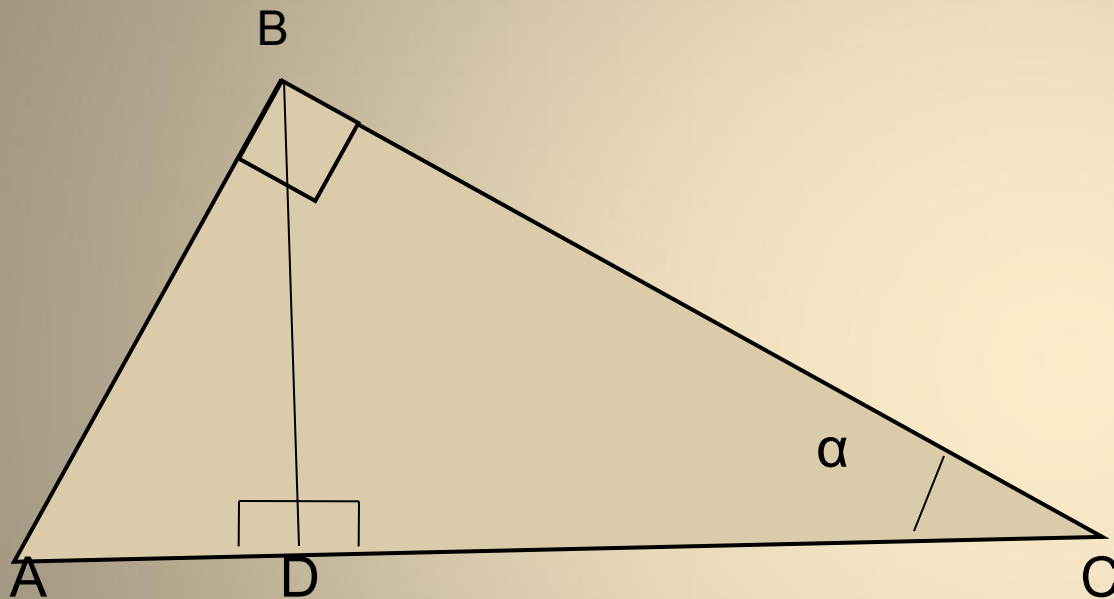
$$\sin \alpha = BA/BD$$

$$\cos \alpha = AD/BD$$

$$\operatorname{tg} \alpha = BA/AD$$



Запишите значения синуса, косинуса, тангенса угла α .



$\triangle BCA$:

$$\sin \alpha = AB/AC$$

$$\cos \alpha = BC/AC$$


$$\operatorname{tg} \alpha = AB/BC$$

$\triangle BCD$:

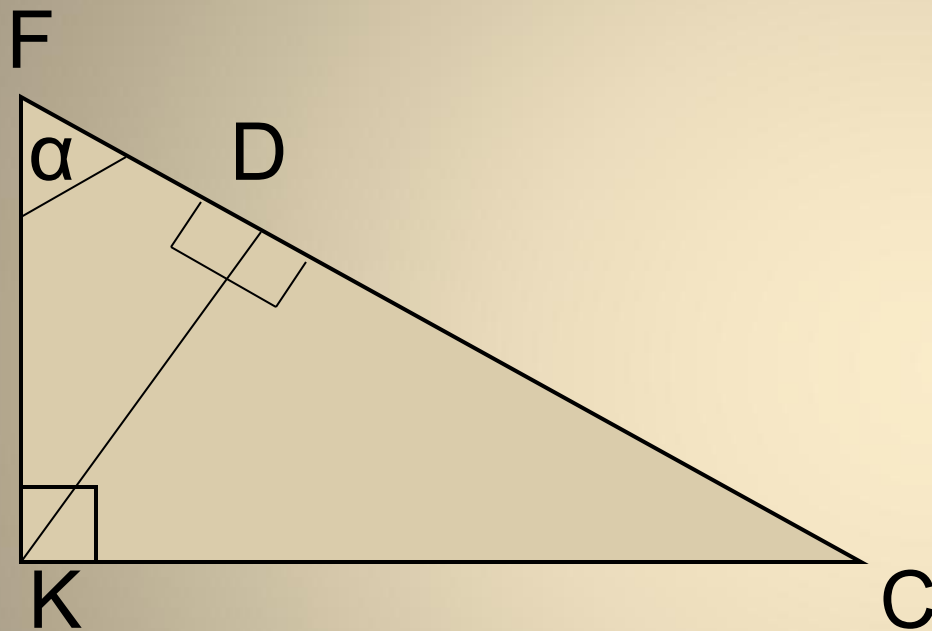
$$\sin \alpha = BD/BC$$

$$\cos \alpha = DC/BC$$

$$\operatorname{tg} \alpha = BD/DC$$



Запишите значения синуса, косинуса, тангенса угла α .



$B_{\triangle FKD}$:

$$\sin \alpha = KD/FK$$

$$\cos \alpha = FD/FK$$


$$\operatorname{tg} \alpha = KD/FD$$

$B_{\triangle FKC}$:

$$\sin \alpha = KC/FC$$

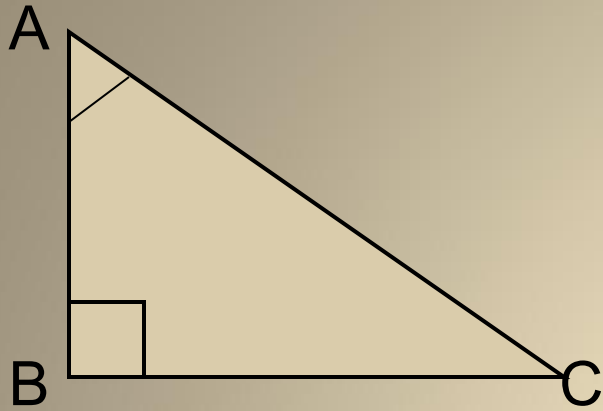
$$\cos \alpha = FK/FC$$

$$\operatorname{tg} \alpha = KC/FK$$



Доказать основные тригонометрические

тождеств $\frac{\sin \alpha}{\cos \alpha}$
 $\operatorname{tg} \alpha = \frac{\sin \alpha}{\cos \alpha}$



$\sin^2 \alpha + \cos^2 \alpha$
Доказательство:

$$\operatorname{tg} A = \frac{\sin A}{\cos A} = \frac{BC}{AC} : \frac{AB}{AC} = \frac{BC \cdot AC}{AC \cdot AB} = \frac{BC}{AB}$$

$$\sin^2 \alpha + \cos^2 \alpha = \frac{BC^2}{AC^2} + \frac{AB^2}{AC^2} = \frac{BC^2 + AB^2}{AC^2} = \frac{AC^2}{AC^2} = 1$$

Тождества доказаны.



N° 591 (а)

Дано: $\triangle ABC$ ($\angle C$ - прямой)

$$BC=8, AB=17$$

Найти: $\sin A$, $\cos A$, $\operatorname{tg} A$,
 $\sin B$, $\cos B$, $\operatorname{tg} B$.

Решение:

1) По теореме Пифагора:

$$AC^2 + CB^2 = AB^2$$

$$AC = 15$$

$$2) \sin A = 8/17$$

$$\sin B = 15/17$$

$$\cos A = 15/17$$

$$\cos B = 8/17$$

$$\operatorname{tg} A = 8/15$$

$$\operatorname{tg} B = 15/8$$

