

*Различные виды
работы при решении задач*

1. Булочка стоит 8 р. Сколько денег надо уплатить за 7 таких булочек?

$$8 \cdot 7 = 56 \text{ (р.)}$$

2. В клетке было 7 белых кроликов, а серых – в 3 раза больше. Сколько серых кроликов в клетке?

$$7 \cdot 3 = 21 \text{ (к.)}$$

3. В одной пачке 56 тетрадей, а в другой – на 7 тетрадей меньше. Сколько тетрадей во второй пачке?

$$56 - 7 = 49 \text{ (т.)}$$

4. В зоопарке 36 лебедей, а уток на 9 больше. Сколько уток в зоопарке?

$$36 + 9 = 45 \text{ (у.)}$$

1. 32 елочных игрушки разложили в 4 коробки.
Сколько игрушек в каждой коробке?

$$32 : 4 = 8 \text{ (игр.)}$$

2. В террариуме 9 черепах, а ящериц в 3 раза меньше.
Сколько ящериц?

$$9 : 3 = 3 \text{ (ящ.)}$$

3. В большой гирлянде 42 лампочки, а в маленькой 7.
На сколько лампочек в маленькой меньше?
На сколько больше?

$$42 - 7 = 35 \text{ (р.)}$$

1. Привезли 27 саженцев яблонь, а груш 9.
Во сколько раз меньше груш?
Во сколько раз больше яблонь?

$$27 : 9 = 3 \text{ (р.)}$$

2. Таня прочитала в первый день 10 страниц,
а во второй – 9, а в третий – 11. Сколько страниц
Таня прочитала за три дня?

$$10 + 9 + 11 = 30 \text{ (с.)}$$

3. В книге 62 страницы.
Таня прочитала утром 12 страниц, вечером 25.
Сколько страниц осталось?


$$62 - 12 - 25 = 25 \text{ (с.)}$$

$$62 - (12 + 25) = 25 \text{ (с.)}$$

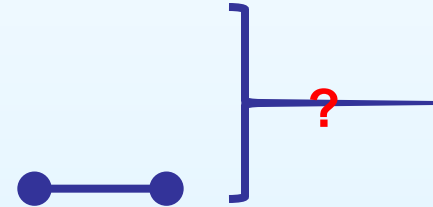
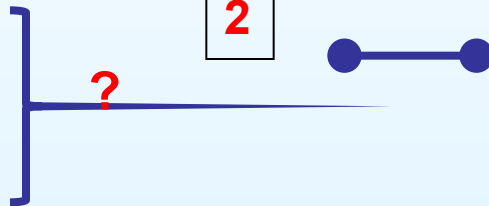
Выбрать схему, соответствующую условию.

В первый день Максим прочитал 7 страниц книги, во второй – в 3 раза больше. Сколько страниц прочитал он за 2 дня?


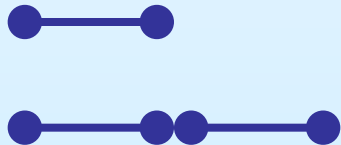
1



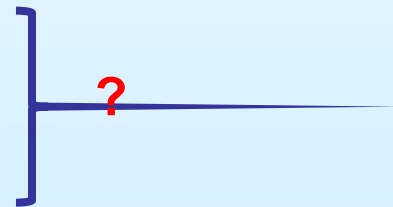
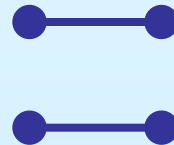
2



3



4



Начертить схему и решить задачу выражением.

В ящике 15 кг винограда, а в пакете в 3 раза меньше. Сколько кг в 4-х пакетах?

15



?



?

$$15 : 3 \cdot 4 = 20$$

(кг)

Объяснить, что обозначают выражения

**В каждом столбике по 5 примеров.
Петя решил 3 столбика. Оля – 4 столбика,
Аня – 2 столбика.**

$$5 \cdot 3$$

$$5 \cdot 4$$

$$5 \cdot 2$$

$$5 \cdot 3 - 5 \cdot 2$$

$$3+4+2$$

$$5 \cdot 3 + 5 \cdot 2 + 5 \cdot$$

4

$$5 \cdot (3 + 2 + 4)$$

$$5 \cdot 4 - 5 \cdot 2$$

$$5 \cdot 3 + 5 \cdot 4$$

Выбрать правильное решение

В первом зале библиотеки 360 книг, во втором в 4 раза меньше, чем в первом, а в третьем на 40 больше, чем во втором. Сколько книг в третьем зале?

$$360 - 4 + 40$$

$$360 : 4 - 40$$

$$360 : 4 + 40$$

$$360 : (4 + 40)$$

Задать вопросы по условию

**Утром собрали 16 ведер картофеля,
днем 32 ведра, вечером – 8.**


Выбрать вопрос к решению

**В классе 21 мальчик,
а девочек в 3 раза меньше.**

$$21 + 21 : 3$$

- 1. Сколько девочек?**
- 2. Сколько мальчиков?**
- 3. Сколько девочек и мальчиков?**
- 4. На сколько больше мальчиков, чем девочек?**

Во сколько раз площадь левого
прямоугольника больше площади
правого прямоугольника?



$$20 : 4 = 5 \text{ р.}$$



$$40 : 8 = 5 \text{ р.}$$

Кто из них прав?
Как рассуждали Маша и Миша?