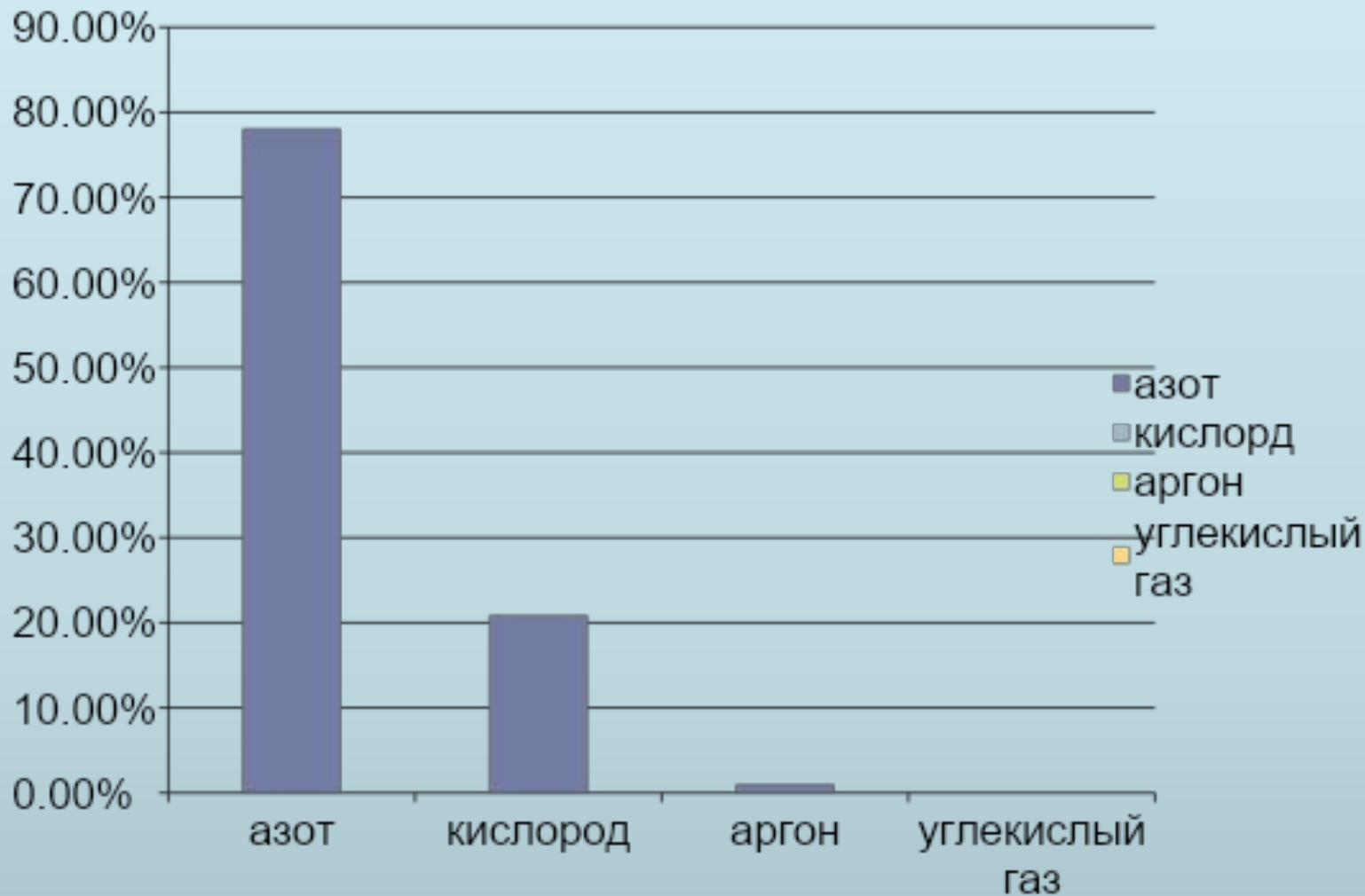


Следы метеорита

- 15 февраля небольшой метеорит пролетел над Челябинском (Россия)



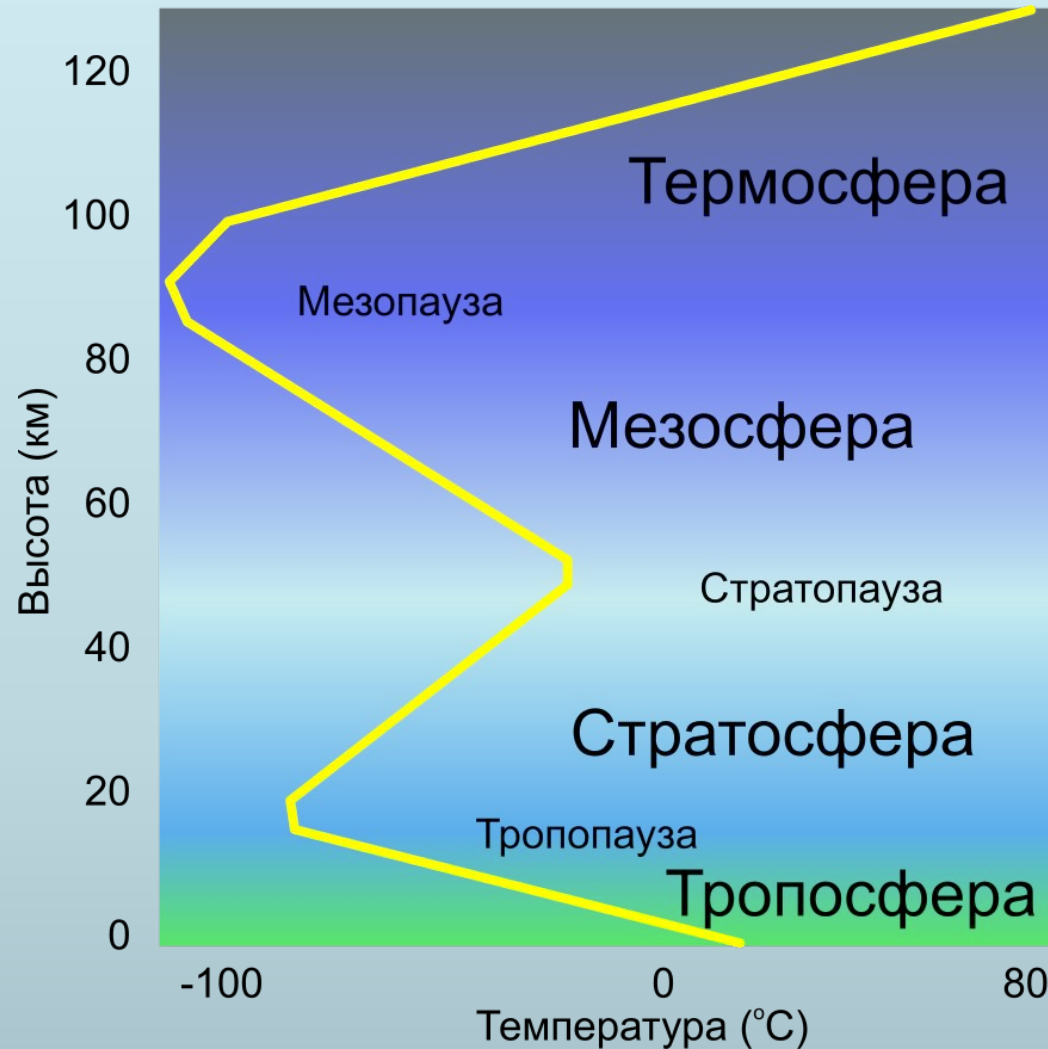
Состав атмосферного воздуха



Строение атмосферы

<i>Слои атмосферы</i>	<i>Верхняя граница (км)</i>	<i>Особенности воздуха</i>	<i>Наличие влаги и облаков</i>	<i>Особенности температуры</i>

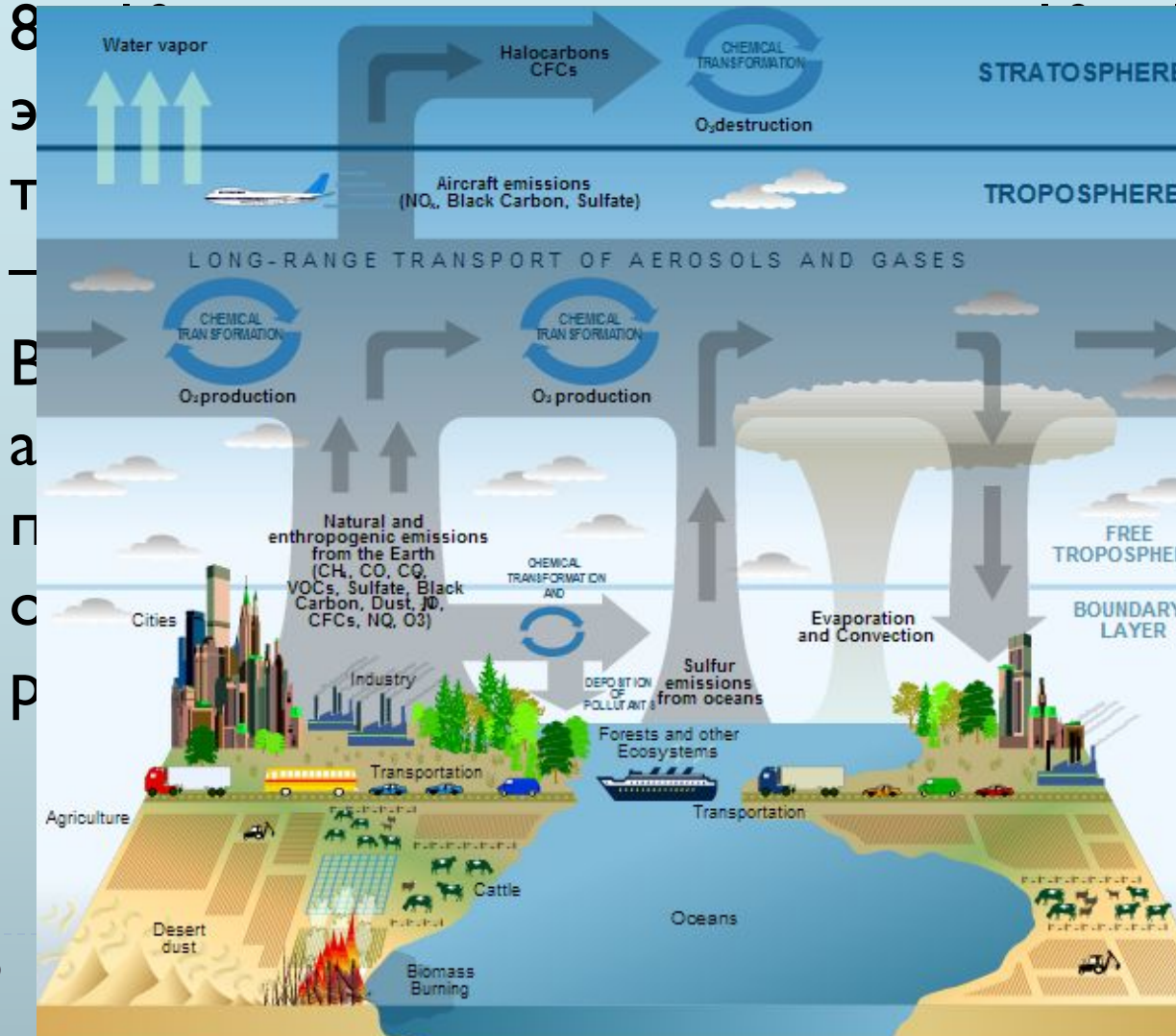
Слои атмосферы



- По своим физическим свойствам существенно отличаются три области атмосферы: тропосфера, стратосфера, ионосфера.

Тропосфера

Тропосфера — это нижняя часть атмосферы, в которой происходит большинство метеорологических процессов.



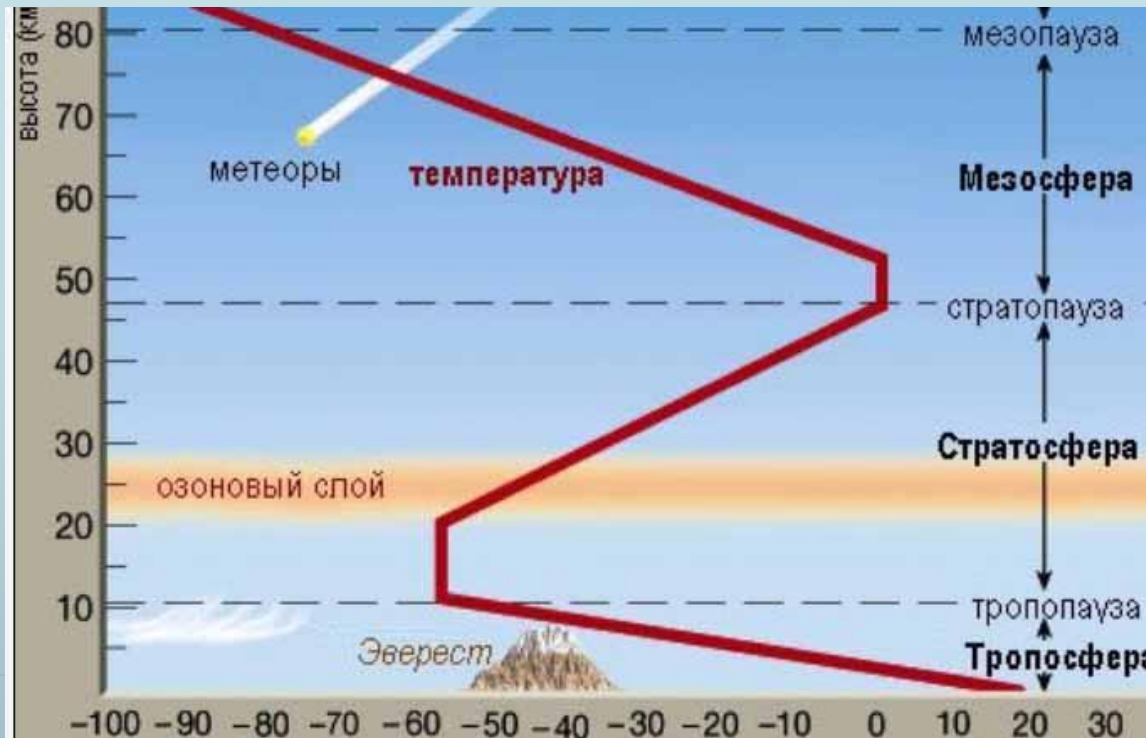
2 км, на тропосфере достигает

всей массы

никают фронты,


Стратосфера

- Слой атмосферы, располагающийся на высоте от 11 до 50 км. Характерно повышение температуры в слое 25—40 км от $-56,5$ до $0,8$ °С. Температура остаётся постоянной до высоты около 55 км. Эта область постоянной температуры называется стратопазузой.



ОЗОНОВЫЙ слой

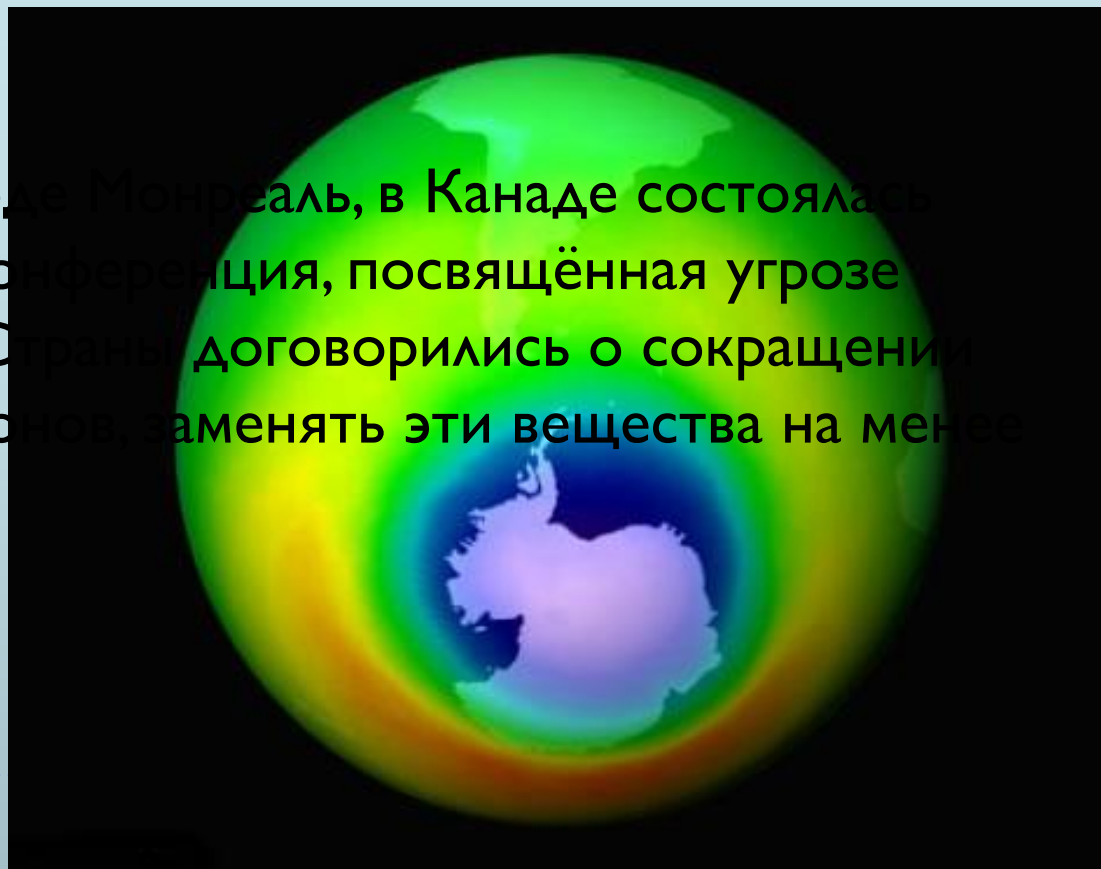
- О...
- 15
- О...
- мл
- за
- из



Озоновые дыры

□ В 80-е годы 20 века учёные заметили уменьшение озона. Было установлено, что наблюдаемое накопление газа фреона в атмосфере может быть причиной разрушения озона.

□ В 1987 году в городе Монреаль, в Канаде состоялась Международная конференция, посвящённая угрозе разрушения озонового слоя. Страны договорились о сокращении производства фреонов и заменять эти вещества на менее безопасные.



Мезосфера

- Слой атмосферы на высотах от 40–50 до 80 км
- Температура в мезосфере падает с высотой
- Мезосфера характеризуется наличием метеороидов, метеоритов, метеорных потоков
- В мезосфере наблюдаются метеоры, метеорные потоки, метеорные showers



0 км

0,

Термосфера


- Так называют слой лежащий над мезосферой до



Проверим заполнение таблицы

<i>Слои атмосферы</i>	<i>Верхняя граница (км)</i>	<i>Особенности слоя</i>	<i>Наличие влаги и облаков</i>	<i>Температура</i>
Тропосфера	8-10 или 16-18 км	Содержит 4/5 всего воздуха	Содержится почти вся влага и много облаков	С высотой понижается, достигая -55°C
Стратосфера	55 км	Содержит разреженный воздух	Очень мало влаги, почти нет облаков	С высотой повышается, достигая 0°C
Верхние слои атмосферы	Примерно 1000 км	Воздуха почти нет	Влаги и облаков нет	Температура с высотой понижается до -270°C

Изучение атмосферы

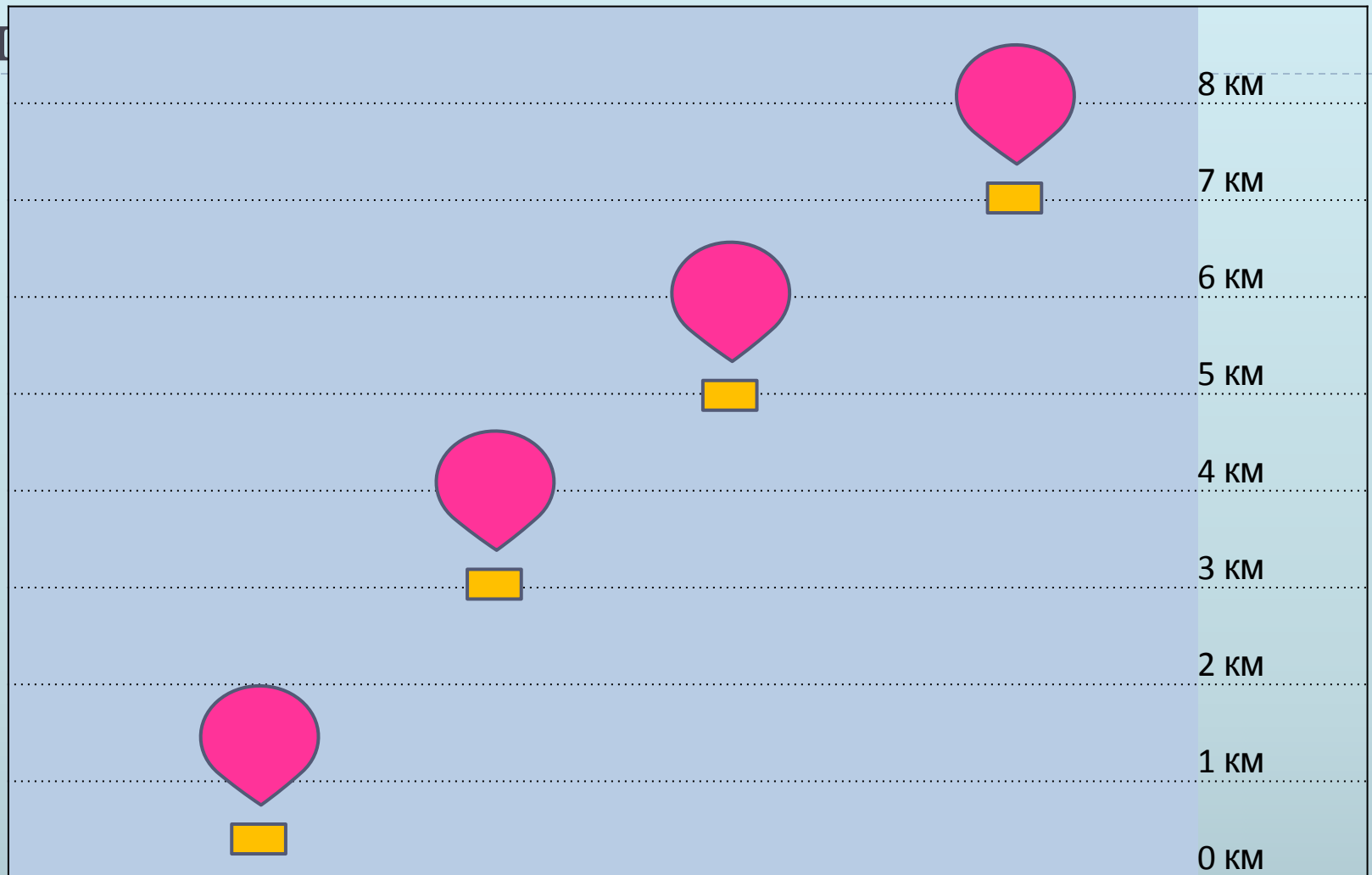


Решение задач на изменение температуры воздуха с высотой.

- **Вертикальный градиент температуры** – это понижение температуры на 0,6 градусов на каждые 100 м.
- Будет ли лежать снег на вершине вулкана Камерун, высота которого - 4100м, если температура воздуха в июле у подножия составляет $+35^{\circ}\text{C}$ градусов?
- 1) Узнаем, сколько раз по 1000 м содержится в 4100 м.
- $4100: 1000 = 4,1$ раз
- 2) На сколько градусов понижается температура с высотой?
- $-6 * 4,1 \text{ раз} = -24,6$ градусов
- 3) Узнаем какая температура на вершине Памира?
 $-24,6 + 36 = 11,4$ градусов
- Снег на вершине Камеруна не будет лежать.

Смоделируем полет на воздушном

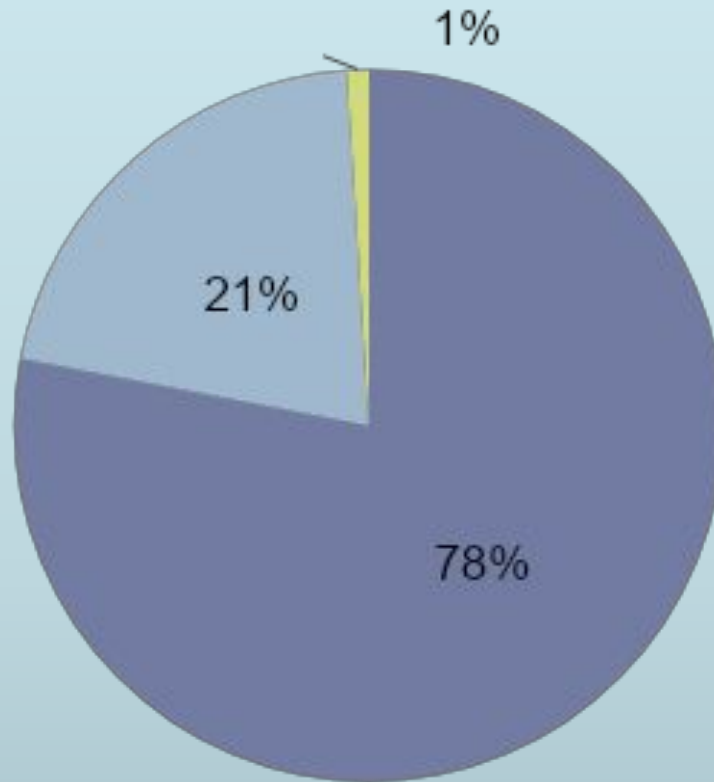
ш



На какой высоте будет находиться воздушный шар, если температура воздуха равна 7°C , -8°C , -20°C , -38°C (при условии, что у поверхности Земли - $+10^{\circ}\text{C}$)

1. Какие газы входят в состав атмосферы?

■ 1-78% ■ 2-21% ■ 3-1% ■ 4-0,03%




2. Найди пару – описание и соответствующий слой атмосферы

Описание	Название слоя
1) Расположен озоновый слой	А.. Тропосфера
2) Наблюдается редкое атмосферное явление - серебристые облака	Б. Стратосфера
3) Содержится наибольшее количество влаги	В. Термосфера
4) Воздух сильно разряжен, наблюдается его свечение (полярные сияния)	Г. Мезосфера

3. Какие приборы и механизмы используются для изучения атмосферы?

- а) Метеорологические станции;
- б) батискафы;
- в) радиозонды;
- г) эхолоты;
- д) сейсмографы;
- е) искусственные спутники Земли;
- ж) метеорологические ракеты;
- з) акваланги;
- и) гидрометеорологические центры.



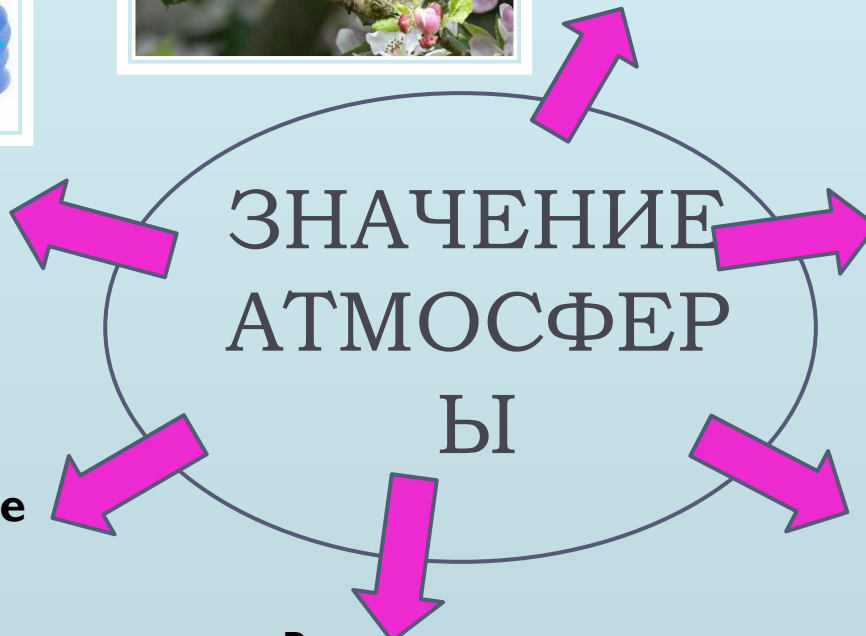
• **Защита от вредных космических излучений**



• **Условие для существования жизни**




• **Защита от метеоритов**



• **Образование осадков, ветра, звука**



• **Выветривание горных пород**



• **Защита от резких колебаний температур**



23 марта – всемирный день метеоролога!

- В честь праздника надуйте воздушные шары и подумайте, а чем отличается воздух внутри шарика от воздуха в помещении?



ДОМАШНЕЕ ЗАДАНИЕ

- § 35, учить
- Найти в Интернете информацию о приборах для измерения атмосферного давления
- Изготовить приборы для изучения состояния атмосферы по инструкции.

Использованные ресурсы

- <http://iwalk.ru/wp-content/uploads/2008/06/sky2.jpg> небо
- <http://www.klassika.ru/stihi/lomonosov/> Ломоносов
- <http://biology.ru/course/content/chapter12/section3/paragraph1/theory.html> биосфера
- <http://osak6.narod.ru/himiya/5.html> содержание кислорода в воздухе (опыт)
- <http://festival.1september.ru/articles/624780/> мышь под колоколом
- <http://www.astrolab.ru/cgi-bin/galery.cgi?id=2&no=1120> парниковый эффект
- <http://www.voprosy-kak-i-pochemu.ru/что-такое-озоновый-слой-i-pochemu-ego-razrushenie-vredno-озоновый-экран> озоновый экран
- <http://topreferat.znate.ru/docs/index-15780.html> строение атмосферы
- http://www.16x10.ru/photo/animals/ptica_na_vetke_cvety_malenkie/4-0-17346 птица на ветке
- <http://twilightsaga.ru/robertpattinson/92-fotografiya-roberta-pattinsona-ot-22-yanvaryaya-2010.html> ливень
- <http://kuzin.multiply.com/reviews> выветривание
- <http://900igr.net/kartinki/astronomija/Komety-3/017-Meteorit.html> метеорит