

Актуализация знаний
учащихся по домашнему
параграфу

1. Определите, к каким океанам относятся течения на схемах 1 и 2?

2. Какая закономерность прослеживается в схемах течений

1



2

3. Какое течение можно считать тёплым? А холодным?

4. Какое значение имеют течения для климата Земли, растений и животных океана?

ВНУТРЕННИЕ ВОДЫ

РЕКИ

БОЛОТ
А

ЛЕДНИ
КИ

ОЗЕРА

ПОДЗЕМН
ЫЕ
ВОДЫ



ТЕМА: Внутренние воды. Реки.

Р е к а

- постоянный водный поток, текущий в выработанном им углублении - русле.

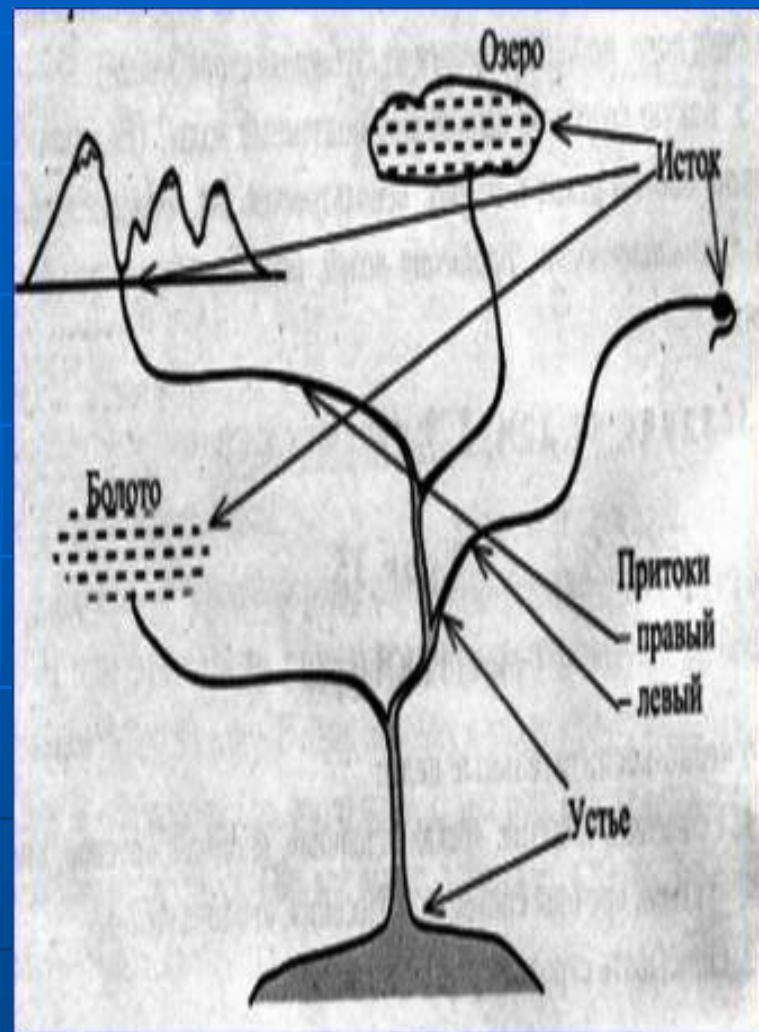
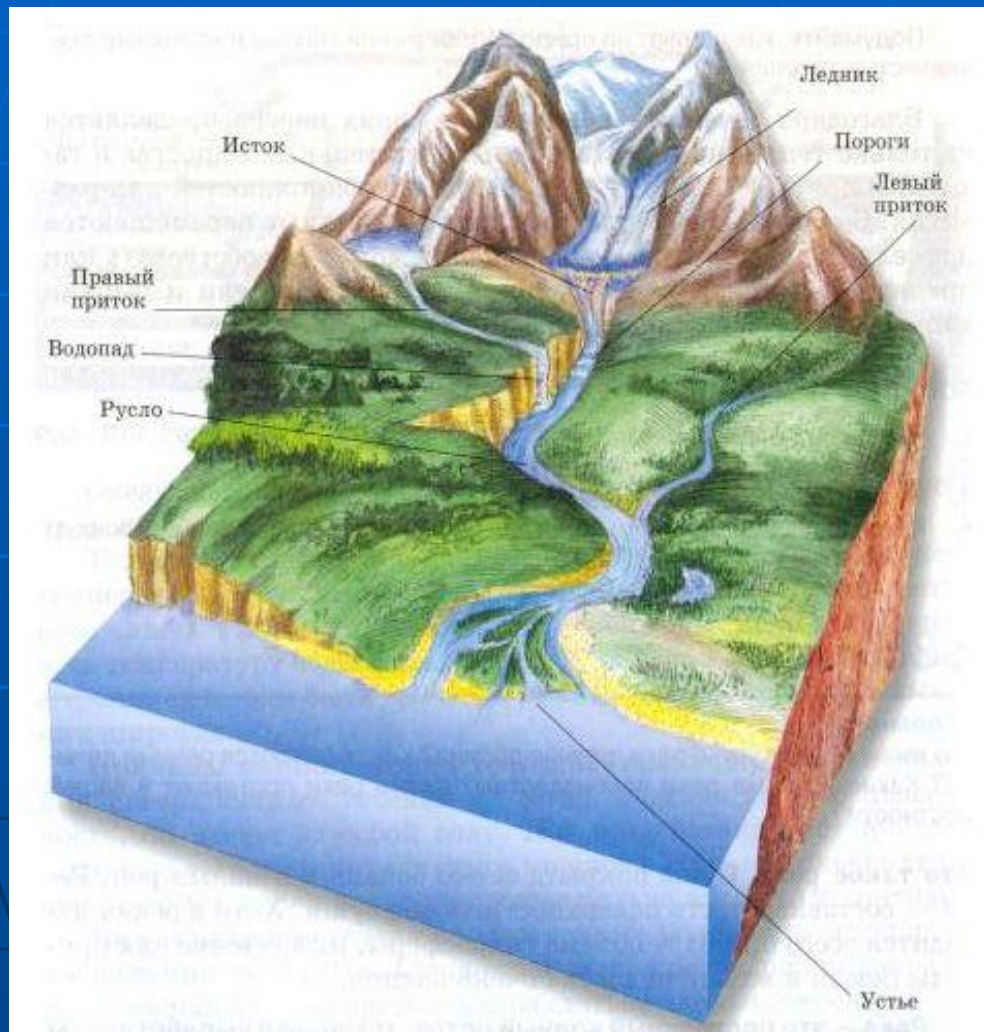


Речная долина -
понижение в
рельефе



Пойма -
возвышенная
над руслом часть
речной долины,
заливаемая водой
во время разлива

Строение реки



Исток – начало реки

Устье- место впадения реки

Ледник

Терек



Море

Дон



Родник

Волга



Река

Иртыш



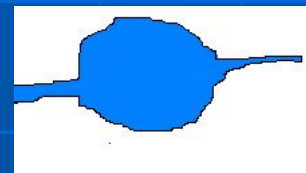
Озеро

Нева



Озеро

Волга



Болото

Тобол



Океан

Амазонка



Реки


Амур

Исток реки Волга

На Валдайской возвышенности среди глухих лесов деревни Волговерховье в Тверской области зарождается великая русская река Волга.

**Вот отсюда, именно отсюда,
Из глубин лесного родника
Выбегает голубое чудо**

Русская великая река Н. Палькин



Устье рек могут иметь разную форму

Выделяют два типа устьев

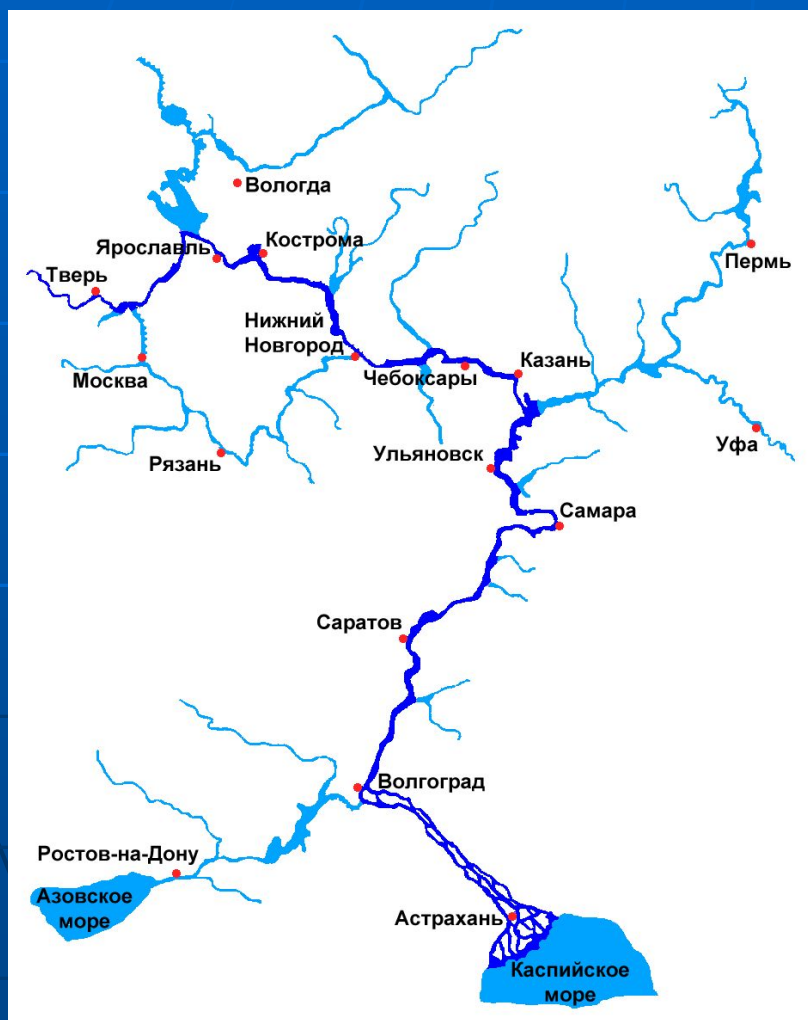
Дельта –
устье в виде низменной
равнины, сложенной
речными наносами,
изрезанная протоками
(Волга, Нил)



Эстуарий –
воронкообразный залив в
устье реки, глубоко
вдающейся в долину
(Амазонка, Янцзы)



Правило определения правого и левого притока



1. Встать лицом к устью реки (вниз по течению);
2. Если река впадает справа – это правый приток.
3. Если река впадает слева – это левый приток.

Задание:

1. ***Каким притоком у Волги является река Кама?***
2. ***Каким притоком у Оби является Иртыш?***

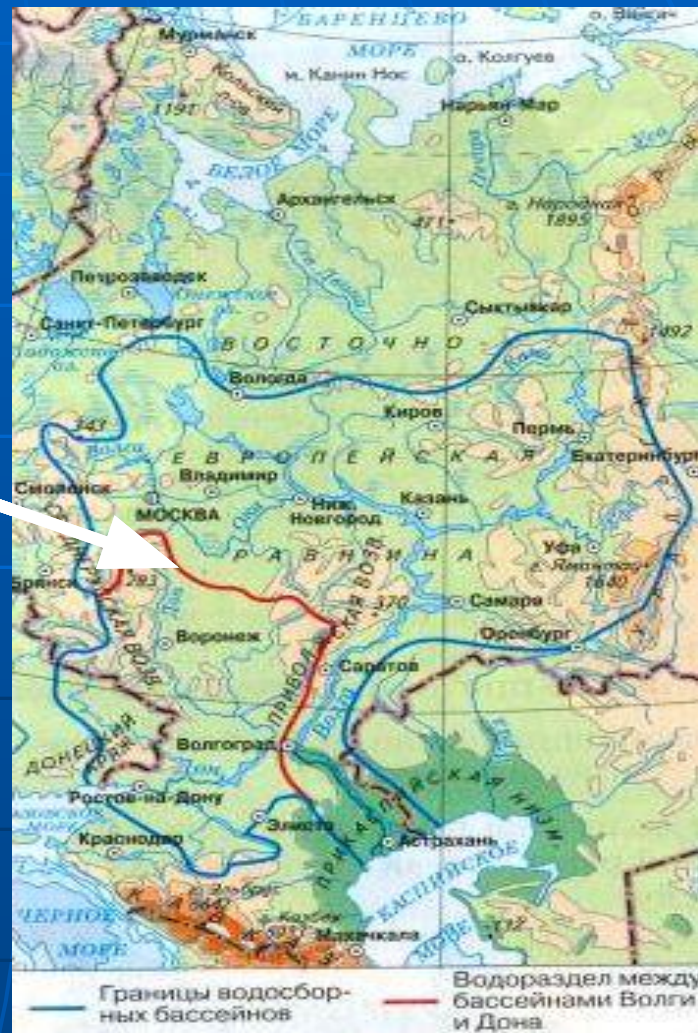
*Речная система-река
вместе с впадающими
в неё притоками.*

*Речной бассейн- площадь
суши, с которой стекает
вода к главной реке и ее
притокам.*

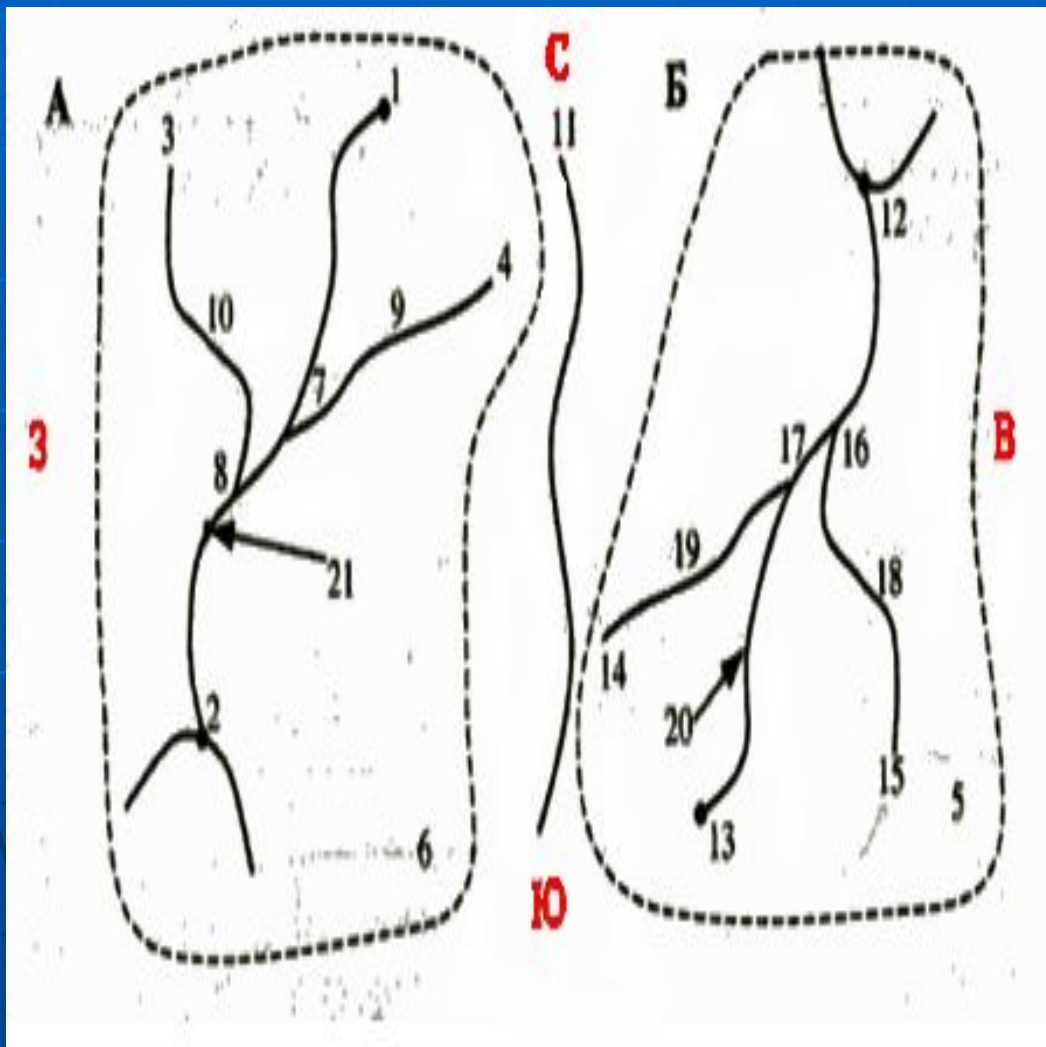


Водораздел

*- линия
раздела
речных
бассейнов*



Проверь себя



1. Укажи на каком рисунке (А или Б) река течет в направлении с С на Ю?
2. На каком рисунке (А или Б) рельеф понижается в северном направлении?
3. Укажи номера всех источников на рисунке Б.
4. Укажи номера всех устьев на рисунке А.
5. Укажи номера всех правых (левых) притоков.
6. Запиши, что обозначает №11?
7. Укажи номер бассейнов.
8. Укажи номера речных систем.

ОТВЕТЫ

1. Укажи на каком рисунке (А или Б) река течет в направлении с С на Ю? **(А)**
2. На каком рисунке (А или Б) рельеф понижается в северном направлении? **(Б)**
3. Укажи номера всех источников на рисунке Б.
(13,14,15)
4. Укажи номера всех устьев на рисунке А. **(2,8,7)**
- 5 Укажи номера всех правых (левых) притоков.
(правые -18,10; левые – 19,9)
6. Запиши, что обозначает №11?
(Водораздел)
7. Укажи номер бассейнов. **(6,5)**
8. Укажи номера речных систем. **(20,21)**

Домашнее задание

- **п. 38 стр.147-151, выучить основные понятия**

темы: - *река,* - *русло,*
 - *речная долина,*
 - *пойма* - *исток,*
 - *устье,* - *дельта,*
 - *эстуарий,* - *речная система,*
 - *речной бассейн,*
 - *водораздел*

и правило определения правого и левого притока

- **В рабочей тетради выполнить задания №23-27 стр. 77-78**

Урок построен по учебнику Дронова В.П. География. Землеведение. 6 класс. Издательство «Дрофа»



**Урок подготовила и провела
учитель географии
МОУ «Октябрьская средняя
общеобразовательная школа»
Ардатовского района
Республики Мордовия
Матвеева
Ирина Владимировна**