



Серов  
2009

Школьный тур олимпиады  
«Знатоки  
Правил дорожного  
движения»

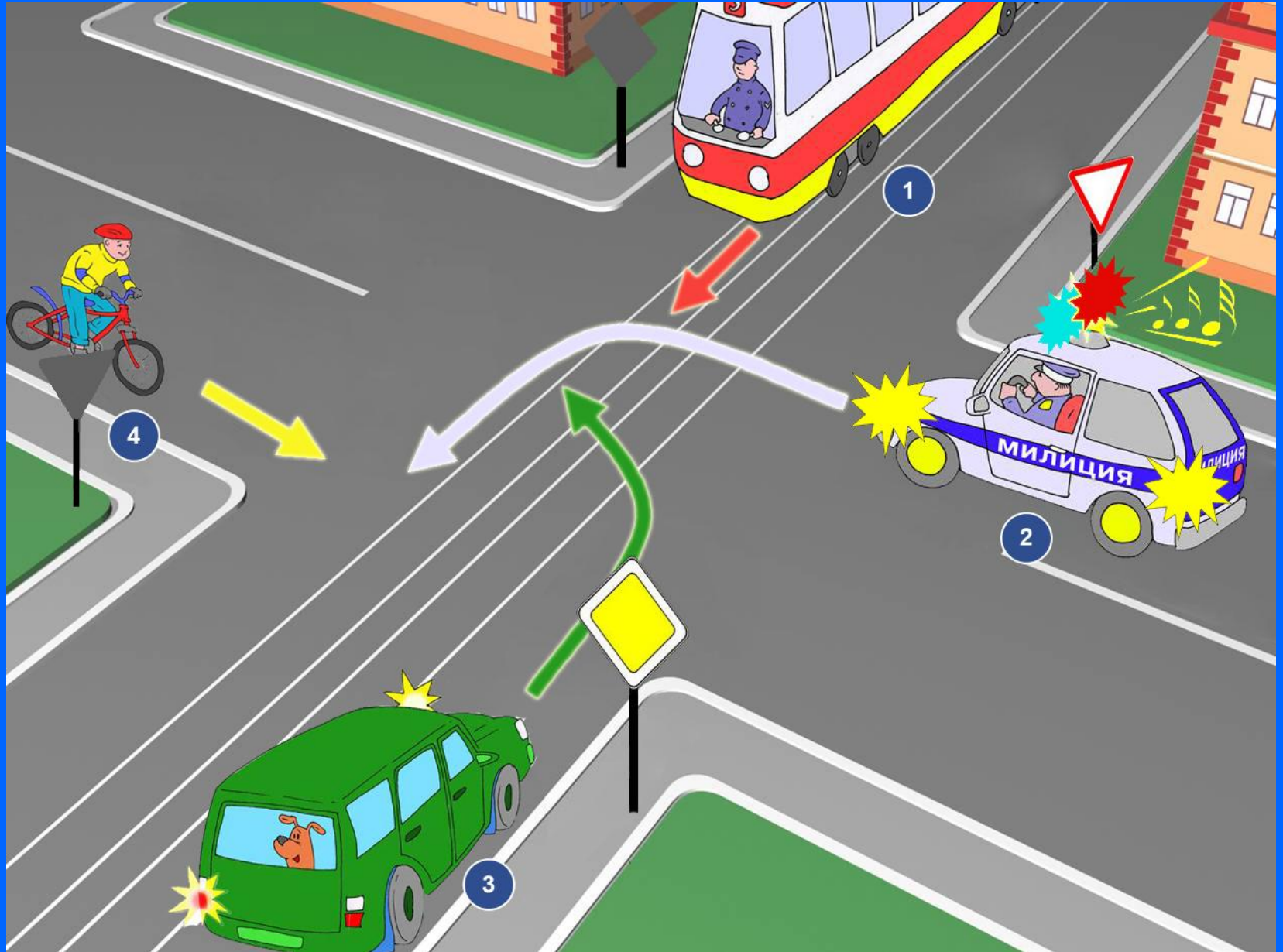
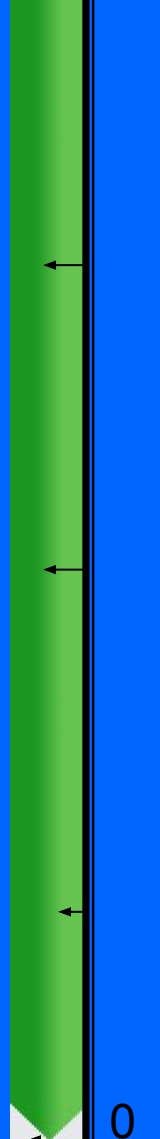
# Знаки Правил дорожного движения

## вопрос 1

Картинку вы увидите на 25 секунд

# Определите порядок проезда перекрестка

25



1

2

3

4

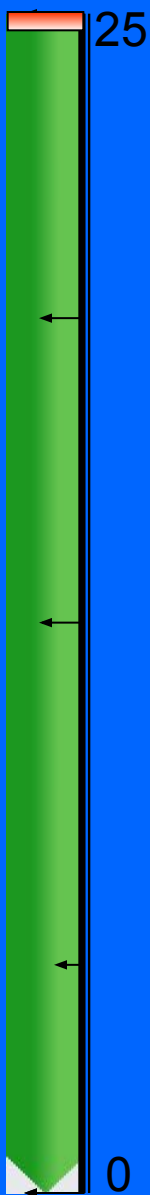
# Знаки Правил дорожного движения

## вопрос 2

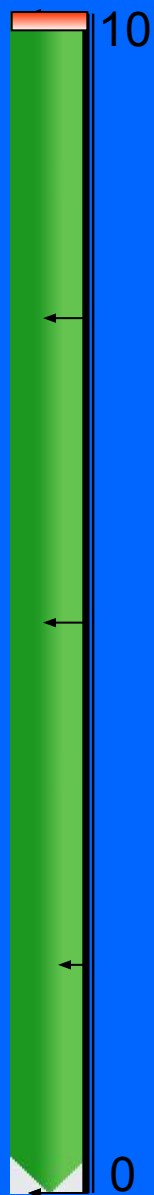
Фотографию вы увидите на 25 секунд

Блоки вы увидите на 10 секунд

# ВНИМАТЕЛЬНО РАССМОТРИТЕ ФОТОГРАФИЮ



# Выпишите лишние фрагменты



**А**



**Б**



**В**



**Г**

1. А

2. Г

3. Б

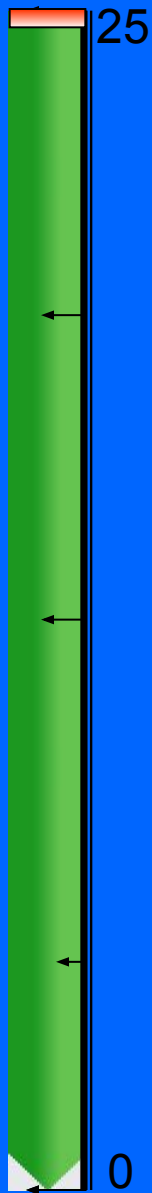
# Знатоки Правил дорожного движения

## вопрос 3

Фотографию вы увидите на 25 секунд


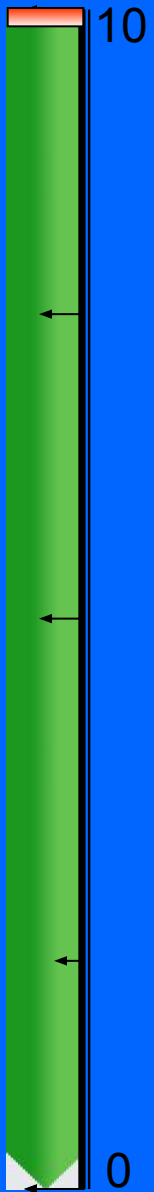
Блоки вы увидите на 10 секунд

# ВНИМАТЕЛЬНО РАССМОТРИТЕ ФОТОГРАФИЮ





*Выпишите лишние фрагменты*




**А**



**Б**



**В**



**Г**

**1. А Б    2. Б В    3. Б Г**

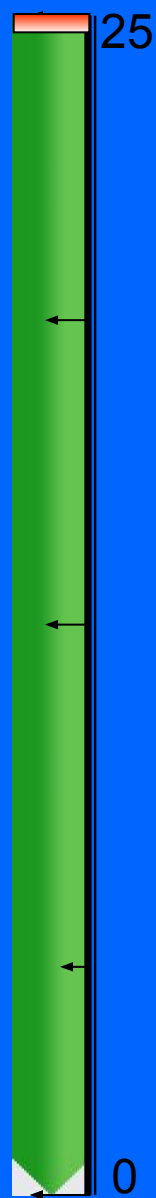
# Знаки Правил дорожного движения

## вопрос 4

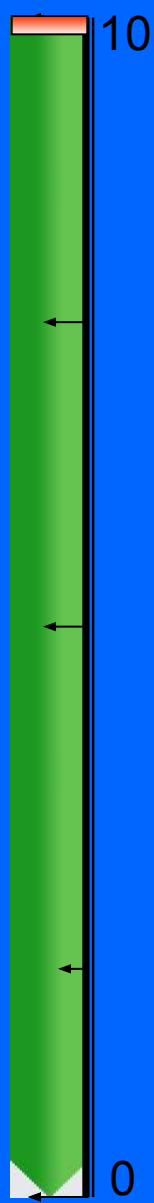
Фотографию вы увидите на 25 секунд

Блоки вы увидите на 10 секунд

# ВНИМАТЕЛЬНО РАССМОТРИТЕ ФОТОГРАФИЮ



*Выпишите лишние фрагменты*



**А**



**Б**



**В**



**Г**

**1. А В   2. А Г   3. Б Г**


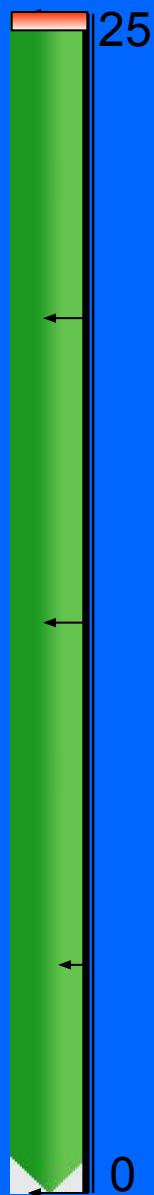
# Знаки Правил дорожного движения

## вопрос 5

Фотографию вы увидите на 25 секунд

Блоки вы увидите на 10 секунд

# Определите кто из пешеходов нарушает правила движения



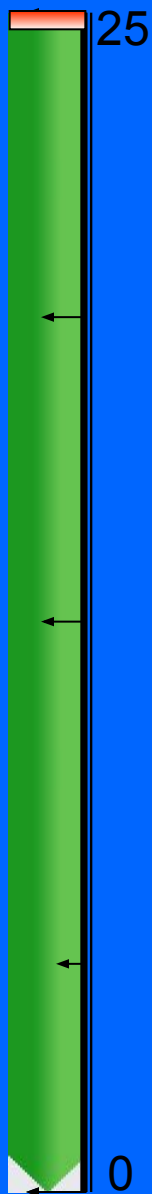
# Знаки Правил дорожного движения

## вопрос 6

Фотографию вы увидите на 25 секунд

Блоки вы увидите на 10 секунд

# Определите кто из пассажиров нарушает правила движения







**Первый блок заданий выполнен**

**Спасибо за внимание!**