


**МОУ «Буканская СОШ» Мамонтовского
района
Алтайского края**

**учитель начальных классов Скорик Елена
Александровна
урок математики во 2 классе
программа «Школа России»**



Тема урока
«Закрепление
изученного»

Вот опять звенит
звонок,
приглашает на урок.
Много надо повторить
чтобы летом не забыть



Цели:

1. Повторить изученное в течении года
2. Развивать вычислительные навыки, логическое мышление, внимание, наблюдательность, смекалку
3. Отрабатывать навыки устного счета



$57-7$

$6:3$

$9 \cdot 2$

$66+33$

$50 \cdot 2$

$47+7$

$13+13$

44	2	18	26	54	99	100
О	Б	Е	Л	Ч	К	А

Б

е

л

о

ч

к

а



47

64



Решите задачу:

В субботу Нина прочитала 11 страниц книги, а в воскресенье – на 3 страницы меньше. Сколько страниц книги Нина прочитала за эти два дня?

Сделайте краткую запись и решите задачу.

Проверка

С – 11 с.

В – ? на 3 с. <

Всего - ?

1) $11 - 3 = 8$ (с) в воскресенье

2) $11 + 8 = 19$ (с)

Ответ: 19 страниц

Решите уравнение






$$25 + x = 64$$



Геометрическая

задача



Стороны

прямоугольника

равны 4 см и 3 см.

Найдите периметр

прямоугольника.



физкультминутка

Один, два – выше голова!

Три, четыре – руки шире!

Пять, шесть – тихо сесть!

**Семь, восемь - лень
отбросим!**






Слагаемое

Слагаемое

Сумма


$$25 + 38$$

$$54 + 29$$



Уменьшаемое

Вычитаемое

Разность



$$63 - 17$$

$$44 - 5$$



Какое задание было для
вас самым интересным?
Какое самым трудным?
Какое самым простым?





Домашнее задание:
раскрасить рисунок
согласно ответам