

# Путешествие к Марсу

Сулова Елена Алексеевна  
МОБУСОШ № 4 г. Шимановска,  
Амурской области





Задача.

Миша купил в магазине на 28 рублей наборы наклеек, по 4 рубля за каждый. Сколько наборов наклеек купил Миша?



$$4 + 4 + 4$$



$$4 + 4 + 4$$

$$4 \cdot 3 = 12$$



$$4 + 4 + 4$$

$$4 \cdot 3 = 12$$

$$1 + 1 + 1 + 1$$



$$4 + 4 + 4$$

$$4 \cdot 3 = 12$$

$$1 + 1 + 1 + 1$$

$$1 \cdot 4 = 4$$



$$4 + 4 + 4$$

$$4 \cdot 3 = 12$$

$$1 + 1 + 1 + 1$$

$$1 \cdot 4 = 4$$

$$4 + 4 + 4 + 4 + 4$$



$$2 + 2 + 2$$

$$2 \cdot 3 = 12$$


$$1 + 1 + 1 + 1 + 1$$

$$1 \cdot 5 = 5$$

$$4 + 4 + 4 + 4 + 4$$

$$4 \cdot 5 = 20$$





$$36 : 9 = 4$$



Используя данные числа составьте час

4, 6, 24



Используя данные числа составьте час

$$24 : 4 = 6$$

$$24 : 6 = 4$$





с. 56 № 6 (1 вариант – 3 столбик,  
2 вариант – 4 столбик)

Назовите лишнюю фигуру




Найдите периметр квадрата

4 см



Найдите периметр квадрата




$$P = a + a + a + a$$

$$P = 4 \cdot a$$






# Физминутка




Задача.


В семье Мурианов 14 мурят,  
в семье Каринов на 25 кариан  
больше, чем в семье Муриа-  
нов, а в семье Привунов на  
10 привунят меньше, чем  
Мурианов. Сколько всего  
марсиан живут на планете?



# Фотографии на память



# Фотографии на память



<http://beon.ru/communities/%CA%E0%F0%F2%E8%ED%EA%E8/> -  
картинки инопланетян

<http://Lenagold.ru> – картинки планет

Аудиофайлы для роликов взяты с сайта <http://alphabook.ru>