



Демографический портрет

*Смерть каждого человека – это
потеря всего человечества.*

***Э.Хемингуэй. «По ком звонит
колокол?»***

Цель

- Что такое демографическая ситуация
- Проанализировать возрастную структуру населения



Естественное движение населения

А)



Б)



В) Естественное движение

Население = 142,5
млн. человек (2005 г.)

1) Рациональный тип воспроизводства
(ЕП = 0, +, -)

$P, C, EП = P - C$ (**естественный прирост**)

Средний мировой показатель

$21 - 9 = 12$ чел/1000 (‰)

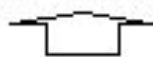
$20,5 - 27,9 = -7,4$ в России

$C > P$

М, Б (-5), У (-7)

Германия (-3), Венгрия (-4),

Латвия (-5), Румыния (-3)



Факторы:

- социально-экономические
- фактор войн (-75 млн.чел.)
- экологические катастрофы
- эпидемии, ДТП
- терроризм



увеличивают долю пенсионеров

[половозрастная пирамида]

депопуляция или **демографический кризис**

← ЕП > (увеличение)

1) Китай 1284 (млн. чел.)

2) Индия 1025

3) США 286

4) Индонезия 214,8

5) Бразилия 172,6

6) Пакистан 156

7) Россия 142

Демографическая политика – совокупность экономических, социальных, воспитательных мер, направленная на регулирование естественного прироста.

Каковы темпы роста населения в России?

Федеральные округа Российской Федерации

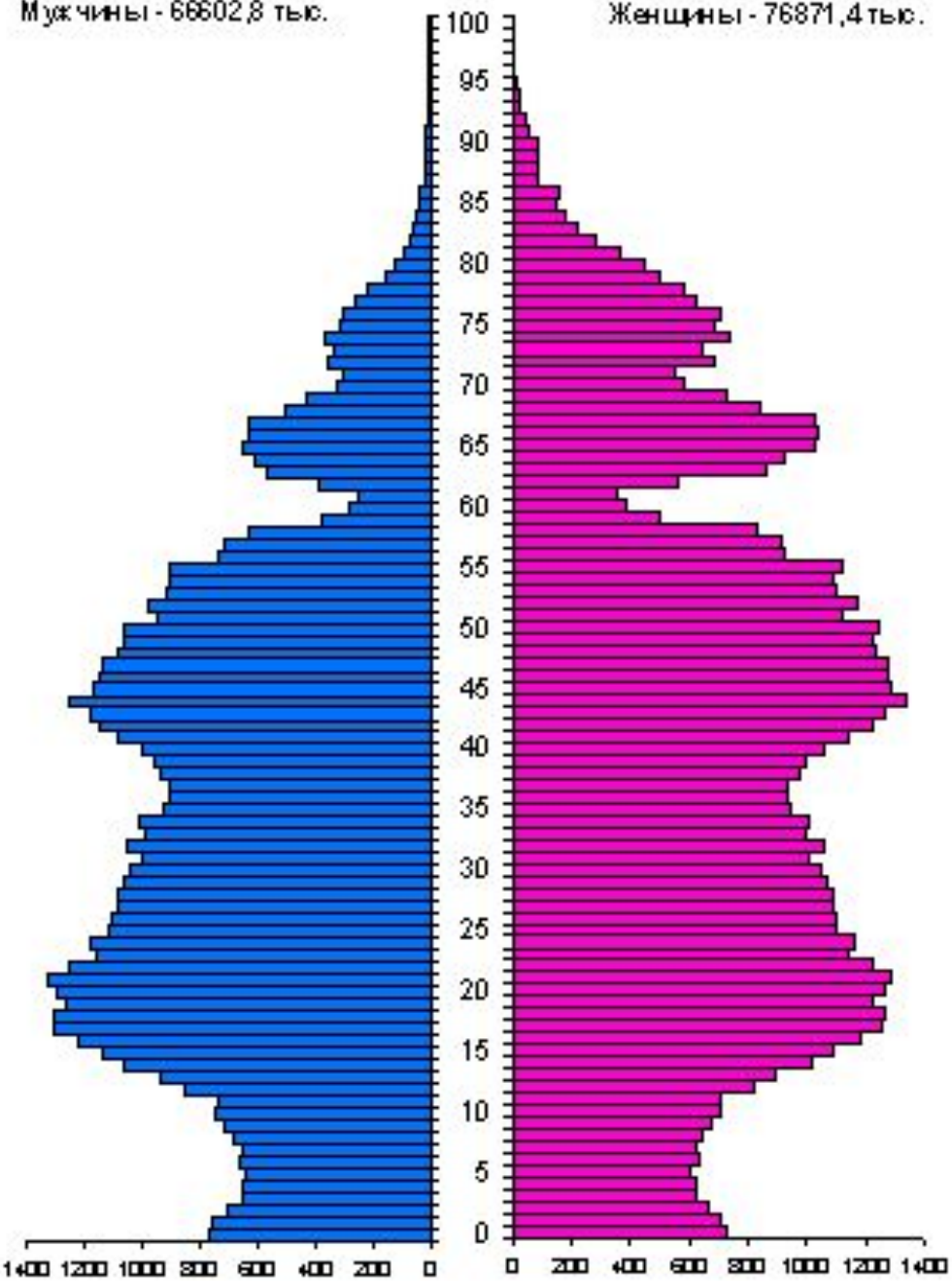


1. Северо-Западный
2. Центральный
3. Приволжский
4. Южный
5. Уральский
6. Сибирский
7. Дальневосточный

Мужчины - 66602,8 тыс.

Женщины - 76871,4 тыс.

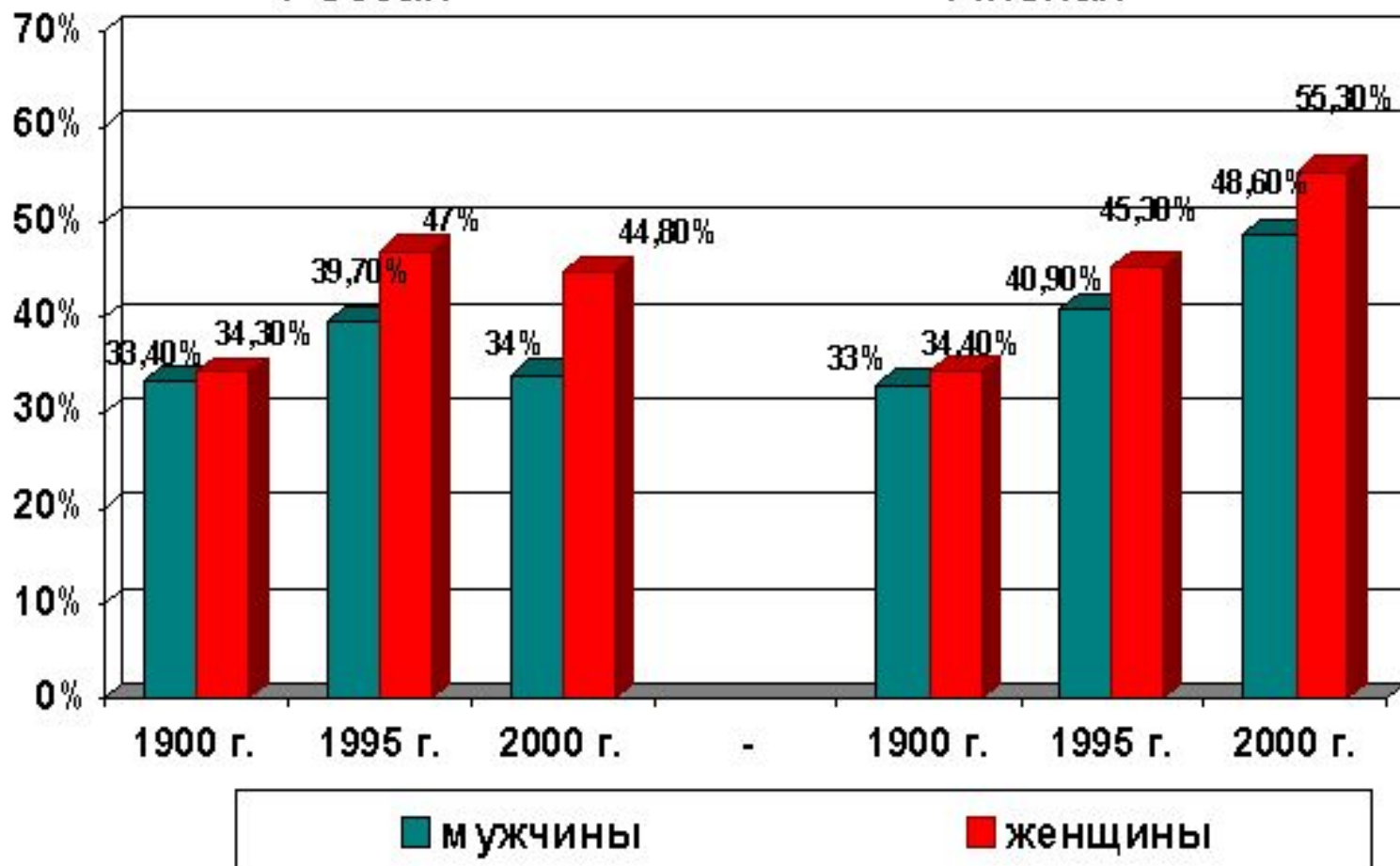
ВОЗРАСТНО-ПОЛОВАЯ СТРУКТУРА НАСЕЛЕНИЯ на 1 января 2005 г. (тысяч человек)



Процентное соотношение людей, доживших до 70 лет

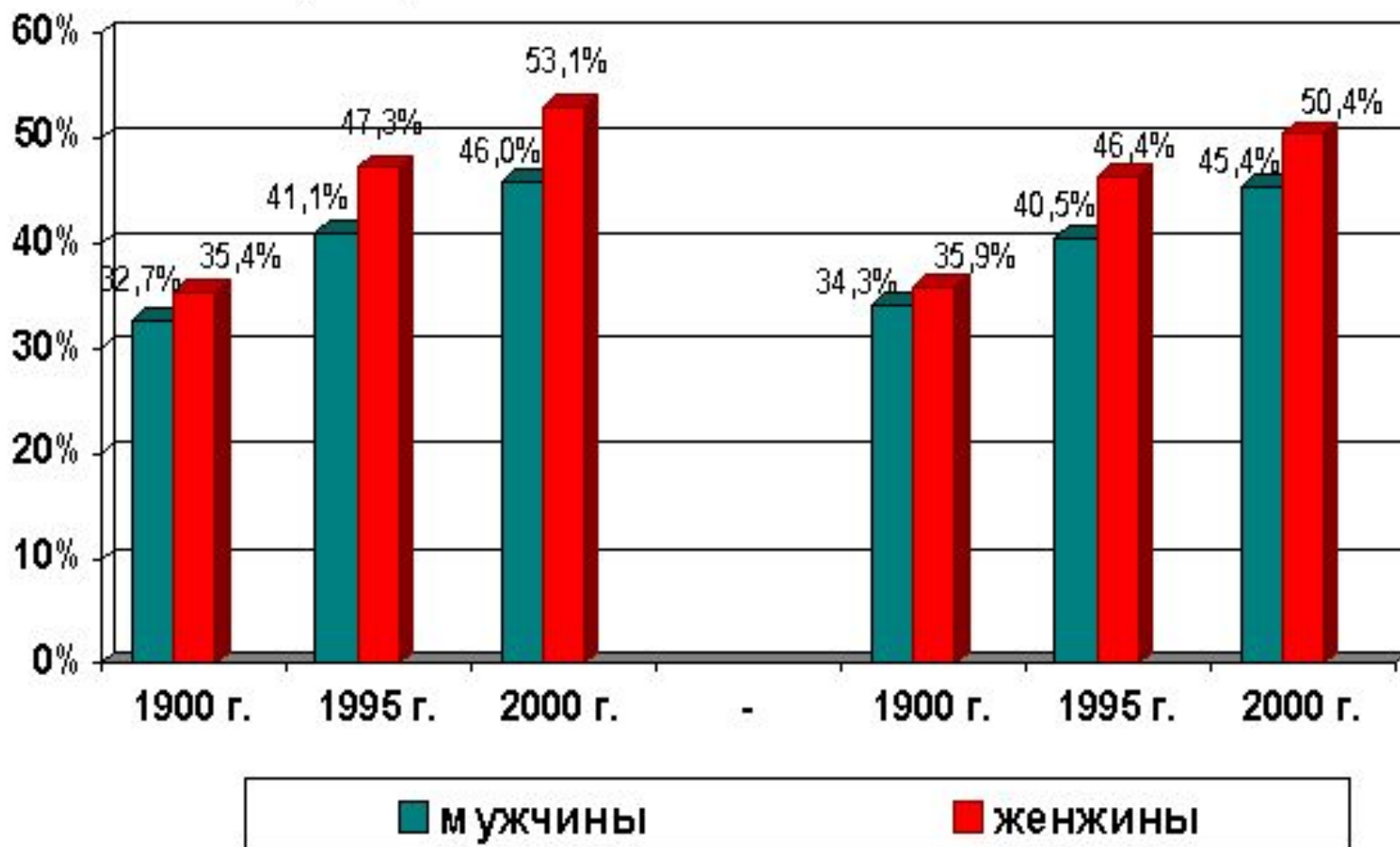
Россия

Япония

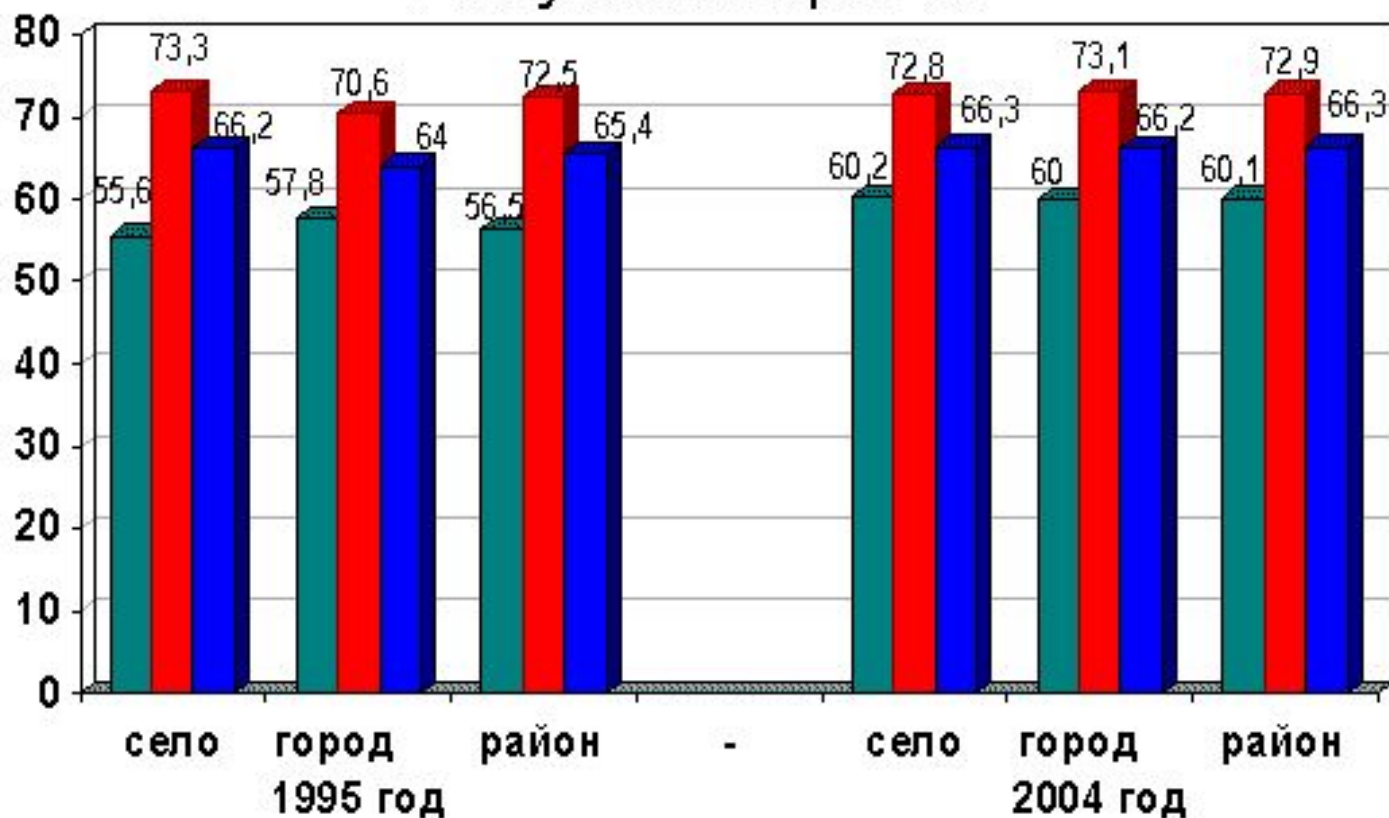


Процентное соотношение людей, доживших до 70 лет

Франция США



Показатели средней продолжительности жизни по Республике Марий Эл

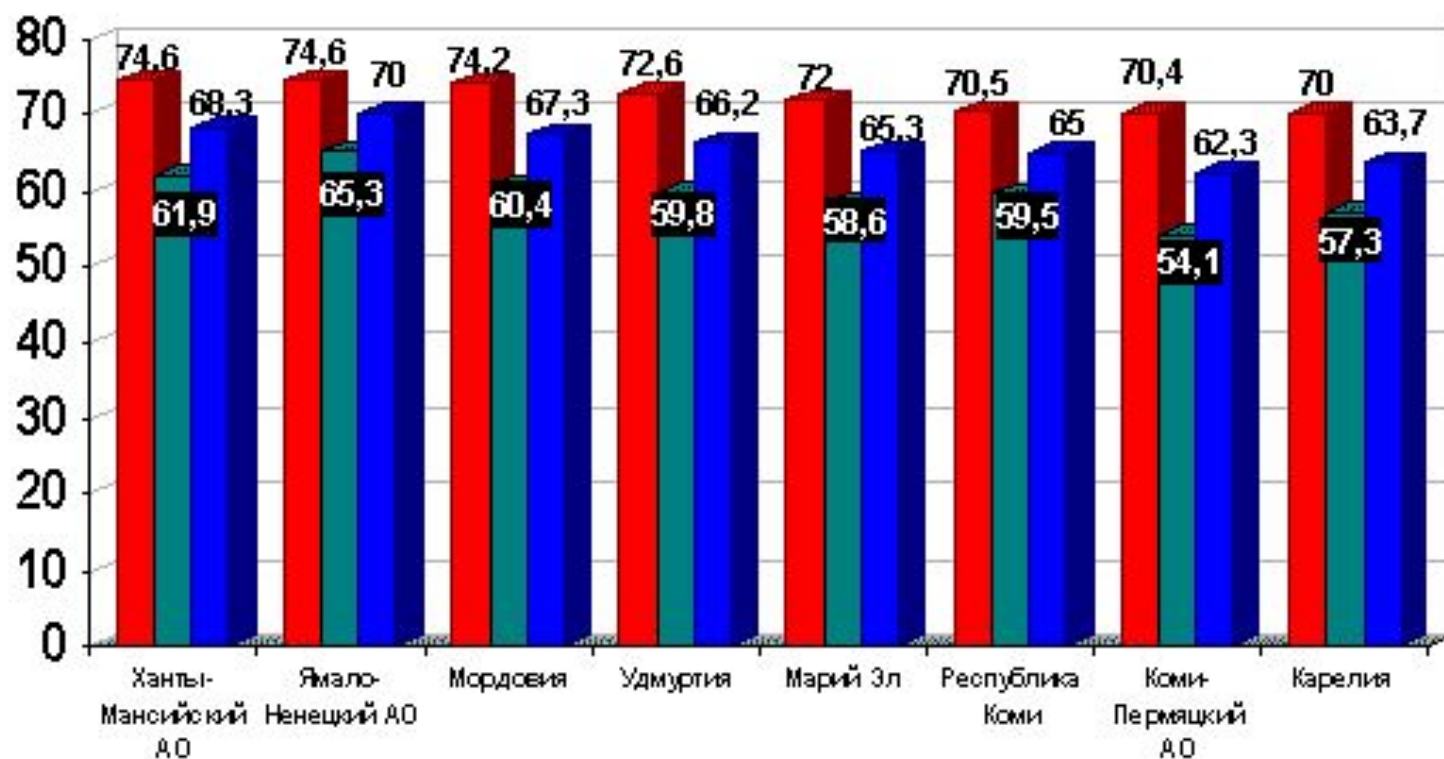


■ мужчины

■ женщины

■ средний показатель

Средняя продолжительность жизни финно-угорских народов (2005 год)

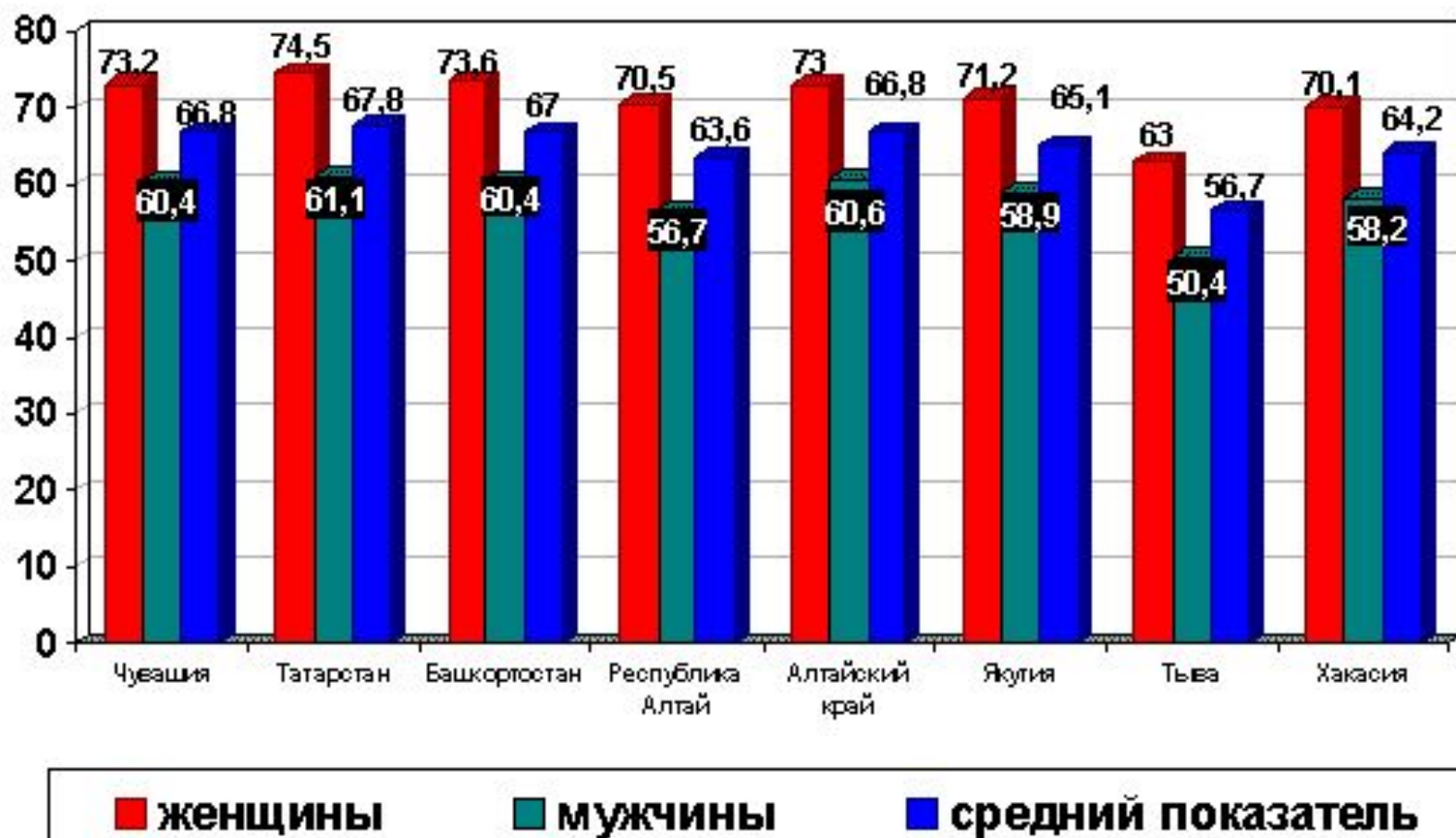


■ женщины

■ мужчины

■ средний показатель

Средняя продолжительность жизни тюркских народов (2005 год)



– Как вы считаете, какие факторы могут влиять на СПЖ

Факторы,
влияющие
на СПЖ

СОЦИАЛЬНЫЙ

БЕЗРАБОТИЦА
КУЛЬТУРА
ПОТРЕБЛЕНИЯ

ЭКОНОМИЧЕСКИЙ

ЭКОНОМИЧЕСКИЕ
КРИЗИСЫ
УРОВЕНЬ
ПОТРЕБЛЕНИЯ
УРОВЕНЬ
РАЗВИТИЯ
(затраты на
здравоохранение,
охрана труда)

КУЛЬТУРНО-
НРАВСТВЕННЫЙ

ОТСУТСТВИЕ
ИДЕАЛОВ

ЭКОЛОГИЧЕСКИЙ

СОСТОЯНИЕ:
ВОДЫ
ПОЧВЫ
ВОЗДУХА

ГЕНЕТИЧЕСКИЕ
ФАКТОРЫ

ПРЕДРАСПОЛОЖЕ
ННОСТЬ К
РАЗЛИЧНЫМ
ЗАБОЛЕВАНИЯМ

АЛЬТЕРНАТИВНЫЕ

ДЕЙСТВИЯ
ЭЛЕКТРОМАГНИТНЫХ
ПОЛЕЙ И
РАЗЛИЧНЫХ
БЫТОВЫХ
ПРИБОРОВ И
ТЕХНИКИ

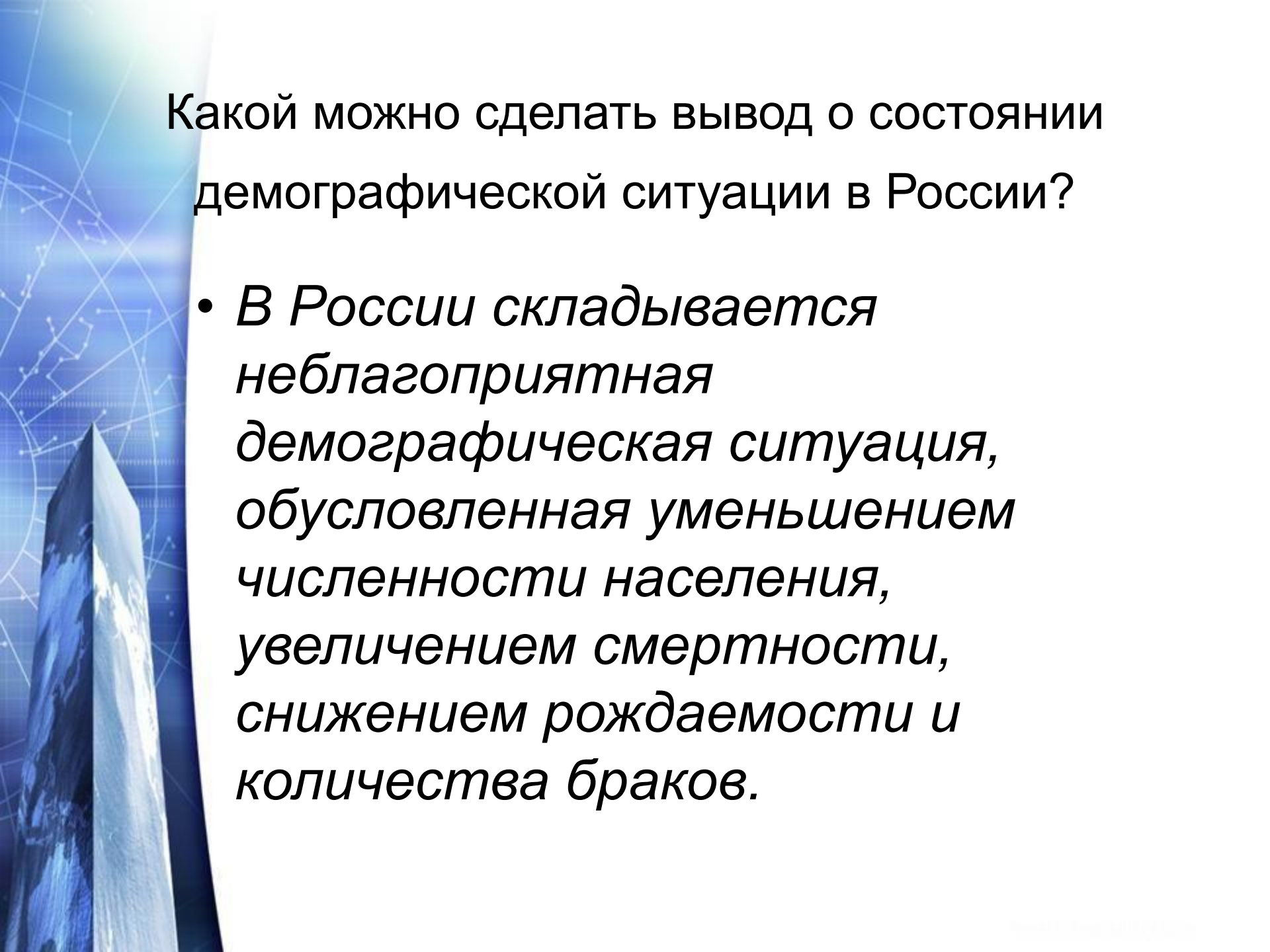


Меры, способствующих повышению продолжительности жизни



ОБЕСПЕЧЕННОСТЬ ЖИЛЬЕМ

Страна	Среднее количество комнат на человека	Средний размер квартир, м ²
Россия	0,8	59
Белоруссия	0,9	61
Япония	1,3	86
Великобритания	1,8	87
США	2,2	117



Какой можно сделать вывод о состоянии демографической ситуации в России?

- *В России складывается неблагоприятная демографическая ситуация, обусловленная уменьшением численности населения, увеличением смертности, снижением рождаемости и количества браков.*

Какие пути решения проблем связанных со снижением численности населения выбирает сейчас наше государство?

- *Появляются новые национальные проекты в здравоохранении, образовании, сельском хозяйстве, обеспечение жильем молодых семей и выплаты денежных пособий матерям за первого ребенка и значительные выплаты за рождение второго ребенка.*

Установите соответствие:

- 1) Естественный прирост
- 2) Демографическая политика
- 3) Демографический кризис
- 4) СПЖ
- 5) Средний мировой показатель ЕП на регулирование ЕП
- 6) Воспроизводство населения

- а) 12 чел./1000
- б) процесс непрерывной смены поколений
- в) разница между рождаемостью или деппопуляция смертностью
- г) совокупность мер, направленная
- д) среднее число лет, которое проживёт новорождённый при существующей в настоящее время смертности в различных возрастах

Работа по группам

I группа

Проанализируйте данные, находящиеся в таблице и скажите как обстояла ситуация в стране в 1990 г. и 2004г.?

II группа

Проанализируйте возрастную-половую диаграмму: Каково соотношение численности мужского и женского населения не трудоспособного, трудоспособного и пенсионного возраста?

- **III группа**

Дайте характеристику демографической ситуации в Амурской области, используя данные на ваших листах.

- **IV группа**

В России средняя продолжительность жизни составляет около 60 лет, а в Японии - 87 лет. Укажите факторы влияющие на продолжительность жизни в этих странах.

Вывод

Основные демографические показатели: рождаемость, смертность, ЕП, СПЖ.

На СПЖ влияют различные факторы: социально-экономический, культурно-нравственный, генетический, экологический, группа альтернативных.

Можно выделить 2 основных направления повышения СПЖ: семейная политика и здоровый образ жизни.



Домашнее задание

- Читать § 8
- Ответить на вопросы
стр.42

