



МАТЕМАТИКА
1 КЛАСС
УМК
«НАЧАЛЬНАЯ ШКОЛА ХХІ
ВЕКА»

ТЕМА
«УЧИМСЯ МАТЕМАТИКЕ»

МОУ СОШ с. Царевщина
Балтайского района
Саратовской области
учитель начальных классов
Березина Татьяна Владимировна



**В НАШЕ ВРЕМЯ, ЧТОБЫ СТРОИТЬ
И МАШИНОЙ УПРАВЛЯТЬ,
ПОМНИ, ДРУГ, ЧТО НАДО ПРОЧНО
МАТЕМАТИКУ ПОЗНАТЬ.**

**Добрый день, дорогие ребята!
Я – король математики, приглашаю Вас в
увлекательное путешествие по моей стране,
где вы будете:**

Решать задачи.


Считать примеры.

Отгадывать загадки.






**НАЗОВИ ВСЕ ЧИСЛА ПО ПОРЯДКУ,
НАЧИНАЯ С НАИМЕНЬШЕГО**



ВЫКЛАДЫВАЙ ФИШКИ. ОТВЕТЬ НА ВОПРОС




У медведя - у врача
Лечит зубы детвора:
Два бычка и два бобренка,
Два щенка и три котенка.
Сколько было бы зверят.
Если б не было котят?





НАЗОВИ РЕЗУЛЬТАТ

2		
6	+ 1 =	
4		

2		
6	- 1 =	
3		



ФИЗМИНУТКА

Под ногами листопад,
Листья желтые лежат,
Листья желтые лежат,
А под листьями шуршат
Шурш, Шуршиха и Шуршонок –
Папа, мама и листёнок.

В. Голяровский.








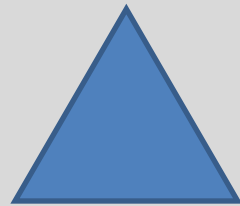


КОГО МЕНЬШЕ: ЖУКОВ ИЛИ ОС?





РАСПРЕДЕЛИ ФИГУРЫ НА ТРИ ГРУППЫ РАЗНЫМИ СПОСОБАМИ





ИГРА «КТО БЫСТРЕЕ РАССТАВИТ СТРЕЛКИ»

$$5 + 1 \quad 2$$

$$8 - 6 \quad 7$$

$$4 + 3 \quad 6$$

$$2 + 6 \quad 7$$

$$3 + 4 \quad 3$$

$$9 - 6 \quad 8$$

$$2 + 2 \quad 6$$

$$7 - 1 \quad 4$$

$$3 + 2 \quad 5$$





**ДОРОГИЕ РЕБЯТА, ВОТ И
ЗАКОНЧИЛОСЬ НАШЕ
УВЛЕКАТЕЛЬНОЕ ПУТЕШЕСТВИЕ
ПО СТРАНЕ «МАТЕМАТИКА».
ВЫ СПРАВИЛИСЬ СО ВСЕМИ
ЗАДАНИЯМИ.**

МОЛОДЦЫ !

