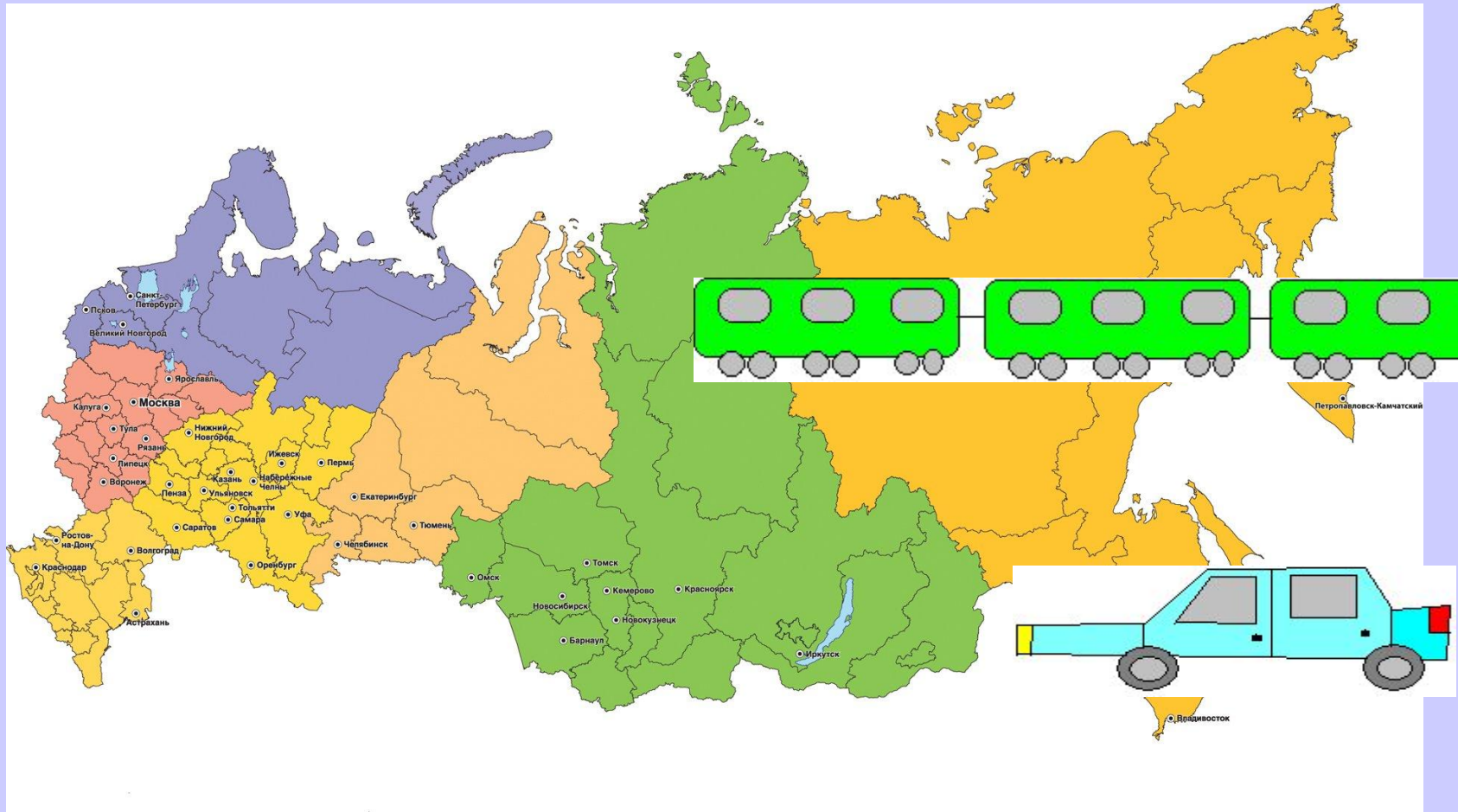


# Числовой луч.

Учитель начальных классов  
МБОУ СОШ № 1 г. Муравленко  
Федяева Елена Николаевна

# Кто из вас любит путешествия?



**РОССИЯ**

Запишите следующие ряды чисел

0 1 2 3 4 5 6 ... числовой луч

1 2 3 4 5 6 ... натуральный ряд

1 2 3 4 5 6 отрезок натурального ряда



Внесите необходимые изменения в первую последовательность чисел

# Единицы измерения длины

## Линейные единицы измерения

0мм 1мм 2мм 3мм 4мм 5мм 6мм ...

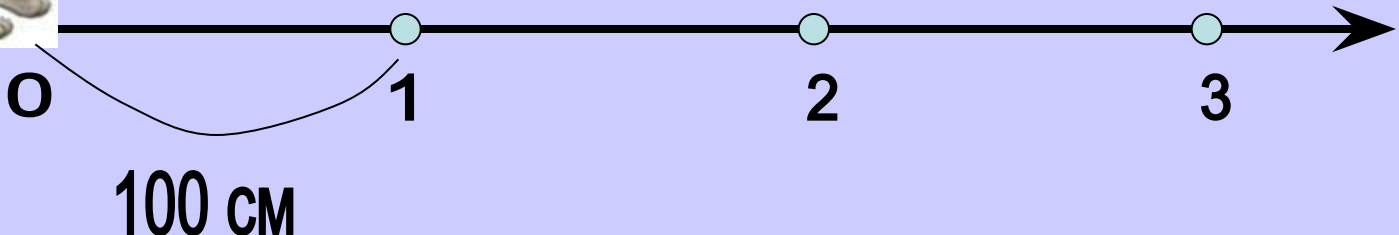
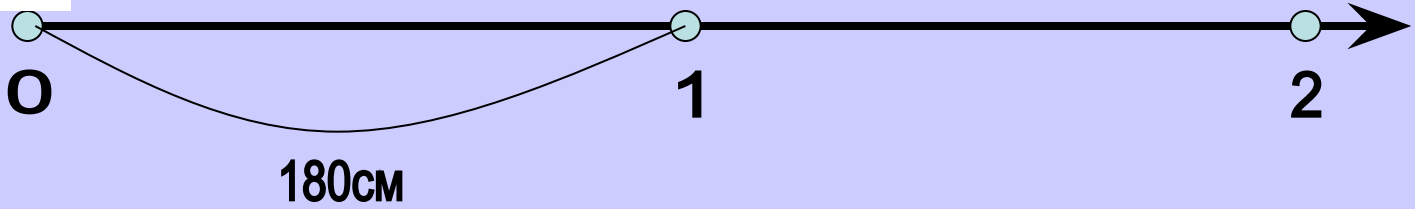
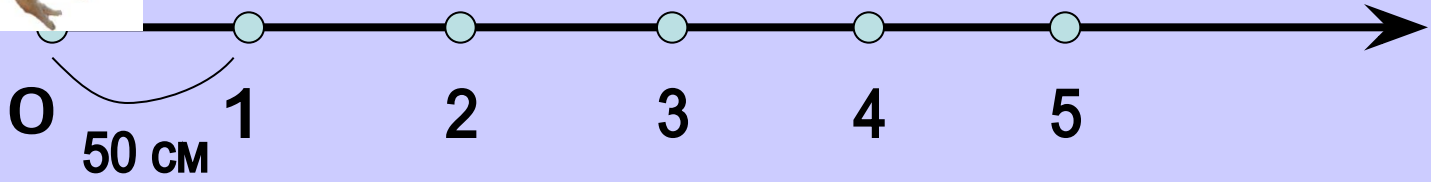
0см 1см 2см 3см 4см 5см 6см ...

0дм 1дм 2дм 3дм 4дм 5дм 6дм ...

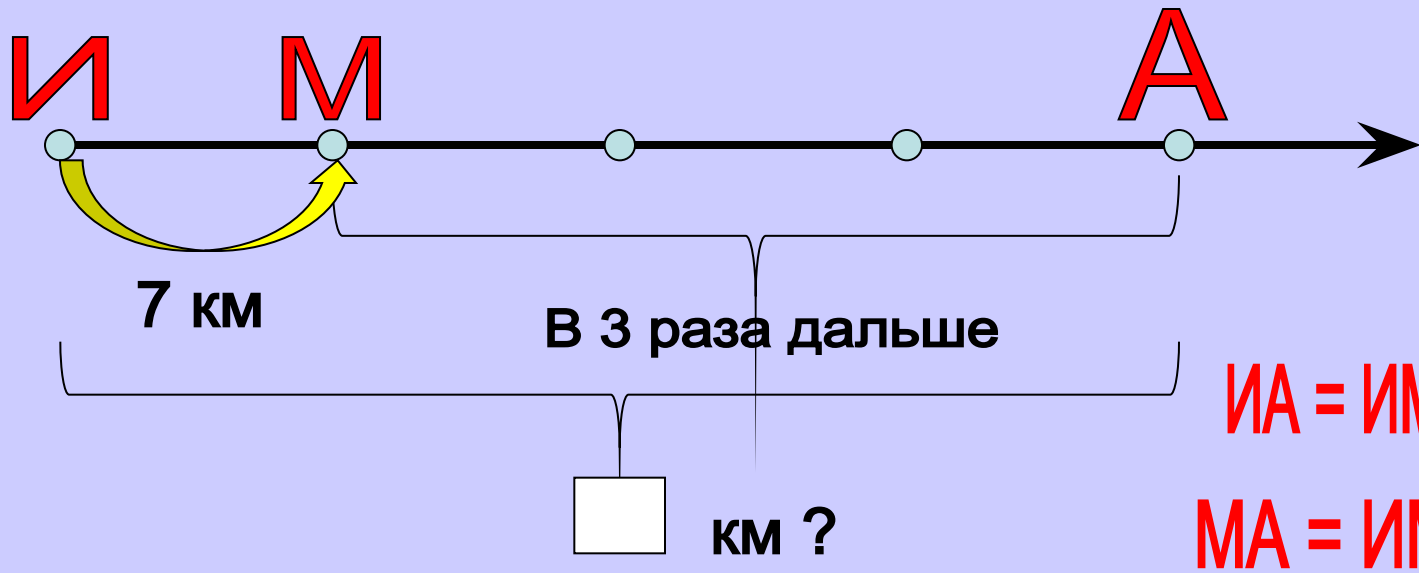
0 м 1 м 2 м 3 м 4 м 5 м 6 м ...

0км 1км 2км 3км 4км 5км 6км ...

Подумайте и скажите, какие задания будут на уроке?



# Задача №294

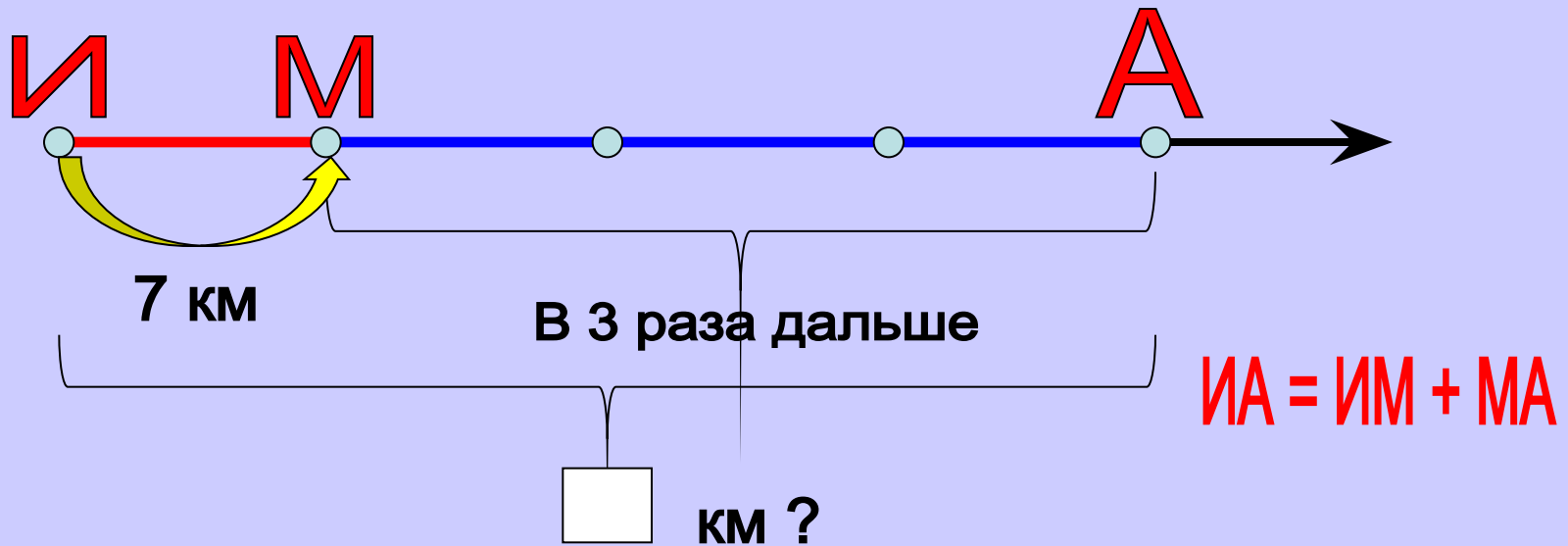


## 1 способ

## Решение

1)  $7 \times 3 = 21$  (км) - расстояние от Марьино до Аксиново

2)  $7 + 21 = 28$  (км) - расстояние от Ивановки до Аксиново



Решение

2 способ

1)  $1 + 3 = 4$  (части) - расстояние от Ивановки до Аксиново

2)  $7 \times 4 = 28$  (км) - расстояние от Ивановки до Аксиново

Ответ Кости: 28 км



Ответ Васи: 14 км

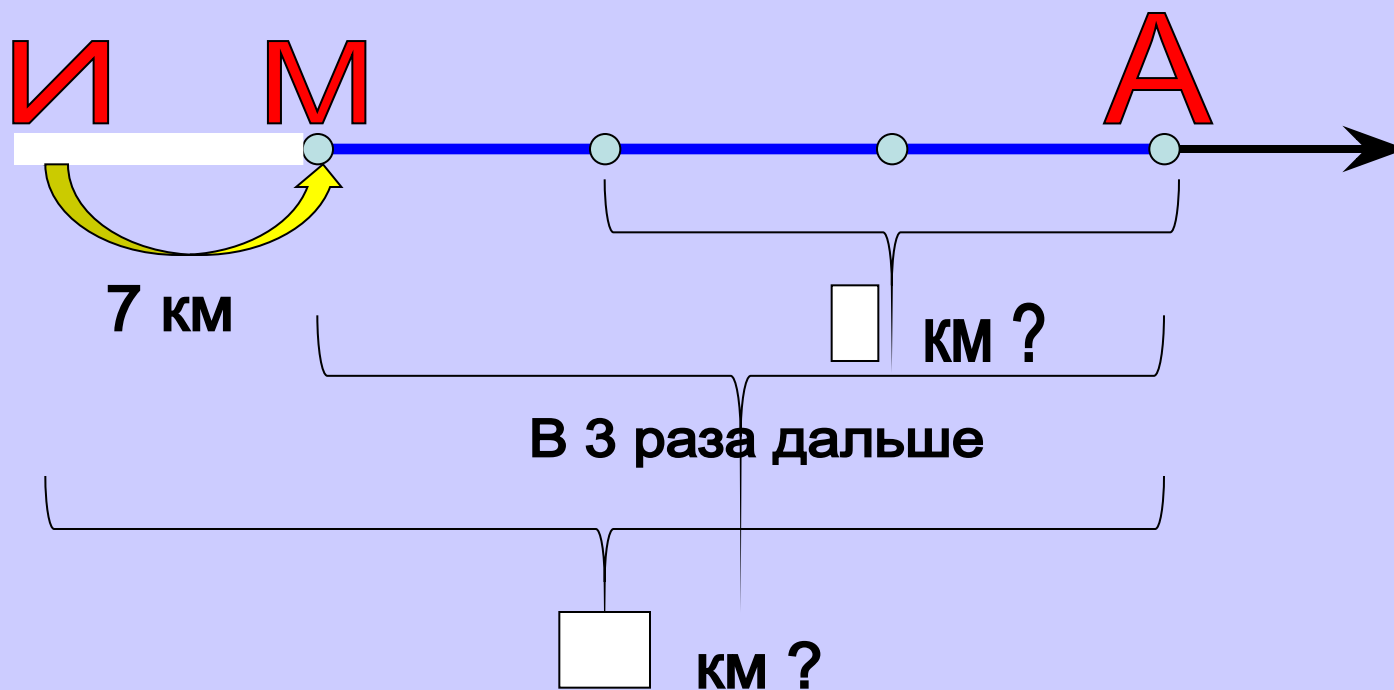
Может ли так быть?

Сравните эти расстояния.

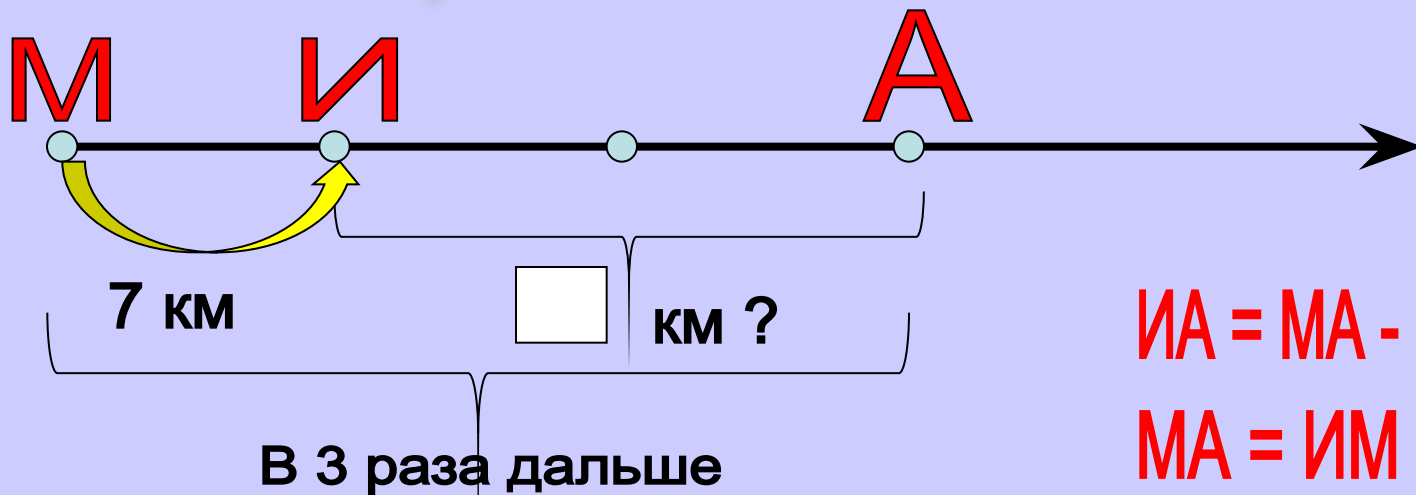


В каком случае расстояние между Ивановкой и Аксиноно будет 14 км?

Изменим расположение деревень на дороге



## Самостоятельная работа



$$ИА = МА - МИ$$

$$МА = ИМ \times 3$$

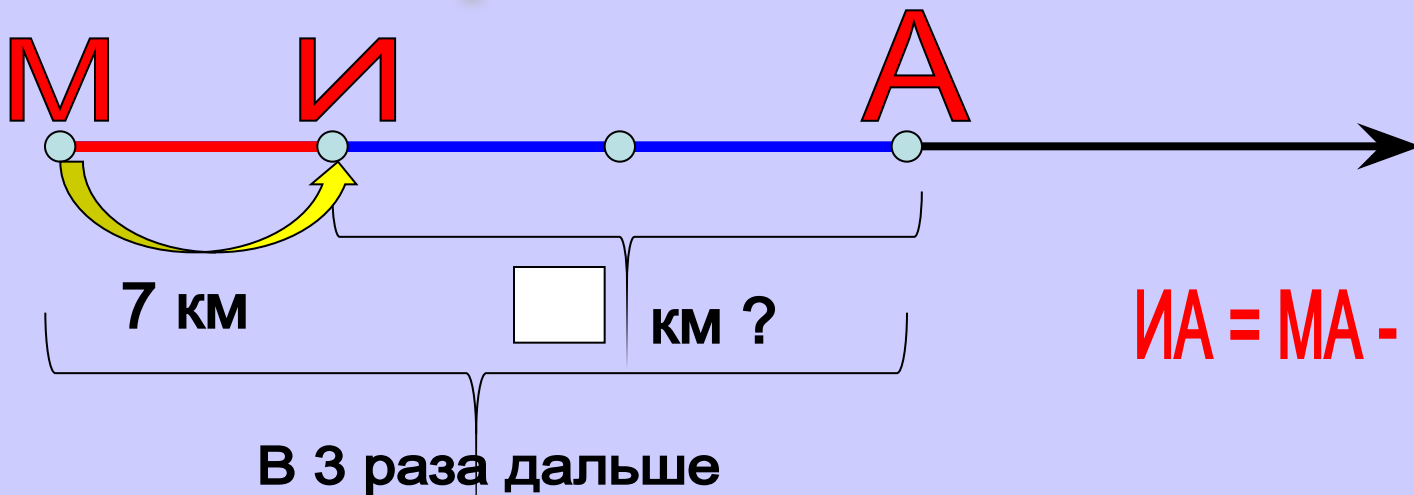
## Решение

### 1 способ

1)  $7 \times 3 = 21$  (км) - расстояние от Марьино до Аксиново

2)  $21 - 7 = 14$  (км) - расстояние от Ивановки до Аксиново

# Работа в парах



2 способ

Решение

- 1)  $3 - 1 = 2$  (части) - расстояние от Ивановки до Аксино
- 2)  $7 \times 2 = 14$  (км) - расстояние от Ивановки до Аксино

# Работа с тестами

$14 \times 2 = 28$	+	$60 : 2 = 30$	+
$48 \times 2 = 80$	-	$120 : 3 = 4$	-
$32 \times 3 = 96$	+	$800 : 4 = 200$	+
$19 \times 4 = 72$	+	$900 : 3 = 30$	-
$30 \times 3 = 900$	-	$90 : 3 = 30$	+

# Вычисли

$18 \times 3$

$86 : 2$

$669 : 3$

$318 \times 3$

$45 \times 4$

$39 : 3$

$468 : 2$

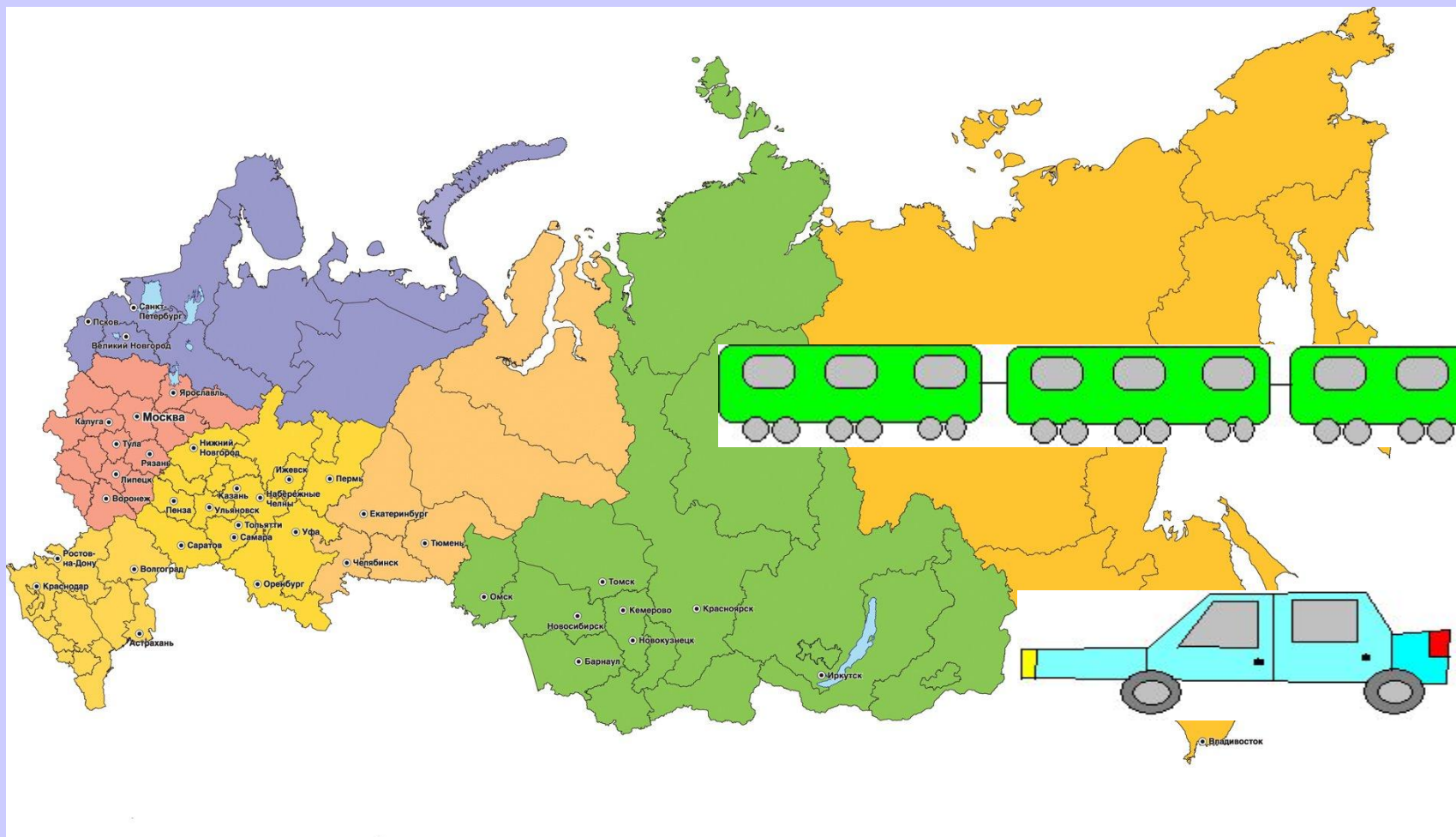
$148 \times 2$

$27 \times 3$

$48 : 4$

$936 : 3$

$119 \times 4$



**РОССИЯ**

# Домашнее задание

*1. Построй числовой луч. (Помощь в № 293 (6)).*

- *Подбери персонаж, который будет двигаться по лучу.*
- *Выбери мерку – единичный отрезок.*
- *Обозначь его величину.*

*2. № 291.*

# ИТОГ УРОКА

**Продолжи фразу:**

Я узнал (а) .....

Я повторил (а) .....

Я научился (лась) .....



# Рефлексия



?



# Список ресурсов сети Интернет

- [fliperbron.com](http://fliperbron.com)
- [Detskiy-sait.ru](http://Detskiy-sait.ru)