

Урок по математике

4 класс

Тема урока: «Сложение и вычитание многозначных чисел. Закрепление».

$$200 - 80 : 2$$

$$600 - 120 : (4 + 2)$$

$$(100 + 580) - 480$$

$$(300 - 90) : 3$$

$$46 + 66 + 54$$

$$63 + 100 + 37$$

$$1\text{мин } 10\text{с} + 30\text{с}$$

$$1\text{км } 600\text{м} - 500\text{м}$$

$$1\text{т } 550\text{кг} + 450\text{кг}$$

160

$600 - 120 : (4 + 2)$

$(100 + 580) - 480$

$(300 - 90) : 3$

$46 + 66 + 54$

$63 + 100 + 37$

1мин 10с + 30с

1км 600м – 500м

1т 550кг + 450кг



580

$(100 + 580) - 480$

$(300 - 90) : 3$

$46 + 66 + 54$

$63 + 100 + 37$

1мин 10с + 30с

1км 600м – 500м

1т 550кг + 450кг



200

$$(300 - 90) : 3$$

$$46 + 66 + 54$$

$$63 + 100 + 37$$

$$1\text{мин } 10\text{с} + 30\text{с}$$

$$1\text{км } 600\text{м} - 500\text{м}$$

$$1\text{т } 550\text{кг} + 450\text{кг}$$



70

46 + 66 + 54

63 + 100 + 37

1мин 10с + 30с

1км 600м – 500м

1т 550кг + 450кг




166

63 + 100 + 37

1мин 10с + 30с

1км 600м – 500м

1т 550кг + 450кг



200

1мин 10с + 30с

1км 600м – 500м

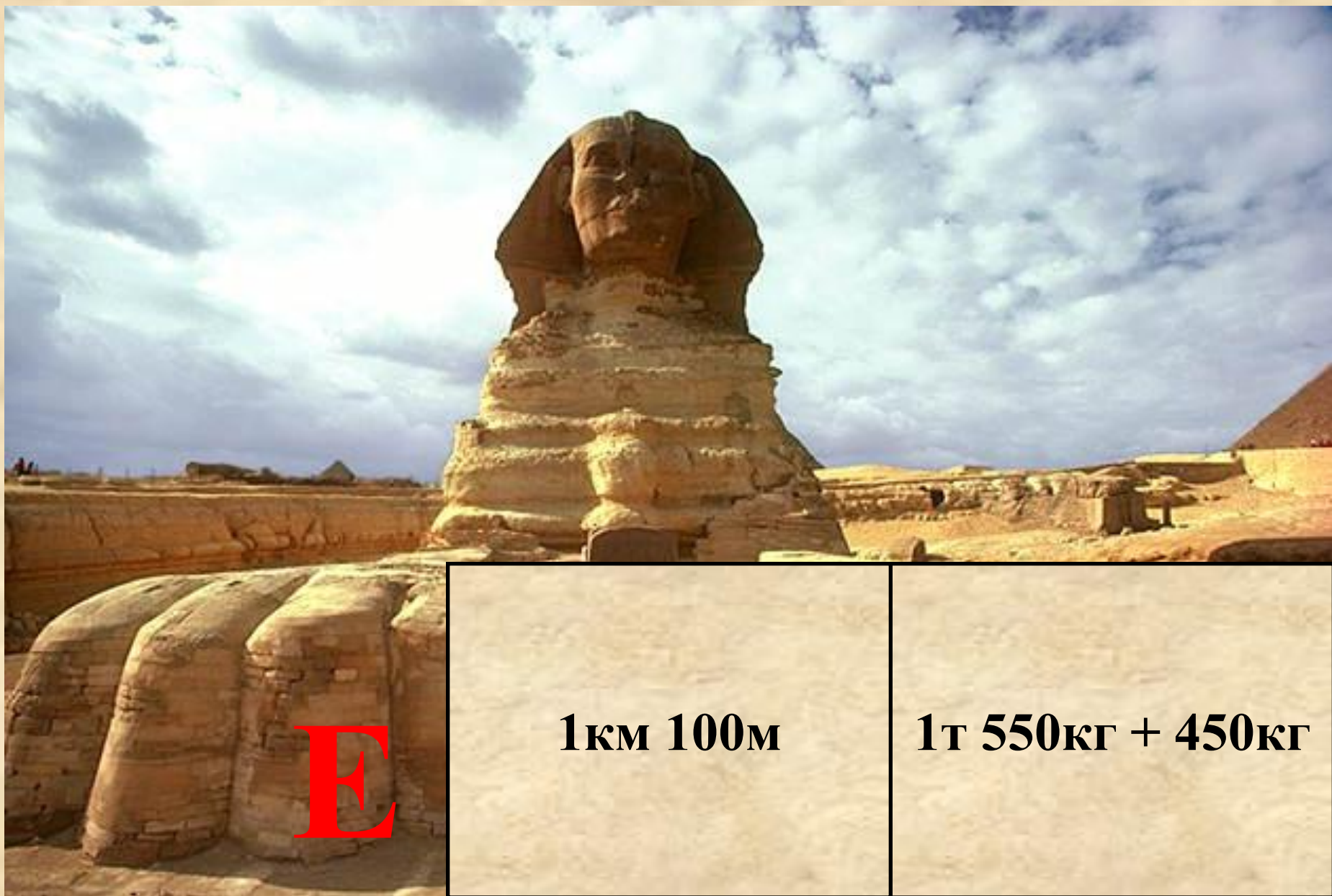
1т 550кг + 450кг



1мин 40с

1км 600м – 500м

1т 550кг + 450кг



E

1км 100м


1т 550кг + 450кг



Е Г И П Е

2т

Памятники Египта



Египтяне были искусными строителями. Они возводили огромные храмы и пирамиды. Пирамидами называют гигантские гробницы древнеегипетских фараонов 3-2-го тыс. до нашей эры. Также в Египте находится Большой сфинкс с лицом фараона Хафра.

Памятники Египта



Египтяне создали письменность, которая называется иероглификой. Иероглифы – это маленькие значки, изображающие предметы. Большинство произведений египетского искусства, которые можно увидеть в музеях и книгах, найдены в гробницах. Художники украшали гробницы сценами из жизни умершего. Из этих росписей мы много узнаем о жизни в древнем Египте.

994'280 - Г

22'684 - П

80'568 - Р

252'753 - А

994'280 - Г

252'753 - А

80'568 - Р

22'684 - П





В первый день караван прошел 957 м, во второй на 153 м больше, чем в первый день. А в третий на 38 м меньше, чем во второй день. Сколько метров прошел караван за три дня?

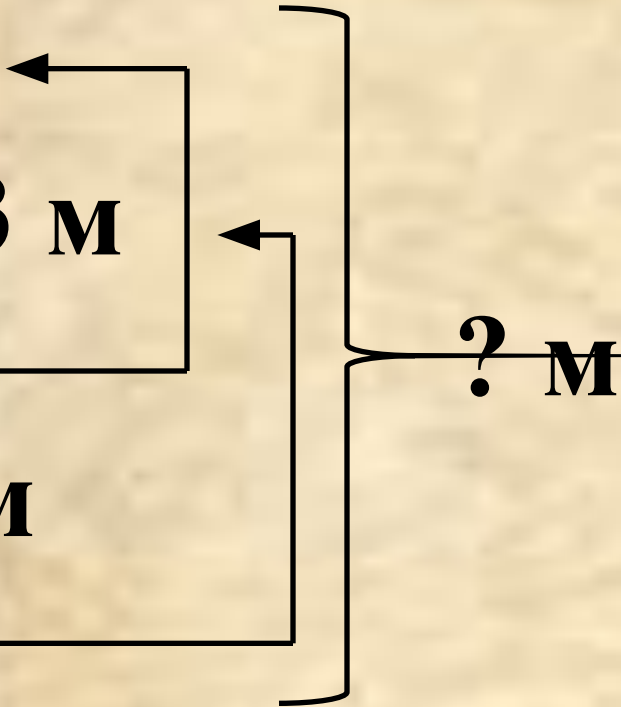
1 день – 957м

2 день – ? м, на 153 м

больше, чем _____

3 день – ? м, на 38 м

меньше, чем _____



? м

1) 957

+ 153

1'110 (м) – во 2 день.

2) 1'110

38

1'072 (м) – в 3 день.

3) 1'110

+ 957

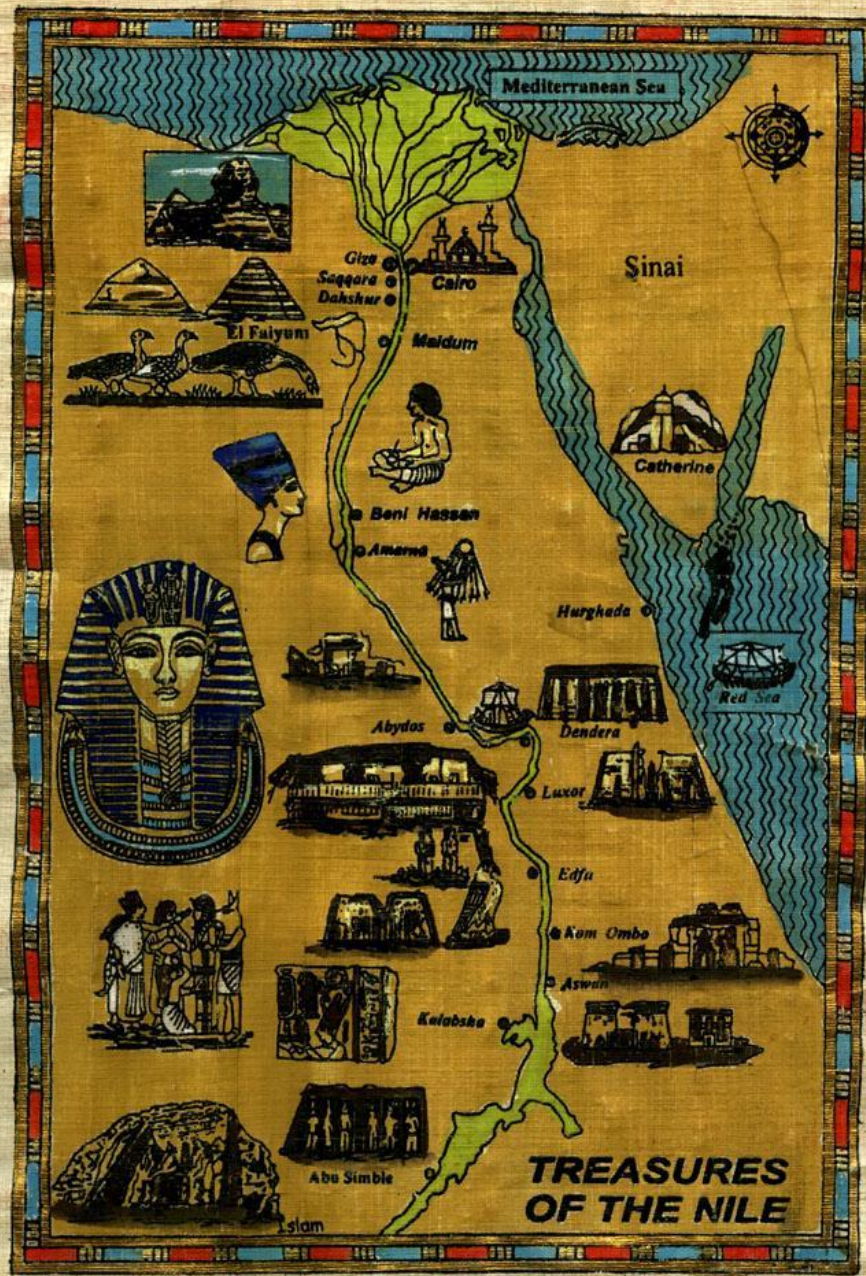
2'067 (м) – в 1 и 2 день.

4) 2'067

+ 1'072

3'139 (м)

Ответ: 3139м караван прошел за три дня.



Mediterranean Sea

Sinai



Giza

Sakkara

Dahshur

Maidum

Beni Hassan

Amarna

Hurghada

Abydos

Dendera

Luxor

Edfu

Kom Ombo

Aswan

Kalabsha

Abu Simble

Isam

Red Sea

TREASURES OF THE NILE



2 мин 30 с = ... с

6 мин = ... с

2 МИН 30 с = 150 с


6 МИН = 360 с


$$\begin{array}{r} - \quad 35 \text{ км } 820 \text{ м} \\ \quad \quad 7 \text{ км } 710 \text{ м} \\ \hline \end{array}$$

...

$$\begin{array}{r} + \quad 13 \text{ т } 250 \text{ кг} \\ \quad \quad \quad 567 \text{ кг} \\ \hline \end{array}$$

...


$$\begin{array}{r} 35 \text{ км } 820 \text{ м} \\ - 7 \text{ км } 710 \text{ м} \\ \hline 28 \text{ км } 110 \text{ м} \\ + 13 \text{ т } 250 \text{ кг} \\ \quad 567 \text{ кг} \\ \hline 13 \text{ т } 817 \text{ кг} \end{array}$$

$$X + 390 = 70 * 6$$



$$X + 390 = 70 * 6$$

$$X + 390 = 420$$

$$X = 420 - 390$$






$$X = 30$$

$$30 + 390 = 70 * 6$$

$$420 = 420$$

$$(19'000 - 9'000) : 100 * 10$$

$$\begin{array}{ccc} 1 & 2 & 3 \\ (19'000 - 9'000) : 100 * 10 = 1'000 \end{array}$$



Презентацию выполнила:

**Клишина Евгения
Владимировна,**

учитель начальных классов
ГОО СОШ №576
г.Москвы

Вы скачали эту презентацию на
сайте - viki.rdf.ru