




Круг. Площадь круга.


Урок математики в 6 классе.



Ну-ка, проверь дружок,  
Ты готов начать урок?  
Всё ль на месте,  
Всё ль в порядке,  
Ручка, книжка и тетрадка?  
Все ли правильно сидят?  
Все ль внимательно глядят?  
Каждый хочет получать  
Только лишь оценку пять.



# Определения



**Окружность** -

фигура, состоящая из множества точек плоскости, равноудаленных от центра.

**Радиус окружности** -

отрезок, соединяющий центр окружности с любой точкой окружности



**Хорда** -

отрезок, соединяющий любые две точки окружности


**Диаметр** -

отрезок, соединяющий любые две точки окружности и проходящий через центр окружности





# Факты

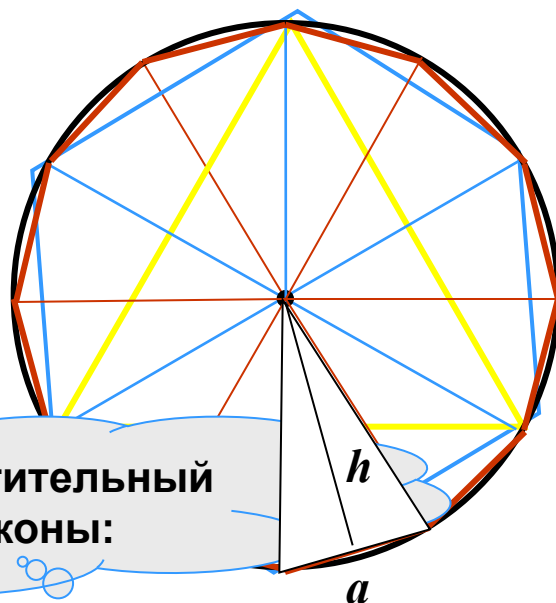
1. Радиусы одной окружности . . .
2. Число  $\pi$  равно. . .
3. Если известен диаметр, то длина окружности вычисляется по формуле. . .
4. Если известен радиус, то длина окружности вычисляется по формуле. . .



Круг - часть плоскости, ограниченная  
окружностью.



# Площадь круга



Применим переместительный и сочетательный законы:

$$S_{\text{мн-ка}} = \frac{1}{2} \cdot \overbrace{(a \cdot h)} \cdot n = \frac{1}{2} \cdot \underbrace{(a \cdot n)} \cdot \underbrace{h} \rightarrow S_{\text{круга}} = \frac{1}{2} \cdot 2\pi R \cdot R = \pi R^2$$

$$2\pi R$$


$$R$$

$$S_{\text{круга}} = \pi R^2$$



$$C = 2\pi D$$

$$S = \pi R^2$$






# Задача

Окружность арены цирка имеет длину 40,8 метра. Найдите диаметр и площадь арены.




Одолела нас дремота,  
Шевельнуться неохота  
Ну-ка делайте со мною  
Упражнение такое:

Раз - поднялись, потянулись,  
Два - нагнулись, разогнулись,  
Три - в ладоши три хлопка  
Головою три кивка.



## Задача

Длина окружности равна 47,1 см.  
Найдите длину другой окружности,  
радиус которой составляет 60%  
радиуса первой.



## Задача

Найдите площадь  $\frac{1}{4}$  круга, радиус которого 4,4дм.

Число  $\pi$  округлите до десятых



Ребята с какими понятиями мы сегодня на уроке познакомились?

Круг

Площадь круга находится по формуле

Как называется число, приближенно равное 3,14

$\pi$

Часть плоскости, ограниченная окружностью

$$S = \pi R^2$$

$$C = 2\pi D$$

Фигура, состоящая из множества точек плоскости, равноудаленных от центра

$D$



Домашнее задание: п. 23, № 675 (а,б), № 676  
(а,в), № 682 (а,в)



**Окончен урок.  
И опять перемена.  
И шум в коридоре опять.  
Друг другу должны мы  
Успеть непременно  
Скорей обо всём рассказать**

