



# Історія України

Тренінг: первісний лад – княжа доба

1. Галузь історичної науки, що вивчає речові (матеріальні) пам'ятки та реконструює за ними давню історію суспільства, називається

А джерелознавством

Б археографією

В геральдикою

Г археологією

1. Галузь історичної науки, що вивчає речові (матеріальні) пам'ятки та реконструює за ними давню історію суспільства, називається

А джерелознавством

Б археографією

В геральдикою

Г археологією

*Відповідь: Г*

**2. Мізинська, Кирилівська стоянки первісних людей є пам'ятками**

**А** палеоліту

**Б** мезоліту

**В** неоліту

**Г** енеоліту

2. Мізинська, Кирилівська стоянки первісних людей є пам'ятками

А палеоліту

Б мезоліту

В неоліту

Г енеоліту

*Відповідь: А*

**3.** Знаряддя полювання, зображені на фото,  
винайдені людиною в добу

**А** палеоліту

**Б** мезоліту

**В** неоліту

**Г** енеоліту

3. Знаряддя полювання, зображені на фото, винайдені людиною в добу

А палеоліту

Б мезоліту

В неоліту

Г енеоліту

*Відповідь: Б*

4. Основу привласнюючого господарства первісних людей становили:

**А** землеробство, скотарство, рибальство

**Б** збиральництво, тваринництво, рибальство

**В** землеробство, збиральництво, мисливство

**Г** мисливство, збиральництво, рибальство



4. Основу привласнюючого господарства первісних людей становили:

**А** землеробство, скотарство, рибальство

**Б** збиральництво, тваринництво, рибальство

**В** землеробство, збиральництво, мисливство

**Г** мисливство, збиральництво, рибальство

Відповідь: Г

## 5. Найважливіший набуток неандертальців

**А** використання вогню

**Б** добування вогню

**В** приручення собаки

**Г** лук і стріли

## 5. Найважливіший набуток неандертальців

**А** використання вогню

**Б** добування вогню

**В** приручення собаки

**Г** лук і стріли

Відповідь: Б

6. Укажіть ознаки неолітичної революції.

- 1 винайдення першого штучного продукту – сплаву міді та олова
- 2 виникнення землеробства та скотарства
- 3 відокремлення скотарства від землеробства
- 4 перехід до осілого способу життя
- 5 винайдення свердління, пиляння та шліфування каменю
- 6 відокремлення ремесла від землеробства
- 7 виникнення виробництва керамічного посуду, прядіння, ткацтва

А 2, 3, 4, 7

Б 1, 2, 4, 6

В 2, 4, 5, 7

Г 1, 3, 5, 6

6. Укажіть ознаки неолітичної революції.

- 1 винайдення першого штучного продукту – сплаву міді та олова
- 2 виникнення землеробства та скотарства
- 3 відокремлення скотарства від землеробства
- 4 перехід до осілого способу життя
- 5 винайдення свердління, пиляння та шліфування каменю
- 6 відокремлення ремесла від землеробства
- 7 виникнення виробництва керамічного посуду, прядіння, ткацтва

А 2, 3, 4, 7

Б 1, 2, 4, 6

В 2, 4, 5, 7

Г 1, 3, 5, 6

Відповідь: В

## 7. Хронологічні рамки існування Трипільської культури на землях сучасної України

**А** IV тисячоліття до н.е. – перша половина III тисячоліття до н.е.

**Б** середина IV тисячоліття до н.е. – середина III тисячоліття до н.е.

**В** середина III тисячоліття до н.е. – початок II тисячоліття до н.е.

**Г** II тисячоліття до н.е. – початок I тисячоліття до н.е.

## 7. Хронологічні рамки існування Трипільської культури на землях сучасної України

**А** IV тисячоліття до н.е. – перша половина III тисячоліття до н.е.

**Б** середина IV тисячоліття до н.е. – середина III тисячоліття до н.е.

**В** середина III тисячоліття до н.е. – початок II тисячоліття до н.е.

**Г** II тисячоліття до н.е. – початок I тисячоліття до н.е.

*Відповідь: А*

8. Культуру трипільців називають

А черняхівською

Б середньостогівською

В культурою мальованої кераміки

Г чорноліською



8. Культуру трипільців називають

**А** черняхівською

**Б** середньостогівською

**В** культурою мальованої кераміки

**Г** чорноліською

**Відповідь: В**

9. На карті червоною лінією обведено територію, де

А проживали племена дулібів та древлян у VII – VIII ст.

Б утворилося державне об'єднання скіфських племен – Великої Скіфії

В поширювався політичний вплив міст-колоній Північного Причорномор'я

Г розселялися племена трипільської культури на початку IV – наприкінці III ст. до н.е.



9. На карті червоною лінією обведено територію, де

А проживали племена дулібів та древлян у VII – VIII ст.

Б утворилося державне об'єднання скіфських племен – Великої Скіфії

В поширювався політичний вплив міст-колоній Північного Причорномор'я

Г розселялися племена трипільської культури на початку IV – наприкінці III ст. до н.е.

Відповідь: Г



**10.** Найдавніша згадка про цей кочовий народ міститься в славнозвісній «Одіссейі» Гомера, а найдосконаліша – у праці «батька історії» Геродота, який, зокрема, звав ці племена давніми доярами кобилиць і молокоїдами. Мова йде про

**А** готів

**Б** скіфів

**В** сарматів

**Г** кіммерійців

**10.** Найдавніша згадка про цей кочовий народ міститься в славнозвісній «Одіссеї» Гомера, а найдосконаліша – у праці «батька історії» Геродота, який, зокрема, звав ці племена давніми доярами кобилиць і молокоїдами. Мова йде про

**А** готів

**Б** скіфів

**В** сарматів

**Г** кіммерійців

*Відповідь: Г*

**11.** Панування скіфських племен у степах Північного Причорномор'я припадає на період

**А** неоліту

**Б** енеоліту

**В** бронзового віку

**Г** раннього залізного віку

**11.** Панування скіфських племен у степах Північного Причорномор'я припадає на період

**А** неоліту

**Б** енеоліту

**В** бронзового віку

**Г** раннього залізного віку

*Відповідь: Г*

12. Яку із зображених на фото монет викарбовано на честь скіфського царя?



**A**



**B**



**B**



**Г**



12. Яку із зображених на фото монет викарбовано на честь скіфського царя?



Відповідь: Г

13. Проникнення сарматів у степи Північного Причорномор'я на межі III – II ст. до н. е. супроводжувалося витісненням скіфів

**А** у пониззя Дніпра та на Кримський півострів

**Б** у межиріччя Дону та Волги

**В** у верхів'я Південного Бугу

**Г** у передгір'я Кавказу

13. Проникнення сарматів у степи Північного Причорномор'я на межі III – II ст. до н. е. супроводжувалося витісненням скіфів

**А** у пониззя Дніпра та на Кримський півострів

**Б** у межиріччя Дону та Волги

**В** у верхів'я Південного Бугу

**Г** у передгір'я Кавказу

Відповідь: **А**

14. Перша грецька колонія у Північному Причорномор'ї була заснована

**А** біля гирла річки Тірас (Дністер)

**Б** в околицях сучасного Севастополя

**В** на місці нинішнього міста Керчі

**Г** на острові (тоді – півострові) Березань

14. Перша грецька колонія у Північному Причорномор'ї була заснована

**А** біля гирла річки Тірас (Дністер)

**Б** в околицях сучасного Севастополя

**В** на місці нинішнього міста Керчі

**Г** на острові (тоді – півострові) Березань

Відповідь: **Г**

15. Що було однією з особливостей розвитку грецьких міст-держав Північного Причорномор'я в VII – VI ст. до н.е.?

**А** державно-політична незалежність колоній від метрополій

**Б** федеративне об'єднання всіх міст-держав навколо Ольвії

**В** карбування єдиної монети для новозаснованих колоній

**Г** військова залежність міст-держав від місцевих племен

15. Що було однією з особливостей розвитку грецьких міст-держав Північного Причорномор'я в VII – VI ст. до н.е.?

**А** державно-політична незалежність колоній від метрополій

**Б** федеративне об'єднання всіх міст-держав навколо Ольвії

**В** карбування єдиної монети для новозаснованих колоній

**Г** військова залежність міст-держав від місцевих племен

Відповідь: **А**

**16.** Місто-колонія, в якому проводилися спортивні змагання – Ахіллеї – за участі колоністів Причорномор'я й греків з Еллади

**А** Ольвія

**Б** Пантікапей

**В** Тіра

**Г** Херсонес



**16.** Місто-колонія, в якому проводилися спортивні змагання – Ахіллеї – за участі колоністів Причорномор'я й греків з Еллади

**А** Ольвія

**Б** Пантікапей

**В** Тіра

**Г** Херсонес

*Відповідь: А*

17. Историчне джерело, у якому йде мова про антів.

**А** «...Вони об'їздять із покійником усі племена... У просторому приміщенні склепу ховають одну з його наложниць, його чашника і куховара ... Коли вони все це зроблять, то насипають землю і споруджують великий курган...»

**Б** «Вони спустошили й спалили їх міста й фортеці, взяли полонених і стали панами на землі. Вони осіли на ній панами, як на своїй, без страху... І нині вони залишаються тут... у країні ромеїв»

**В** «... Готський король Вінитарій... у першій битві був переможений, однак надалі став діяти рішуче і розіп'яв ватажка їхнього Божа із синами його та із сімдесятьма старійшинами для залякування»

**Г** «...Найдавніша згадка про них міститься в «Одіссеї» Гомера, а найдокладніша в «Історії» Геродота. Гомер, зокрема, звав їх давніми доярами кобилиць і молокоїдами, земля яких одвіку хмарами й млою вповита»

17. Історичне джерело, у якому йде мова про антів.

**А** «...Вони об'їздять із покійником усі племена... У просторому приміщенні склепу ховають одну з його наложниць, його чашника і куховара ... Коли вони все це зроблять, то насипають землю і споруджують великий курган...»

**Б** «Вони спустошили й спалили їх міста й фортеці, взяли полонених і стали панами на землі. Вони осіли на ній панами, як на своїй, без страху... І нині вони залишаються тут... у країні ромеїв»

**В** «... Готський король Вінитарій... у першій битві був переможений, однак надалі став діяти рішуче і розіп'яв ватажка їхнього Божа із синами його та із сімдесятьма старійшинами для залякування»

**Г** «...Найдавніша згадка про них міститься в «Одіссеї» Гомера, а найдокладніша в «Історії» Геродота. Гомер, зокрема, звав їх давніми доярами кобилиць і молокоїдами, земля яких одвіку хмарами й млою вповита»

*Відповідь: В*

**18.** Історик та його твір, який свідчив про те, що «венеди походять від одного кореня і сьогодні відомі під трьома назвами: венедів, антів, склавинів...».

**А** Геродот, автор «Історії» в дев'яти книгах

**Б** Гомер, який вважається автором «Іліади» та «Одіссеї»

**В** Йордан у книзі «Походження та діяння гетів»

**Г** Тацит Публій (Гай) Корнелій у нарисі «Германія»

**18.** Історик та його твір, який свідчив про те, що «венеди походять від одного кореня і сьогодні відомі під трьома назвами: венедів, антів, склавінів...».

**А** Геродот, автор «Історії» в дев'яти книгах

**Б** Гомер, який вважається автором «Іліади» та «Одіссеї»

**В** Йордан у книзі «Походження та діяння гетів»

**Г** Тацит Публій (Гай) Корнелій у нарисі «Германія»

*Відповідь: В*

**19.** Одним із найдавніших східнослов'янських племінних союзів був

**А** дулібський

**Б** полянський

**В** древлянський

**Г** хорватський

**19.** Одним із найдавніших східнослов'янських племінних союзів був

**А** дулібський

**Б** полянський

**В** древлянський

**Г** хорватський

*Відповідь: А*

**20.** Верховним богом східних слов'ян був бог

**А** блискавки Перун

**Б** весняного сонця Ярило

**В** неба Сварог

**Г** сонця Даждьбог



20. Верховним богом східних слов'ян був бог

А блискавки Перун

Б весняного сонця Ярило

В неба Сварог

Г сонця Даждьбог

*Відповідь: Г*

**21.** З якою метою княгиня Ольга здійснювала заходи, про які йдеться в уривках з історичних джерел?

*«Ішла Ольга до Новгороду. І встановила вона... погости і оброки. І ловища її є по всій землі, і знаки (її), ...і сани її стоять у Пскові й до сьогодні...»*

*«...Ішла Ольга по древлянській землі з сином своїм і дружиною, встановлюючи устави й уроки; й існують становища її й ловища...»*

- А** окреслити межі Київської Русі для сусідніх держав
- Б** упорядкувати систему управління державою і збору данини
- В** помститися повсталим проти неї племенам
- Г** поширити християнську віру серед язичників

**21.** З якою метою княгиня Ольга здійснювала заходи, про які йдеться в уривках з історичних джерел?

*«Ішла Ольга до Новгороду. І встановила вона... погости і оброки. І ловища її є по всій землі, і знаки (її), ...і сани її стоять у Пскові й до сьогодні...»*

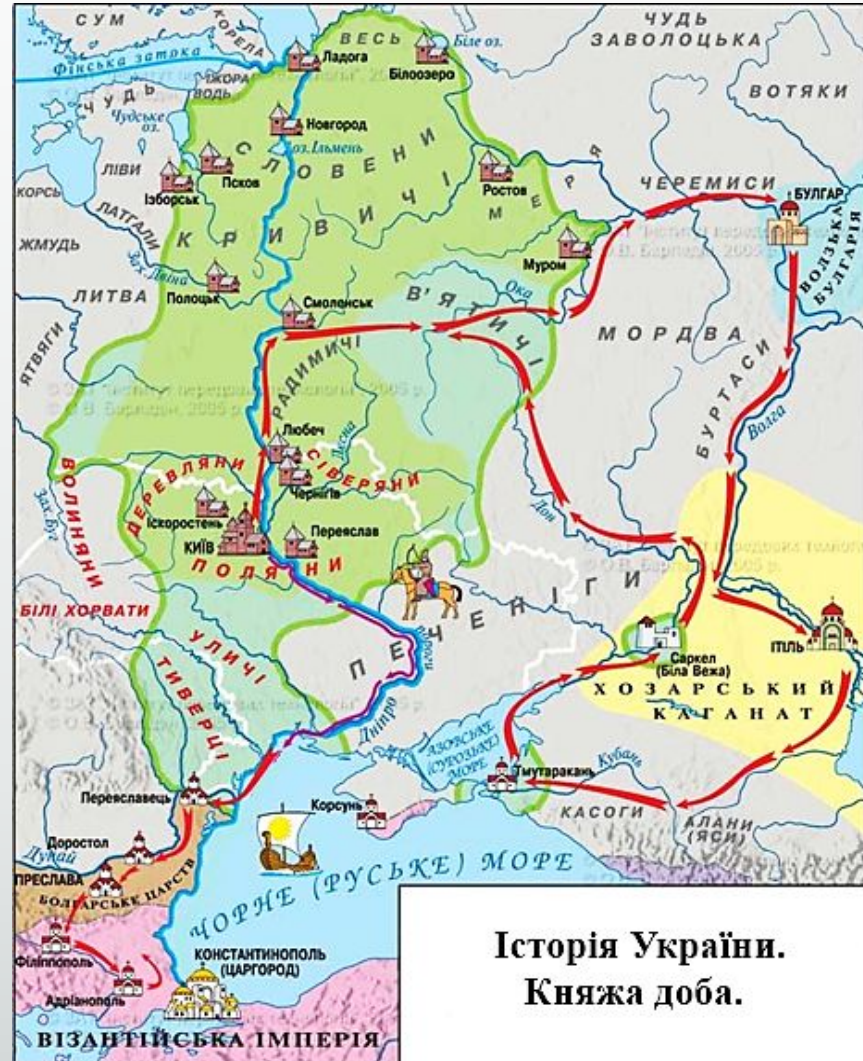
*«...Ішла Ольга по древлянській землі з сином своїм і дружиною, встановлюючи устави й уроки; й існують становища її й ловища...»*

- А** окреслити межі Київської Русі для сусідніх держав
- Б** упорядкувати систему управління державою і збору данини
- В** помститися повсталим проти неї племенам
- Г** поширити християнську віру серед язичників

*Відповідь: Б*

22. Спираючись на подану карту, можна охарактеризувати зовнішньополітичну діяльність князя

- А Аскольда
- Б Олега
- В Ігоря
- Г Святослава



22. Спираючись на подану карту, можна охарактеризувати зовнішньополітичну діяльність князя

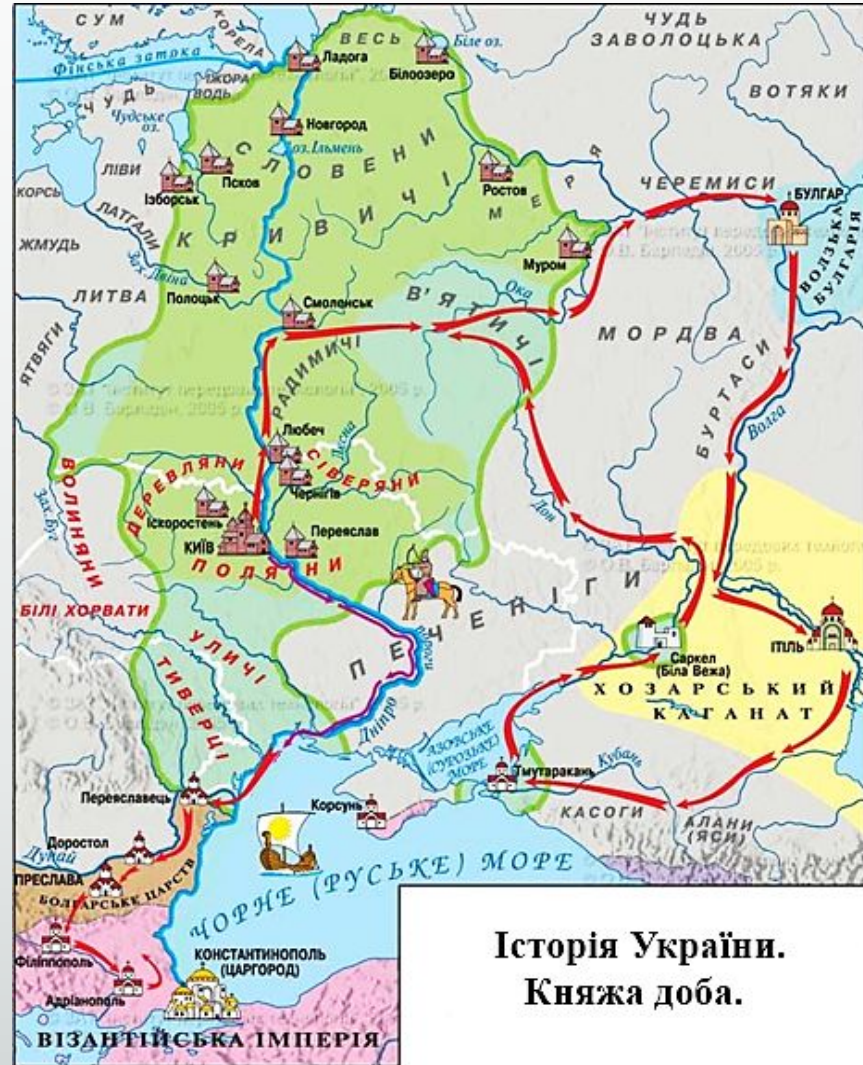
А Аскольда

Б Олега

В Ігоря

Г Святослава

*Відповідь: Г*



Історія України.  
Княжа доба.

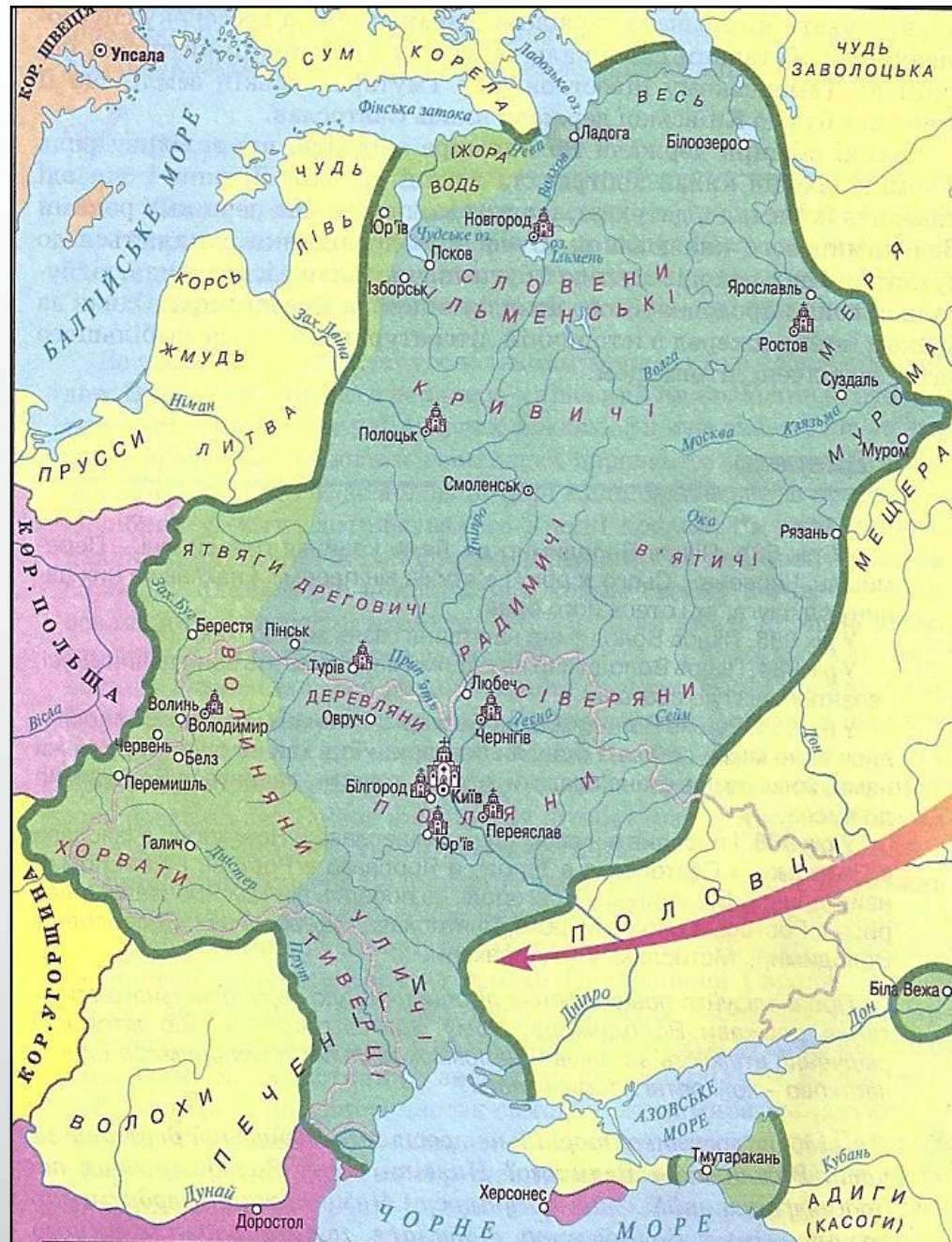
23. На карті зображена територія Київської Русі за часів князювання:

А Володимира Великого і Ярослава Мудрого

Б Володимира Мономаха і Мстислава Володимировича

В Святослава Ігоровича і Володимира Великого

Г Ярослава Мудрого і Володимира Мономаха



23. На карті зображена територія Київської Русі за часів князювання:

А Володимира Великого і Ярослава Мудрого

Б Володимира Мономаха і Мстислава Володимировича

В Святослава Ігоровича і Володимира Великого

Г Ярослава Мудрого і Володимира Мономаха

Відповідь: А



**24.** Політичний розвиток Київської Русі наприкінці X – у першій половині XI ст. характеризувався

**А** виходом держави на міжнародну арену, початком її дипломатичної діяльності

**Б** початком формування її території, широкомасштабними військовими походами

**В** слабкістю великокнязівської влади, місцевим племінним сепаратизмом

**Г** запровадженням державної релігії, поширенням писаного кодифікованого права



**24.** Політичний розвиток Київської Русі наприкінці X – у першій половині XI ст. характеризувався

**А** виходом держави на міжнародну арену, початком її дипломатичної діяльності

**Б** початком формування її території, широкомасштабними військовими походами


**В** слабкістю великокнязівської влади, місцевим племінним сепаратизмом

**Г** запровадженням державної релігії, поширенням писаного кодифікованого права

*Відповідь: Г*

**25.** Зображена на фото пам'ятка давньоруської архітектури збудована за часів князювання


- А** Володимира Великого
- Б** Ярослава Мудрого
- В** Володимира Мономаха
- Г** Данила Галицького



25. Зображена на фото пам'ятка давньоруської архітектури збудована за часів князювання

- А Володимира Великого
- Б Ярослава Мудрого
- В Володимира Мономаха
- Г Данила Галицького

*Відповідь: Б*




26. На фото зображено фрагмент давньоруської

А мініатюри

Б мозаїки

В фрески

Г ікони



26. На фото зображено фрагмент давньоруської


А мініатюри

Б мозаїки

В фрески

Г ікони

*Відповідь: Б*





27. На карті позначено напрямки походів

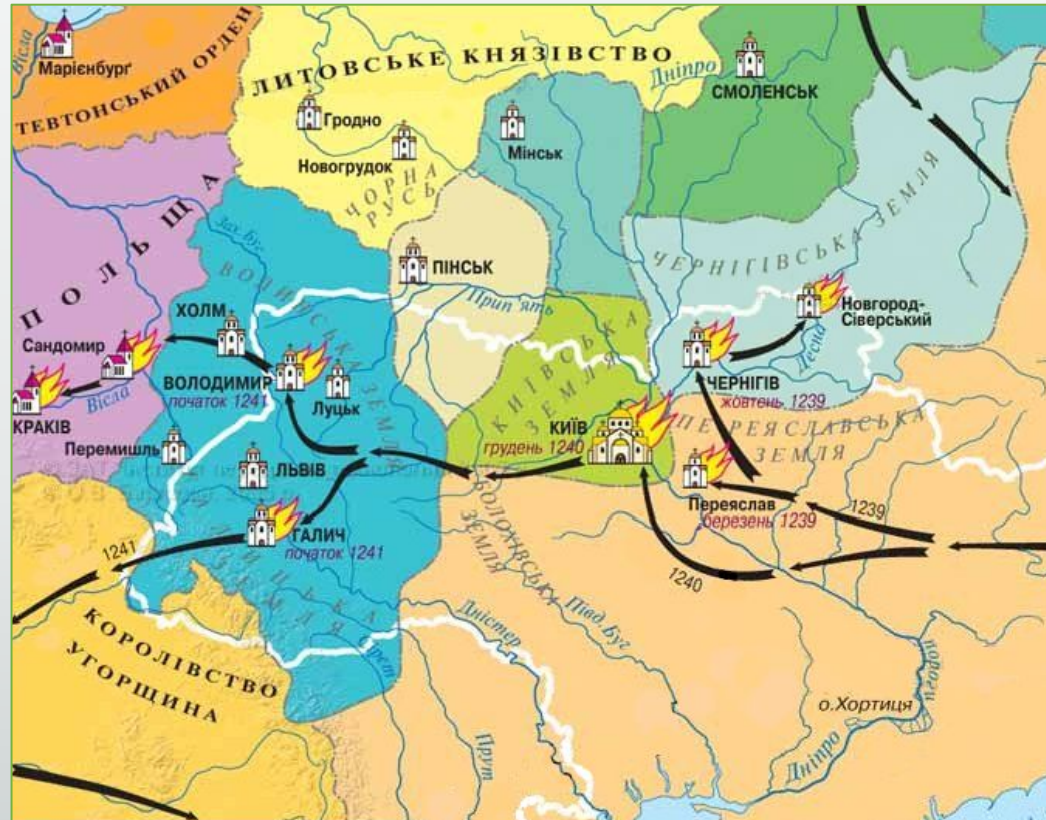
А київського князя Володимира Великого на Червенські міста

Б переяславського князя Володимира Мономаха проти половців

В монгольського хана Батия на землі південно-західної Русі

Г литовського князя Ольгерда на землі західної Русі та Польщі

*Відповідь: В*



28. Позначте місцезнаходження Тмутараканського князівства на картосхемі:





28. Позначте місцезнаходження Тмутараканського князівства на картосхемі:

Правильна відповідь: Г



**29.** Соціальна верства, до якої здебільшого потрапляли полонені; її можна було продавати, дарувати, передавати в спадщину.

**А** закупи

**Б** ізгої

**В** холопи

**Г** челядь

**29.** Соціальна верства, до якої здебільшого потрапляли полонені; її можна було продавати, дарувати, передавати в спадщину.

**А** закупи

**Б** ізгої

**В** холопи

**Г** челядь

Відповідь: ***Г***


30. Реконструкція якої архітектурної споруди зображена на фото?

А воріт Константинополя

Б Золотих воріт Києва

В Лядських воріт міста Ярослав


Г оборонної стіни Білгорода



30. Реконструкція якої архітектурної споруди зображена на фото?

- А воріт Константинополя
- Б Золотих воріт Києва
- В Лядських воріт міста Ярослав
- Г оборонної стіни Білгорода

*Відповідь: Б*



31. Правовий статус «отчини» як родової власності, спадкового володіння певної князівської лінії було закріплено

**А** заповітом Ярослава Мудрого

**Б** нормою «Правди Ярославичів»

**В** постановою Любецького з'їзду

**Г** Статтею «Устава» Володимира Мономаха

31. Правовий статус «отчини» як родової власності, спадкового володіння певної князівської лінії було закріплено

**А** заповітом Ярослава Мудрого

**Б** нормою «Правди Ярославичів»

**В** постановою Любецького з'їзду

**Г** Статтею «Устава» Володимира Мономаха

*Відповідь: В*

**32.** Про якого князя йде мова у наступних рядках:

*«Він бо любив дружину, і золота не збирав, майна не жалів, а давав дружині; бо же він князь доблесний і всякими чеснотами був сповнений. За ним же Україна багато потужила»*

**А** київського князя Володимира Мономаха

**Б** переяславського князя Володимира Глібовича

**В** новгород-сіверського князя Ігоря Святославича

**Г** галицько-волинського князя Романа Мстиславича



**32.** Про якого князя йде мова у наступних рядках:

*«Він бо любив дружину, і золота не збирав, майна не жалів, а давав дружині; бо же він князь доблесний і всякими чеснотами був сповнений. За ним же Україна багато потужила»*

**А** київського князя Володимира Мономаха

**Б** переяславського князя Володимира Глібовича

**В** новгород-сіверського князя Ігоря Святославича

**Г** галицько-волинського князя Романа Мстиславича

*Відповідь: Б*

**33.** Сутність політичної роздробленості Київської Русі полягала в

**А** занепаді країни в умовах безперервних князівських міжусобиць

**Б** зміні унітарної монархії монархією федеративною

**В** цілковитій руйнації єдиної держави, розпаді внутрішніх зв'язків

**Г** утраті незалежності та заміні загальноруського законодавства удільним

**33.** Сутність політичної роздробленості Київської Русі полягала в

**А** занепаді країни в умовах безперервних князівських міжусобиць

**Б** зміні унітарної монархії монархією федеративною

**В** цілковитій руйнації єдиної держави, розпаді внутрішніх зв'язків

**Г** утраті незалежності та заміні загальноруського законодавства удільним

*Відповідь: Б*

**34.** Зміни в політичному устрої Київської Русі в XI – XIII ст. були пов’язані з

**А** обмеженням влади великого київського князя лише судовими функціями

**Б** перетворення боярської ради з дорадчого органу при князі на урядовий орган

**В** занепадом і зникненням віче – органу громадського та державного управління

**Г** появою та функціонуванням інституту загальноруських князівських з’їздів

**34.** Зміни в політичному устрої Київської Русі в XI – XIII ст. були пов’язані з

**А** обмеженням влади великого київського князя лише судовими функціями

**Б** перетворення боярської ради з дорадчого органу при князі на урядовий орган

**В** занепадом і зникненням віче – органу громадського та державного управління

**Г** появою та функціонуванням інституту загальноруських князівських з’їздів

*Відповідь: Г*

35. Яка пам'ятка давньоруської літератури містить такі настанови?

*«... Паче всього – убогих не забувайте, годуйте й подавайте сироті... не давайте сильним погубити людину... гордості не майте в серці і в умі. Старих шануй, як отця, а молодих – як братів. Лжі бережися, і п'янства, і блуду, бо в сьому душа погибає і тіло. А се вам основа всього: страх божий майте вище над усе...»*

**А** «Слово о полку Ігоревім»

**Б** «Руська Правда» Ярослава Мудрого

**В** «Слово про закон і благодать» митрополита Іларіона

**Г** «Повчання дітям» Володимира Мономаха

35. Яка пам'ятка давньоруської літератури містить такі настанови?

*«... Паче всього – убогих не забувайте, годуйте й подавайте сироті... не давайте сильним погубити людину... гордості не майте в серці і в умі. Старих шануй, як отця, а молодих – як братів. Лжі бережися, і п'янства, і блуду, бо в сьому душа погибає і тіло. А се вам основа всього: страх божий майте вище над усе...»*

**А** «Слово о полку Ігоревім»

**Б** «Руська Правда» Ярослава Мудрого

**В** «Слово про закон і благодать» митрополита Іларіона

**Г** «Повчання дітям» Володимира Мономаха

*Відповідь: Г*

36. 1199 – 1205 роки – це період в історії Галицько-Волинського князівства, для якого було характерним

**А** утворення та становлення єдиної держави, поширення влади князя на Київ і Київську землю

**Б** розпад єдиної держави, зростання самостійності бояр, втручання у внутрішні справи сусідніх держав

**В** відновлення державної єдності, намагання створити антимонгольську коаліцію європейських держав

**Г** ослаблення золотоординської залежності, боротьба з Польщею й Литвою за Люблінську та Берестейську землі



36. 1199 – 1205 роки – це період в історії Галицько-Волинського князівства, для якого було характерним

**А** утворення та становлення єдиної держави, поширення влади князя на Київ і Київську землю

**Б** розпад єдиної держави, зростання самостійності бояр, втручання у внутрішні справи сусідніх держав

**В** відновлення державної єдності, намагання створити антимонгольську коаліцію європейських держав

**Г** ослаблення золотоординської залежності, боротьба з Польщею й Литвою за Люблінську та Берестейську землі

*Відповідь: А*

37. Подія, яка сталася 1202 року.

**А** Володимирко переніс свою резиденцію до Галича, підтвердивши свій намір правити в об'єднаному князівстві

**Б** невдалий похід новгород-сіверського князя Ігоря Святославича, описаний у «Слові о полку Ігоревім», проти половців

**В** приєднання Романом Мстиславичем до Галицько-Волинського князівства Київського та Переяславського князівств

**Г** Роман, скориставшись зі смерті Галицького князя Володимира, приєднав Галичину до своїх володінь

37. Подія, яка сталася 1202 року.

**А** Володимирко переніс свою резиденцію до Галича, підтвердивши свій намір правити в об'єднаному князівстві

**Б** невдалий похід новгород-сіверського князя Ігоря Святославича, описаний у «Слові о полку Ігоревім», проти половців

**В** приєднання Романом Мстиславичем до Галицько-Волинського князівства Київського та Переяславського князівств

**Г** Роман, скориставшись зі смерті Галицького князя Володимира, приєднав Галичину до своїх володінь

Відповідь: ***В***

38. Подія, яка сталася в часи князювання Данила Романовича.

**А** бій під Завихвостом в 1205 р. проти князів Лешка Білого та Конрада

**Б** визволення галичан від угорської та польської окупації в 1219 р.

**В** перемога під Дорогочином у 1238 р. над лицарями-хрестоносцями

**Г** похід у 1202 р. на Київ проти свого тестя князя Рюрика Ростиславича

38. Подія, яка сталася в часи князювання Данила Романовича.

**А** бій під Завихвостом в 1205 р. проти князів Лешка Білого та Конрада

**Б** визволення галичан від угорської та польської окупації в 1219 р.

**В** перемога під Дорогочином у 1238 р. над лицарями-хрестоносцями

**Г** похід у 1202 р. на Київ проти свого тестя князя Рюрика Ростиславича

Відповідь: **В**

39. Основне завдання зовнішньої політики Данила Галицького в другій половині 40 – 60-их рр. XIII ст. полягало у

**А** зміцненні власного авторитету та отриманні королівської корони

**Б** укладенні союзу з Польщею для відсічі агресії Тевтонського ордену

**В** утворенні коаліції європейських держав для боротьби з Золотою Ордою

**Г** розширенні території Галицько-Волинського князівства за рахунок сусідніх держав

39. Основне завдання зовнішньої політики Данила Галицького в другій половині 40 – 60-их рр. XIII ст. полягало у

**А** зміцненні власного авторитету та отриманні королівської корони

**Б** укладенні союзу з Польщею для відсічі агресії Тевтонського ордену

**В** утворенні коаліції європейських держав для боротьби з Золотою Ордою

**Г** розширенні території Галицько-Волинського князівства за рахунок сусідніх держав

*Відповідь: В*

40. На карті червоними колами обведено місця битв проти татарів литовсько-руських військ на чолі з князями:

- 1) Ольгердом на р. Сині Води
- 2) Вітовтом на р. Ворсклі

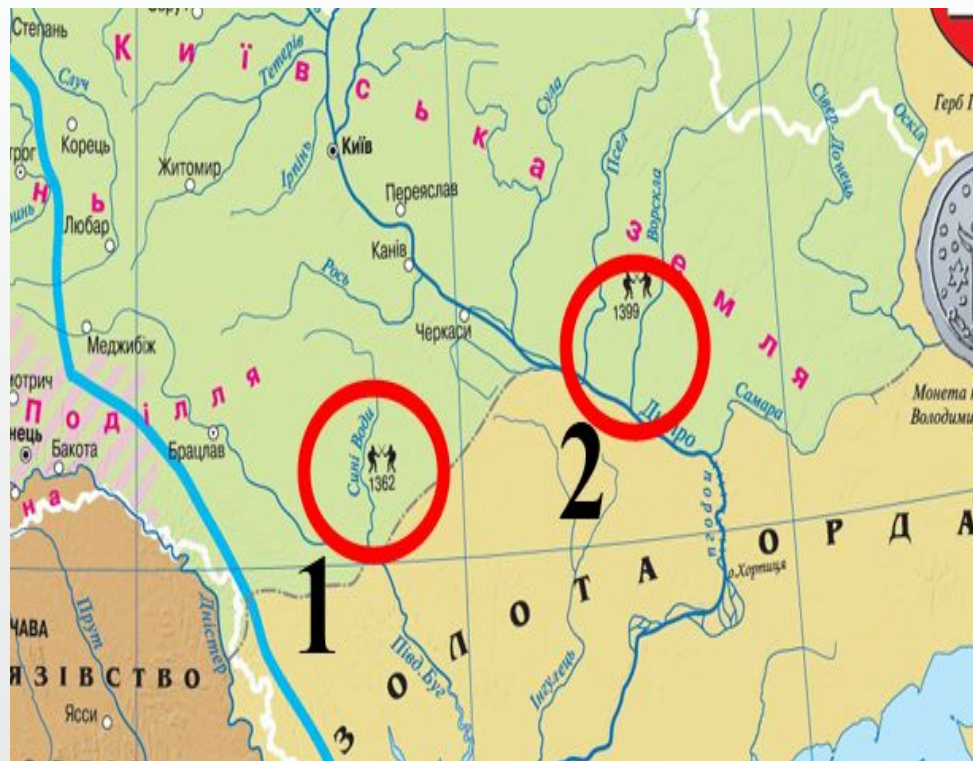
*Укажіть результати битв.*

**А** Ольгерд і Вітовт зазнали поразки

**Б** Ольгерд виграв битву, а Вітовт програв

**В** Ольгерд програв битву, а Вітовт виграв

**Г** Ольгерд і Вітовт виграли битви





40. На карті червоними колами обведено місця битв проти татарів литовсько-руських військ на чолі з князями:

- 1) Ольгердом на р. Сині Води
- 2) Вітовтом на р. Ворсклі

*Укажіть результати битв.*

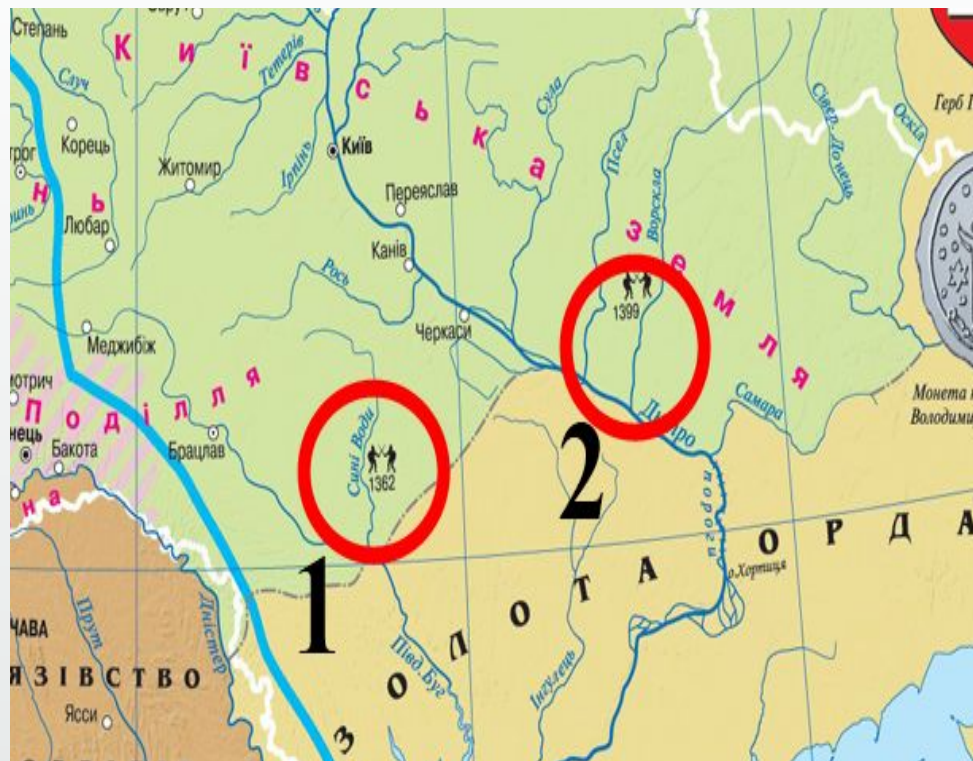
**А** Ольгерд і Вітовт зазнали поразки

**Б** Ольгерд виграв битву, а Вітовт програв

**В** Ольгерд програв битву, а Вітовт виграв

**Г** Ольгерд і Вітовт виграли битви

*Відповідь: Б*



**41.** Вхідження українських земель у XIV ст. до складу Великого князівства Литовського стало результатом

**А** укладання польсько-литовської Кревської унії

**Б** боротьби литовських князів із монгольськими ханами

**В** перемог Литовської держави у війнах із московським князівством

**Г** укладання династичного союзу з останнім галицько-волинським князем

41. Вхідження українських земель у XIV ст. до складу Великого князівства Литовського стало результатом

А укладання польсько-литовської Кревської унії

Б боротьби литовських князів із монгольськими ханами

В перемог Литовської держави у війнах із московським князівством

Г укладання династичного союзу з останнім галицько-волинським князем

*Відповідь: Б*

**42.** До кінця XIV століття Велике князівство Литовське являло собою федерацію земель-князівств, у тому числі українських:

**А** Київського, Брацлавського, Переяславського, Чернігово-Сіверського

**Б** Київського, Волинського, Переяславського, Чернігово-Сіверського

**В** Київського, Волинського, Подільського, Чернігово-Сіверського

**Г** Київського, Брацлавського, Подільського, Чернігово-Сіверського

42. До кінця XIV століття Велике князівство Литовське являло собою федерацію земель-князівств, у тому числі українських:

А Київського, Брацлавського, Переяславського, Чернігово-Сіверського

Б Київського, Волинського, Переяславського, Чернігово-Сіверського

В Київського, Волинського, Подільського, Чернігово-Сіверського

Г Київського, Брацлавського, Подільського, Чернігово-Сіверського

Відповідь: **В**

43. Установіть відповідність між назвами періодів в історії України та подіями.

1 виникнення Київської Русі

2 розквіт Київської Русі

3 Київська Русь за часів роздробленості

4 українські землі у складі Великого князівства Литовського

	А	Б	В	Г	Д
1					
2					
3					
4					

А «А назавтра, в сімнадцятий день, кияни вчинили раду і послали послів до Володимира Всеволодовича в Переяславль, говорячи: «Піди, княже, на стіл батьківський і дідівський...»

Б «Пішов Олег на сіверян, і переміг сіверян, і наклав на них данину. І не велів він їм, хозарам, данину давати, сказавши «Я їм противник, і вам нічого давати...»

В «Народ сей даниною звірів, меду та іншого князям руським служив. Коли ж він відчув, що князі руські розтрощені татарами, він змузнів... і на знесилених русів владу свою поширив...»

Г «Народами Склавинами і Антами не править один муж, але з давніх часів живуть так, що порядкує громада. І для того всі справи, чи щасливі чи лихі, йдуть до громади...»

Д «Потім же вложив бог князю в серце добрий намір: поставив він русина Іларіона митрополитом Русі у святій Софії, зібравши єпископів...»

43. Установіть відповідність між назвами періодів в історії України та подіями.

1 виникнення Київської Русі

2 розквіт Київської Русі

3 Київська Русь за часів роздробленості

4 українські землі у складі Великого князівства Литовського

	А	Б	В	Г	Д
1					
2					
3					
4					

А «А назавтра, в сімнадцятий день, кияни вчинили раду і послали послів до Володимира Всеволодовича в Переяславль, говорячи: «Піди, княже, на стіл батьківський і дідівський...»

Б «Пішов Олег на сіверян, і переміг сіверян, і наклав на них данину. І не велів він їм, хозарам, данину давати, сказавши «Я їм противник, і вам нічого давати...»

В «Народ сей даниною звірів, меду та іншого князям руським служив. Коли ж він відчув, що князі руські розтрощені татарами, він змузнів... і на знесилених русів владу свою поширив...»

Г «Народами Склавинами і Антами не править один муж, але з давніх часів живуть так, що порядкує громада. І для того всі справи, чи щасливі чи лихі, йдуть до громади...»

Д «Потім же вложив бог князю в серце добрий намір: поставив він русина Іларіона митрополитом Русі у святій Софії, зібравши єпископів...»

44. Встановити відповідність між найдавнішими книгами, що збереглися донині, та роками їхнього написання.

1 1057 р.

2 1073 р.

3 1076 р.

4 1115 р.

А «Ізборник»

Б «Ізборник Святослава»

В Мстиславове Євангеліє

Г Остромирове Євангеліє

Д Реймське Євангеліє

	А	Б	В	Г	Д
1					
2					
3					
4					



44. Встановити відповідність між найдавнішими книгами, що збереглися донині, та роками їхнього написання.

1 1057 р.

2 1073 р.

3 1076 р.

4 1115 р.

А «Ізборник»

Б «Ізборник Святослава»

В Мстиславове Євангеліє

Г Остромирове Євангеліє

Д Реймське Євангеліє

	А	Б	В	Г	Д
1					
2					
3					
4					

## 45. Встановити відповідність між поняттями та їхніми визначеннями.

- 1 апокрифи
- 2 билини
- 3 літописи
- 4 житія

	А	Б	В	Г	Д
1					
2					
3					
4					

**А** історично-літературний твір, в якому події записувалися у хронологічному порядку

**Б** народні речитативно-мелодійні епічні пісні соціально-побутового змісту, героїко-патріотичного характеру

**В** поетичний переказ про яку-небудь історичну подію, овіяну славою, що викликає захоплення подіям минулого

**Г** твори на біблійну тематику, які з різних причин не були визнані церквою

**Д** твори, складання яких було неодмінною умовою канонізації людей, прилічених церквою до лику святих

## 45. Встановити відповідність між поняттями та їхніми визначеннями.

- 1 апокрифи
- 2 билини
- 3 літописи
- 4 житія

	А	Б	В	Г	Д
1					
2					
3					
4					

**А** історично-літературний твір, в якому події записувалися у хронологічному порядку

**Б** народні речитативно-мелодійні епічні пісні соціально-побутового змісту, героїко-патріотичного характеру

**В** поетичний переказ про яку-небудь історичну подію, овіяну славою, що викликає захоплення подіям минулого

**Г** твори на біблійну тематику, які з різних причин не були визнані церквою

**Д** твори, складання яких було неодмінною умовою канонізації людей, прилічених церквою до лику святих

**46.** Встановити відповідність між поняттями та їхніми визначеннями.

- 1 «непохожі» селяни
- 2 «похожі» селяни
- 3 селяни-данники
- 4 тяглові селяни

	А	Б	В	Г	Д
1					
2					
3					
4					

- А були прикріплені до свого наділу
- Б відбували панщину із своєю худобою та інвентарем
- В данину платили натурою або грошми
- Г одночасно відбували військову службу
- Д особисто вільні селяни

**46.** Встановити відповідність між поняттями та їхніми визначеннями.

- 1** «непохожі» селяни
- 2** «похожі» селяни
- 3** селяни-данники
- 4** тяглові селяни

	<b>А</b>	<b>Б</b>	<b>В</b>	<b>Г</b>	<b>Д</b>
<b>1</b>					
<b>2</b>					
<b>3</b>					
<b>4</b>					

- А** були прикріплені до свого наділу
- Б** відбували панщину із своєю худобою та інвентарем
- В** данину платили натурою або грошми
- Г** одночасно відбували військову службу
- Д** особисто вільні селяни

47. Установіть відповідність між подіями та часом (століттями), коли вони відбулися.

1 «І тоді єпископ корсунський з попами охрестили Володимира. Охрестився ж він у церкві святої Софії. А стоїть та церква на високому місці посеред города...»

2 «Заложив він у городі Києві ворота Золоті, ...також церкву святої Софії, Премудрості Божої, а потім церкву на Золотих воротах, кам'яну...»

3 «Рушив Аскольд і Дір на Греків, і прийшов туди... Цесарград двомастами кораблів оточили. ...знялася буря з вітром і кораблі русів розметало і побило...»

4 «У той же рік прийшов Батий до Києва з mnogим-множеством сили своєї, і оточив город. І обступила Київ сила татарська, і був город в облозі великій...»

А IX ст.

Б X ст.

В XI ст.

Г XII ст.

Д XIII ст.

	А	Б	В	Г	Д
1					
2					
3					
4					

47. Установіть відповідність між подіями та часом (століттями), коли вони відбулися.

1 «І тоді єпископ корсунський з попами охрестили Володимира. Охрестився ж він у церкві святої Софії. А стоїть та церква на високому місці посеред города...»

2 «Заложив він у городі Києві ворота Золоті, ...також церкву святої Софії, Премудрості Божої, а потім церкву на Золотих воротах, кам'яну...»

3 «Рушив Аскольд і Дір на Греків, і прийшов туди... Цесарград двомастами кораблів оточили. ...знялася буря з вітром і кораблі русів розметало і побило...»

4 «У той же рік прийшов Батий до Києва з mnogим-множеством сили своєї, і окружив город. І обступила Київ сила татарська, і був город в облозі великій...»

А IX ст.

Б X ст.

В XI ст.

Г XII ст.

Д XIII ст.

	А	Б	В	Г	Д
1					
2					
3					
4					

**48.** Установіть відповідність між назвами держав та українськими землями, які їм належали до середини XVI ст.

**1** Велике князівство Литовське

**2** Польське королівство

**3** Московське царство

**4** Молдавське князівство

**А** Буковина

**Б** Закарпаття

**В** Галичина, Холмщина, Західне Поділля

**Г** Чернігово-Сіверщина

**Д** Київщина, Волинь, Підляшшя, Східне Поділля

	<b>А</b>	<b>Б</b>	<b>В</b>	<b>Г</b>	<b>Д</b>
<b>1</b>					
<b>2</b>					
<b>3</b>					
<b>4</b>					



**48.** Установіть відповідність між назвами держав та українськими землями, які їм належали до середини XVI ст.

**1** Велике князівство Литовське

**2** Польське королівство

**3** Московське царство

**4** Молдавське князівство

**А** Буковина

**Б** Закарпаття

**В** Галичина, Холмщина, Західне Поділля

**Г** Чернігово-Сіверщина

**Д** Київщина, Волинь, Підляшшя, Східне Поділля

	<b>А</b>	<b>Б</b>	<b>В</b>	<b>Г</b>	<b>Д</b>
<b>1</b>					
<b>2</b>					
<b>3</b>					
<b>4</b>					

**49.** Установіть послідовність панування кочовиків на території сучасної

України.

**А** гуни

**Б** скіфи

**В** сармати

**Г** кіммерійці

	<b>А</b>	<b>Б</b>	<b>В</b>	<b>Г</b>
<b>1</b>				
<b>2</b>				
<b>3</b>				
<b>4</b>				

**49.** Установіть послідовність панування кочовиків на території сучасної

України.

**А** гуни

**Б** скіфи

**В** сармати

**Г** кіммерійці

	<b>А</b>	<b>Б</b>	<b>В</b>	<b>Г</b>
<b>1</b>				
<b>2</b>				
<b>3</b>				
<b>4</b>				

**50.** Установіть хронологічну послідовність подій, описаних літописцем.

**А** «І прибули Олег та Ігор до гір київських, і довідався Олег, що тут Аскольд і Дір удвох княжать. ...І вбили вони Аскольда й Діра, а Олег став князем у Києві...»

**Б** «У той же рік прийшов Батий до Києва з великою силою, mnogim-множеством сили своєї, і окружив город. І обступила Київ сила татарська, і був город в облозі великій...»

**В** «І зібрав він писців многих, і перекладали вони з грецької на слов'янську мову і Письмо Святе, і списали багато книг. ...сей великий князь ...засіяв книжними словами серця віруючих людей...»

**Г** «У той час прислав папа послів достойних, які принесли Данилові вінець, і скіпетр, і корону, кажучи: «Сину! Прийми од нас вінець королівства...»

	А	Б	В	Г
1				
2				
3				
4				

**50.** Установіть хронологічну послідовність подій, описаних літописцем.

**А** «І прибули Олег та Ігор до гір київських, і довідався Олег, що тут Аскольд і Дір удвох княжать. ...І вбили вони Аскольда й Діра, а Олег став князем у Києві...»

**Б** «У той же рік прийшов Батий до Києва з великою силою, mnogim-множеством сили своєї, і окружив город. І обступила Київ сила татарська, і був город в облозі великій...»

**В** «І зібрав він писців многих, і перекладали вони з грецької на слов'янську мову і Письмо Святе, і списали багато книг. ...сей великий князь ...засіяв книжними словами серця віруючих людей...»

**Г** «У той час прислав папа послів достойних, які принесли Данилові вінець, і скіпетр, і корону, кажучи: «Сину! Прийми од нас вінець королівства...»

	А	Б	В	Г
1				
2				
3				
4				

**51.** Установіть послідовність описаних літописцем подій.

**А** «...і зібралися в Любечі, щоб уладнати мир. І говорили один одному: «Пощо ми губимо Руськую землю? А половці землю нашу разносять і раді є, що межі нами війна донині...»

**Б** «Хозари вийшли супроти нього з каганом своїм. І зступилися війська битися, і сталася битва межі ними, і одолів він хозар і город їхній столицю Ітіль, і город Білу Вежу взяв...»

**В** «У той же рік прийшов Батий до Києва з mnogим-множеством сили своєї, і окружив город. І обступила Київ сила татарська, і був город в облозі...і сповнена була земля Руськая ворогами...»

**Г** «А було ж печенігів без числа. Виступив він із города, приготував до бою дружину. Зійшлися вони на місці, де ото нині свята Софія стоїть. І сталася січа люта, і ледве одолів він печенігів під вечір...»

	А	Б	В	Г
1				
2				
3				
4				

**51.** Установіть послідовність описаних літописцем подій.

**А** «...і зібралися в Любечі, щоб уладнати мир. І говорили один одному: «Пощо ми губимо Руськую землю? А половці землю нашу розносять і раді є, що межі нами війна донині...»

**Б** «Хозари вийшли супроти нього з каганом своїм. І зступилися війська битися, і сталася битва межі ними, і одолів він хозар і город їхній столицю Ітіль, і город Білу Вежу взяв...»

**В** «У той же рік прийшов Батий до Києва з mnogим-множеством сили своєї, і окружив город. І обступила Київ сила татарська, і був город в облозі...і сповнена була земля Руськая ворогами...»

**Г** «А було ж печенігів без числа. Виступив він із города, приготував до бою дружину. Зійшлися вони на місці, де ото нині свята Софія стоїть. І сталася січа люта, і ледве одолів він печенігів під вечір...»

	А	Б	В	Г
1				
2				
3				
4				

**52.** Установіть послідовність подій другої половини XV – на початку XVI ст.

**А** «змова руських князів»

**Б** виступ князя Михайла Глинського

**В** ліквідація Київського удільного князівства

**Г** ліквідація Волинського удільного князівства

	<b>А</b>	<b>Б</b>	<b>В</b>	<b>Г</b>
<b>1</b>				
<b>2</b>				
<b>3</b>				
<b>4</b>				



**52.** Установіть послідовність подій другої половини XV – на початку XVI ст.

**А** «змова руських князів»

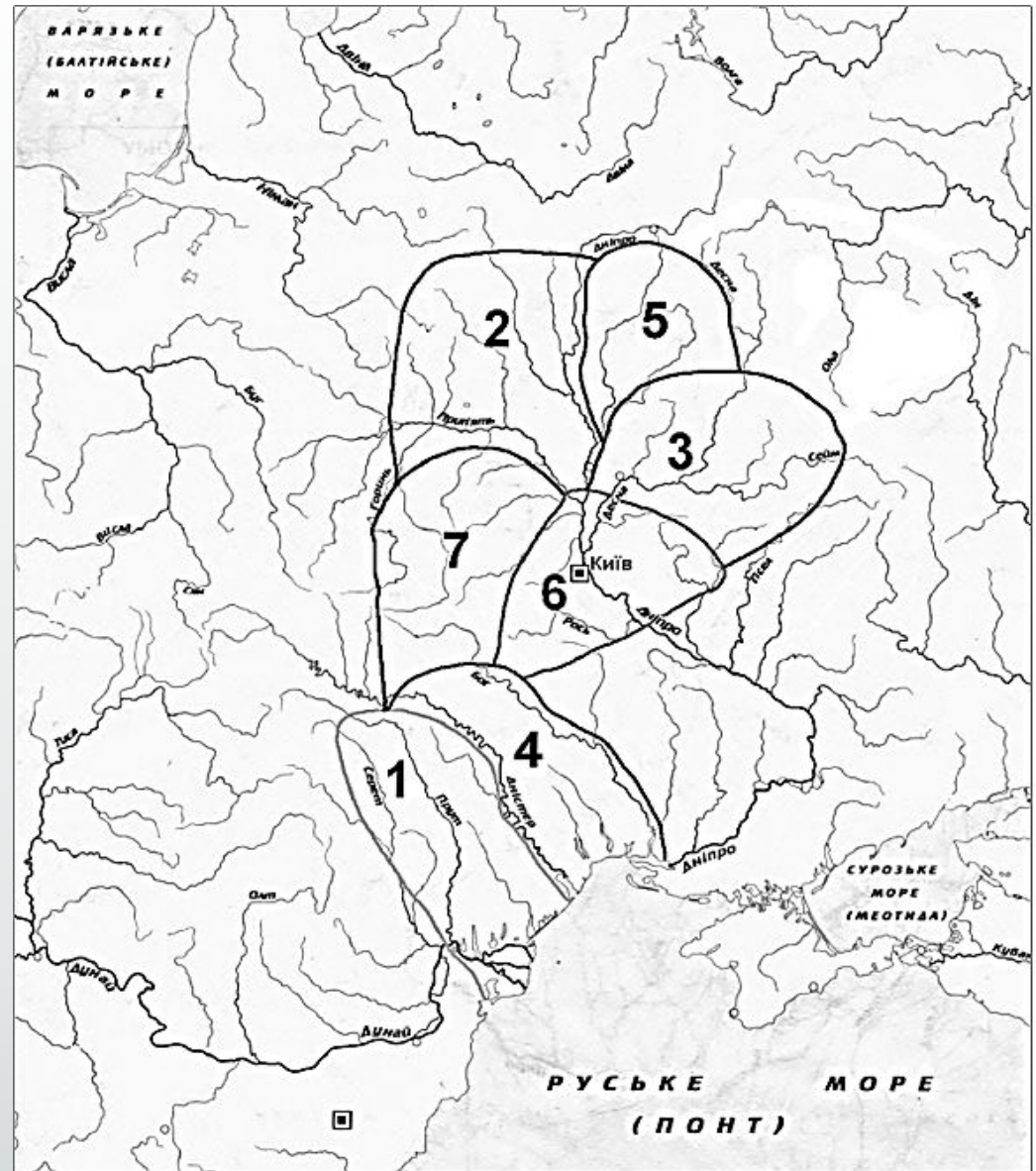
**Б** виступ князя Михайла Глинського

**В** ліквідація Київського удільного князівства

**Г** ліквідація Волинського удільного князівства

	<b>А</b>	<b>Б</b>	<b>В</b>	<b>Г</b>
<b>1</b>				
<b>2</b>				
<b>3</b>				
<b>4</b>				

53. Визначте розташування племінних союзів полян, сіверян і деревлян серед пронумерованих на карті-схемі східнослов'янських союзів племен.

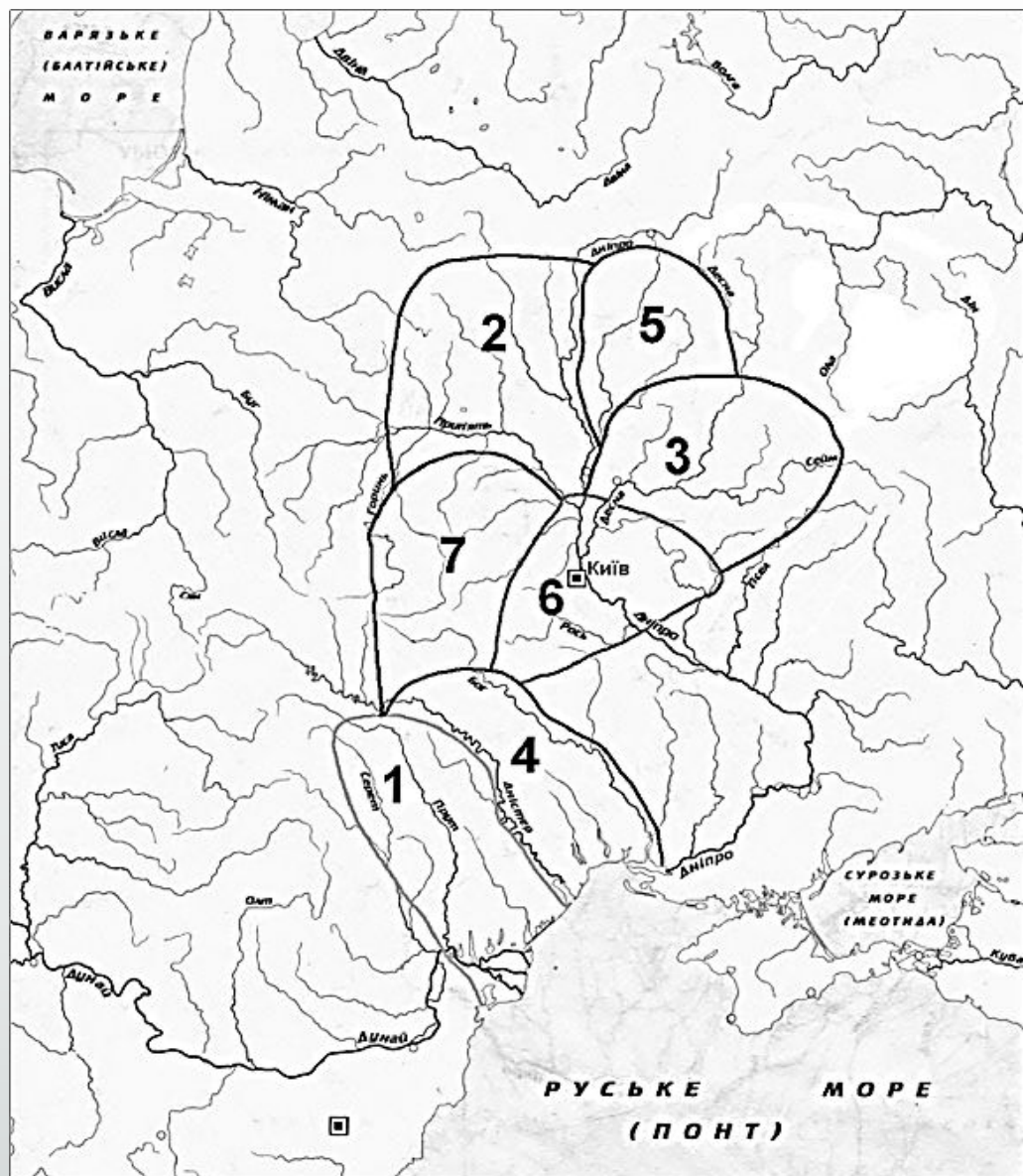


53. Визначте розташування племінних союзів полян, сіверян і деревлян серед пронумерованих на карті-схемі східнослов'янських союзів племен.

3

6

7



54. Воїни-дружинники із скандинавських народів, які в історії згадуються під назвами:

1 балти

2 шведи

3 варяги

4 вікінги

5 нормани

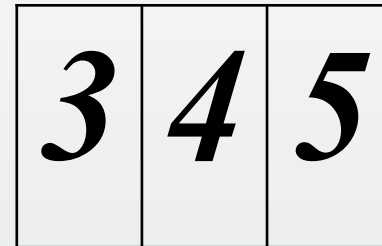
6 поморяни

7 скандинави



54. Воїни-дружинники із скандинавських народів, які в історії згадуються під назвами:

- 1 балти
- 2 шведи
- 3 варяги
- 4 вікінги
- 5 нормани
- 6 поморяни
- 7 скандинави



**55.** Події, які відбулися за часи князювання литовського князя Вітовта (1392-1430):

**1** битва під Вількомиром

**2** Городельська унія


**3** Грюнвальдська битва

**4** «Змова руських князів»

**5** Острівська угода

**6** повстання Михайла Глинського

**7** ліквідація Київського удільного князівства



**55.** Події, які відбулися за часи князювання литовського князя Вітовта (1392-1430):

1 битва під Вількомиром

2 Городельська унія

3 Грюнвальдська битва

4 «Змова руських князів»

5 Острівська угода


6 повстання Михайла Глинського

7 ліквідація Київського удільного князівства



56. Події, які пов'язані з історією Кримського ханства другої половини XVст.:

- 1 битва князя Костянтина Острозького проти ординців на р. Ольшанці
- 2 виникнення нової колонії генуезців Боспоро
- 3 Кримське ханство стає васалом Османської імперії
- 4 напад Османської імперії на Кримське ханство
- 5 перший великий похід кримських татар на Україну
- 6 Хаджі-Гірей проголошує себе володарем Кримського ханства
- 7 битва князя Костянтина Острозького проти ординців під Вишневцем на Волині





**56.** Події, які пов'язані з історією Кримського ханства другої половини XVст.:

- 1** битва князя Костянтина Острозького проти ординців на р. Ольшанці
- 2** виникнення нової колонії генуезців Боспоро
- 3** Кримське ханство стає васалом Османської імперії
- 4** напад Османської імперії на Кримське ханство
- 5** перший великий похід кримських татар на Україну
- 6** Хаджі-Гірей проголошує себе володарем Кримського ханства
- 7** битва князя Костянтина Острозького проти ординців під Вишневцем на Волині

