

# Математика

## 1 сынып

### 10 саны. Дециметр (дм)



*Кім жылдам?*



$$7 + 0$$

$$5 + 3$$

$$6 - 4$$

$$2 - 2$$

$$3 + 5$$

$$9 - \blacksquare = 9$$

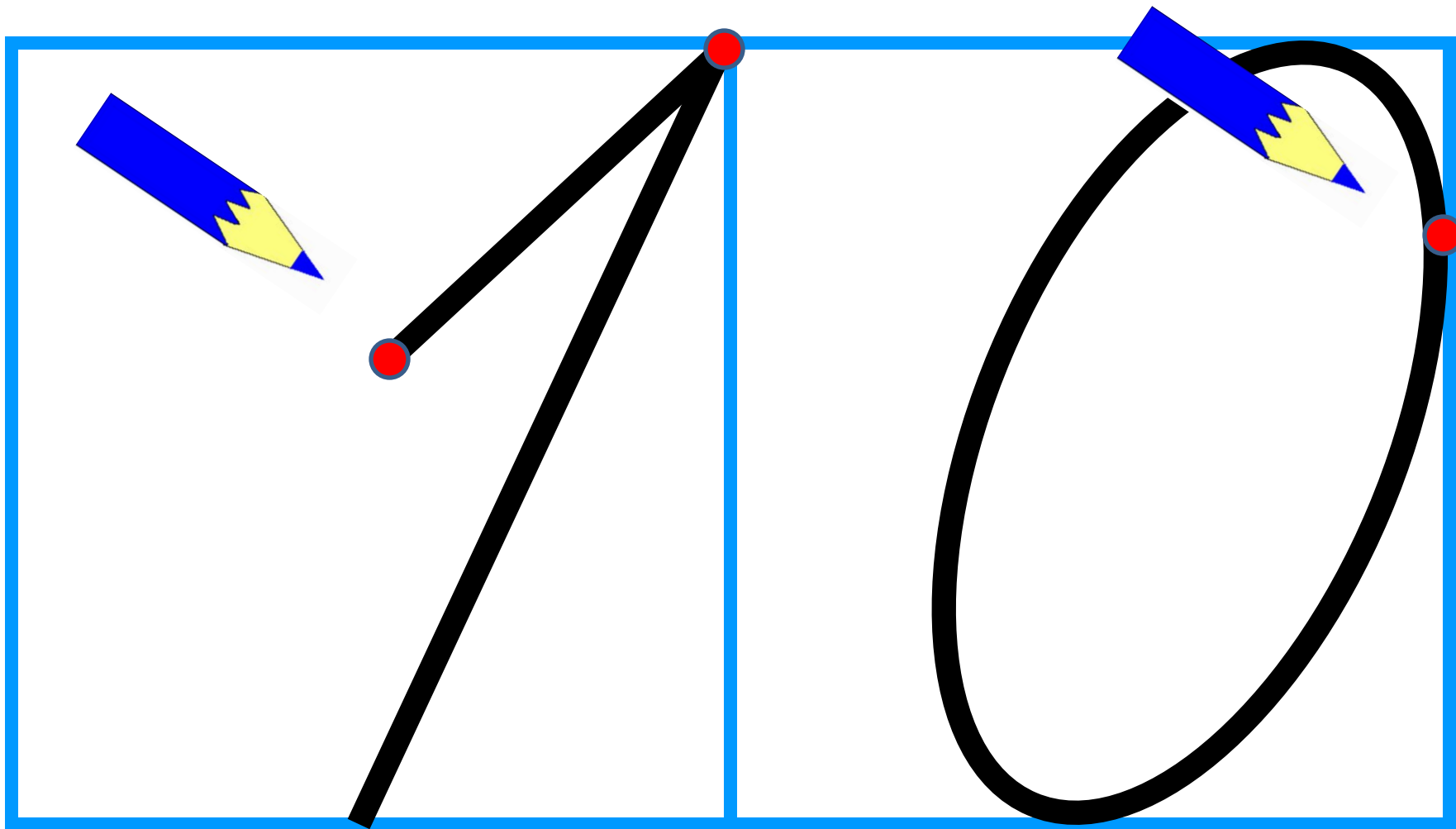
$$\blacksquare - 2 = 7$$

$$\blacksquare + 4 = 7$$

**28 - қараша**  
**СЫНЫП ЖҰМЫСЫ**

*10 10 10 10 10 10 10 10 10 10*





# 28 - қараша

## СЫНЫП ЖҰМЫСЫ

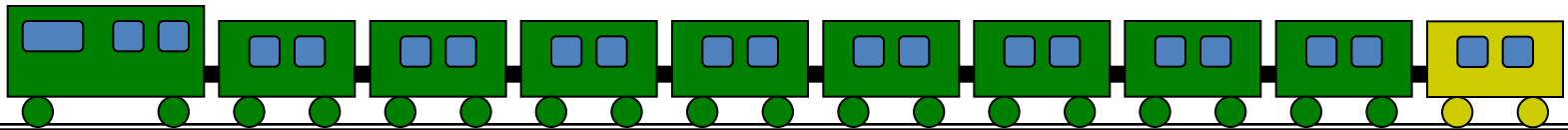
*10 10 10 10 10 10 10 10 10 10*



Сурет бойынша өрнек құрастыр :

$$9 + \boxed{1}$$


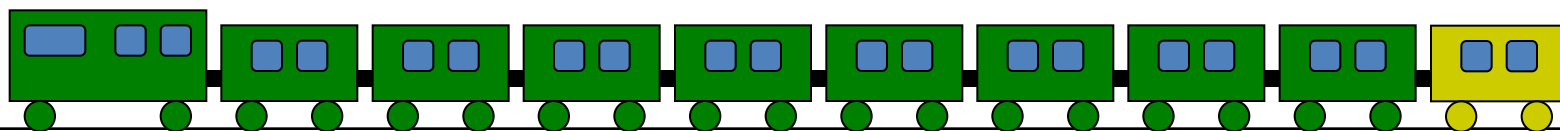
Әр сан нені білдіреді?



Барлығы неше вагон болды?

Ең соңғы вагон нешінші?

Ең соңғы әйнекшеге неше нүкте салу керек?



0 2 4 6 8 9

0 3 5 6 8 10



*Балақай, біліп жүр, 10 - екі таңбалы сан.*



*Бұл қандай фигура ?*



$$10 \text{ см} = 1 \text{ дм}$$

*7 см    1 дм    1 дм    9 см*



*<    >*

*Я Н Қ О*

*Қ О Я Н*

*т л к ү і*

*т ү л к і*



# Сурет бойынша теңдіктер құрастыр



$$\square + \square = 10$$

$$10 - \square = \square$$



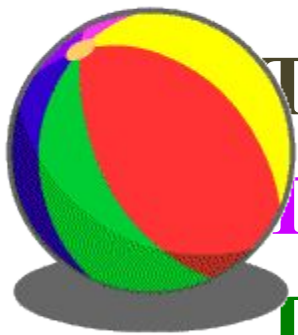
**Добым, добым, домалақ,  
Тоқтамайсың домалап.**

**Үстел үстін бүлдірдің,**

**Тәрелкені сындырдың,**

**Гентек болып кеттің деп,**

**Гұрмын сені тепкім кеп.**

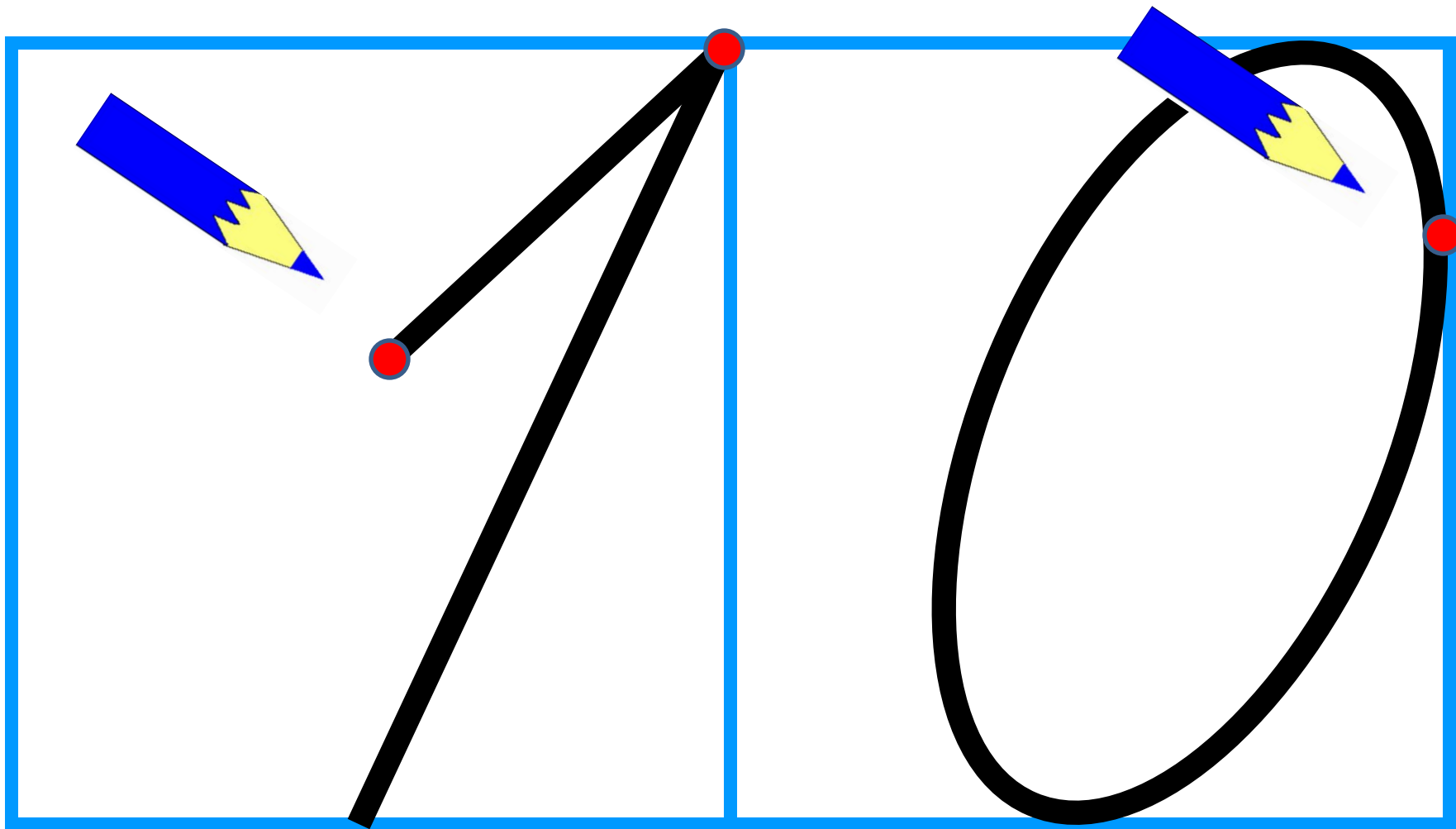




*Әдемі жаз, балақай.*

*10 10 10 10 10 10 10 10 10 10*





# Сурет бойынша теңсіздіктер

құрастыр



Салыстыр (>, <, =)

$$4 + 3 \boxed{>} 9 + 5$$

$$7 + 1 \boxed{>} 2 - 2$$

$$6 + 2 \boxed{>} 3 + 3$$

$$6 + 3 \boxed{>} 9 - 7$$

$$8 - 6 \boxed{<} 4 + 2$$

$$8 - 5 \boxed{<} 4 + 4$$

---



$$1 + \text{star} = 10$$

$$\text{star} + 8 = 10$$


$$3 + \text{star} = 10$$











$$4 + \text{star} = 10$$

$$\text{star} + 5 = 10$$

Менің кім екенімді  
білгің келсе, әжұмбақ  
сандарды тап

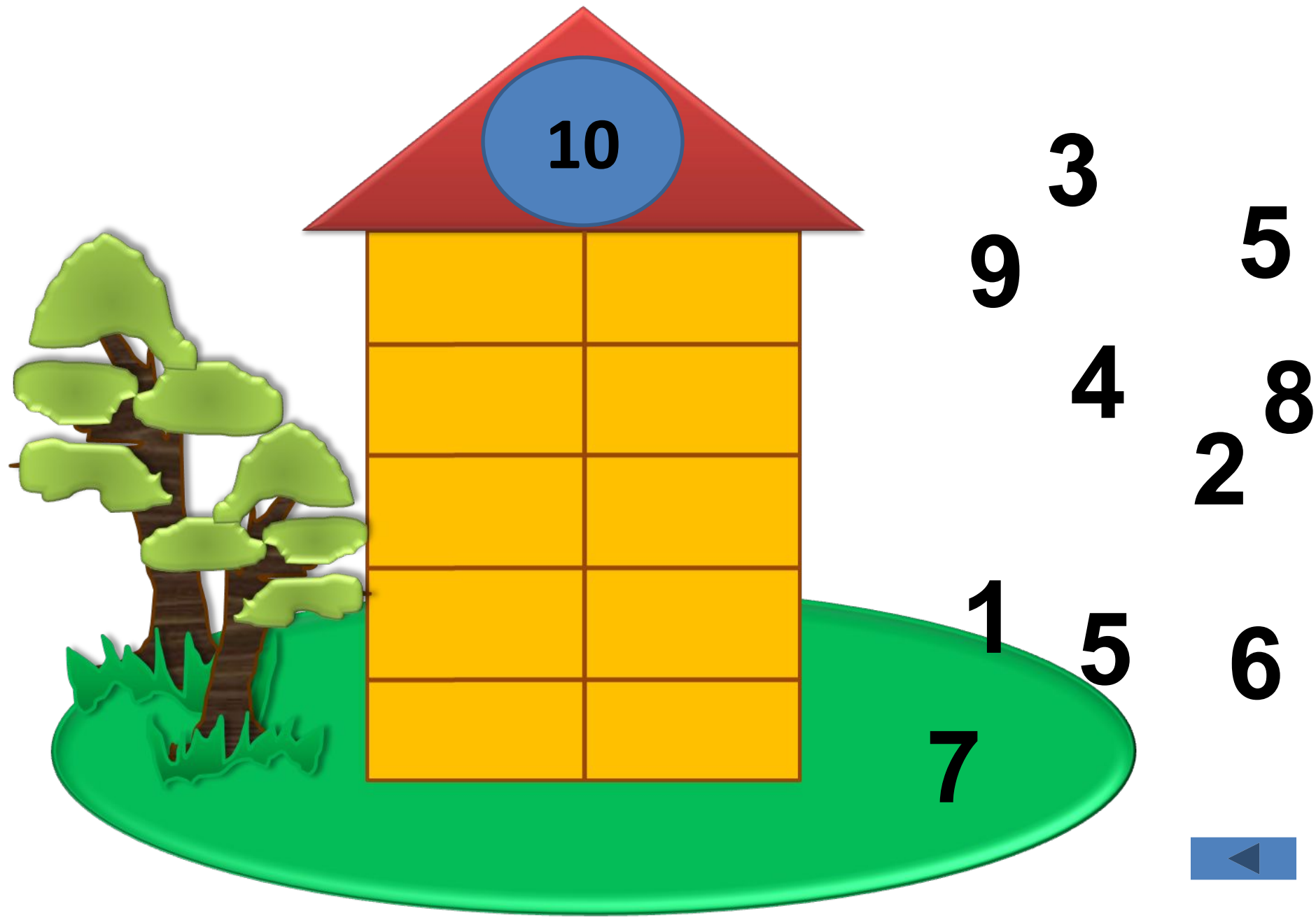




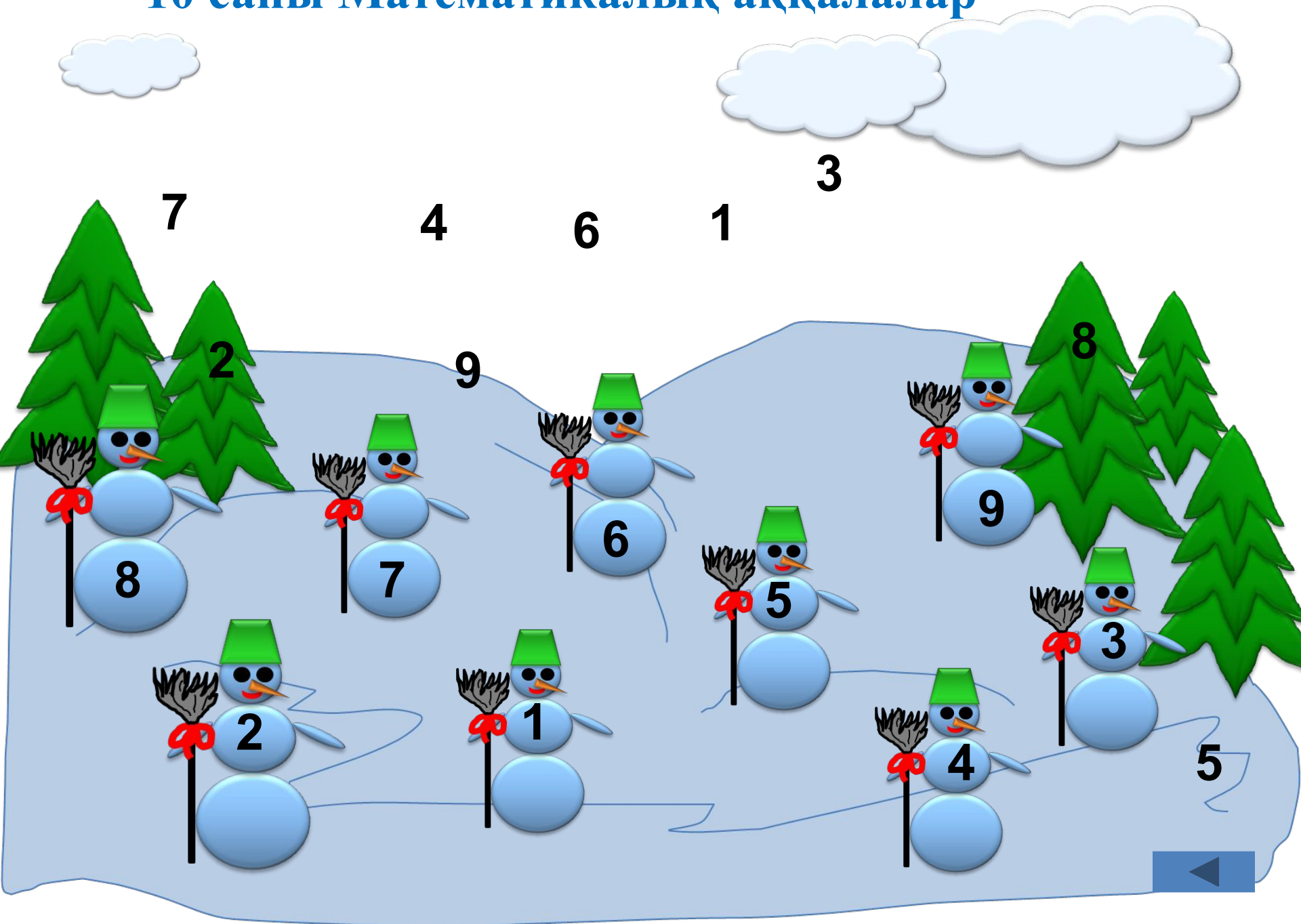


$$3 + 7 = 10$$

# 10 саны Үйшікті толтыр



# 10 саны Математикалық аққалалар



# Үйге тапсырма

## 47-сабақ

3, 4 – тапсырма

Сандар құрамын қайталау

Өрнектерді салыстыру

