



Центр повышения квалификации  
«Московский областной центр интернет-образования»

# Путешествие с Незнайкой к созвездию Весы

НОД по ФЭМП в подготовительной к школе группе


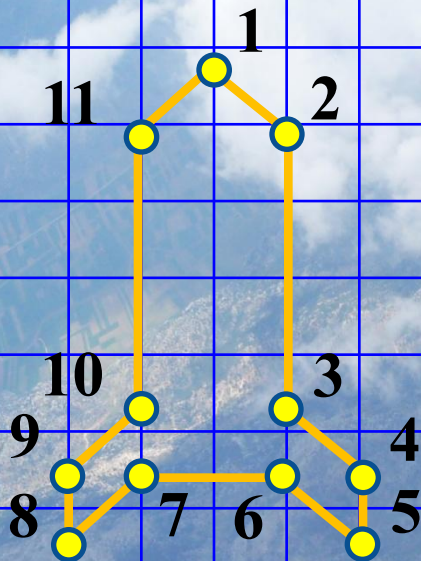


Выполнила: воспитатель  
МДОУ – детский сад №9  
«Семицветик», г. Серпухов  
Богданова Н.В.

18.05.2015–26.06.2015  
Орехово-Зуево




# Игровое упражнение «Соедини цифры по порядку»







# Игровое упражнение «Помоги Незнайке найти соседей числа»




# Игровое упражнение «Помоги Незнайке найти соседей числа»



# Игровое упражнение «Помоги Незнайке найти соседей числа»



# Игровое упражнение «Помоги Незнайке найти соседей числа»



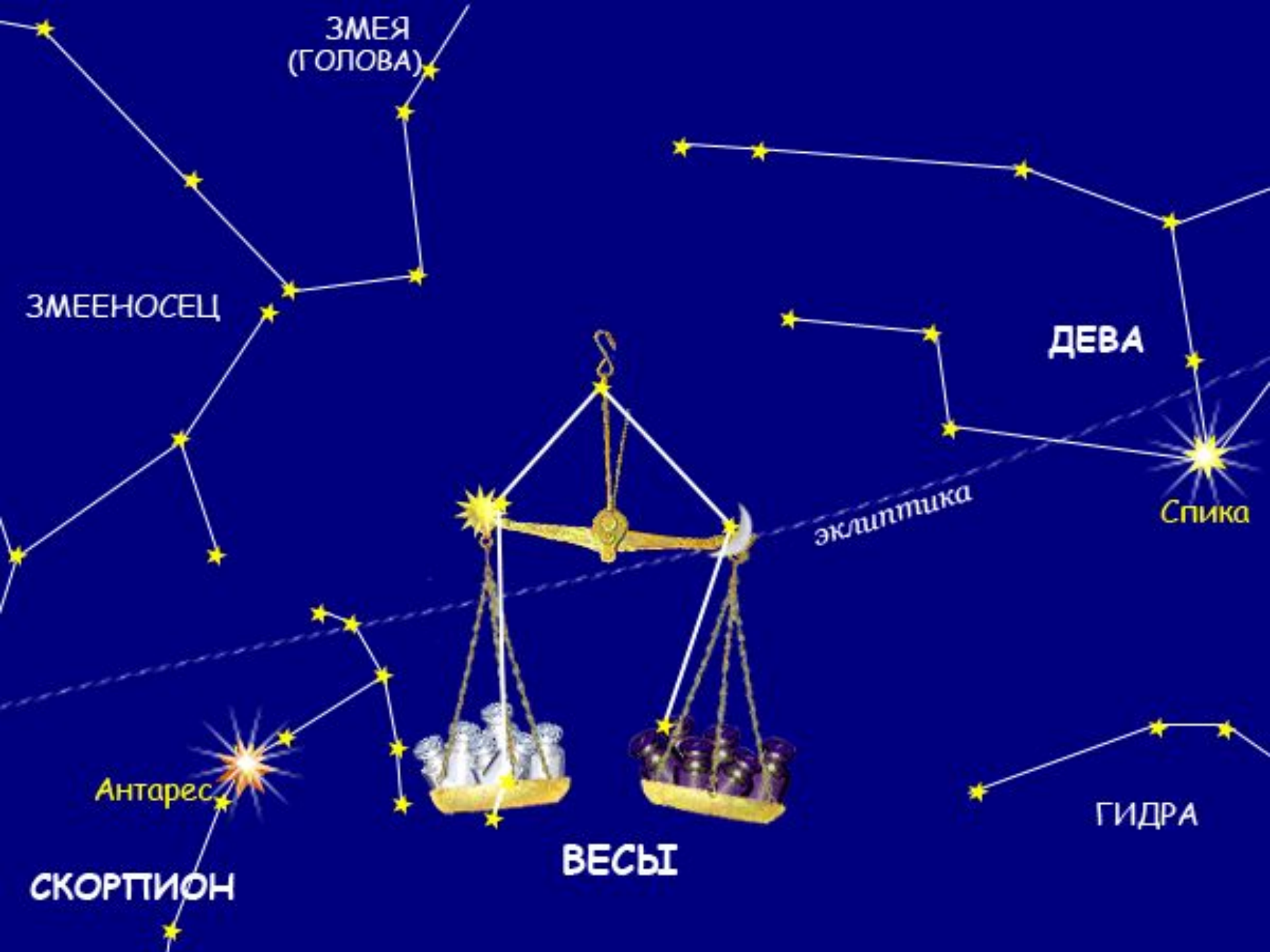
# Игровое упражнение

«Помоги Незнайке найти соседей числа»

1	1	1	1	1	1	1	1	1	2
1	2	3	4	5	6	7	8	9	0







ЗМЕЯ  
(ГОЛОВА)

ЗМЕЕНОСЕЦ

ДЕВА

Спика

эклиптика

Антарес

СКОРПИОН

ВЕСЫ

ГИДРА

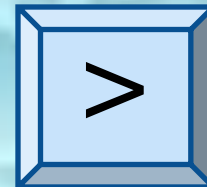
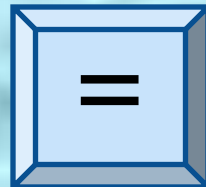
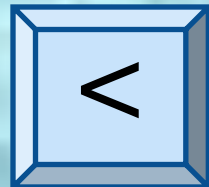




# Сравните числа.

## Поставить соответствующие знаки

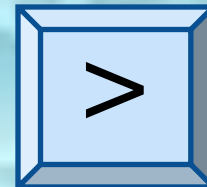
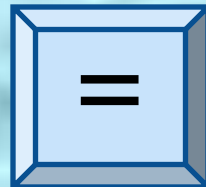
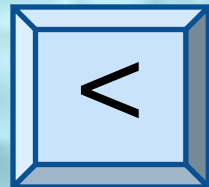
$$6 \neq 9$$



# Сравните числа.

## Поставить соответствующие знаки

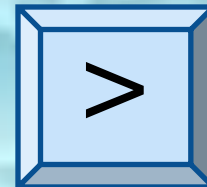
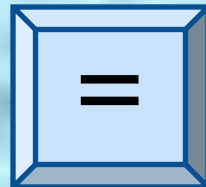
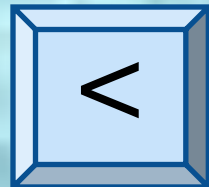
$$8 \neq 7$$



# Сравните числа.

## Поставить соответствующие знаки


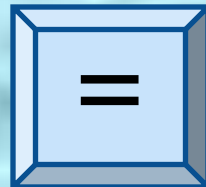
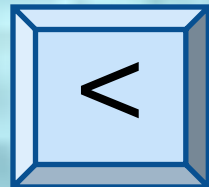
$$3 \neq 2$$



# Сравните числа.

## Поставить соответствующие знаки

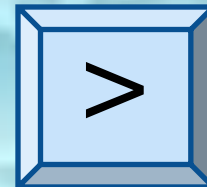
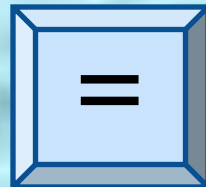
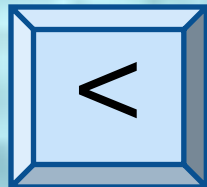
$$4 \neq 4$$



# Сравните числа.

## Поставить соответствующие знаки

2 ≠ 6

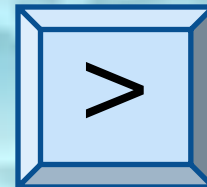
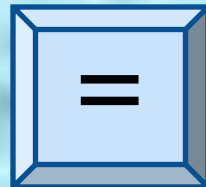
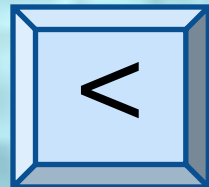




# Сравните числа.

## Поставить соответствующие знаки



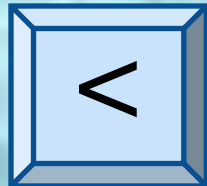
$$5 \neq 5$$



Сравните числа.

Поставить соответствующие знаки


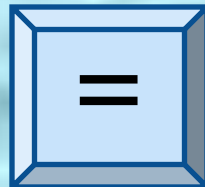
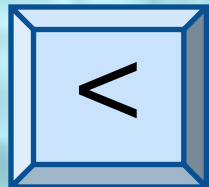
$$8 \neq 10$$



# Сравните числа.

## Поставить соответствующие знаки

$$4 \neq 3$$






# Помоги Незнайке найти пустой сундук.



# Помоги Незнайке найти пустой сундук.






# Помоги Незнайке найти пустой сундук.










# Что можно узнать с помощью весов?



Найди массу зверят.




$$1 \text{ кг} + 1 \text{ кг} + 2 \text{ кг} = 4 \text{ кг}$$



- 1
- 2
- 3
- 4
- 5
- 6
- 7
- 8
- 9
- 10



Найди массу зверят.




$$2\text{ кг} + 5\text{ кг} = 7\text{ кг}$$



- 1
- 2
- 3
- 4
- 5
- 6
- 7
- 8
- 9
- 10



Найди массу зверят.



$$1 \text{ кг} + 2 \text{ кг} + 2 \text{ кг} = 5 \text{ кг}$$



- 1
- 2
- 3
- 4
- 5
- 6
- 7
- 8
- 9
- 10



Найди массу зверят.



$$1 \text{ кг} + 5 \text{ кг} = 6 \text{ кг}$$



- 1
- 2
- 3
- 4
- 5
- 6
- 7
- 8
- 9
- 10



# Кто из животных самый лёгкий? Почему?



4 кг



7 кг



5 кг



6 кг



# Кто из животных самый тяжёлый? Почему?



4 кг



7 кг



5 кг



6 кг





# Реши примеры и подготовь ракету к старту

2	3
4	5
6	7

$4+1$

$5-2$

$9-7$

$2+4$

$5+2$

$6-2$



До новых встреч!

