



**ТЕМА: ЗАКРЕПЛЕНИЕ.
РЕШЕНИЕ ПРИМЕРОВ И ЗАДАЧ НА
СЛОЖЕНИЕ И ВЫЧИТАНИЕ В
ПРЕДЕЛАХ 20.**


6 февраля.




Два гуся летят над нами
Два других за облаками
Пять спустились за ручей
Сколько было всех гусей?

$$2+2+5=9$$





ЦЕПОЧКА



Считаем устно:



$12+7$

$20-6$

$13-1$

$12+8$

$20-15$

Ура!



Задача:

- Строители построили 11 кирпичных домов, а деревянных на 9 меньше. Сколько всего домов построили строители?

1.

Кирп. 11 д. ← } ?
Дерев. ?, на 9 д. м }

Справились!

- 1) $11 - 9 = 2$ (д.) -деревянных.
- 2) $11 + 2 = 13$ (д.)

Ответ: всего 13 домов построили строители.

ФИЗМИНУТКА.

*Серый зайка умывается,
Видно, в гости он
собирается.*

*Вымыл ушки,
Вымыл носик,
Вымыл глазки,
Вымыл хвостик.*

Числовые выражения:

2.

• $(14 + 6) - 15 = 5$

• $(15 - 7) + 4 = 12$


• $(17 - 15) + 8 = 10$

• $12 - (1 + 2) = 9$




У нас всё получилось!

Числовые выражения:



$$9 + (12 - 8) =$$



Хорошо!

$$14 - (16 - 7) =$$

13

8

5

14

17

3.

Было – 7 ст. и 8 ст.

Выпили – 5 ст.

Осталось - ? ст.

$$7+8-5=10(\text{ст.})$$

Ответ: 10 стаканов осталось.

Верно!



Спасибо за работу!

