


# Математика

## 2 класс





**54 21 76 32 65 43**

**з с а к к а**

**«Повелеваю в моём  
Сказочном  
Математическом  
Королевстве ребятам 2 Б  
класса выполнить мои  
желания!»**



# УСТНЫЙ СЧЁТ

Прочитайте примеры, решите их.

4

0) =

9 решат 5) =

ь

=

осироделат





**Запиши**

**ответы:**

1. На сколько надо увеличить **30**, чтобы получить **70** ?
2. Число в котором **4 десятка и 8 единиц**. Уменьши его на **2 десятка**.
3. Уменьшаемое **7 десятков**, вычитаемое **7 единиц**.  
Найди разность.
4. Первое слагаемое **23**, второе **3**. Найди сумму.
5. Найди разность чисел **50 и 30**.
6. Увеличь **47** на **3**.
7. Какое число меньше **15** на **7**?
8. Какое число надо увеличить на **5**, чтобы

**ИСПЫТАНИЯ**



$$68 + 8 = 76$$

$$39 + 6 = 44$$

$$55 + 6 = 62$$

$$33 + 9 = 42$$

$$57 + 7 = 64$$

$$50 - 8 = 62$$

$$87 - 80 = 17$$





$$39 + 6 = 45$$

$$55 + 6 = 61$$




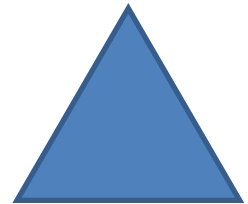




$$50 - 8 = 42$$

$$87 - 80 = 7$$





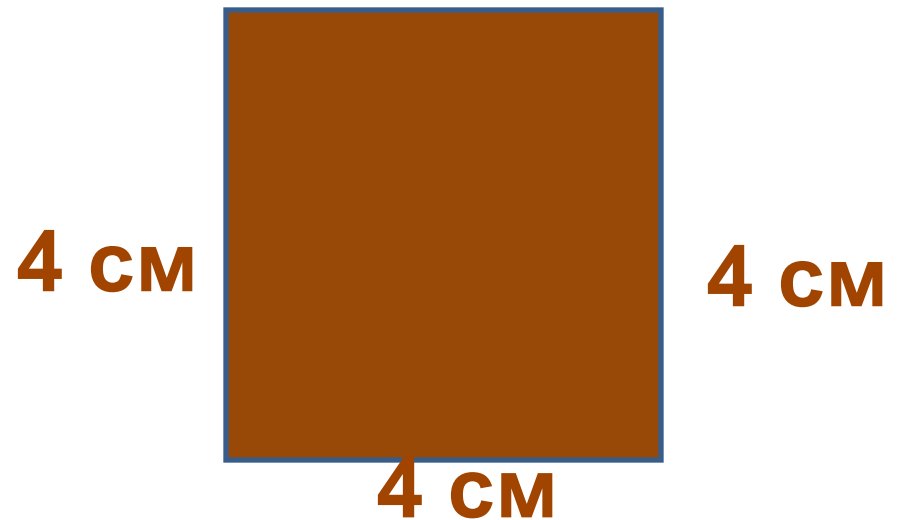
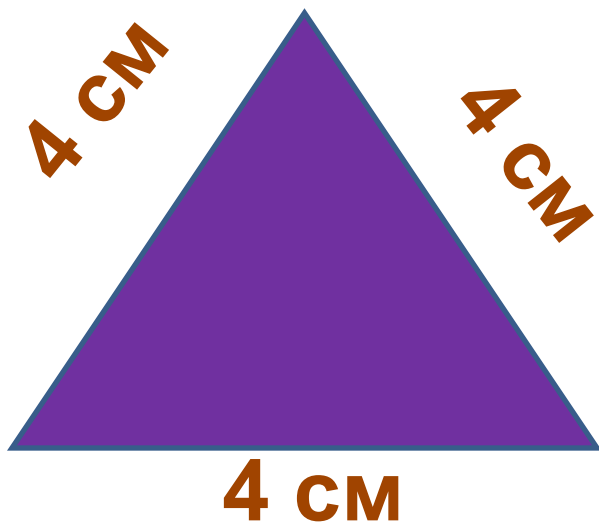




На сколько см периметр треугольника меньше периметра четырёхугольника, если длина стороны каждой фигуры 4 см?

на 4

см





Красной Шапочке нужно пройти до домика бабушки **100 м**. Она уже прошла **70 м**. Сколько метров осталось пройти

Красной Шапочке до домика бабушки?



70 м



?



100 м

$$100 - 70 = 30 \text{ (м)}$$

У Красной Шапочки в корзине **5** пирожков с яблоками и **4** с мясом. А с капустой столько, сколько с яблоками и мясом вместе. Сколько пирожков с капустой в корзине?



$$5 + 4 = 9 \text{ (п.)}$$

После того, как мама вытащила из духовки **10** пирожков, ей осталось вытащить ещё **14**. Сколько пирожков испекла мама?

$$10 + 14 = 24 \text{ (п.)}$$



$$3 \text{ дм } 7 \text{ см} = \text{ см}$$

$$5 \text{ см } 6 \text{ мм} = \text{ мм}$$

$$9 \text{ см } 5 \text{ мм} \text{ \_\_\_ } 1$$

$$5 \text{ м} \text{ \_\_\_\_\_\_ } 50$$

дм







**МОЛОДЦЫ!**

