



# Тесты по окружающему миру

4 класс



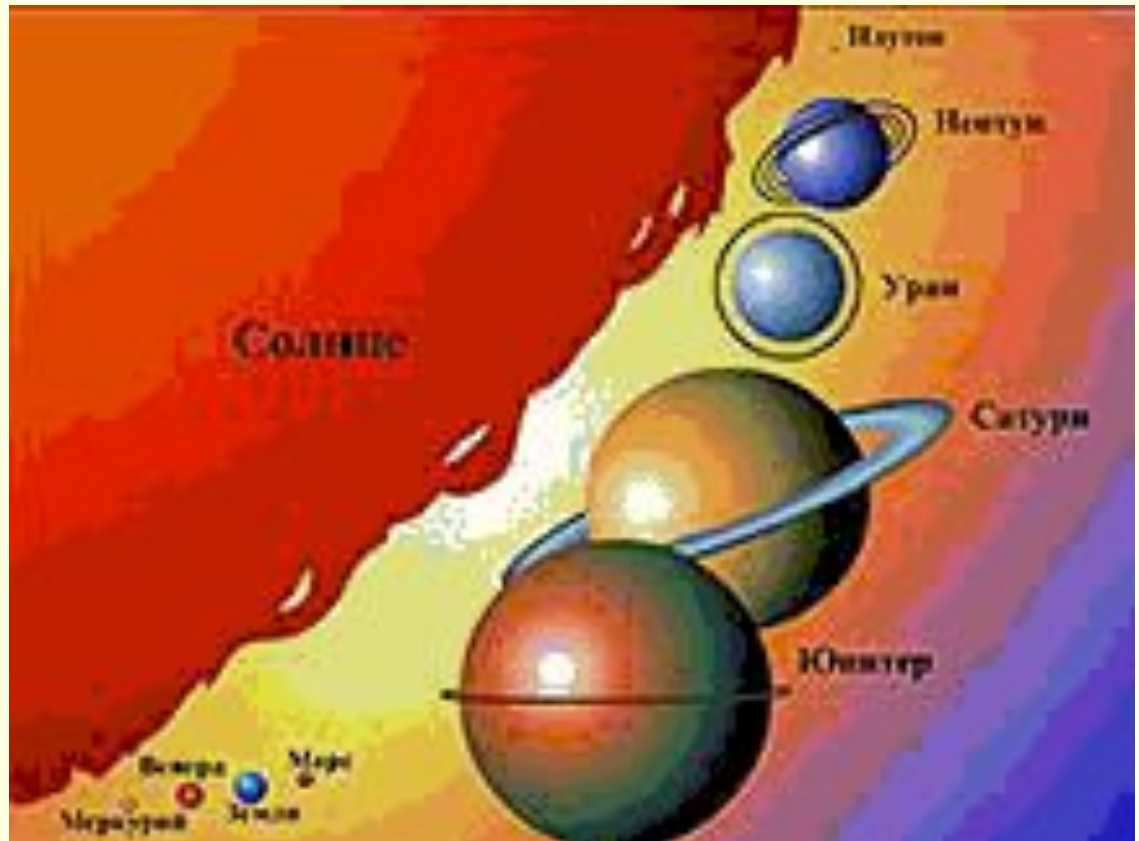
# 1. Как называется наука о небесных телах? Обведи нужную букву.

---

- а) история;
- б) география;
- в) экология;
- г) астрономия.

## 2. Сколько планет вращается вокруг Солнца? Обведи нужную букву.

- а) 7;
- б) 9;
- в) 11.



### 3. Что такое исторический источник? Обведи нужную букву.

---

- а) документ, срок действия которого давно истёк;
- б) источник, родник, в котором вода выходит на поверхность с давних времён;
- в) то, что может рассказать нам о прошлом людей.

## 4. Что может быть историческим источником? Вычеркни лишнее.

- Древняя рукопись, монеты, современные изделия, легенды, пословицы и поговорки, правила поведения в метро, памятники, здания.



## 5. Где расположена природная зона арктических пустынь?

Обведи нужную букву.

---

- а) на островах Тихого океана;
- б) на островах Индийского океана;
- в) на островах Северного Ледовитого океана.

## 6. Подчеркни лишнее слово в каждой строке.

- а) овёс, кукуруза, подсолнечник, лук;
- б) огурец, кабачок, чеснок, вишня;
- в) груша, абрикос, гречиха, смородина;
- г) капуста, лилия, ирис, флоксы.

## **7. Почему хлеб – всем голова? Обведи нужную букву.**

- **а) хлеб бывает круглым, похожим на голову;**
- **б) хлеб – главный продукт питания человека;**
- **в) зёрна – главная часть хлебных растений.**




## 8. Кто открыл Америку? Обведи нужную букву.

■ а) Фернан Магеллан;



■ б) Христофор Колумб;




■ в) Михаил Лазарев.



# 9. Какие права имеет каждый человек? Обведи буквы правильных ответов.

- а) право на свободу;
- б) право на образование;
- в) право на бесплатный проезд в общественном транспорте;
- г) прав на достойную жизнь;
- д) право на труд.



# 10. Установи соответствие.

1. Герб



А. Торжественное музыкальное произведение, принятое как символ государственного единства

2. Флаг



Б. Отличительный знак, который может принадлежать человеку, городу, государству единства

3. Гимн



В. Прикрепленное к древку или шнуру полотнище определенного цвета или нескольких цветов

**11. В каком порядке расположены (сверху вниз) цветные полосы на флаге России?  
Обведи нужную букву.**

- **а) синяя, белая, красная;**
- **б) красная, синяя, белая;**
- **в) белая, синяя, красная.**

