



Урок математики в 3 классе

Математику, друзья,
Не любить никак нельзя.
Очень строгая наука,
Очень точная наука,
Интересная наука -
Это математика!



Минутка час бережёт.

Делу время – потехе час.

Век живи – век учись.

Два часа просыпался,

Два часа умывался,

Один час утирался,

Сутки одевался.

A Ferris wheel is visible in the background, set against a bright blue sky with scattered white clouds. The wheel's structure is partially obscured by the text boxes.

Поздно поднялся - день
потерял.

В молодости не научился – жизнь
потерял.



Цель урока:

Закрепить ранее изученный материал по математике, расширить знания детей о времени, воспитать бережное отношение ко времени



Задачи

1. Закрепление вычислительных навыков, знания таблицы умножения, умение решать задачи, используя действие умножения
2. Формирование представления о времени и о единицах его измерения, систематизировать знания единичных отношений между мерами времени
3. Развитие логического мышления, внимания, общей культуры

13 января.
Классная работа.



Напишите число, которое
находится между числами 87
и 89.



К 8 десяткам прибавьте 4
единицы.





Делимое 72, делитель 8,
найдите частное.



Первое слагаемое 78, второе слагаемое 2. Чему равна сумма этих чисел?



Чему равно делимое, если делитель равен 7, а частное - 8.

Проверяем:

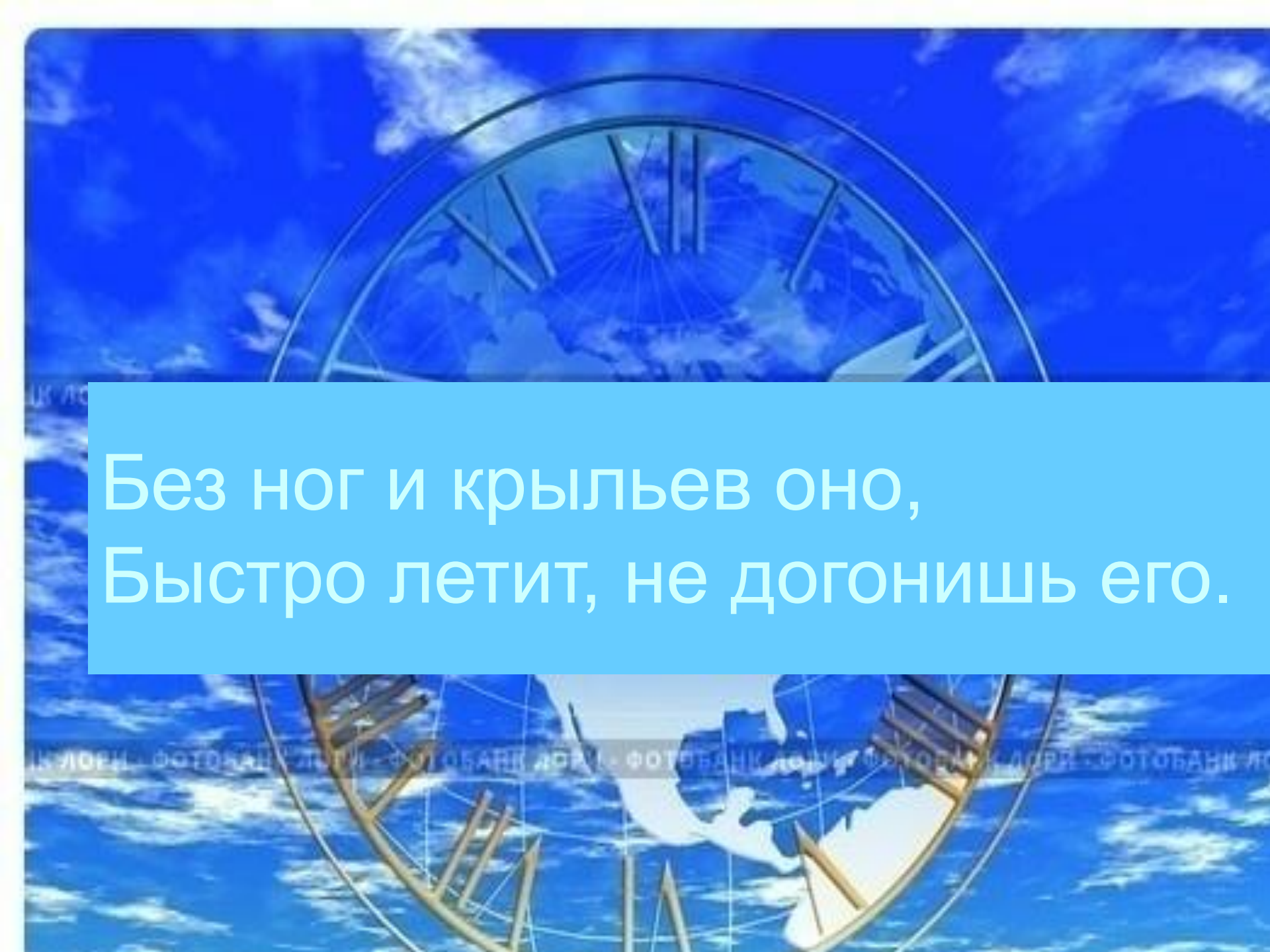
88, 84, 63, 9, 80, 56

Расположите числа в порядке
возрастания

88, 84, 63, 9, 80, 56

Проверяем:


9, 56, 63, 80, 84, 88



Без ног и крыльев оно,
Быстро летит, не догонишь его.

Учимся определять время по часам!

И УЧИМСЯ ИГРАЯ



Ура
гос госос



Секунда

Минута


Час

Сутки

Неделя

Месяц

Год




Время

© ElenArt / Фотобанк Лори



lori.ru/25




1 сут.
2 сут.
5 сут.
30 сут.

Время

© ElenArt / Фотобанк Лори



lori.ru/256666

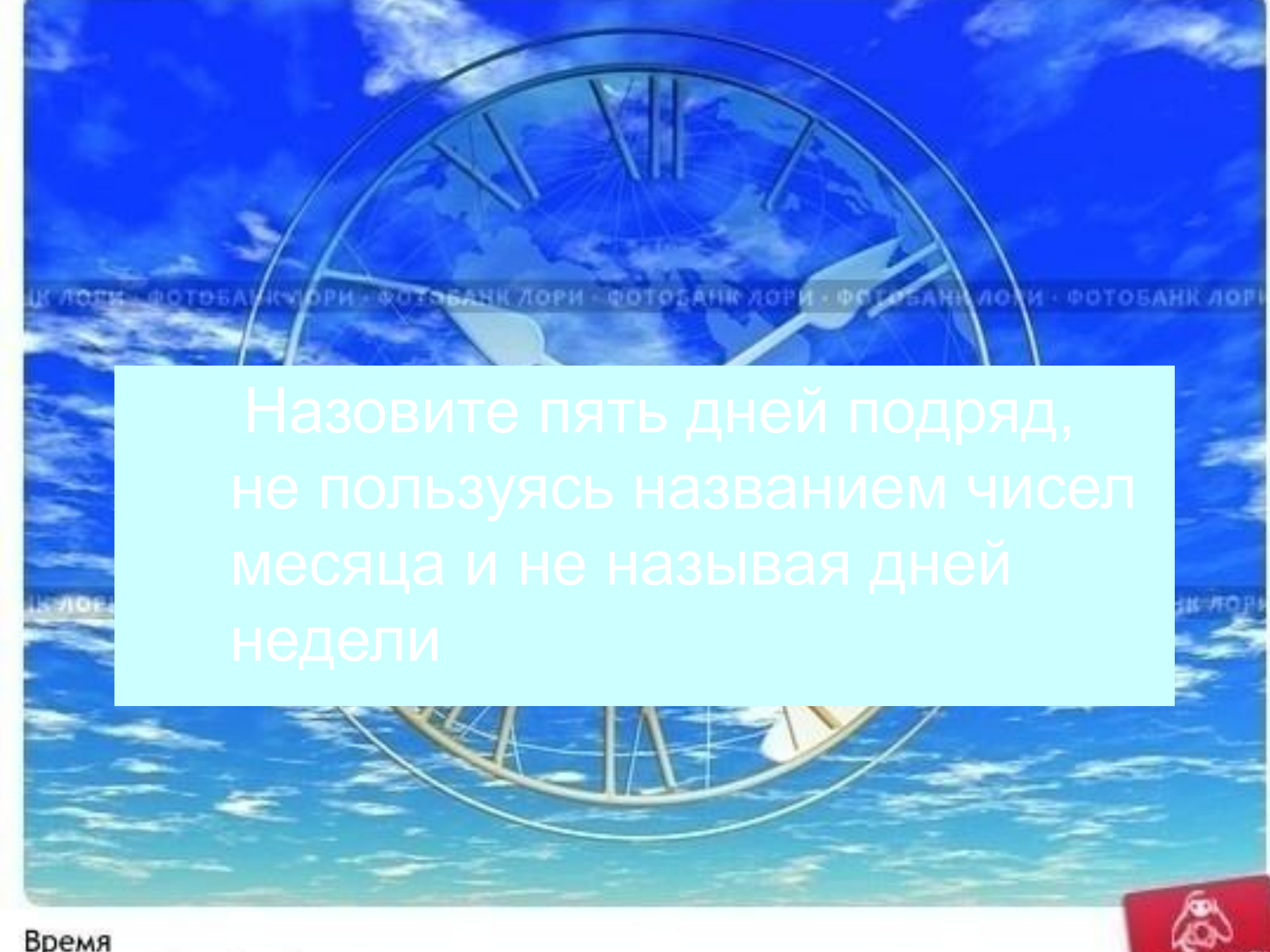


Одни сутки
Двое суток
Пять суток
Тридцать суток









Назовите пять дней подряд,
не пользуясь названием чисел
месяца и не называя дней
недели





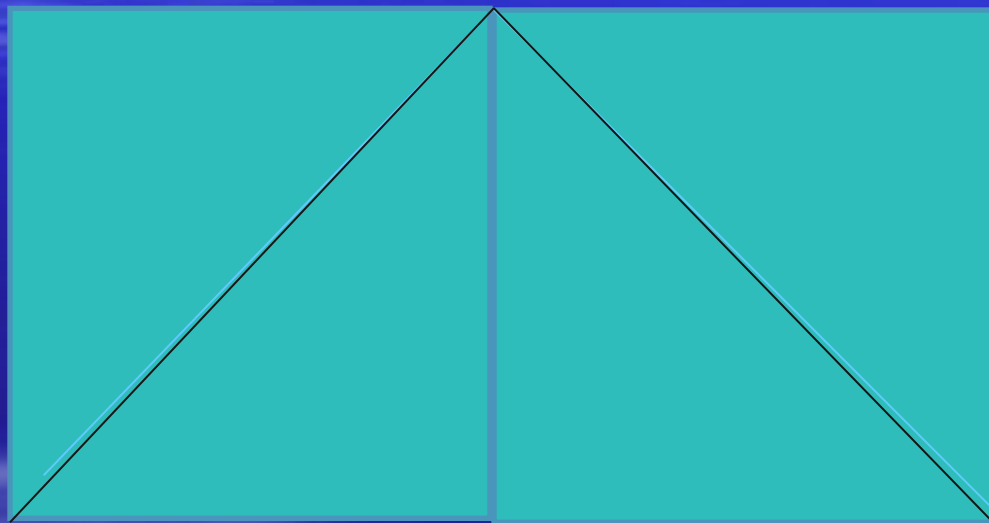










Какие фигуры вы видите на этом рисунке?
Сколько их?



Начертите квадрат со стороной 4 см. Проведите линию так, чтобы получились четырёхугольник и треугольник.














Первые часы



■ Песочные часы



Водяные часы



Солнечные часы










 **NICESOFT.RU**
прекрасный софт

Оцените изящество чудной задачи –
сколько времени на этих часах?





Отгадай загадки:

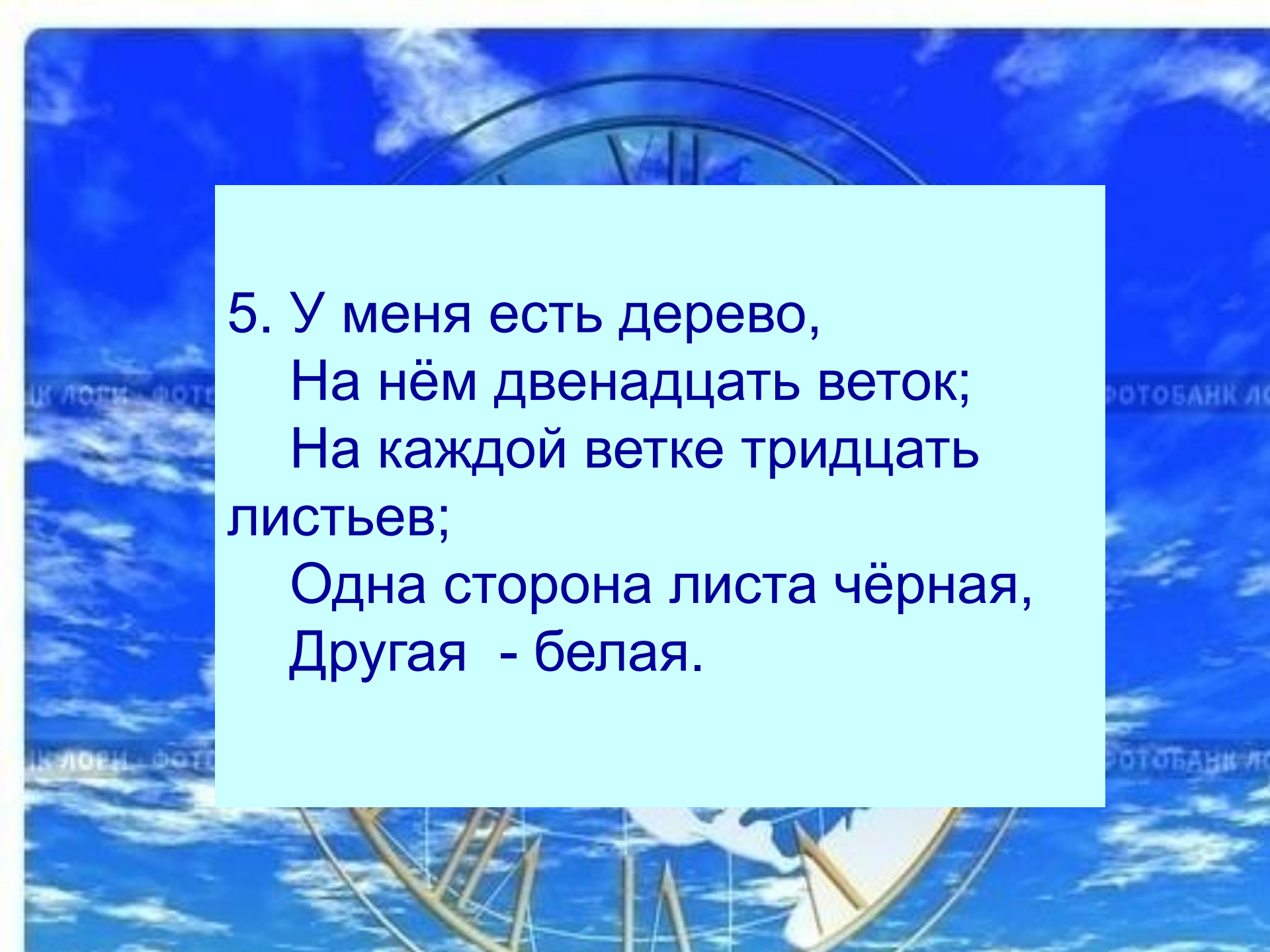
1. Что возвратить нельзя?

2. Что может в одно и то же время: стоять и ходить; висеть и стоять, ходить и лежать?

3. Две сестрицы друг за другом
Пробегают круг за кругом:
Коротышка – только раз,
Та, что выше – каждый час.



4. Выходили двенадцать молодцев,
Выносили пятьдесят два сокола,
Выпускали 365 лебедей.



5. У меня есть дерево,
На нём двенадцать веток;
На каждой ветке тридцать
листьев;
Одна сторона листа чёрная,
Другая - белая.

Домашнее задание

1. Сделать макет часов.
2. Составить свой режим дня.
3. Выполнить тест № 3

