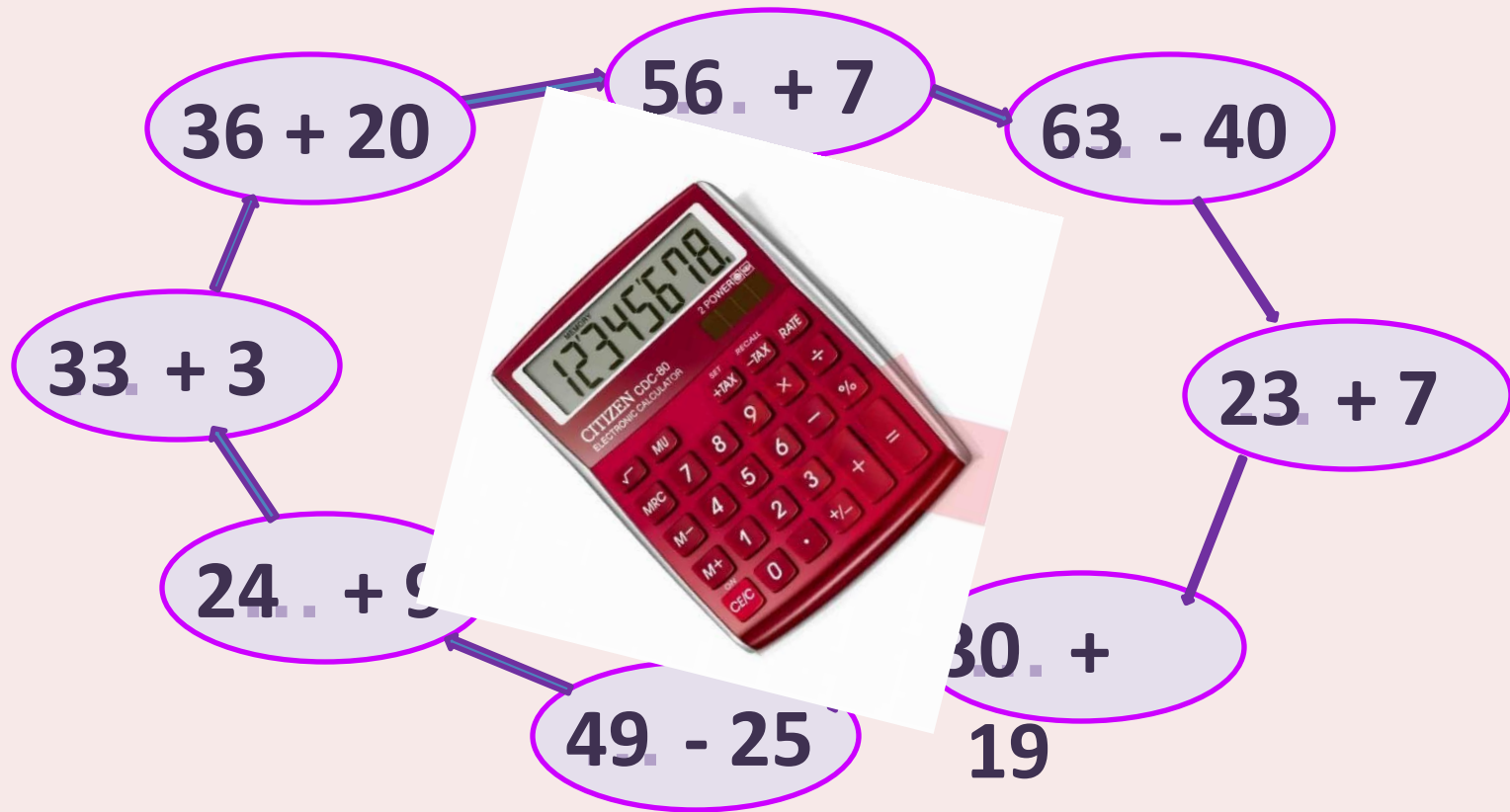



Урок №28(73)  
**Работа над задачей.  
Поиск закономерностей**

# Решите «круговые» примеры




Найди закономерность в записи ряда чисел, продолжи ряд по тому же правилу.

27, 24, 21, 18, 15,



12, 9, 6, 3, 0.

78, 72, 66, 60, 54,



48, 42, 36, 30, 24.







Найди значения выражений.

$$72 - 4 = 68$$

$$54 - 5 = 49$$

$$63 - 6 = 57$$

$$45 - 7 = 38$$

$$23 - 7 = 16$$

$$74 - 8 = 66$$

$$55 - 9 = 46$$

$$37 - 8 = 29$$

$$44 - 6 = 38$$

$$72 - 8 = 64$$

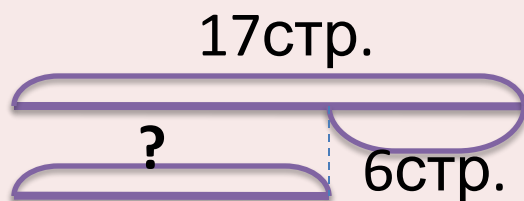
$$21 - 7 = 14$$

$$33 - 9 = 24$$

## Сравни тексты задач. Чем они похожи? Чем отличаются?

1. В первом рассказе 17 страниц. Это на 6 страниц больше, чем во втором рассказе. Сколько страниц во втором рассказе?

2. В первом рассказе 17 страниц. Во втором на 6 страниц меньше. Сколько страниц во втором рассказе?



$$17 - 6 = 11 \text{ (стр.)}$$

Ответ: во втором рассказе 11 страниц.

$$17 - 6 = 11 \text{ (стр.)}$$

Ответ: во втором рассказе 11 страниц.