

Увлекательная
астрономия



Ребусы

Кроссворд

Игры



Разгадайте ребусы и найдите эти планеты на рисунке.



е

,



О=А



Разгадайте ребусы и найдите эти планеты на рисунке.



У Р Н А



Разгадайте ребусы и найдите эти планеты на рисунке.



“ ”



Г=П

“ ”



Разгадайте ребусы и найдите эти планеты на рисунке.



1 3 5 4 6 2
СТРУНА



Разгадайте ребусы и найдите эти планеты на рисунке.



””

С



Разгадайте ребусы и найдите эти планеты на рисунке.



1 3 2 ^л√4



Разгадайте ребусы и найдите эти планеты на рисунке.



Ц=Р



ЦА=Й



Разгадайте ребусы и найдите эти планеты на рисунке.



К=Н



””



Л=Н





**На Луне жил звездочет,
Он планетам вел подсчет.
Меркурий - раз, Венера - два-с,
Три - Земля, четыре - Марс.
Пять - Юпитер, шесть - Сатурн,
Семь - Уран, восьмой - Нептун.**



1

--	--	--	--	--	--	--	--	--	--	--	--

2

--	--	--	--	--	--	--	--

3

--	--	--	--	--	--	--	--

4

--	--	--	--	--	--	--	--	--	--

5

--	--	--	--	--	--	--	--	--	--

6

--	--	--	--	--	--	--	--

7

--	--	--	--	--	--	--	--	--	--

8

--	--	--	--	--	--	--	--

9

--	--	--	--	--	--	--	--	--

10

--	--	--	--	--	--	--	--

11



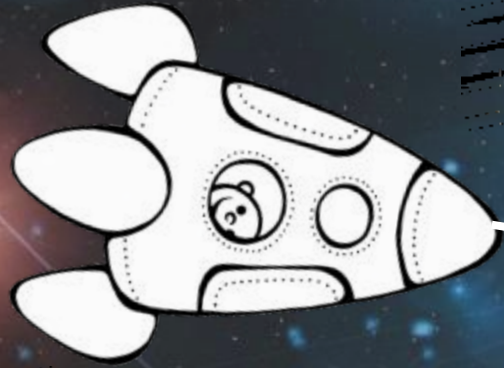
--	--	--	--	--	--	--	--



В состав колец
Сатурна входят
лёд и...



Раскрасьте космический корабль, летящий к Земле.



Какое число спряталось в летающей тарелке?



$$3 + 2 = 5$$



0 1 2 3 4 5 6 7 8 9



Какое число спряталось в летающей тарелке?



$$8 - 2 = 6$$

0 1 2 3 4 5 6 7 8 9



Какое число спряталось в летающей тарелке?



$$4 + 5 = 9$$



0 1 2 3 4 5 6 7 8 9



Какое число спряталось в летающей тарелке?



$$7 - 3 = 4$$

0 1 2 3 4 5 6 7 8 9



Какое число спряталось в летающей тарелке?



$$+ 2 = 8$$

0 1 2 3 4 5 6 7 8 9



На какую планету летит ракета?



На какую планету летит ракета?





На какую планету летит ракета?

