

Зима Ирина Владимировна

учитель начальных классов

МОУ «Климовская оош»

Ясногорский район  
Тульская область

# АННОТАЦИЯ

Название работы: « Доли »

Демонстрационный материал к уроку математики

Использованные технологии: Microsoft PowerPoint

Методические рекомендации: использовать при  
закреплении и обобщении материала по теме «Доли»

Аудитория: 3, 4 класс

Объем работы-13слайдов

# Цели урока:

- активизировать знания учащихся по теме «Доли»;
- закреплять умение находить несколько долей целого;
- закреплять умение находить число по доле и долю по числу;
- закреплять умение сравнивать доли;
- закреплять умение определять время по часам;
- воспитывать интерес к математике, стремление использовать математические знания в жизни.




# Найди долю

- $1/8$

- $1/6$

- $1/3$

- $1/4$






# Какая доля меньше?

■  $1/2$

■  $1/3$

■  $1/4$

■  $1/8$





# Сколько всего?

1. Если  $\frac{1}{5}$  числа это 3,  
то всё число ...

2. Если  $\frac{1}{4}$  числа это 5,  
то всё число...

3. Если  $\frac{1}{8}$  числа это 10,  
то всё число...

4. Если  $\frac{1}{2}$  числа это 6,  
то всё число...

12


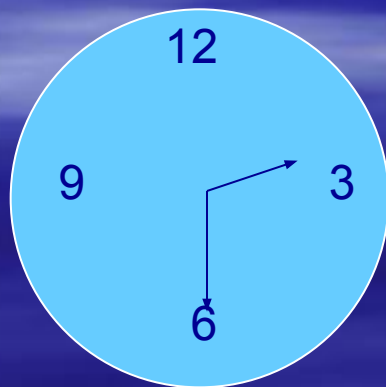
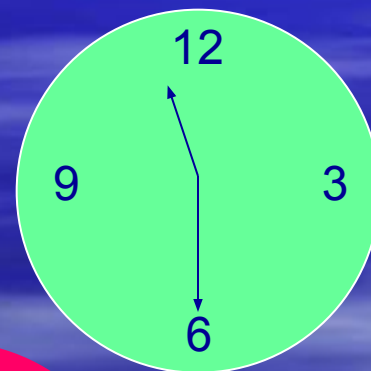
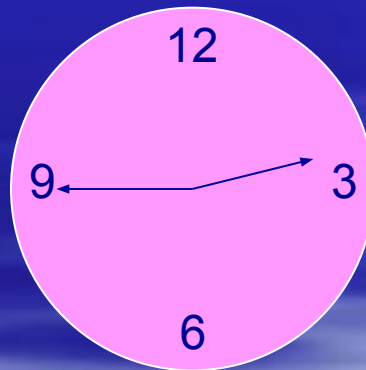
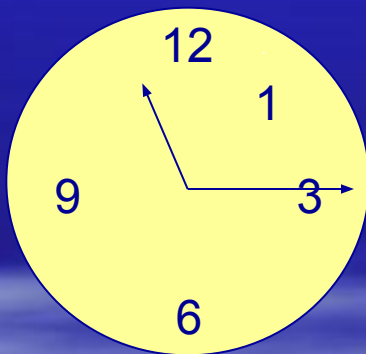
80

15

20

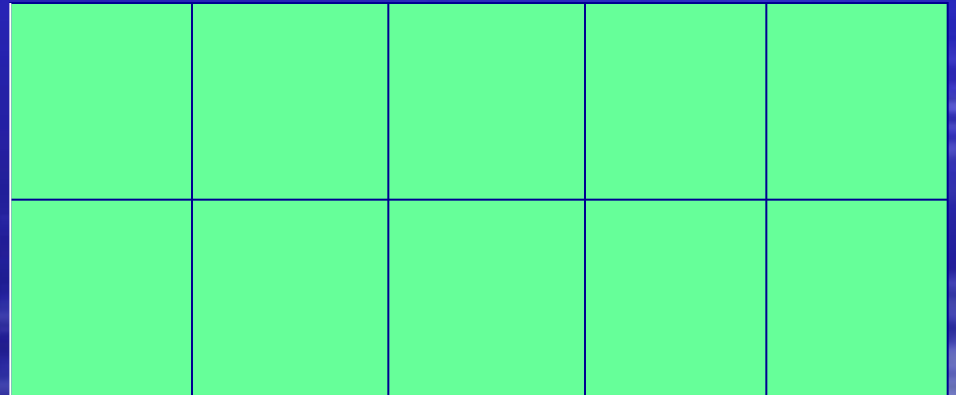
# Который час?

- Назови время, которое показывают часы, используя слова «четверть», «половина»



# Сравни




- Покажи на рисунке и сравни части прямоугольника
- $1/5$  и  $1/2$
- $2/10$  и  $4/5$
- $3/10$  и  $5/10$
- $2/5$  и  $3/5$





# Определи

- Кто из девочек какую долю раскрасил, если Таня закрасила большую долю, чем Оля, а Лена закрасила большую долю, чем Таня?.



# Найди отрезок

- Найди и покажи  $1/9$ ,  $4/9$ ,  $2/3$ ,  $1/3$ ,  $8/9$  данного отрезка.



# Найди долю

■  $1/7$  от 14 это...

■  $1/5$  от 40 это...




■  $1/2$  от 50 это...

■  $1/9$  от 63 это...



# Определи

- Сколько четвертых долей каждой фигуры закрасили?



# Подумай

- Какую часть всех мячей составляют:  
а) зелёные мячи; б) жёлтые мячи?

