


# Диаграмма и решение задач.

Задачи на приведение к  
единице.

3 класс П Н Ш

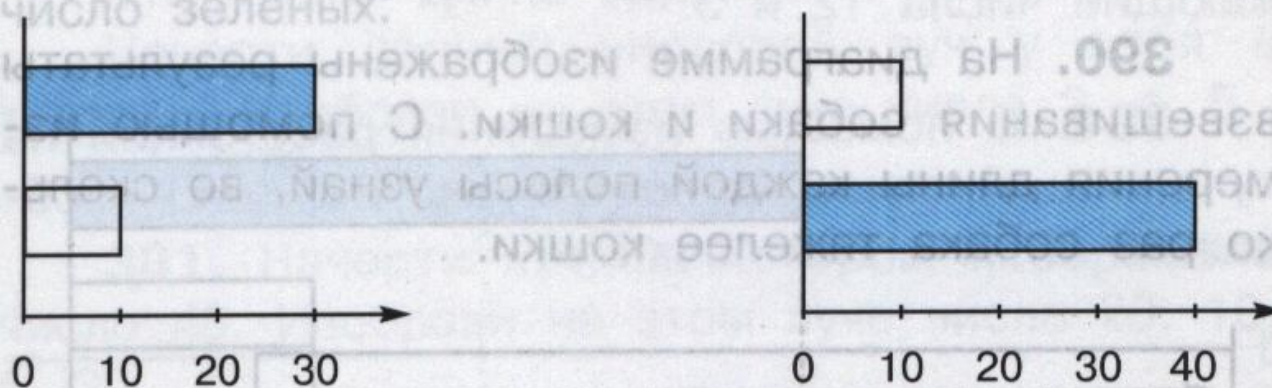




## Диаграмма и решение задач

**392.** На одной машине привезли 10 мешков свёклы, а на другой в 3 раза больше. Сколько мешков свёклы привезли на второй машине?

Какая из двух диаграмм соответствует условию данной задачи?



Найди ответ задачи с помощью этой диаграммы.



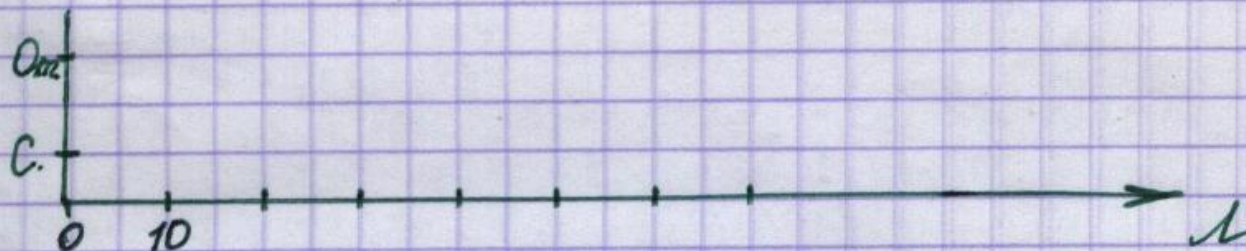
**394.** При построении диаграммы к данной задаче начни с изображения меньшей величины.

Сыну 10 лет. Он в 3 раза моложе отца. Сколько лет отцу?

Найди ответ задачи с помощью диаграммы.

Реши задачу. Вычисли и запиши ответ.


№394.



# Проверь себя.



$$\sqrt{394}$$





**Задача.**


**В трёх одинаковых наборах 9  
отвёрток. Сколько отвёрток в 5  
таких наборах?**





**Задача.**

**В шести одинаковых подарках 54 конфеты. Сколько конфет в 4 таких подарках?**



**Задача.**

**8 хомяков посадили в 4 клетки,  
поровну в каждую. Сколько таких  
клеток понадобится для  
20 хомяков?**

