
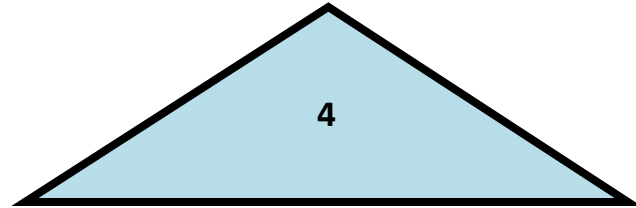
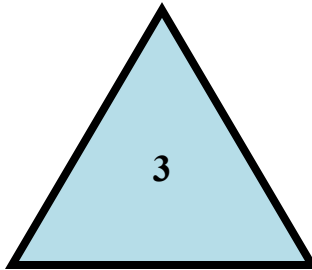
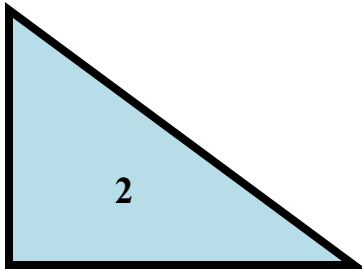



*ТЕМА УРОКА :*  
**Площадь прямоугольного  
треугольника**



**УМК «Школа 2100»**

*Урок подготовила  
Рагутская Ольга Николаевна  
учитель начальных классов  
МБОУ «СОШ № 8»  
города Новокузнецка  
Кемеровской области*



# Единицы измерения

За единицы измерения площадей  
приняты  
площади квадратов

со сторонами,  
равными **единичным отрезкам**


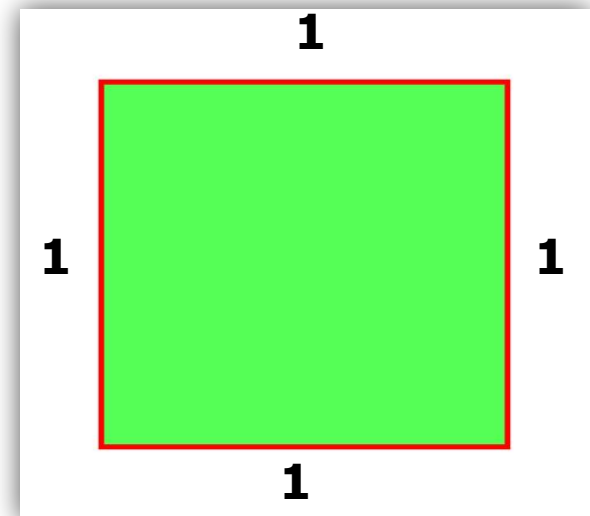
**1 мм, 1 см, 1 дм, 1 м, 1 км**

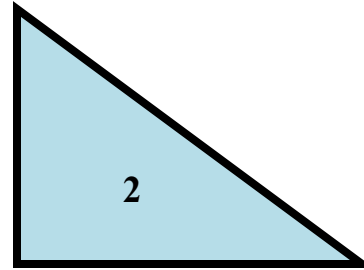
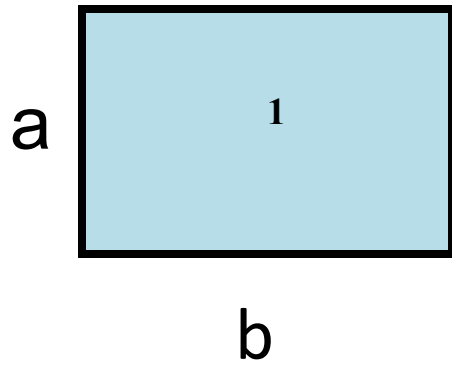
Обозначаются эти  
единицы измерения так:

**1 мм<sup>2</sup>, 1 см<sup>2</sup>,**

**1 дм<sup>2</sup>, 1 м<sup>2</sup>,**

**1 км<sup>2</sup>**





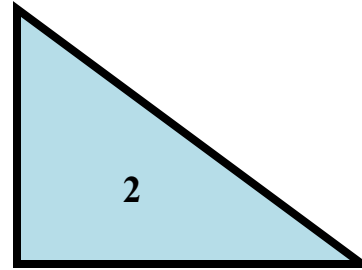
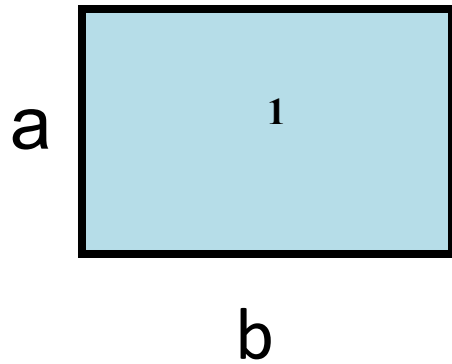
S-?

a =

5CM

10CM





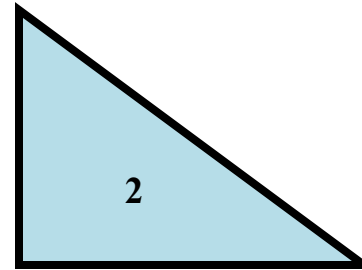
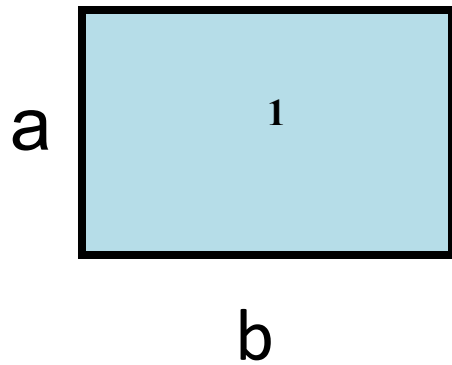
S-?

a =

4 CM

10 CM  $\cdot$  4 = 40 CM<sup>2</sup>





S-?

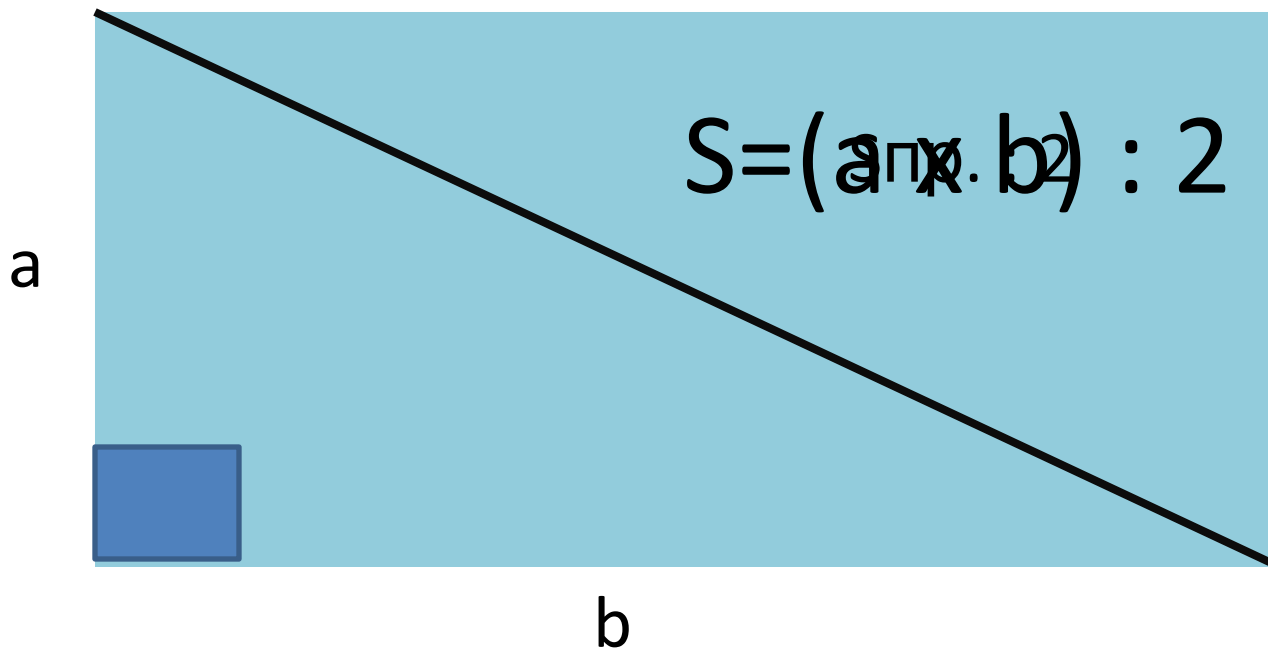
S-?

a =

4 CM

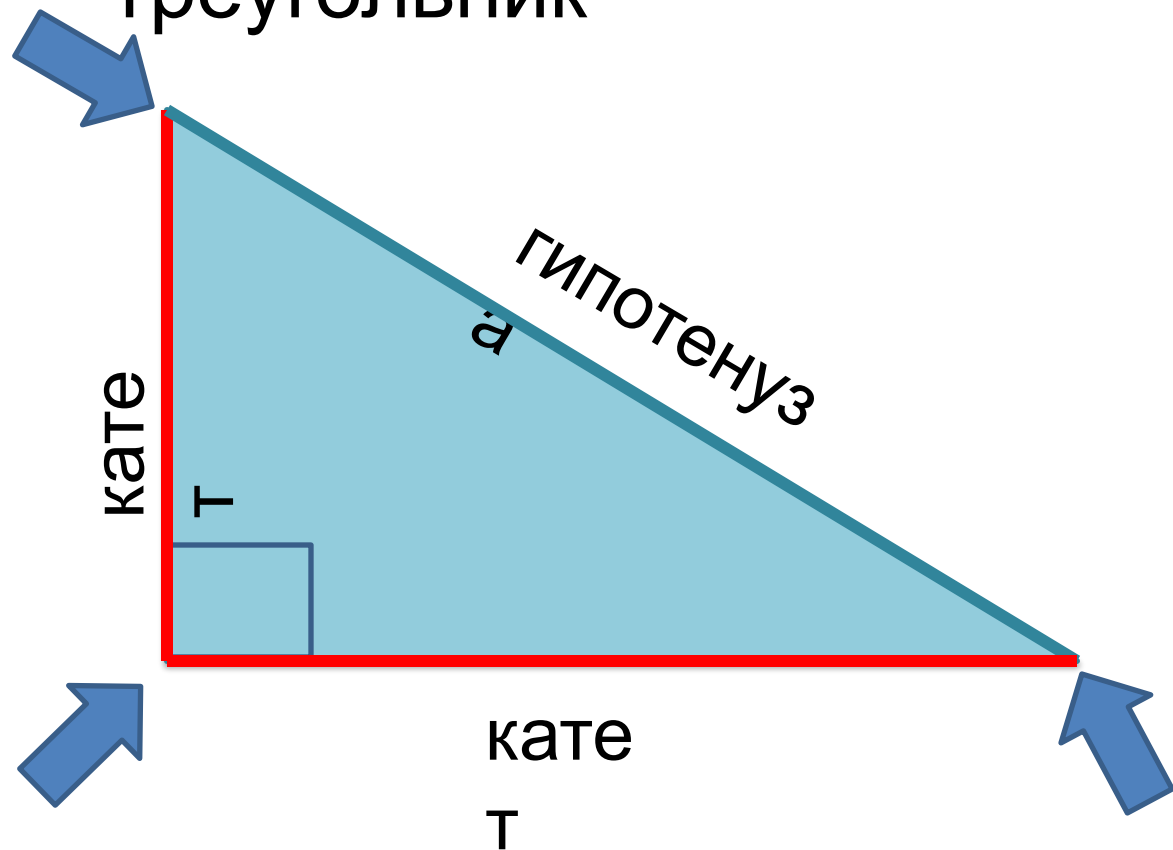
10 CM  $= 40 \text{ cm}^2$






# Прямоугольный треугольник

Острый  
угол



Прямой угол

Острый  
угол





# Физкультминут

ка

Мы считали и устали.

Дружно все тихонько встали.

Ручками похлопали: раз, два, три.


Ножками потопали: раз, два, три.

Сели, встали, сели, встали.

И друг друга не задели.

Мы немножко отдохнем

И опять считать начнем.





$$B) FL = 70 \text{ м}, \quad LD = 60 \text{ дм} = 6 \text{ м}$$

$$S = (a * b) : 2$$

$$S = (70 * 6) : 2 = 420 : 2 = 210 \text{ м}^2 = 21000 \text{ дм}^2$$





# Домашнее

## задание

1 уровень: стр. 95 № 9

2 уровень: стр. 95 № 8



Молодцы!

Спасибо за урок!

