


A large yellow diamond shape is centered on a light blue background. Inside the diamond, the title "Действия с целыми числами" is written in a bold, blue, sans-serif font. Above the title, a yellow crayon with a red eraser and a red band is shown. Below the title, there are 3D block letters for the numbers 1, 2, 3, and 4, along with a plus sign and a minus sign, all in various colors. A purple wavy line starts from the bottom left and ends at a small yellow crayon on the bottom right.


Действия с целыми числами




Твое настроение



1



2



3





Удачи!



A large yellow diamond shape is centered on a light blue background. Inside the diamond, the text "Устный счет" is written in a bold, purple, sans-serif font. Above the text is a yellow crayon with a red eraser and a red band. Below the text is a cluster of colorful, 3D numbers: a pink '1', a green '2', a blue '3', an orange '4', and a purple '5'. A purple wavy line starts from the bottom left and ends at a small yellow crayon on the bottom right.

Устный счет



СКОЛЬКО?



• Сколько ушей у трех мышей?

(6)

• Сколько лап у пяти медвежат?

(20)

• Над рекой летели птицы:


Голубь, щука, две синицы,

Два стрижа и пять ужей.

Сколько птиц? Ответь скорей!

(5)







Вершина рекордов



Познавательная минутка



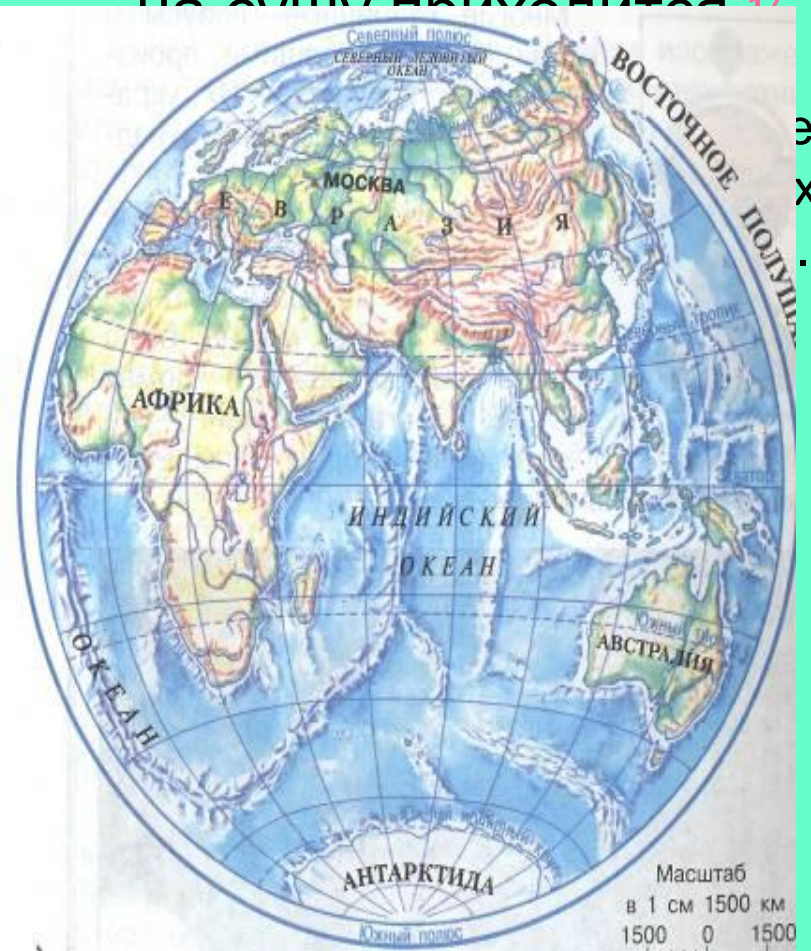
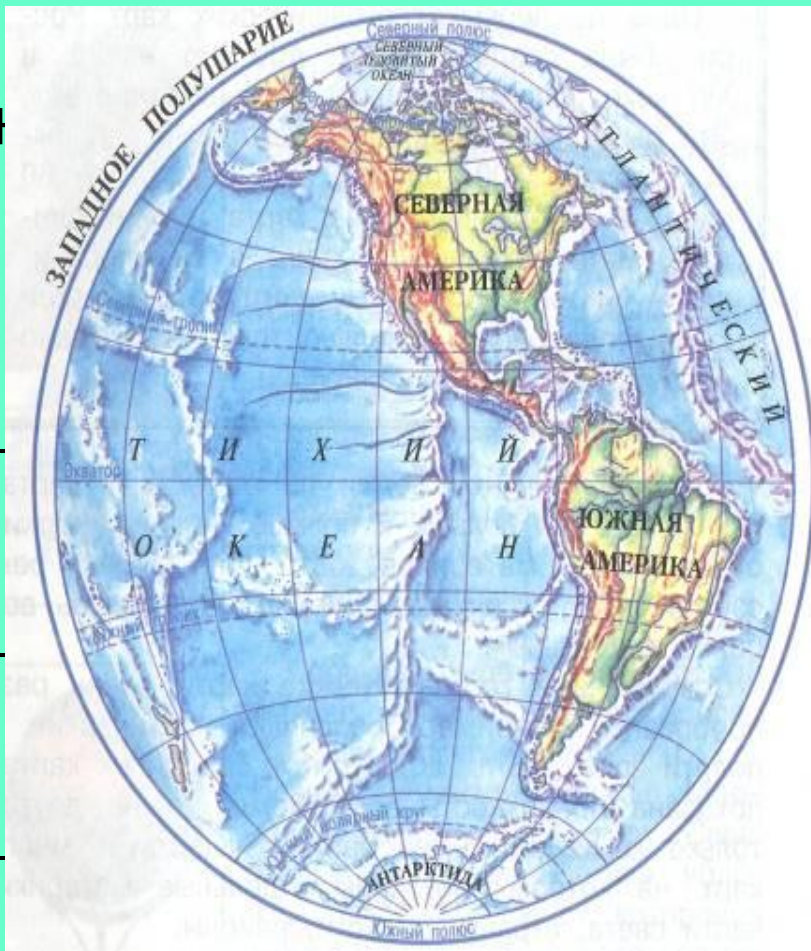


2	40	75	145	150	400	1741	8848
Э	К	О	Л	О	Г	И	Я



Уголок природы

- Ребята , Земля если посмотреть на неё из космоса, голубая с коричневыми, желтыми, зелеными пятнами. Голубые пятна – это вода, она занимает $\frac{3}{4}$ поверхности земного шара.




Вычисления по карточкам



Уголок природы

Баобаб может прожить 4000 лет.



Лиственница может прожить 400 лет.

Ель может прожить 1200 лет.




Дуб может прожить 2000 лет.


Рябина может прожить 800 лет.

физкультминутка

- Правила игры: ученики встают, если появляется двузначное число, садятся - при появлении однозначного числа.



В чем сходство и в чем отличие примеров?


$$75 - 15 : 5 = 72$$
$$(75 - 15) : 5 = 10$$



Вычислите значение выражения:

$$1154^2 + 1226^1 * 3$$


Какое дерево является лучшим пылесосом?

Береза - 4843

Сосна - 3217

Тополь - 4832






Задача

№ 810, с. 197

Лип – 876д.

Тополей ? – в 4 раза меньше, чем

Берез ? - на 150д. больше, чем



Задача



Решение

1) $876 \text{ д.} : 4 = 219 \text{ д.}$


2) $219 \text{ д.} + 150 \text{ д.} = 369 \text{ д.}$



Ответ. 369 берез посадили.



Упражнение в решении примеров




№ 845, с. 203

№ 142, с. 34 (Ямбарцева Лена.)


№ 197, с. 49 (Беляев Валентин., Полянин Станислав.)

Домашнее задание




- № 852(1 ст.), с.204
- № 783, с.193


Твое настроение



1



2



3





Итог урока





Молодцы! 62

