

УРОК ПО МАТЕМАТИКЕ

4 КЛАСС

**Тема урока: «Сложение и
вычитание многозначных чисел.
Закрепление».**



Одна хорошая минута

Сделала одно хорошее дело,

Десять хороших минут

Сделали десять хороших дел.

А сколько хороших дел

Можно сделать за целый урок?



Устный счёт



1. У трех братьев вместе девять карандашей. У младшего на один карандаш меньше, а у старшего на один карандаш больше, чем у среднего брата. Сколько карандашей у младшего брата?

А. 2

Б. 4

В. 3

Г. 5



4. Если из одной стопки тетрадей переложить в другую 10 тетрадей, то в обеих стопках станет тетрадей поровну. На сколько изначально в одной стопке тетрадей больше, чем в другой?



А. НА 20 Б. НА 10 В. НА 40 Г. НА 30



3. Из проволоки, длина которой 20 см, можно согнуть треугольник, одна из сторон которого равна...

А. 8 см.

Б. 10 см. В. 12 см. Г. 15 см.



ЛУЧШИЙ СЧЁТЧИК

$$18 + 5 - 28 : 4 + 6 = ?$$



Решение примеров с многозначными числами

№ 331 стр.66

Подумай и реши!



Будьте
Физминутка


здоровы!



Решаем задачи:



№326,329 стр.66



Работа с величинами (тренажёр)





УСТНЫЙ СЧЁТ

**Расположите единицы времени,
начиная
с самой крупной**

секунда

неделя

минут

сутки

час

год

месяц



ГОД

МЕСЯЦ

неделя

сутки

час

минута

секунда



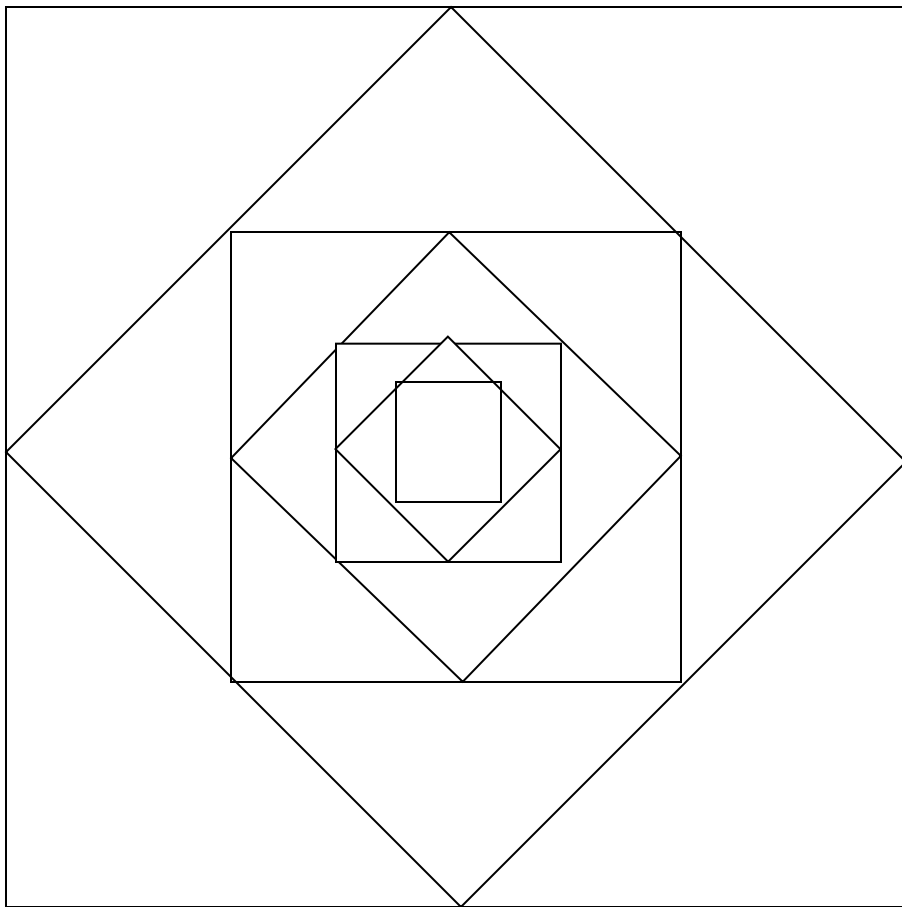
РЕШЕНИЕ ЗАДАЧ НА ДВИЖЕНИЕ



Работа в тетрадях для дополнительных занятий
Стр.45 №15.



СОСЧИТАЙ-КА:
СОСЧИТАЙ ТРЕУГОЛЬНИКИ И
ЧЕТЫРЁХУГОЛЬНИКИ.




« Вы – талантливы, дети! Когда – нибудь вы сами приятно поразитесь, какие вы умные, как много и хорошо умеете, если будете постоянно работать над собой, ставить новые цели и стремиться к их достижению...»


Ж – Ж. Руссо



РЕБУСНИК.



треугольник



число



кривая



конус



луч



Спасибо за
работу!

