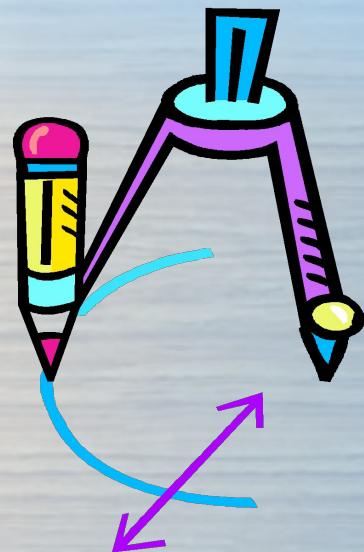
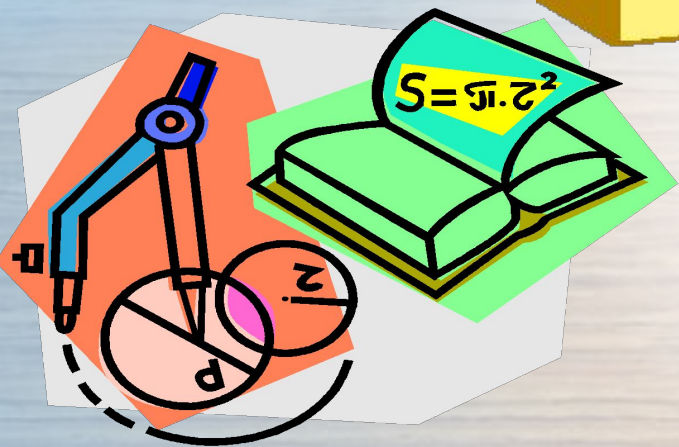

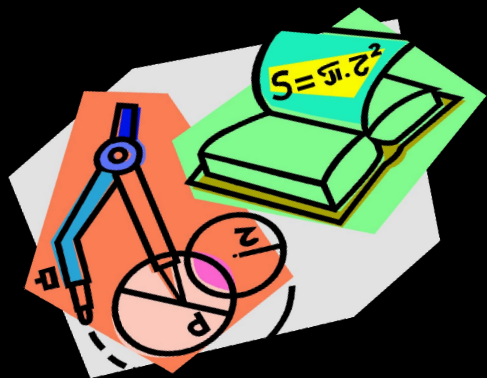


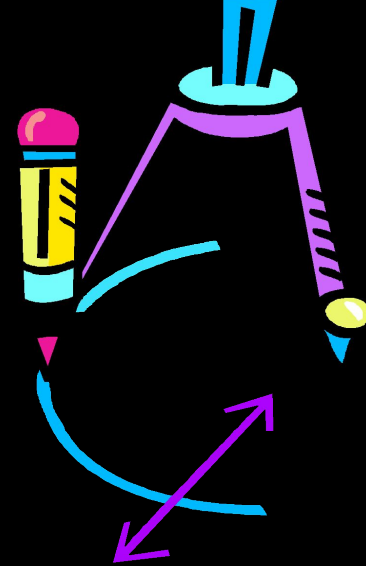


“Математика ертегілер”





Сайыс бөлімдері:



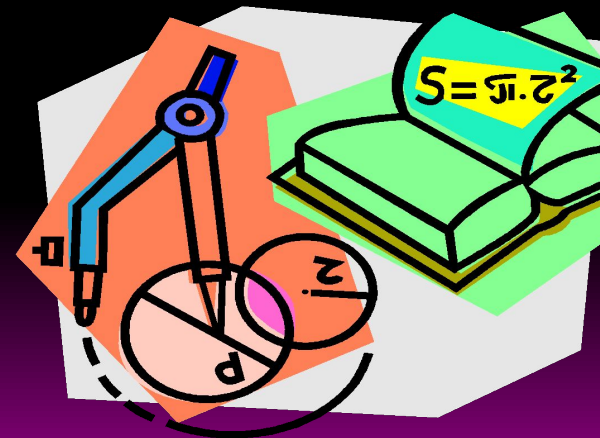

- 1. Ертөк-ертөк, ерте екен...*
- 2. Ақ сандық, көк сандық*
- 3. Ойнар*
- 4. Сырлы сандар әлемі*
- 5. Тапқыр болсан шешіп көр*



I бөлім

“Ертек-ертек, ерте екен....”

*Ұяшық таңдау арқылы ертегі кейіпкерлері
ұсынған тапсырмаларды орындау. Әр дұрыс
жауапқа 1 ұнай.*



Ұяшықтарды таңда

1

2

3

4

5

6




“Күлше қызға көмектес”

Күлшеқыз сәгат 12-де үйіне қайтуға асықты.

Сатымен төмен қарай түсіп келе жатып, туфлиінің бір сыңарын түсіріп алды.

Сұрақ: сатының 21 баспалдағы бар. Туфлиінің бір сыңары жоғарыдан санағанда 10-шы баспалдаққа түсіп қалды. бұл баспалдаққа Күлшеқыз төменнен санғанда қандай нөмір береді?



“Қаршақызға көмектес”

- ▣ *Оқушылар сурет көрмесіне
14 бояулы*

*сурет және одан 8-і артық
фломастермен салынған
сурет әкелді. Оқушылар сурет
көрмесіне барлығы неше сурет
алып келді?*



Алладинге көмектес

Ұшатын кілемнің көмегімен қалаған жеріме тез жетуім қажет. Кей кезде желмен, кейде желге қарсы бағытта ұшамын.

Сұрақ: егер ұшатын кілемнің жылдамдығы 55 км/сағ , ал желдің жылдамдығы 12 км/сағ болса, онда мен желдің бағытымен қандай жылдамдықпен ұшамын? Ал жерге қарсы ше?



Алтын шашты ханшайымның тапсырмасы

Сұрақ белгісінің орнына қандай
сан

сәйкес келетінін анықтаңдар: 5 9



42

27

13

5

6

3

7

4

8



Ер төстіктен сұрақ

- ▣ *Үш ағайындының жастарының қосындысы 44-ке тең. Үш жылдан кейін олардың жастарының қосындысы неше болатынын анықтаңыз?*



Ханшайым Жасминнің тапсырмасы

- Баспалдақтың екеуін бірден аттағанда, біреуден аттағаннан гөрі 10 адым кем боады. Сонда неше басқыш болғанын анықтаңыз.




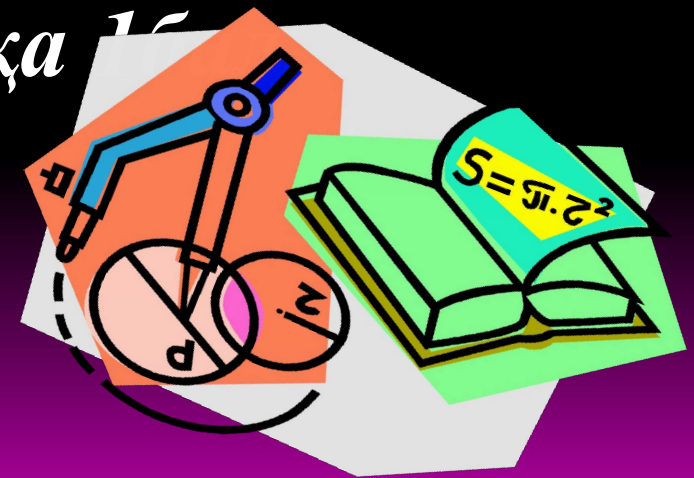
II бөлім


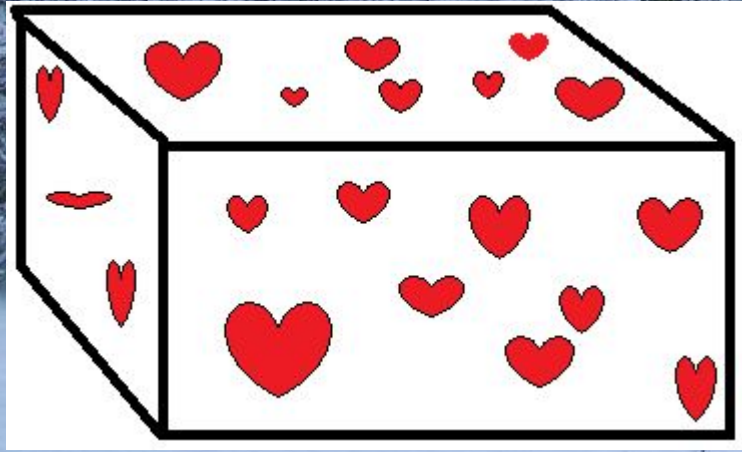

“Ақ сандық, көк сандық”




Сандық ішіндегі жұмбақтарды шешу

Әр шешілген жұмбаққа 1 б






*Бар екен үш қанатты ұшып
кетпес,
Егін сап жұрт қатарлы кәсіп
етпес.
Өзінің мекеніне шығып кетсе,
Тіршілік көремін деп үміт
етпес*



*Санасаң сан жетпейтін
нүктелерден,
Құралған фигура бар қарапайым
Салу үшін сен оны сызғыш ізде,
Бұл не өзі, бар ма, сірә, дара
пайым*



**1. Өзінше ноян,
Бірақ та
қорқак
Бұл не?**



**1. Ала жолақ
тонымен,
Мұрты да бар
бір қарыс
Оның аты**

.....



**1. Бақылдайды,
көлде оның
мекені,
Осыдан-ақ
көрініп не екені**

Бұл не?



**1. Айлакер қу,
ұзын тұрқы,
Жүрген
жері күлкі.**

Бұл не?



**1. Көгімізде
самғаған,
Қалықтаған
зымыран
Бұл не?**



1. Қорбаң,
қорбаң етеді,
Балды
жақсы көреді.

Бұл не?



1 ағаштың 12 бұтағы бар


Әр бұтағында 30-дан жапырағы бар

Жапырақтың бір жағы ақ,

Бір жағы қара, кәнеки ойлан тап?



*Доп емес, дөңгелек емес,
Ұқсас бірақ достарым.
Фигура ол ең негізгі,
Дәл жауапты қостадым*





Ойнар



логикалық есептер шығару
Әр дұрыс есепке 3 ұнай.





1-тапсырма

2-тапсырма

3-тапсырма

4-тапсырма



*Құрбақа тереңдігі 50 метр
құдыққа түсіп кетті. Бір күнде
ол 18 метр жоғары көтеріліп
содан кейін 12 метр төмен
түседі. Сол орнында келесі күнге
дейін қалады. Келесі күні де осы
қайталанады. Құрбақа неше
күннен кейін құдықтан шығады?*



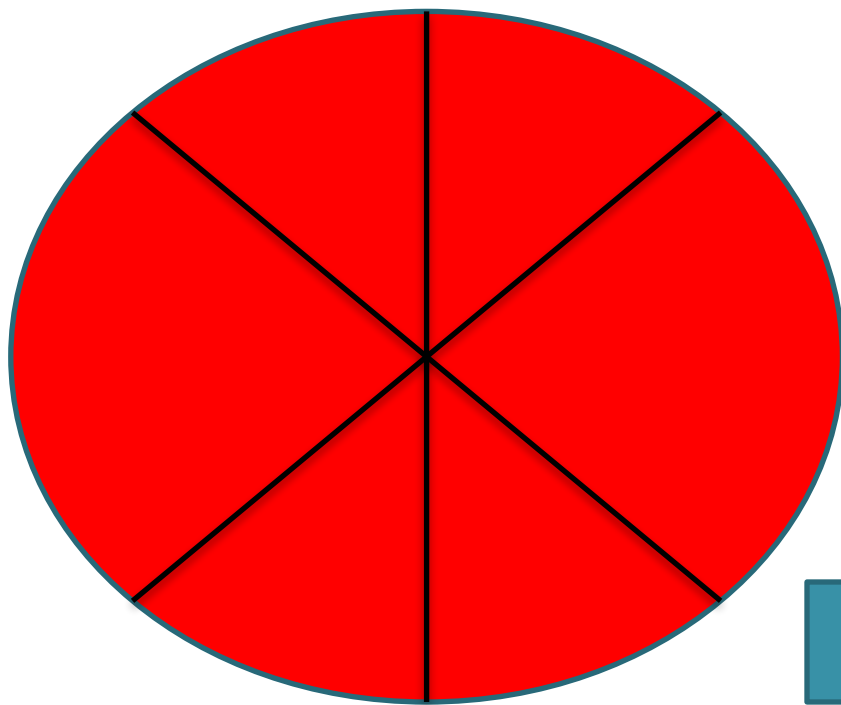


Түлкі қасқырдан 4 балық көп алды

Түлкі мен қасқыр тегін балыққа тап болады. Қасқыр айтады “мен матемтикаға нашармын балықты сен бөл”-дейді түлкіге. Сонда түлкі саған біреу, маған екеу, саған үшеу маған төртеу т.с.с. Ең соңында жиырма балықты өзіне салады. Кім көп алды және қаншаға артық алды?



Дөңгелекті үш түзумен ең көп дегенде неше бөлікке бөлуге болады?



Шал балықтарды көп аулап әндетіп келе жатса, жолда бір түлкі сұлап жатады, шал қуанып түлкіні шанаға салып алады. Ал түлкі жолда 1 минутта 1 балық, 2 минутта 2 балық, т.с.с. Бір лақтырғанда алдыңғы лақтырғананан 2 есе артық лақтыра береді. 7 минутта барлығы неше балық лақтырған?



Сырлы сандар әлемі



әр сұраққа дұрыс жауап үшін 5 ұпай

■ 1- топқа

- Теңдіктің сол жағындағы сандардың арасына теңдік орындалатындай етіп қосу таңбасын қой

$$44444444 = 500$$

2-топқа

Теңдіктің сол жағындағы сандардың арасына теңдік орындалатындай етіп, амал таңбаларын қой

$$333333 = 1000$$

3-топқа

Бес бірліктің көмегімен 100 санын жаз:

4-топқа


Бес біестіктің көмегімен 100 санын жаз:



Жауаптары


Жауаптары

**Тапқыр болсаң,
шешіп көр**

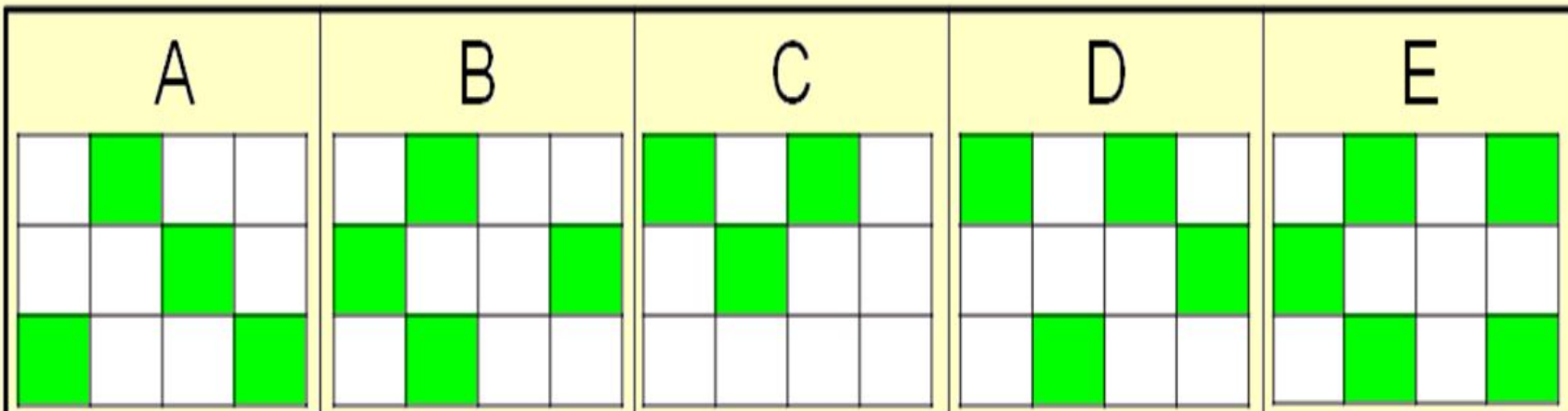


Сиқырлы көзілдірік

Гарри Поттерде барлық жасыл түстіні ақ түсте, ал барлық ақ түстіні жасыл түсте көре алатын сиқырлы көзілдірік бар.



Гарри осы көзілдірігі арқылы оң жақта кескінделген тіктөртбұрышқа қарады. Ол нені көрді?



Қандай төрт моншақ?

Анар өзінің моншағының оң жақ бөлігіне қандай төрт моншақты қосады?



A



B



C



D



Сындардан өтуге не көмектесті?

ДОСТЫҚ

өзара көмек

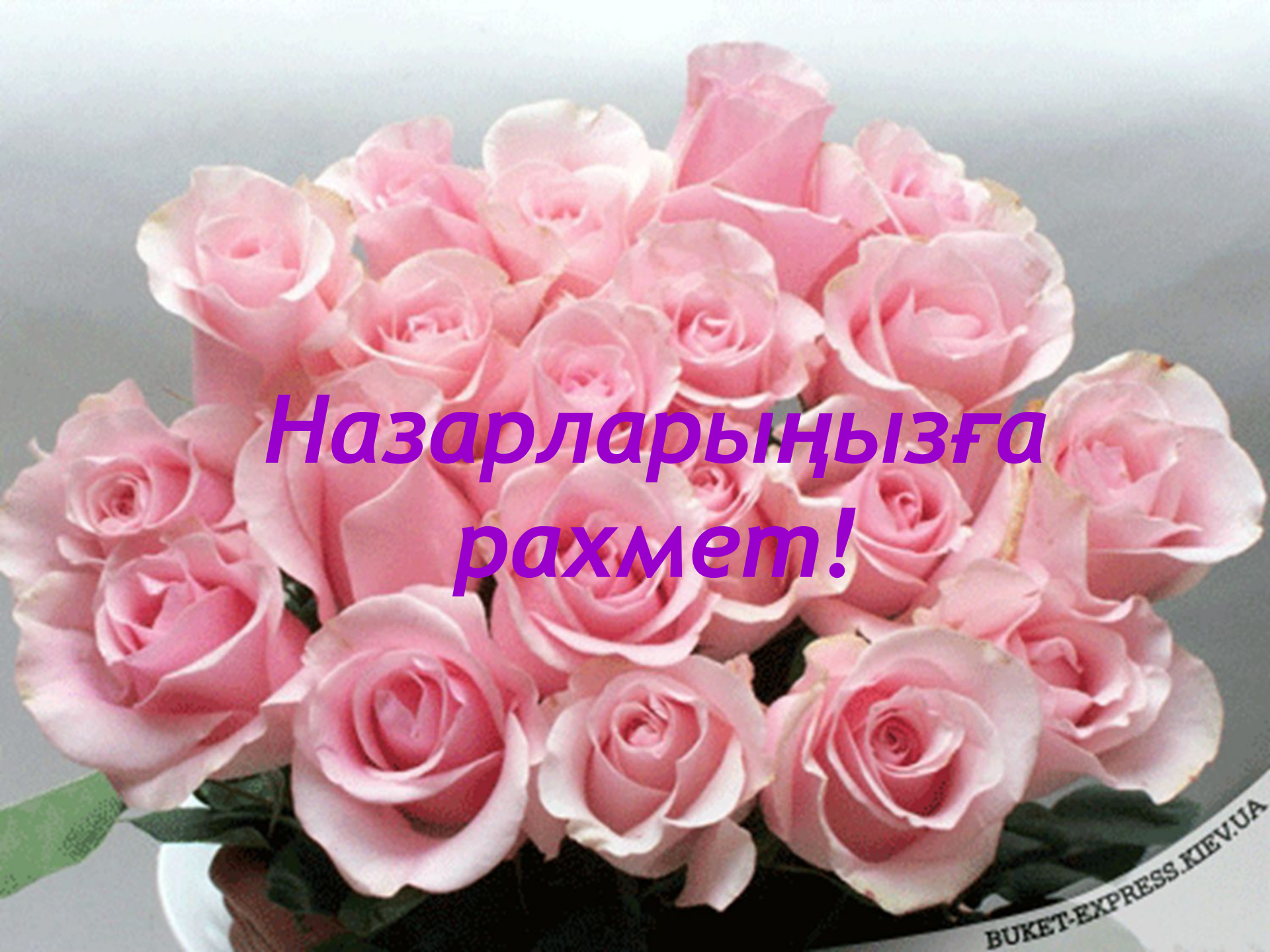
БІЛІМ



Көрермендерге сұрақ



- * *Бөлмеде 4мысық отыр. Әр мысықтың алдында 3 мысық отыр. Бөлмеде барлығы қанша мысық отыр?*
- * *Түнгі сағат 11де жаңбыр жауса, 48сағаттан соң күн шығады деуге болама?*
- * *Төрт қойдың неше аяғы бар?*
- * *Асханаға 100кг пияз және одан 3есе артық картоп әкелінді. Асханаға неше кг картоп әкелінді?*
- * *Бір жанұяда 5 ер баласы және олардың әрқайсысының қарындастары бар. Жанұяда қанша бал~~ы~~ бар?*
 - * *12-ні 10есе арттыр*
 - * *$6^2 - 6$ неге тең?*
 - * *Ең кіші үш таңбалы сан?*
 - * *Ең үлкен екі таңбалы сан?*
 - * *360 санын 10есе кеміт*
 - * *4 ұлда неше саусақ бар?*



***Назарларыңызға
рахмет!***