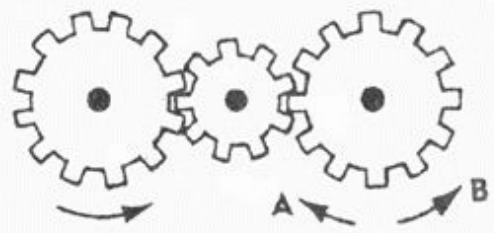



тест Беннета

- Тест Беннета (он же тест на инженера) ориентирован на выявление технических способностей. Известен как тест на техническую понятливость.
- Опросник Беннета (George K. Bennett — Mechanical Comprehension Test) иногда используется как дополнение методики определения уровня IQ.
- Вам будет предложено 70 заданий технического характера, к которым даны варианты ответов. На выполнение всех заданий отводится 30 минут. Время засекайте самостоятельно.



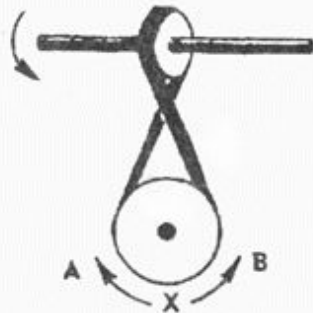
- В направлении стрелки А;
- В направлении стрелки В;
- Не знаю.

2. Какая гусеница должна двигаться быстрее, чтобы трактор поворачивался в указанном стрелкой направлении?



- Гусеница А;
- Гусеница В;
- Не знаю.


3. Если верхнее колесо вращается в направлении, указанном стрелкой, то в каком направлении вращается нижнее колесо?



- В направлении А;
- В обоих направлениях;
- В направлении В.

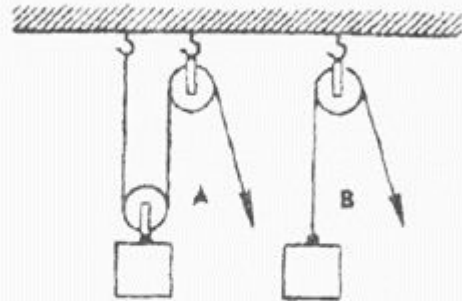
- Лошадка А;
- Обе должны бежать с одинаковой скоростью;
- Лошадка В.

53. Из какого крана сильнее должна бить струя воды, если их открыть одновременно?



- Из крана А;
- Из крана В;
- Из обоих одинаково.

54. В каком случае легче поднять одинаковый по весу груз?

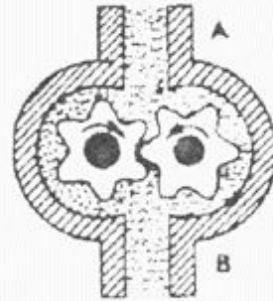


- В случае А;
- В случае В;
- В обоих случаях одинаково.

55. Эти тела сделаны из одного и того же материала. Какое из них имеет меньший вес?

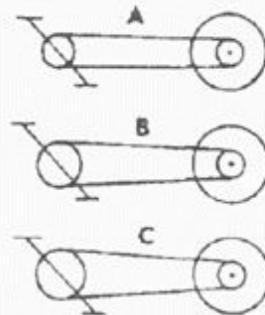
- Способом А;
- Способом В;
- Способом С.

47. В каком направлении будет двигаться вода в системе шестерёнчатого насоса, если его шестерня вращается в направлении стрелок?



- В сторону А;
- В сторону В;
- В обе стороны.

48. При каком виде передачи подъем в гору на велосипед тяжелее?

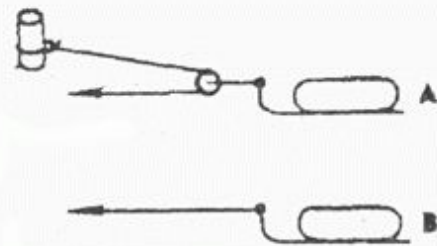


- При передаче типа А;
- При передаче типа В;
- При передаче типа С.

49. На дне емкости находится песок. Поверх него — галька (камешки). Как изменится уровень насыпки в емкости, если гальку и песок перемешать?

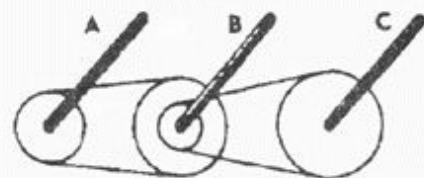
- Уровень повысится;
- Уровень понизится;
- Уровень не изменится.

33. Какой из камней, А или В, легче двигать?



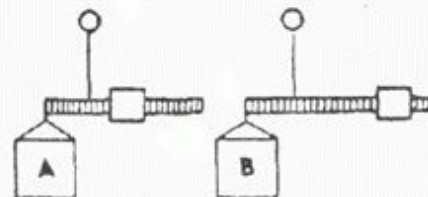
- Камень А;
- Усилия должны быть одинаковыми;
- Камень В.

34. Какая из осей вращается медленнее?



- Ось А;
- Ось В;
- Ось С.

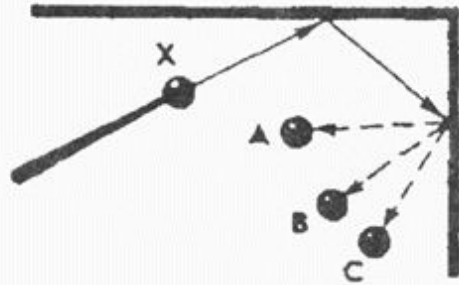
35. Одинаков ли вес обоих ящиков или один из них легче?



- Ящик А легче;
- Ящик В легче;

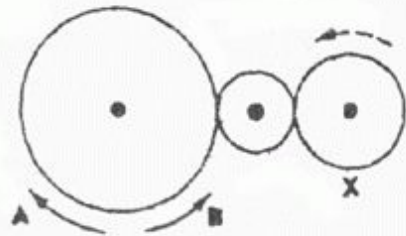
- Шестерня А;
- Шестерня В;
- Шестерня С.

25. С каким шариком столкнется шарик X, если его ударить о преграду в направлении, указанном сплошной стрелкой?



- С шариком А;
- С шариком В;
- С шариком С.

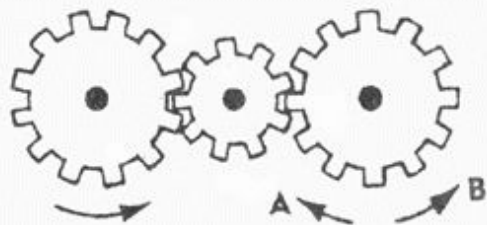
26. Допустим, что нарисованные колеса изготовлены из резины, В каком направлении нужно вращать ведущее колесо (левое), чтобы колесо X вращалось в направлении, указанном пунктирной стрелкой?



- В направлении стрелки А;
- В направлении стрелки В;
- Направление не имеет значения.


27. Если первая шестерня вращается в направлении, указанном стрелкой, то в каком направлении вращается верхняя шестерня?





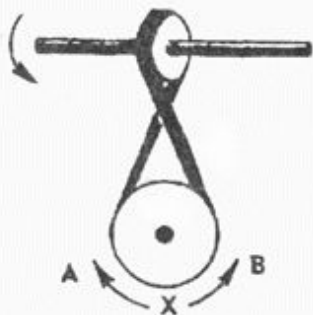
- В направлении стрелки A;
- В направлении стрелки B;
- Не знаю.

2. Какая гусеница должна двигаться быстрее, чтобы трактор поворачивался в указанном стрелкой направлении?



- Гусеница A;
- Гусеница B;
- Не знаю.

3. Если верхнее колесо вращается в направлении, указанном стрелкой, то в каком направлении вращается нижнее колесо?



- В направлении A;
- В обоих направлениях;
- В направлении B.

Правильные ответы: **65** / 70 (92.9%)

Описание:

Ваш уровень развития общетехнических способностей **очень высокий**

[Пройти тест еще раз](#)