




# МАТЕМАТИК КИЧЭ

«Кешенең бөеклеге аның  
фикерләү сәләтендә»

(В.Паскаль)



# Кичэнең темасы



Р  $7 : 2 =$

Н  $1 : 4 =$

Е  $6,4 : 4 =$

П  $3 : 2 =$

Т  $4,3 : 4,3 =$

Ц  $0,2 : 2 - 0,2 * 0,2 =$

О  $80 : 100 =$

1,5	3,5	0,8	0,36	1,6	0,25	1
П	Р	О	Ц	Е	Н	Т



# Дөрөс жавапны тап:

1) 55 нең 20%

A. 20

B. 15

B. 11

2) 1% ты 85 кә тигез булган санны тап

A. 8,5

B. 8500

B. 0,85

3) Бер укучы класстагы балалар санының 4% тына тигез. Класста барлыгы ничә укучы?

A. 40

B. 25

B. 7

4) Шәһәр белән асыл арасы 5 км. Турист 3 км юлны үтте. Турист барлык юлның күпме өлөшен үткән?


A. 40 %

B. 60%

B. 55%



# Хөтөргө ярыш:



7, 41, 75,  
68, 9, 37,  
12, 53, 99, 5  
50, 74, 86,



# Дэвам итэргэ:



$$0,1 = \frac{1}{10} = 10\%$$

0,5

0,75

0,75

0,35

125

100

0,6

0,04

231



# Кем тизрәк?

$$50 + 75 =$$


$$30 + 408 =$$

$$227 + 31 =$$

$$111 + 39 =$$


$$365 + 53 =$$

$$432 + 62 =$$

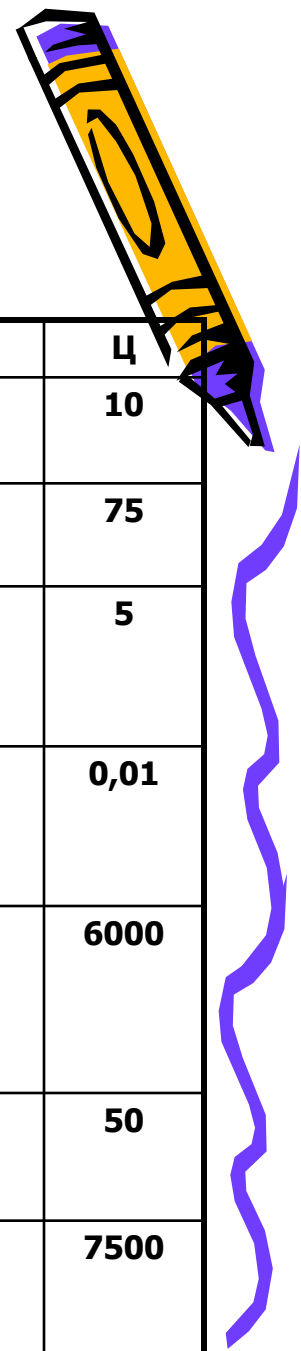


# Жауапны тап:

1. Участок :	350 га -	100%
Кишер :	? -	40%
2. Укучылар саны :	? -	100%
«5» ле билгесе алучылар:	5 укучы -	25%
3. Кошлар саны:	25 -	100%
Очып китте:	5 -	?



# Нинди сүз яшеренгән?



Бирем	О	П	Р	Т	Е	Н	Ц
56 ның 25%	22,04	14	20	25	8	7	10
1% ты 75 тигез булган сан	0,75	7,5	7500	750	0,075	75000	75
34%ты 170 тигез булган сан	500	57,8	5,78	510	50	5000	5
1 неә 100гә чагыштырмасы	1000	100	0,1	10	0,001	1	0,01
5500 не 20% арттырганнар	660	66000	1100	11000	6600	110	6000
12,5 тән 72% ны это за месяц?	55	44	54	46	45	89	50
Нинди санның 50% ты 350 тигез	7	70	7000	700	6750	75	7500





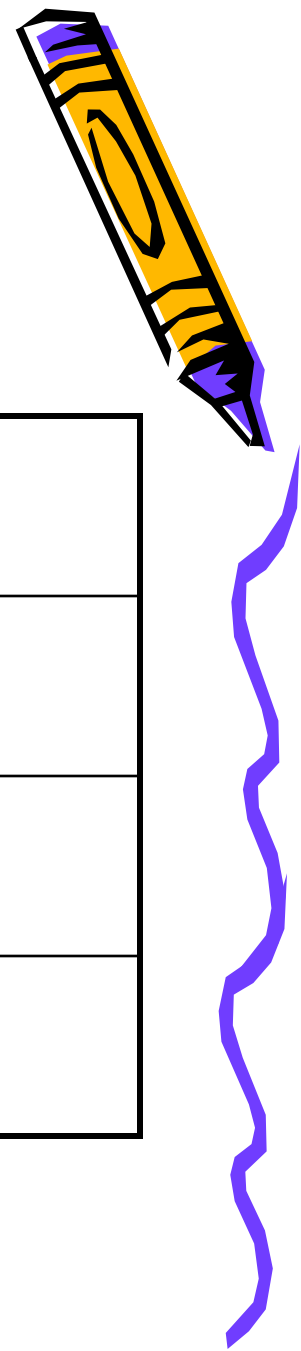
# Сүзне тап:



Бирем	З	Й	Ә	Д	Н	Ө
1. 55 тән 20%	20	11	15	27,5	1,1	16
1% ты 85 кә тигез булган сан.	8,5	0,085	0,85	8500	85	850
11% ты 275 кә тигез булган сан.	2500	31,25	2700	30,25	250	270
7нең 10 га чагыштырмасы	7	700	0,07	0,7	70	0,007
40 ның 30% ты	30	1,5	12	135	11	13
5000не 50% ка арттыргач нинди сан барлыкка килә	4400	440	5500	110	7500	1100



# Нинди сүз яшеренгән?



Бирем	р	б	е
1% ны 15 кә тигез булган санны табыгыз.	1,5	1500	0,15
60 ның 30% тын табыгыз.	20	1,5	18
3 нең 100гә чагыштырмасы.	0,03	30	0,3



# Сүзне тап:

Бирем	Ш	Ө	Е	Л
1. 70 нең 30% ты күпме була.	35	21	25	13
1% ты 22,5 кә тигез булган санны табыгыз	22,5	2000	0,54	2250
15% ты 315 кә тигез булган сан	3000	2150	2100	31,5
10 ның 100 гә чагыштырмасы	0,1	10	100	0,01




Жауап:

ПРОЦЕНТ -

йөздән

бер

өлеш



Рәхмәт!!!

